

單選題(占 144 分)

說明：第 1 題至第 72 題皆是單選題，每題均計分，每題 4 個選項，其中只有一個是最適當的答案，畫記在答案卡之「選擇題答案區」。各題答對得 2 分；未作答、答錯或畫記多於一個選項者，該題以零分計算。

1. 加拿大小嬰兒「史東」的父母，不希望小孩受到性別的束縛，所以決定對史東的性別保密，讓其長大後自行決定。「大家都對小嬰兒兩腿之間的东西很好奇，但這樣的態度並不健康。我們會確保孩子在健康的環境中成長，但不公開其性別」。史東父母此種無性別教養的作法，較傾向下列何種論點？
 - (A) 性別角色是順從生物性別的差異所自然形成
 - (B) 去除性別先天的生理區別，以真正達成性別平等
 - (C) 打破男女性別界線的教養方式，是性別社會化的目標
 - (D) 性別可由社會建構而形成，應允許心理認同層次的性別
2. 越來越多大學生利用假期參加伊甸基金會的服務遊學活動，前往國內及海外許多貧窮落後的地方，一同參與當地家庭訪視、課輔、社區重建及衛生教育推廣等工作，展現社會責任。上述組織具有下列何項特質？
 - (A) 又稱第三部門，不能接受政府的經費，以維持自主性
 - (B) 是一種志願結社，不強調有效率、專業化的管理
 - (C) 有外部性的問題，努力的成果不具有排他性
 - (D) 以公益為目的，不能有營利行為
3. 社會學家紀登斯(Anthony Giddens)在其《親密關係的轉變》一書指出：「親密關係不應當只被理解為對彼此互動的描述而已，爭取應有的權利是達到親密關係的手段。…女性有離婚的權利，就限制了男性強行宰制的能力，有助於將威迫轉變為平等的互動。」長期以來社會學與心理學將親密關係視為重要的研究課題，是個人心理與生理健康的基礎，以下關於親密關係的論點，何者較符合現今社會的趨勢？
 - (A) 為避免親密關係的破裂，在婚姻中不應爭取個人權利
 - (B) 親密關係專指人際之間的互動，是一種社會化的結果
 - (C) 親密關係中女性權力超越男性，導致社會離婚率提高
 - (D) 親密關係涉及階級與性別等權力的運作，需溝通協商
4. 我國《菸害防制法》規定：(甲)「菸品所含之尼古丁及焦油含量，應以中文標示於菸品容器上。」並對違反者處以罰鍰。某菸商因未標明含量而受罰，但(乙)菸商認為廠商應可決定是否做此標示，並聲請大法官釋憲。釋字 577 號解釋，提供特定商品資訊應受限制，(丙)是因該項標示攸關國民健康，所以課予菸品業者標示義務，(丁)僅要求其提供商品成分客觀資訊，尚非過當。根據上文，可推知下列何項結論？
 - (A) 甲之規範目的，是為了維持市場公平競爭
 - (B) 乙之主張，與維護言論自由權利並無關係
 - (C) 丙之說法，符合「維護公共利益」之目的
 - (D) 丁之意見，是指該法不違背「平等原則」
5. 喬巴家境清寒，開學前為繳納大學學費，向鄰居羅賓借款新臺幣 5 萬元，卻不慎在校園裡遺失。學長布魯克撿到喬巴的皮包，要求喬巴須依民法付他報酬，否則將暫時不還皮包。喬巴急著註冊，但又沒有能力付給學長酬金，十分困擾。依據上文，下列有關法律與道德的敘述何者正確？
 - (A) 學長暫留皮包的行為，在道德方面並無瑕疵
 - (B) 因國家賦予的強制力，故法律標準高於道德
 - (C) 道德強調義務面，法律則是權利與義務並重
 - (D) 本案屬於法律不允許，道德卻未干涉的行為

6. 幾年前，曾有立委在立法院中提出「同性婚姻法」草案，但遭部分立委反對，退回程序委員會。提案立委事後與同志團體召開記者會，表示會繼續推動此案，希望未來能再次排入議程，順利通過該讀會，並將法案交付「內政及民族委員會」詳細審議，保障不同性傾向的婚姻權。根據上文，以下敘述何者正確？
- (A) 因此案未通過，故行政院院長可提覆議案
(B) 立委提案並無連署門檻限制，隨時可提案
(C) 同志團體可自行擬定法案，送交公民投票
(D) 程序委員會負責排定立院審議法案的順序
7. 近來政府研擬「性侵害犯罪防治法修正草案」，內容將公布性侵犯之個人資料。贊成者認為此舉可減少性犯罪，對性侵害犯有嚇阻作用。反對者表示，事實上八成性侵犯多為熟人，公布性侵犯資料仍無法明確地避免性侵害案件再度發生，開放個資人人可查，將會滋生公眾暴力等社會問題。下列說明何者較符合雙方論點？
- (A) 贊成者的主張傾向預防理論的概念
(B) 反對者的主張屬於應報理論的觀點
(C) 贊成者認為草案符合信賴保護原則
(D) 反對者認為草案係違反明確性原則
8. 謝安真與溫瑞凡婚後育有一女，但瑞凡卻與薇恩外遇，夫妻兩人協議離婚，約定到戶政機關辦妥手續。瑞凡欲簽字時，其母與妹妹瑞萱趕赴現場阻止，瑞凡與母親發生嚴重口角。瑞凡心臟病發猝死，留下 1000 萬元遺產，他事先立下遺囑，要將遺產全數留給薇恩。下列有關該家族的繼承事宜，何者正確？
- (A) 瑞凡的法定繼承人為溫母、安真及其女，三人平分遺產
(B) 瑞凡與安真因為已經協議離婚，安真不得繼承瑞凡遺產
(C) 薇恩所得遺產數額，不能侵害瑞凡法定繼承人的應繼份
(D) 安真對瑞凡的財產，可以先行主張剩餘財產分配請求權
9. 我國司法院提出「人民觀審制度」研議案，未來若完成立法，民眾將可與法官一同審案。人民觀審員於案件辯論終結後，可對被告有罪與否、量刑輕重等表示意見，但判決結果仍交由法官決定。此規劃參酌了英美陪審制，選擇人民參與審判的形式，但卻排除了陪審制中，由陪審員決定被告有罪與否的權限。如此設計的主要考量理由為何？
- (A) 法治優於人治，民意不應凌駕於司法之上
(B) 因為憲法規定，法官應依據法律獨立審判
(C) 不符當事人進行主義，妨礙法定訴訟程序
(D) 觀審員專業知識不足，容易侵害被告權益
10. 因社會與經濟等因素的差異，民主政治的意義、內涵、理想、實踐等有不同的發展，因此產生許多民主理論。下列四位同學討論一些時事，何者屬於「菁英民主理論」的觀點？
- 小白：「社區居民透過多次說明會、討論會，決定與建商合作進行社區重建」
阿亭：「立法委員主動提案修法，小客車後座乘客未繫安全帶者將予以處罰」
小宜：「民間團體發起『白玫瑰運動』，訴求修法加重對性侵幼童者的處罰」
阿新：「多所大學校長們共同呼籲，政府應該放寬大陸學生來臺就學的限制」
- (A) 小白 (B) 阿亭 (C) 小宜 (D) 阿新
11. 我邦交國--諾魯共和國，該國由 8 個選區選出 18 位國會議員，再由國會議員推選一位議員擔任總統，總統所欲採行之政策，須與內閣磋商以達成共識，始可推動。該國已於 2010 年進行修憲公投，將總統產生方式由現行國會議員相互推舉產生改為人民直選，且行政權與立法權分立，總統為國家行政首長。根據上文，可獲得下列何項推論？
- (A) 該國議員是經由混合制選舉產生
(B) 該國修改憲法的步驟與我國相同
(C) 該國公投前的體制已屬於總統制
(D) 該國總統的職權在直選後會擴大

12. 「防止各種權力集中在同一部門手中的最大保障，是使管理各個部門的人員，具有抵抗其他部門侵犯的合法手段與個人動機……我們必須用野心來對抗野心……設計一個由人來管理人的政府，最大的困難是：第一你必須使政府有力量能夠控制被統治的人；其次必須要使政府能夠控制自己」。此段文字最符合下列哪一項概念？
 (A) 萬能政府
 (B) 權力融合
 (C) 均權制度
 (D) 相互制衡
13. 我國政府為了解民眾認為應該優先處理的施政項目，行政院研究發展考核委員會於 2010 年底進行電話民調，並舉辦「十大民怨，你來投」網路票選活動，歸納出 15 個民怨項目，供民眾票選，票選活動結果指出，房價過高問題高居榜首。這顯示政府應加強國家的哪些功能？
 (甲) 維護國家安全 (乙) 提升生活品質 (丙) 維持社會秩序 (丁) 落實公平正義
 (A) 甲乙 (B) 乙丙
 (C) 丙丁 (D) 乙丁

14. 某國國會議員選舉制度於 2003 年至 2007 年間做出變更，兩年選舉結果分別如表(1)及表(2)。請問該國國會議員選舉制度的變更方式應屬下列何者？

表(1)：2003 年某國國會議員選舉結果

表(2)：2007 年某國國會議員選舉結果

	全國不分區議員			單一選區議員 席次	總 席次		得票率 %	席次	席次率 %
	得票率%	席次	席次率%						
A 黨	37.6	120	53.3	106	226	A 黨	64.3	315	70.0
B 黨	12.6	40	17.8	12	52	B 黨	11.6	57	12.7
C 黨	11.5	36	16.0	0	36	C 黨	8.1	40	8.9
D 黨	9.0	29	12.9	8	37	E 黨	7.7	38	8.4
其他	16.5	0	0	32	32	F 黨	2.3	0	0
獨立參選人				68	68	其他	4.9	0	0
總計	100	225	100	225	450	總計	100	450	100

- (A) 由聯立式混合投票制更改為複數選區單記非讓渡投票制
 (B) 由並立式混合投票制更改為單一選區單記非讓渡投票制
 (C) 由聯立式混合投票制更改為政黨名單比例代表制
 (D) 由並立式混合投票制更改為政黨名單比例代表制
15. 財政部擬定能源稅法草案，若開徵能源稅，汽油、柴油每公升約額外加徵一元的稅金。此制雖會對產業及民生造成影響，但為達到減碳目的，立法通過後，將慎選實施時機點適時開徵。上述政府課稅所欲解決之問題，其性質與下列何者相同？
 (A) 要求廠商產品需附政府檢驗證明，始可販售
 (B) 限制夜市的營業範圍，以維護居民安寧生活
 (C) 規定企業有盈餘，就不准要求勞工休無薪假
 (D) 對學生或剛踏入職場之青年，提供廉價住宅
16. GDP 可以反映一國經濟發展的現況。然而，隨著社會經濟的發展，這一指標的諸多缺陷也逐漸顯現出來。諾貝爾獎得主史蒂格立茲(Joseph E. Stiglitz)認為 GDP 在衡量經濟狀況時，沒有考慮社會發展因素與內涵，只是一個數量指標，例如：政府建造監獄的支出與創辦大學的支出沒有區別。上述所指出的 GDP 缺失，與下列何種情形的性質類似？
 (A) 走私猖獗因而造成國家統計失準
 (B) 家務勞動的價值長期為政府漠視
 (C) 增購國防武器排擠治水工程經費
 (D) 基層勞工平均薪資與十年前相同

17. 世界經濟論壇(WEF) 2011 年「全球競爭力指數」評比結果，台灣部分項目評比如表(3)：

表(3)

項目	排名	項目	排名
整體競爭力	13	創新	9
政府債務	71	機場設施	51
總體經濟環境	22	平均每人發明的專利數	1
高等教育與訓練	10	股票市場資金充足與籌資容易度	2

由上表的項目排序判斷，台灣在經濟發展要素中，何者擁有較佳的實力？

- (A) 社會資本
(B) 政府效能
(C) 人造資本
(D) 人力資本
18. 假設天使國的資源全部投入農產品和工業產品的生產上，表(4)中的甲~己是其可能的生產組合。

表(4)

生產組合 (單位：公斤)	甲	乙	丙	丁	戊	己
農產品	100	80	60	40	20	0
工業產品	0	42	72	95	110	120

如果天使國發生嚴重風災，生產活動受到影響，下列何者最有可能是其短期內的生產組合？

- (A) 農產品 100 公斤；工業產品 0 公斤
(B) 農產品 50 公斤；工業產品 50 公斤
(C) 農產品 0 公斤；工業產品 120 公斤
(D) 農產品 100 公斤；工業產品 120 公斤
- 19-20 題為題組
- Cosplay，是 Costume-play 的縮寫，中文譯作「角色扮演」。是指以服飾和道具的配搭，加上化妝造型、神態動作、身體語言等等，傳神地去演繹一個自己喜愛的動漫畫、電影、電玩遊戲、偶像團體等角色。參與 Cosplay 的人稱之為 Cosplayer 或 Coser(角色扮演者)，是一群具有相似背景的人，基於對 Cosplay 的喜愛，因為彼此間「惺惺相惜」的心理而聚集成為「情緒共同體」，在扮裝與公開展示活動中獲得他人的讚嘆，從中肯定自我也獲得同儕的認同，「我 cos 故我在」是 Coser 心中的最佳寫照。不過，因為 Coser 裝扮特殊，也會引致社會上其他人的異樣眼光，或是招致奇裝異服、標新立異的批評言論。
19. 下列四位同學引用顧里(C. H. Cooley)、米德(G. H. Mead)、佛洛伊德(S. Freud)馬斯洛(A. Maslow)的理論解釋上述 Cosplay 的現象，甲、乙、丙、丁所引用的學者理論，依序應為何？
- 甲：Coser 因「惺惺相惜」成為「情緒共同體」，滿足愛與歸屬的需求
乙：Coser 透過扮裝與公開展示的方法，得以滿足受人喜愛的潛在慾望
丙：Coser 在其他人的讚嘆與回應中，相信自己是個傳神的角色扮演者
丁：由 Cosplay 的共同體中，可看出個人行為常深受概括化他人的影響
- (A) 馬斯洛—米德—佛洛伊德—顧里
(B) 馬斯洛—佛洛伊德—顧里—米德
(C) 佛洛伊德—馬斯洛—顧里—米德
(D) 佛洛伊德—顧里—米德—馬斯洛
20. 根據上文中 Cosplay 的文化現象，下列敘述何者符合其文化的相關意涵？
- (A) Cosplay 屬於一種主流文化，因而此種文化容易帶動大眾流行
(B) Cosplay 文化發展較不成熟，長久浸淫此文化會被社會邊緣化
(C) Cosplay 屬於次文化的範疇，社會無法以單一價值評斷其優劣
(D) 欣賞 Cosplay 須具備相當的文化素養，其價值受社會大眾肯定

21-22 題為題組

大法官曾於今年六月召開憲法法庭，為某件攸關新聞採訪權與隱私權界線的釋憲案，廣泛聽取兩造當事人(內政部、受罰媒體)及各方意見，並於七月作成釋字第 689 號解釋。該號解釋文認為，社會秩序維護法處罰跟追行為(第 89 條第 2 款：無正當理由，跟追他人，經勸阻不聽者，處新臺幣三千元以下罰鍰或申誡)，是為保護個人行動自由及不受侵擾之自由。新聞記者若有事實認定某事件具公益性且有新聞價值，並以社會大眾可容忍的方式跟追，就不在處罰之列。因此處罰跟追行為的規定，並不違憲。

21. 下列主張，何者符合上述解釋文之要旨？

- (A) 記者持續近距離接觸被採訪者，是採訪的必要行為，該規定侵害新聞自由及工作權
- (B) 該規定之要件如：「跟追」、「正當理由」等，均未具體言明，違反法律明確性原則
- (C) 該規定欲保護私人的生活領域，而採取的手段僅處以申誡或罰鍰，並未違背比例原則內涵
- (D) 新聞自由是為讓媒體自主獨立，能有監督政府的功能，並非憲法所保障的人民基本權利

22. 上文提到了數項權利，分別屬於何種性質的人權？

- (A) 新聞採訪權能有效監督政府公共政策，是參政權的實現，屬積極人權
- (B) 隱私權目的在保護個人身體、行動及私密領域的自主性，屬消極人權
- (C) 個人行動自由，要求政府提供人民進出各種場所的權利，屬新興人權
- (D) 不受侵擾的自由，強調全體人民應擁有保持緘默的權利，屬集體人權

23-24 題為題組

由水果牌生產的智慧型手機，所興起的旋風愈演愈烈，本國的愛國牌與進口的高麗牌也紛紛推出智慧型手機，搶食市場大餅。水果牌在功能上取勝，愛國牌在價格上佔優勢，(甲)高麗牌則是該國政府運用資源強力護航，以擴大其國外市場佔有率。小珍因為工作需要，多方比較下，買了一隻愛國牌的手機，店員建議她多買一個原廠電池，出外工作時比較方便，但一個要 800 元。小珍覺得太貴，最後購買只要 300 元的副廠電池。但其後(乙)愛國牌手機因專利授權問題而調漲售價，對其市占率造成影響。

23. 上文中的(甲)現象發生時，下列何者是其政府可能運用的貿易政策工具？

- (A) 針對他牌手機採取進口限額
- (B) 補貼水果牌手機的出口價格
- (C) 對高麗牌手機實施出口退稅
- (D) 對愛國牌手機課徵進口關稅

24. 依據上文，在市場其它條件不變的情況下，當(乙)現象發生時，市場上最可能出現下列何種情形？

- (A) 消費者對原廠電池的需求會減少
- (B) 消費者對副廠電池的需求會上升
- (C) 消費者對愛國牌手機的需求會下降
- (D) 消費者對其它廠牌手機需求量增加

25. 某時期政府成立宣傳委員會，特別向民眾宣導國家的法令與政治制度，又設立國語推行委員會，把推行國語訂為一項重要工作。例如，成立編譯館以加強史地及國語文教育，小學教科書的編輯方針則特別注重對民族意識之喚起、民族精神之發揚。請問這個時期最可能是：

- (A) 中華民國肇建
- (B) 對日抗戰前夕
- (C) 日治台灣初期
- (D) 台灣光復初期

26. 十三世紀中葉的杭州城，其城內外的橋樑總數由約 200 座，增加為近 350 座，這些增加的新橋樑僅有 14 座新建於城內。請問上述歷史事實，正說明下列哪一現象的發展？

- (A) 南宋朝廷始規劃首座計畫式都城
- (B) 經濟繁榮下所出現的工業化現象
- (C) 在過多人口壓力下轉至城外發展
- (D) 元朝籠絡漢人遂努力興建新首都

27. 表(5)為日治時期某項數據的百分比統計表，請問此項統計表最可能是描述何種現象的統計表？

- (A) 台灣吸食鴉片者所占人口比例
(B) 全台警察占台灣人口的比例
(C) 台灣人理解日語的人口比例
(D) 台灣人改日本姓氏之人口比例

表(5)

年代	百分比
1905	0.38%
1915	1.63%
1920	2.86%
1930	12.36%
1932	22.70%
1933	24.50%
1934	27.00%
1935	29.07%
1936	30.29%
1937	37.80%

28. 十七世紀，某傳教士對外國事物觀察之報告：「他的嗜好和興趣高雅不俗，都很適於帝王的身份。他為人公正，伸張正義，倡導德行，愛護臣民。他具有服從真理的性格以及絕對抑制情欲的克己之心。諸如此類高貴品德，不勝枚舉。此外，在日理萬機的君王中，能如此愛好藝術並勤奮學習各門科學的他，不能不令人驚訝。」請問此份引發廣大迴響的報告，最適合描述下列哪一主題？

- (A) 荷蘭東印度公司對大肚番王之看法
(B) 法國傳教士對清朝康熙大帝之印象
(C) 馬丁路德筆下的神聖羅馬帝國皇帝
(D) 耶穌會教士眼中的德川幕府大將軍

29. 歷史老師上課時，出示一張歷史地圖如圖(1)，該圖所要表達的主題最可能是：

- (A) 印歐語族的擴張
(B) 羅馬帝國的征服
(C) 日耳曼蠻族大遷徙
(D) 黑死病之流行擴散



圖(1)

30. 1500 年之後，跨越大洋移動的人口逐漸增加：十九世紀之前人口主要移動方向大致為由歐洲、非洲移往美洲；十九世紀之後，非洲至美洲的移民數量迅速下降，人口移動方向改由歐洲、亞洲移往美洲。請問：此一變化應與下列哪一項因素有關？

- (A) 奴隸貿易的廢除
(B) 民族國家的建立
(C) 宗教迫害的消失
(D) 共產主義的衝擊

31. 圖(2)是四張時代雜誌的封面，依序是希特勒、太陽旗、海珊、賓拉登，而這四張封面的圖像都加上了一個大叉。請問：雜誌社這樣的做法，反映了怎樣的意義？

- (A) 抨擊共產主義
(B) 打擊恐怖分子
(C) 譴責美國的敵人
(D) 反對法西斯主義



(1945 年 5 月)

(1945 年 8 月)

(2003 年 4 月)

(2011 年 5 月)

圖(2)

32. 某時期百廢待舉，政府因財政支出嚴重赤字，以致於建設有限，於是利用美援進行電力、交通運輸、水庫建設；美援進口物資也包括肥料，大豆，小麥，油脂等。政府藉由美援彌補財政赤字，深具功效。請問當時造成政府財政赤字的原因最可能是：
- (A) 對日抗戰，物力消耗慘重，急需建設後方
 - (B) 國共內戰，通貨膨脹嚴重，物價百般騰貴
 - (C) 政府遷台，供養龐大軍隊，軍需費用驚人
 - (D) 中美斷交，政府處境艱難，積欠大量外債
33. 1942 年某地區的政治領袖在討論國家處境時說：日本軍隊進入此地，是想利用此地做為攻擊中國的根據地；中國軍隊進入此地則是為了與日本對抗；而本地人數最多的法國軍隊則比較擔心中國會趁機侵略。在三方勢力角逐下，獨立是我們唯一的選擇。請問：此地區最可能是下列何者？
- (A) 朝鮮
 - (B) 越南
 - (C) 台灣
 - (D) 印度
34. 某一時期，如果你走在街道上，會看見高大建築物垂掛著白布寫著「祈皇軍武運長久」，入伍的人戴著千人祝福的千人針腰巾，加入戰爭，政府諭令稱此為「絕對至高之國民榮譽」。請問這樣的場景會出現在：
- (A) 1937 年，南京
 - (B) 1938 年，高雄
 - (C) 1941 年，倫敦
 - (D) 1943 年，台北
35. 某國勢力極盛，其國王所統治的領土涵括部分西歐、南歐，以及中歐、東歐大片區域，還擁有橫跨兩大洋的廣闊海外殖民地，甚至奪取太平洋西岸島鏈中的一些島嶼。由於殖民地範圍之廣大，以及從殖民地取得大量金、銀、絲、瓷等財物，國家強大無比，成為歐洲首富，因此被史家稱為「日不落帝國」。這個國家最可能是：
- (A) 十六世紀的西班牙
 - (B) 十七世紀的荷蘭
 - (C) 十八世紀的俄羅斯
 - (D) 十九世紀的英國
36. 史家評述某個時代某個地區的狀況：受南北兩大強權夾峙，反而享有自治；小邦林立，無法統一；既有人文精神，也有將人送上火刑臺的宗教狂熱；君主號稱開明，卻又爾虞我詐，不受現實與宗教道德之約束；心智一旦解放，追尋理想者固然不少，自私自利、縱情縱慾、狂賭嗜殺者也非鮮見；朝聖者紛紛經過此地到南方朝聖，旅行風氣很盛，盜匪亂兵劫殺朝聖者，卻也所在多有。這位史家所描述的時、地，最可能為：
- (A) 西元十一世紀的拜占庭
 - (B) 西元十三世紀的巴勒斯坦
 - (C) 西元十五世紀的義大利北部
 - (D) 西元十七世紀的鄂圖曼土耳其
37. 台灣某時期實施下列政策：制定「關稅法」，建立關稅壁壘，實施貿易保護，強力剝奪香港商權，切斷台灣米、糖等物資被外國壟斷的現象，請問這種政策最可能發生在何時？
- (A) 明鄭時期
 - (B) 清領後期
 - (C) 日治時期
 - (D) 國府遷台

38. 下列兩幅圖像，皆表達歐洲某一時代特色與社會現象，此一特色與現象最可能為：



圖(3) 農人擊殺自己的主人



圖(4) 死神與各行各業的人跳舞

- (A) 羅馬帝國後期日耳曼蠻族入侵，導致社會崩潰
 (B) 中古後期封建鬆動與疾疫流行，造成社會危機
 (C) 馬丁路德宗教革命，引起宗教分裂與宗教戰爭
 (D) 貧富不均與社會階層不平等，引發法國大革命
39. 學者發現，對於現今普遍認為是中華民族正統的某族群，從清末到 20 世紀初期的中國學術界，多視之為「落後部族」、「語言啁啾，不甚開化」、「為百越之一支」。太平天國起事之後，學界甚至以「匪寇」加以描述。請問上述資料最可能是指下列哪一族群？
 (A) 閩南人 (B) 湖南人
 (C) 客家人 (D) 滿洲人

40. 某學者根據資料，推算八世紀初時，三個帝國的人口，數據如下：

區域	甲帝國	乙帝國	丙帝國
人口數量 (萬人)	6050	3400	1250

依據歷史知識，按「查理曼帝國、阿拉伯帝國、大唐帝國」之順序，與上表對應最合理之次序應為：

- (A) 甲乙丙
 (B) 甲丙乙
 (C) 丙甲乙
 (D) 丙乙甲
41. 某國政治人物在回顧國家歷史時說：這一世紀對我國而言，像是一個三明治，世紀之初要對抗法蘭西的霸權，世紀末則要抵禦日耳曼的擴張，期間則可以見到我國人民努力發展本身的商業與工業。請問：上述應是何國？
 (A) 十六世紀的西班牙
 (B) 十七世紀的荷蘭
 (C) 十九世紀的英國
 (D) 二十世紀的美國

表(6)

42. 表(6)是台灣四個港口自 1863 至 1943 貿易總額所占的百分率。從 1863~1880 年，甲乙兩港關稅合併計算，丙丁兩港關稅合併計算，1900 後，四個港口關稅分別獨立計算。請問甲乙丙丁這四個港口分別是？
 (A) 甲：高雄；乙：基隆；丙：淡水；丁：安平
 (B) 甲：安平；乙：高雄；丙：基隆；丁：淡水
 (C) 甲：淡水；乙：基隆；丙：安平；丁：高雄
 (D) 甲：安平；乙：基隆；丙：淡水；丁：高雄

年份	甲	乙	丙	丁
1863	41.1	---	58.9	---
1870	31.5	---	68.5	---
1880	55.0	---	45.0	---
1890	68.7	---	31.3	---
1900	42.4	27.0	12.3	6.8
1910	11.0	32.0	12.6	42.8
1920	3.8	43.0	2.9	49.3
1930	0.7	47.8	2.7	46.6
1940	0.3	52.0	2.6	43.6
1943	0.0	72.3	0.1	27.1

43. 表(7)是 19 世紀英國首相迪斯累里(Benjamin Disraeli)任職期間(1874-1880)的重要事件,即使最後他的政黨敗選,他仍獲得政敵高度的肯定。請問:這是因為表列事蹟,最符合哪群人的利益?

表(7)

1875 年	英國得到蘇伊士運河的經營權
1876 年	維多利亞女王得到「印度女皇」的稱號
1878 年	英國占領賽浦路斯島
1878 年	英國與俄國的阿富汗之爭
1879 年	英國在南非的布耳戰爭

- (A) 資產階級
(B) 無產階級
(C) 教會人士
(D) 傳統貴族

44. 某地區因為位於華夏文化與戎狄文化的交接帶,加上宗族勢弱、異姓大夫專權、禮制式微的背景,加速「無親」與「尙戰」風氣的發展,故在春秋戰國時期間,扮演著成文法形成的關鍵角色。請問上述資料應指下列哪一地區?

- (A) 燕 (B) 魯 (C) 楚 (D) 晉

45. 資料一:希羅多德(Herodotus)記載:建造胡夫王(khufu)金字塔的石頭是從「阿拉伯山」(可能是西奈半島)開採來的。法老強迫所有埃及人爲他工作,10 萬人爲一大群,每大群要勞動 3 個月,成爲法老的奴隸。這些奴隸建造胡夫金字塔,花了整整 20 年時間。

資料二:近年來,考古人員在胡夫王金字塔附近,發現了工匠居住的宿舍與提供食物的麵包房,估計那裡至少住過幾千名工匠,很可能以農閒時期的農民爲主。從挖出的出勤紀錄來看,古埃及政府主要用麵包和洋蔥支付這些工人的報酬,還有工人們爲了爭取更高工資而罷工的證據。工人有事可以請假,但必須扣除薪水;工人受傷,可以得到治療,有個工人在接受截肢手術後,又活了十多年。通過對這些紀錄測算,大約 25000 名勞工參與建造金字塔。

關於這兩段資料,下列四位學生的評論,何者最合理?

- (A) 甲生:希羅多德根據傳聞與自己的推想,猜測金字塔的建造過程,考古學發現可修正希氏的說法
(B) 乙生:希羅多德生活在胡夫王的時代,所得爲一手史料;考古人員生活在現代,所得爲二手史料
(C) 丙生:希羅多德的記載爲地上材料,考古發掘爲地下材料,兩者恰好互證,證明古代傳聞之可靠
(D) 丁生:資料二憑精確之考古證據,證明建造金字塔者全爲農民;奴隸建造金字塔之說,不攻自破

46. 有位國家領袖候選人爲了解決當時國內的問題,以及世界霸權的爭奪,而提出「新境界(New Frontier)」的競選口號,內容包括「保障民權」、「擴展經濟」、「太空發展」等訴求,根據上述訴求判斷這位領袖是指何人?

- (A) 1933 年,德國希特勒 (B) 1945 年,英國邱吉爾
(C) 1950 年,中國周恩來 (D) 1960 年,美國甘迺迪

47-48 題爲題組

資料一:某些讀書人採以巫術的觀點,來看當時社會要求此舊習慣改變的現象,認爲「殆爲國家將亡必有妖孽之兆,否則何遙遙相應之巧耶?」

資料二:某些學者認爲其的確不合時宜,因爲會造成行動不便與妨礙操作機器,將是中國進入工業世界的一大障礙,成爲落後與野蠻的象徵。

資料三:還有一些人則是政治上的考量,認爲此本非傳統事務,又是亡國奴的標誌,應該除之而後快。

資料四:當時有些人則用性別的角度,來看待此種中國男子的風俗,多譏笑他們是「女孩」,甚至某些地方政府還透過公權力要求加以改變修正。

47. 上述四則資料,皆爲同時期不同人士對某傳統風俗的意見,請問其應指何時的何種風俗?

- (A) 清末,辮髮 (B) 清末,鴉片 (C) 民初,蓄鬚 (D) 民初,纏足

48. 承上題,關於上述四則資料的立場,下列敘述何者正確?

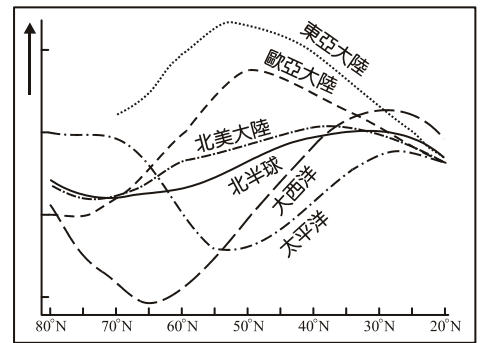
- (A) 資料一是認爲此種舊風俗,將會影響民生財政的發展
(B) 資料二主要認爲傳統道德與習俗,有其價值不應改變
(C) 資料三應是提出種族主義的改革者,多屬革命黨人士
(D) 資料四應是地方的士紳,維持社會秩序爲其社會責任

49. 根據衛星影像圖(5)判斷，此照片拍攝當時，加拿大魁北克的居民正處於何時？
(A) 春季的傍晚
(B) 夏季的清晨
(C) 秋季的傍晚
(D) 冬季的清晨



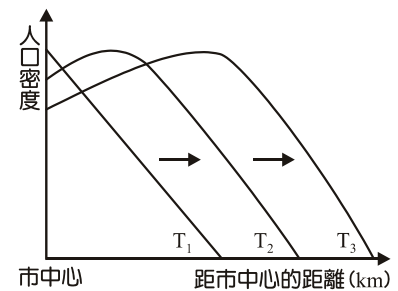
圖(5)

50. 圖(6)為六個地區某一氣候要素在北半球的多年平均值之分布圖。試問此圖的縱坐標應為下列何種氣候要素？
(A) 年溫差
(B) 年雨量
(C) 1 月氣壓
(D) 7 月氣溫



圖(6)


51. 都市常因人口和產業過度密集，會產生各種都市問題。常見的都市問題包括：(甲) 地價昂貴、房價高漲；(乙) 環境品質惡化；(丙) 尖峰時刻聯外交通擁擠；(丁) 中心商業區機能衰退等。圖(7)為人口密度與距市中心的距離之關係，其中 T_1 代表早期， T_3 代表晚期。此圖所表示的現象，最可能直接造成上述哪一個都市問題？



圖(7)

52. 網路購物為現代社會非常普遍的購物方式之一，某購物網站宣稱，商品訂購後保證全臺灣 24 小時內到貨，遲到給 100 元現金積點，週末假日照常出貨。請問這樣的商品流通形式，最需要什麼條件的配合？
(甲) 物流發達；(乙) 交通革新；(丙) 產品標準化；(丁) 資訊化社會；(戊) 產品生命週期短
(A) 甲乙丙
(B) 甲乙丁
(C) 乙丁戊
(D) 丙丁戊

53. 由於自然與人文環境的差異，因此各地區的傳統服飾也有相當大的不同。圖(8)為四種不同民族的主要服飾類型，請問圖中哪些民族傳統上是以稻米為主食？



圖(8)

- (A) 甲乙
(B) 甲丙
(C) 乙丙
(D) 丙丁

表(8)

54. 表(8)為臺灣在 2011 年 1 至 6 月間，主要對外貿易地區的進出口資料，請問：表中的丁國最可能是下列哪一國家？

- (A) 日本
- (B) 美國
- (C) 德國
- (D) 沙烏地阿拉伯

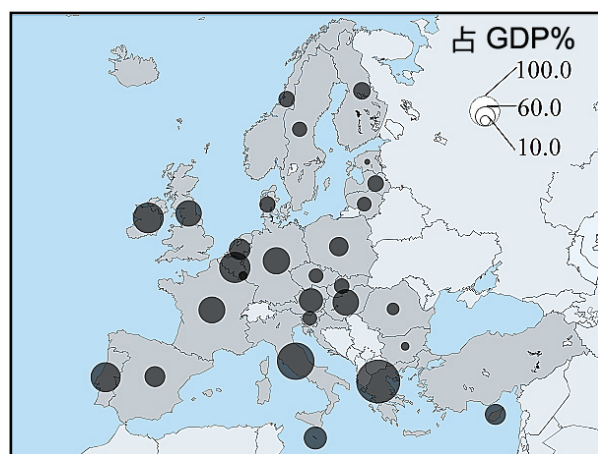
主要貿易地區	出口		進口	
	名次	金額	名次	金額
中國	1	42,815,499,198	2	22,024,364,375
甲	4	9,074,539,500	1	26,965,549,184
乙	3	18,063,050,983	3	13,668,605,644
香港	2	19,598,203,364	28	827,222,351
南韓	6	6,221,551,999	4	9,479,640,723
新加坡	5	7,762,759,721	8	4,050,487,738
丙	9	3,632,544,137	7	4,799,748,476
丁	21	859,211,117	5	6,941,301,859
馬來西亞	10	3,374,741,876	9	4,008,898,107

55. 小明計畫到中國某地旅行，行前地理老師建議他最好把時間安排在 8 月至 10 月，並建議攜帶墨鏡、遮陽帽、防曬霜、羽絨衣和防水衣服等。按照老師的建議，小明順利地完成了旅遊活動。請問：小明此次所去的地點最可能是下列何地？

- (A) 青海的可可西里
- (B) 新疆的塔克拉瑪干
- (C) 雲南的西雙版納
- (D) 陝西的關中平原

56. 圖(9)為建民製作地理報告所用的一張主題地圖，圖中呈現 2010 年歐洲部分國家的實際狀況。請問建民的地理報告題目最可能是下列哪一項？

- (A) 歐洲再生能源的研發
- (B) 歐豬五國(PIIGS)的債務危機
- (C) 南歐觀光產業的收益分析
- (D) 歐洲國家貿易依存度的探討



圖(9)

57. 2011 年 7 月聯合國出現第 193 個新會員國—南蘇丹，圖(10)為北蘇丹(灰色部分)及南蘇丹(黑色部分)位置示意圖，表(9)則為兩國首都的氣候資料。請問在喀土穆與朱巴(Juba)分別可感受到何種氣候特色？

- (A) 熱帶草原、熱帶沙漠
- (B) 熱帶草原、熱帶莽原
- (C) 熱帶沙漠、熱帶莽原
- (D) 熱帶莽原、熱帶雨林



圖(10)

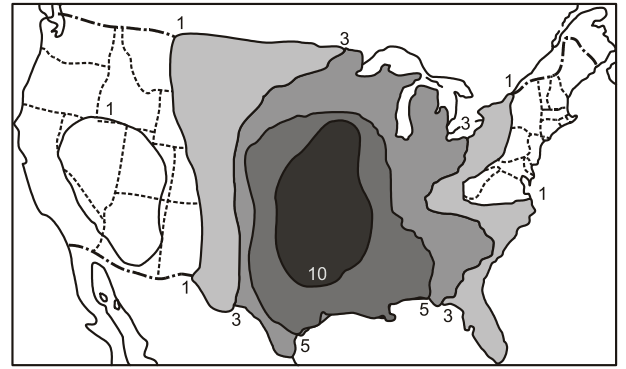
表(9)

氣候資料		月份											
		1	2	3	4	5	6	7	8	9	10	11	12
喀土穆	氣溫(°C)	24	25.5	28	32	34	35	32	30.5	32	33	29	25
	降水(mm)	0	0	0	1	5	7	48	72	27	4	0	0
朱巴	氣溫(°C)	28.5	29	30	29	28	27	26	25.5	27	27	27	28
	降水(mm)	3	6	50	97	159	109	137	152	118	116	42	8

58-59 題為題組

◎ 美國國土大部分位處中緯度地區，幅員廣大，氣候大多屬於溫帶氣候，豐富多元，但是仍有許多氣象災害出現，例如：(甲) 寒潮；(乙) 颶風；(丙) 熱浪；(丁) 龍捲風。試問下列問題：

58. 圖(11)為美國某一種氣象災害的年平均次數分布圖，其最可能為上述何者？
(A) 甲
(B) 乙
(C) 丙
(D) 丁



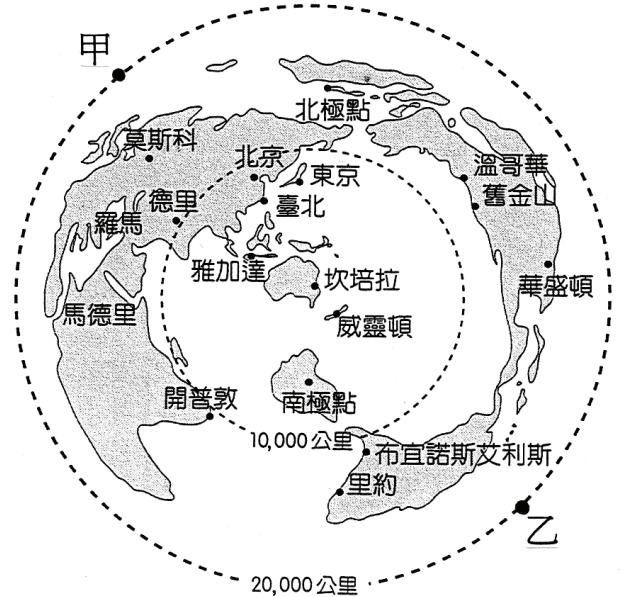
圖(11)

59. 上文中氣象災害「乙」的形成，主要有四個條件：(I) 海水溫度必須 $> 27^{\circ}\text{C}$ ；(II) 必須在南北緯 5° 以外；(III) 必須有足夠強度的科氏力；(IV) 大尺度運動能提供高空輻散、地面輻合的理想環境。美國加州和佛羅里達州的外海，氣象災害「乙」的出現次數極為懸殊，和上述哪些條件的關係最為密切？
(A) I、II
(B) II、III
(C) III、IV
(D) I、IV

60-61 題為題組

◎ 圖(12)是以澳洲首都坎培拉為中心的某一種地圖投影，圖中較小的圓形(內圈)和坎培拉的實際距離為 10,000 公里。請根據此圖回答下列問題：

60. 圖中較小圓形(內圈)的圓周長，在地表的實際長度約為多少公里？
(A) 0 公里
(B) 10,000 公里
(C) 40,000 公里
(D) 62,800 公里
61. 圖中甲、乙兩點之間在地表的最短實際距離為多少公里？
(A) 0 公里
(B) 20,000 公里
(C) 30,000 公里
(D) 125,600 公里



圖(12)

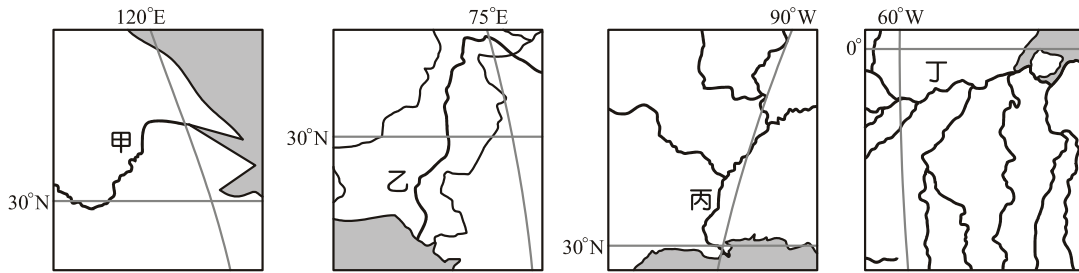
62-63 題為題組

◎ 2011 年 3 月 11 日，日本東北外海發生芮氏規模 9.0 的淺層地震，引發大海嘯，除造成嚴重傷亡外，也導致福島核電廠輻射外洩。事後日本重新思考核能的必要性與安全性，也因此出現新的能源需求，如太陽能等再生能源。另一方面，歐、美政府因債務問題焦頭爛額，刪減了對太陽能的補助，因此太陽能部分生產線漸漸由歐、美地區轉移至中國。請問下列問題：

62. 太陽能生產工廠移到中國，除了市場因素外，最有可能是因為中國尚具備何項生產區位優勢？
(A) 聚集經濟
(B) 技術優良
(C) 成本低廉
(D) 日照充足
63. 上文中所述的生產空間變遷，最適合以下列哪個概念說明？
(A) 產業連鎖
(B) 技術移轉
(C) 空間轉移
(D) 區位擴散

64-65 題為題組

◎ 圖(13)為甲、乙、丙、丁四條河流的局部流域圖，請回答下列各問題：



圖(13)

64. 「該河支流眾多如辮，蜿蜒綿長。中、下游段具有灌溉及航運價值，然因上游春初融冰，中、下游夏季暴雨、強烈颶風的影響，易生洪患，故曾進行築堤、分洪和截彎取直等防洪工程。2011 年初夏此流域降下了正常年六倍的雨量，造成 75 年以來最大洪患，流域內的玉米、棉花、小麥和大豆等農產損失慘重。」請問上文的描述最可能是指哪一條河流？
(A) 甲 (B) 乙 (C) 丙 (D) 丁
65. 「原住民 NAYKE 族是當地的賤民階級，早期生活方式以狩獵為主，一早起來他們先把駱駝餵飽，再去打獵。狩獵不設陷阱，完全憑天賦技巧。因為沒有冰箱，所以捕到獵物後會立刻煮食，且吃多少獵多少，以保持食物鏈平衡。用全麥烤出來的 NAAM 餅，是必備的主食。該族服飾美觀、實用，顏色鮮豔是爲了在沙漠中方便辨識，頭巾還可以用來抵擋風沙。」NAYKE 族最可能出現在哪一條河川的流域內？
(A) 甲 (B) 乙
(C) 丙 (D) 丁

66-67 題為題組

◎ 「現今汽車使用了大量的電子零件，日本目前在這些零件的生產上居於壟斷地位。近來汽車產業爲了節約成本，實施『零庫存』營運模式，並且在全球各地建立起嚴密的供應鏈，顯現出更大程度的全球化。但是，在這條由汽車製造商和各種零件供應商所構成的緊密產業鏈結上，若其中任何一個環節出現問題，企業將無法維持生產。」表(10)爲日本 311 大地震後，其他國家汽車產業受牽連的狀況。

表(10)

日本地震影響汽車相關原物料、零件生產	其他國家受牽連的汽車產業
油漆 1(日本的油漆廠減產)	美國福特部分黑色、紅色車型減產
油漆 2(油漆廠所在地區因核污染被迫停產)	全球紫色「馬自達 6」絕種
發動機(日產本土工廠停產)	中國東風日產「天籟」車型所用零件供應中斷
空氣流量感測器(日本產電子元件供應中斷)	法國 PSA、標緻、雪鐵龍多個工廠減產

根據上表，請問下列各問題：

66. 汽車用的晶片在 311 震災後，全球短缺現象很快顯現出來，此和文中所謂「零庫存」有著密切的關連。請問汽車電子零件之所以能以「零庫存」維持生產的根本關鍵爲何？
(A) 日本產業的空洞化
(B) 汽車電子零件規格化
(C) 全球貿易的蓬勃發展
(D) 快速且便捷的航空運輸
67. 透過上述短文與表推論，日本在全球汽車產業所扮演的主要角色最可能爲何？
(A) 研發與設計的龍頭
(B) 組裝與消費的主要市場
(C) 整合汽車產業鏈的跨國企業
(D) 高附加價值零件的製造者

68-69 題為題組

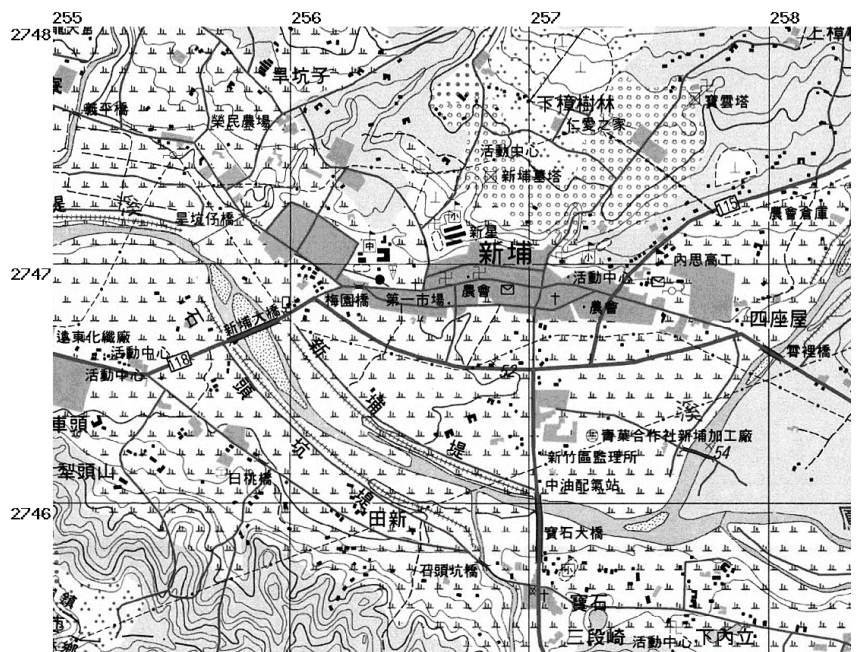
◎「某科技集團基於『市場在哪裡我們就到那裡』的全球布局策略，近日針對巴西投資案，向當地政府提出土地、通訊、交通、融資、基礎建設需求等七項要求；並希望巴西加速相關法令的修訂，包括放寬讓平板電腦適用筆記型電腦的優惠稅率，以加快投資案法定程序，達成提前從2011年7月開始在巴西生產蘋果平板電腦iPad的目標。巴西政府則要求該集團必須做到聘用足額的員工、做好技術移轉，同時也必須尊重當地勞工法規及勞工權益。2011年4月蘋果已將首批iPad零組件從亞洲裝船運往巴西，預定2個月內抵達巴西港口。該集團表示，首批在巴西組裝的iPad零件必須使用進口零件，但未來幾年將陸續改採當地生產的零件。」請根據上述財經新聞的重點摘要，回答下列問題：

68. 該科技集團 2011 年在巴西的年度經營策略，最可能是下列哪一項？
 (A) 成立全球客戶服務中心
 (B) 積極建立自有品牌電腦
 (C) 以接受客戶委託代工生產為主
 (D) 與巴西共同建立研發創新中心
69. 該集團成功進軍巴西後，預估短期內最可能帶來下列哪兩項效益？
 (甲) 獲得巴西軟體設計的優質服務
 (乙) 能幫其代工客戶避開巴西高額進口關稅
 (丙) 自由採購巴西零組件以減少集貨成本
 (丁) 可作為擴大中南美洲市場的先期策略
 (A) 甲乙
 (B) 甲丙
 (C) 乙丁
 (D) 丙丁

70-72 題為題組

◎ 圖(14)為臺灣某地區的經建版地形圖，請根據圖中內容，回答下列問題：

70. 關於圖中青葉合作社新埔加工廠的位置與地點的敘述，下列哪些是正確的？
 (A) 右岸、丘陵
 (B) 左岸、平原
 (C) 東岸、沙丘
 (D) 北岸、平原
71. 圖中新埔大橋的長度約為多少公尺？
 (A) 100 公尺
 (B) 250 公尺
 (C) 500 公尺
 (D) 750 公尺



圖(14)

72. 圖中以哪一種土地利用的面積最大？
 (A) 茶園
 (B) 水田
 (C) 建地
 (D) 濕地