

單選題(144 分)

說明：第 1 至 72 題為單選題，每題均計分。每題選出一個最適當的選項，標示在答案卡之「選擇題答案區」。每題答對得 2 分，答錯不倒扣。

1. 以下是課堂中，學生討論性別平等議題的記錄，針對甲乙丙丁四位學生的報告，何者說法符合性別實質平等的意義？
甲：立委提案修改建築法，增訂公共場所男女廁所比例應符合生理狀況
乙：男性平均薪資比女性每月多八千六，是因男性領導與工作能力較強
丙：勞委會技能競賽首度由男性獲美容職類金牌，代表職場性別不設限
丁：法院對於子女監護權該判給父或母，應依據能否符合子女最大利益
(A) 甲 (B) 乙
(C) 丙 (D) 丁
2. 行政院文建會提出「社區總體營造政策」，希望透過社區居民的主動營造、社區意識的重建，培養國人的共同體意識，以提升社區文化生活及自治品質，建構臺灣在地文化特色。請問下列哪些敘述符合此一定義？
甲、鄰里開設陶藝課程，以維護傳統產業
乙、民眾主動協助巡守，以保存舊有村舍
丙、政府規劃文化園區，以增加發展機會
丁、財團興建老人社區，以提升照護品質
(A) 甲、乙 (B) 乙、丁
(C) 甲、丙 (D) 丙、丁
3. 針對國內許多提供胎兒性別篩檢的醫療院所，違法進行性別鑑定或是精蟲分離術，造成嬰兒性別比例長期失衡，衛生署警告違反相關規定的醫師與醫療院所，依法最高可重處 50 萬元罰鍰。這些醫療院所的行為除了違法之外，也未能顧及哪些倫理的價值？
甲、家庭倫理；乙、資訊倫理；丙、科技倫理；丁、生命倫理
(A) 甲、乙 (B) 丙、丁
(C) 甲、丙 (D) 乙、丁
4. 依據我國電信法規定，凡人民使用無線電頻率，應先經主管機關核准，如有違反，依該法之規定科處拘役、罰金，併沒收其電信器材。林先生非法設置廣播電臺，為警方查獲，並經二審終局判決處以拘役五十天，併沒收其器材，林先生因而聲請釋憲。但大法官釋字 678 號解釋認為，無線電波頻率屬於全體國民之公共資源，電信法固然限制人民使用無線電波頻率之通訊傳播自由，但為保障合法使用者之權益，兩相權衡，該法之限制手段是有必要的。由上述內容可知，大法官認為該法並不違憲的原因，是因符合何項法律原則？
(A) 明確原則 (B) 比例原則
(C) 誠信原則 (D) 平等原則
5. 高等行政法院針對中科四期二林園區環評結論，做出全面停工裁定後，環保署、國科會決定向最高行政法院提出(甲)。行政院也表示基於(乙)原則，需顧及已在生產營運廠商的權益，但仍遭最高行政法院駁回，理由是法院認為執行開發許可將對環境及居民造成難以回復的損害。請問(甲)(乙)應為何者？
(A) 上訴、誠實信用原則
(B) 再審、信賴保護原則
(C) 訴願、誠實信用原則
(D) 抗告、信賴保護原則

6. 小華平日習慣以筆記紀錄「公民與社會」課程的重點，本週卻因身體不適，無法專心紀錄。下列為小華本週刑法課程的筆記內容，何者符合正確的法律概念？
- (A) 犯罪被害人可自行向法院法官提出告訴，請求代為追訴
 - (B) 在法院判決被告有罪確定之前，應該推定被告是無罪的
 - (C) 法條修改後雖對被告較有利，但仍應適用行為時的法律
 - (D) 死刑制度因人權組織的爭取，由大法官宣告違憲並廢除

7. 單一選區兩票制包含多數決制與比例代表制的混合選舉制度，是近年來許多民主國家選舉制度改革的重要趨勢。選民一票在區域選舉中選候選人，另外一票在比例代表制中選政黨，又可區分為並立制(Separated Two-Vote System)與聯立制(Compensatory Two-Vote System)兩種。假設某國國會議員共 520 席，採用混合選舉聯立制，區域與政黨比例各佔一半，表 1 是某年選舉的結果，可推得下列何種結論？

表 1

政黨	政黨得票率	區域席次
甲黨	23%	64
乙黨	37%	87
丙黨	16%	46
丁黨	24%	63

某國國會議員選舉各政黨得票率
(政黨席次採四捨五入)

- (A) 甲黨區域與政黨相加，所獲得的總席次應為 124 席
 - (B) 乙黨扣除區域席次後，應獲得的政黨席次為 98 席
 - (C) 若以此次選舉來分析，採用聯立制對丙黨較為不利
 - (D) 此次選舉若改採並立制，丁黨所獲的總席次會減少
8. 新加坡對高級文官建立嚴格選拔及培訓的體制，只有獲得人民行動黨邀請者才可能進入政府部門擔任領導人，普通平民很難通過其他民主途徑而從政。新加坡此一文官選拔方式，與下列哪一種民主理論相符？
- (A) 無論人民參與民主程度的高低，政治權力始終都是在菁英階層當中轉讓
 - (B) 透過積極與理性的參與，民主政治才能實現，公民政治知識也必能提升
 - (C) 由公民生活著手，導入民主精神，強調公民在公共決策過程中的主體性
 - (D) 人民可以有效參與公共事務，透過溝通合作等互動，追求社會公共的善
9. 監察院調查有關 95 年間行政院衛生署疾病管制局，對於 H5N1 疫苗方面，採購決策欠周延，未能加強宣導接種，以提昇疫苗使用效益；辦理 H5N1 疫苗採購案，也不符合規定，均有缺失，應檢討改進。因此監察委員依法行使其職權，提案處理此一事件。上文中監察院的處理方式，應與針對下列哪一事件所行使之職權相同？
- (A) 新聞局秘書未依公職人員財產申報法，誠實申報財產，違法失職事證明確
 - (B) 檢察總長於相關案件的調查期間，毫不避嫌的出入案件關係人之私宅聚會
 - (C) 消防署對於舊型熱水器無強制加裝排氣管之規範，影響人民生命財產安全
 - (D) 法務部調查局督察關說友人涉嫌案件，不宜再任督察，應移送法務部處理

表 2

階段	軍事衝突	和平對峙	民間交流
我國政策	1. 漢賊不兩立 2. 【甲】通過國統綱領	1. 三民主義統一中國 2. 【乙】不接觸、不談判、不妥協	1. 戒急用忍 2. 【丁】通過反分裂國家法
中共策略	1. 武力解放台灣 2. 發表「告台灣同胞書」	1. 和平統一 2. 【丙】通郵、通商、通航	1. 一國兩制 2. 你不獨、我不武，雙方互利

10. 台海兩岸分裂分治已經超過六十年，兩岸在政策上出現軍事衝突、和平對峙、民間交流三個不同階段的演變。請檢視表 2 中兩岸在不同階段政策的演變，哪些是正確的？
- (A) 甲乙
 - (B) 乙丁
 - (C) 乙丙
 - (D) 丙丁

表 3

特徵	甲	乙	丙
公共性為主	○		○
私人性為主		○	
正式影響居多			○
非正式影響居多	○	○	
營利為主		○	
非營利為主	○		○

11. 現代的公民社會呈現出國家、市場以及社會三種力量互相牽制卻又彼此依賴的治理關係。根據表 3 所顯示的對照特徵，甲、乙、丙依序代表何者？
- (A) 國家、市場、社會
(B) 社會、國家、市場
(C) 市場、國家、社會
(D) 社會、市場、國家
12. 聯合國「發展計畫署亞太區域中心」的最新報告強調，國際資本移動是導致這次全球金融海嘯擴散的重要原因。諾貝爾經濟學獎得主約瑟夫·斯蒂格利茨(Joseph Stiglitz)的最新談話也提出，新興國家應該要有能力管制來自於已開發國家的資本流入，以免資產泡沫。因為當金融體制未發展成熟時，解除對資本市場管制，將導致投機資本湧入並造成股票與房地產市場過熱。上文論述顯示出何項經濟觀點？
- (A) 國際間分工合作可以促進貿易雙方的福利
(B) 市場機能的自由運作有時會無法達到效率
(C) 每種經濟行為無可避免的都會有外部成本
(D) 經濟全球化的影響因政府介入而日益萎縮
13. 我國與中國簽訂兩岸經濟合作架構協議(ECFA)，協議內容包括商品貿易(排除關稅和非關稅障礙)、早期收穫、服務貿易、經濟合作……等。針對攸關生存關鍵之產業，可先進行互免關稅或優惠市場開放條件之協商，協商完成者先執行，這部分稱為「早期收穫(Early Harvest)」，例如石化類、電子電機產品、水泥……等產業，未來進口時，我國稅率將逐步降為零。上述早期收穫清單項目的公布與實施，短期對我國國內該相關產業的供給或需求會產生何種變化？
- (A) 供給減少，供給線往左移
(B) 供給增加，供給線往右移
(C) 需求減少，市場價格提高
(D) 需求增加，市場價格降低
14. 2009 年 G20(二十國集團)峰會與會各國同意投入 1 兆 1 千億美元的資源，以解決金融經濟危機。7500 億用以協助因金融海嘯，而陷入債務、匯率等經濟困境的國家；2500 億用來提振全球貿易；1000 億美元則給予各個國際開發銀行，作為最貧窮國家的貸款。其中最大宗的經費運用，將挹注哪一經濟組織以提供援助？
- (A) 世界銀行
(B) 世界貿易組織
(C) 國際貨幣基金
(D) 亞太經濟合作會議
15. 花蓮縣韓姓鎮民自製麻花、饅頭等食品，原本利用機車將商品批發到鎮上銷售。近年因年歲已高，只在自家門口設攤位販售。但因人手不足無暇顧攤位，就讓顧客投錢自取。開店三年多以來，發現「好人比壞人多」，幾乎都是賣了多少就收多少錢，很少短缺。依據上文，可以得到下列何項推論？
- (A) 機車送貨的方式展現其企業才能
(B) 顧客的行為顯示社會資本的價值
(C) 韓姓鎮民未利用到自然資本要素
(D) 門口所設攤位獲得的報酬為利潤

16. 在新加坡想要有一部自用小客車，要先(甲)標到車牌，因為自用車牌的數量受到控制；此外該國一般貨物關稅率只有 5%，但(乙)汽車進口關稅稅率卻為 45%。日本東京則要求車主必須先提出(丙)停車位土地證明，才能購車。我國則是隨油課徵(丁)「空氣污染費」，希望能降低自有車輛的數目。上文畫線中，哪些屬於建立財產權制度的應用？
- (A) 甲乙
(B) 丙丁
(C) 甲丙
(D) 乙丁

17-18 題為題組

風靡全美的《歌舞青春》系列電影描述，特洛伊、凱碧及同學們將從阿布奎基的高中畢業，面對即將舉辦隆重、正式的畢業舞會，同學們為了邀請舞伴、選擇禮服，而傷透了腦筋。對於茫茫未來，更抱著不同的顧慮及徬徨。例如：特洛伊與父親有相同的嗜好，支持同一個球隊，(甲)父親希望特洛伊能加入阿布奎基大學的籃球校隊，繼承其衣鉢。當特洛伊得知自己被列入獲得茱莉亞音樂學院獎學金的候選人之後，他便(乙)迷惘於籃球與戲劇間，不知道該如何選擇。而凱碧(丙)在成長過程中經歷多次離別，在阿布奎基的中學卻獲得友情與愛情，因而猶豫著自己是否要待在阿布奎基大學，或是進入頂尖的史丹佛大學。不過，所有的同學們還是(丁)決定另辦一場畢業音樂會，為高中生涯留下紀念。

17. 故事中的例子最能與下列哪一理論相符？
- (A) 甲的敘述說明個人的行為，通常會受到「重要他人」的深遠影響
(B) 乙的現象表示青少年時期正處於自動自發與退縮內疚的關鍵階段
(C) 丙的情況符合「鏡中自我」的理論，強調主我是社會互動之產物
(D) 丁的作法滿足同學們受人喜愛的潛在慾望，符合艾瑞克森的主張
18. 文中畢業前夕舉辦隆重正式畢業舞會的作法，其最主要用意為何？
- (A) 慶祝可以離家上大學，脫離父母獨立的時間分野
(B) 透過畢業舞會的儀式，呈現出生命的重要分水嶺
(C) 經由正式的舞會形式，協助做好成為公民的準備
(D) 藉由非正式教育方式，告知其應承擔的成人責任

19-20 題為題組

勞工委員會基於勞、資雙方對基本工資調整意見無共識，故參考消費物價指數、經濟成長及失業率等 3 項指標做成建議案，並於 99 年 9 月 13 日召開基本工資審議委員會，建議基本工資月薪由現行 17280 元調高到 17880 元，基本工資時薪由 95 元調到 98 元。(甲)全國產業總工會對此表示，基本工資對多數勞工來說是賴以生活的全部，微調 600 元根本不夠勞工過(乙)「最低限度合理生活」，不符憲法中對社會權的保障，亦違反「經濟、社會與文化權利國際公約」規定。請依敘述回答下列問題：

19. 文中(乙)劃線處所敘述的人權，與下列哪一權利類型不同？
- (A) 教育學習權
(B) 集會遊行權
(C) 醫療健康權
(D) 環境生態權
20. 文中(甲)劃線處的團體，屬於下列何種性質？
- (A) 符合民法中所規範的公法人
(B) 為政府諮詢意見的參考團體
(C) 是人民團體法中所定義的職業團體
(D) 與消費者文教基金會同屬社會團體

21-22 題為題組

我國民法於 99 年 5 月修正通過〈民法〉第 1059 條及第 1059 條之 1，將變更子女姓氏之原法條「子女已成年者，經父母之書面同意得變更爲父姓或母姓。」修改爲「子女已成年者，得變更爲父姓或母姓。」以及「有事實足認子女之姓氏對其有不利之影響時，父母之一方或子女得請求法院宣告變更子女之姓氏爲父姓或母姓」修改爲「有下列各款情形之一，法院得依父母之一方或子女之請求，爲子女之利益，宣告變更子女之姓氏爲父姓或母姓」。(例如父母離婚、生死不明或一方未盡教養義務之情形)請根據此資料，回答以下問題。

21. 依據上文推論，下列哪一敘述**不是**該法條修正的目的？
- (A) 尊重成年子女的公民權，賦予其自行變更姓氏之權利
 - (B) 增加舉證之難度，需能證明「爲子女之利益」始可變更
 - (C) 重視未成年子女的心理發展，以其最佳利益作爲衡量標準
 - (D) 強調父母應盡責任，作爲聲請法院宣告變更子女姓氏之事由
22. 上文的法律修訂，應依下列何項程序進行，才能正式生效？
- (A) 最高法院決議通過，請總統公布
 - (B) 行政院直接訂定並發布公告周知
 - (C) 立法院三讀通過，並經總統公布
 - (D) 大法官於釋憲文中直接修改公告

23-24 題為題組

表 4 爲我國主計處於今年 (2010) 9 月所公布之重要經濟指標統計，請同學參閱此表並回答下列問題：

表 4

年度	經濟成長率/ yoy(%)	實質 GDP/ 新台幣百萬元	平均每人 GNP/ 新台幣元	平均每人 GDP/ 新台幣元	失業率/%
95 年	5.44	12,243,471	550,099	536,442	3.91
96 年	5.98	12,975,985	577,869	563,349	3.91
97 年	0.73	13,070,904	565,846	552,164	4.14
98 年	-1.91	12,821,384	560,384	542,280	5.85
99 年	8.24	13,878,245	592,934	574,364	5.17(8 月)

註：yoy(year on year)爲對上年(同季)直接比較，2010 年僅統計至 8 月

23. 從上表中各欄經濟指標推論，下列何項敘述符合其定義或相互之間的關係？
- (A) 歷年平均每人 GNP 皆高於 GDP，足證國人深具勤儉美德
 - (B) 實質 GDP 除以全國成年人口，即爲該國之每人平均 GDP
 - (C) 99 年各項指數皆有成長，顯示我國貧富差距也漸趨向公平
 - (D) 一國 GDP 的多寡，是影響該國經濟成長率高低的主要因素
24. 從上表中關於近年經濟成長率與失業率的統計，我們可以獲得下列何項推論？
- (A) 經濟成長率的高低與失業率的高低，兩者呈現正相關的變動趨勢
 - (B) 比較 96 年與 97 年的經濟成長率，97 年的生產可能線將往內縮減
 - (C) 由 98 年經濟成長率與失業率的數據推論，該年經濟處於衰退狀況
 - (D) 99 年的經濟成長率改變之因，是因兩岸簽訂 ECFA 所產生的影響
25. 表 5 是某一次船難受難者的簡單統計，請問，此次船難最有可能發生於何地？
- (A) 十四世紀中葉的地中海
 - (B) 十五世紀初期的印度洋
 - (C) 十六世紀中葉的加勒比海
 - (D) 十七世紀初期的南海

表 5

族群	西班牙人	葡萄牙人	日本人	臥亞的穆斯林	黑人
人數(個)	6	91	69	34	少數

26. 中國某時期出現以下的現象：吳晗的《海瑞罷官》以及布萊希特的《伽利略》等劇獲准在北京上演。同時，學者召開以「比較宗教」為名的學術研討會，發表關於佛教、基督教、伊斯蘭教的相關論文。請問：這個時期應該是何人掌政？

(A) 1950-1956 年，周恩來
(B) 1962-1966 年，劉少奇
(C) 1968-1976 年，毛澤東
(D) 1978-1989 年，鄧小平

27. 王老師自製一張教學地圖（如圖 1），圖中許多地名尚未標出，這張地圖的主題最可能是：

(A) 西周勢力擴張圖
(B) 春秋五霸興衰圖
(C) 戰國七雄對抗圖
(D) 秦國征服六國圖

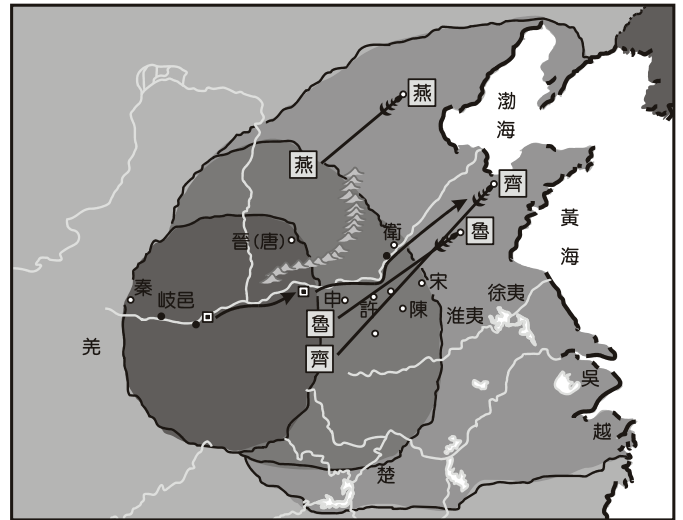


圖 1

28. 以下是某時期政府要求全國大學教授宣誓效忠的誓詞：「我發誓效忠國王，效忠其繼承者，效忠政府，絕對遵守憲法及國家法令。我發誓以訓練忠於國家與政府的勤勞誠實公民，為我從事教育與學術研究的宗旨。我發誓我絕不參與任何與我的職責相違背的團體或政黨。」請問以上誓詞最可能出現的時空背景是？
- (A) 二十世紀初英國對印度地區教授的要求
(B) 戰間期義大利法西斯政府對教授的要求
(C) 十九世紀奧匈帝國對匈牙利教授的要求
(D) 明治維新時日本對西洋學者教授的要求
29. 這一場戰爭的最後結果，教宗不滿意這個條約，許多新教徒也不滿意。對於日耳曼地區而言，這場戰爭縱然造成巨大的生命損失，但原來的社會結構並未有重大改變；政治方面主要的變化是帝國的權力更形萎縮，割據主義達到頂點。這場戰爭是？
- (A) 三十年戰爭(1618-1648)
(B) 七年戰爭(1756-1763)
(C) 拿破崙戰爭(1799-1815)
(D) 普奧戰爭(1866)
30. 學者認為：農業的出現為新石器早期的重要特徵，新石器晚期的重要特徵，則是城市的出現。浙江河姆渡遺址，年代遠早於仰韶文化，曾被視為中國最早的水稻栽培，但其稻穀遺存超過十萬斤，顯非農業初始發生的狀況，近年發現湖南玉蟾岩水稻遺存，其年代比河姆渡早幾千年。其次，中國境內的城牆遺址，在龍山文化遺址首先挖到，而 1980 年代以來，比龍山文化早約一千年的城址陸續出土，學者推斷這些城址屬於仰韶文化時期。復次，各地龍山文化遺址挖出的器物，除了新石器，金屬器也已經被使用了。上述資料，說明當考古資料逐漸增多，下列何種概念應重新檢討修正？
- (A) 各地新石器遺址原有的時代分期
(B) 各地新石器文化為多元起源的說法
(C) 新石器文化區域之間相互交流的理論
(D) 農業與城市皆起源於中國本土的見解

31. 中世紀以來，歐洲各國學者熱衷於阿拉伯語文及其文化的研究，而這些在十六世紀和十七世紀初更納入了大學課程。請問在十六、十七世紀，阿拉伯文仍受西方人矚目的原因為何？
- (A) 藉由阿拉伯文可接觸當時最先進的天文物理知識
 - (B) 學習阿拉伯文有助於進行宗教教義的爭辯
 - (C) 阿拉伯帝國勢力足以威脅歐洲列國的均勢
 - (D) 阿拉伯文是了解古典文化的重要媒介
32. 這個地區的宗教思想普遍認為人除了有一個可感覺的現世外，還有感覺不到的前世和來世，而人在這三個世界流轉。它承認個人的命運是可改變的，不過，改變的實現不是在現世而是在來世；任何試圖改變現實的一切努力皆徒勞無益，因而維持了現存的社會秩序。請問這是哪個地區的宗教思想？
- (A) 上古埃及
 - (B) 中古歐洲
 - (C) 古代印度
 - (D) 古代中國
33. 一位文學家目睹了戰爭中自己國家士兵的勇敢與貴族軍官的腐敗，也目睹了國家前線仍使用馬車運送物資時，聯軍卻已使用鐵路。戰爭失敗之後，這個國家失去了它在歐洲的霸權。有人認為這場戰爭是蒸汽機勝過風帆，鐵路勝過馬車。請問這個國家與這場戰爭指的是？
- (A) 奧國，七年戰爭
 - (B) 英國，北美獨立戰爭
 - (C) 俄國，克里米亞戰爭
 - (D) 法國，普法戰爭
34. 資料一：連橫《台灣通史》：「延平郡王入台之後，深慮部曲之忘宗國也，自倡天地會而為之首。」
資料二：陶成章〈教會源流考〉認為：「指天為父，指地為母，故又為天地會，始倡者為鄭成功。」
資料三：官方檔案中審訊清代台灣天地會黨徒口供：「天地會名目，因人生以天地為本，不過是敬天地的意思，要入這會的緣故，原為婚姻喪葬事情，可以資助錢財，與人打架，可以相幫出力。」
- 某位學者曾提出：天地會是反清復明的政治團體。閱讀上述三則資料，請選出下列選項中最合理的敘述？
- (A) 三則資料都是支持上述學者的看法
 - (B) 資料一主要是否定上述學者的看法
 - (C) 資料二認為天地會為基督教會組織
 - (D) 資料三提出天地會成因為社會救助
35. 表 6 是某個政權的軍事費用支出，與占該政權總支出的比例。依表中的數字判斷，該政權是指何者？
- (A) 台灣的總督體制
 - (B) 中國的國民政府
 - (C) 美國的聯邦政府
 - (D) 德國的威瑪共和

表 6

年度	1928-1929	1929-1930	1930-1931	1931-1932	1932-1933	1933-1934
數目（百萬）	210	245	312	304	321	373
占總支出比例	50.8	45.5	43.6	44.5	49.7	48.5

36. 下列資料是影響後藤新平在台灣推廣新政的關鍵報告：在臺灣推展文明的藝術，基於人種的情感，日籍人士絕非臺籍所能及；但傳統台籍人士又缺乏近代生理知識，流弊頗大。日籍人士因臺灣風土的關係，無法長久留任。上述資料強調下列何項措施的必要性？
- (A) 建立新式現代化的軍隊
(B) 廢止在台科學調查活動
(C) 設置以台灣人為主體的議會
(D) 開辦台籍人士新式醫學教育
37. 閱讀下列兩段資料：
- 資料一：東漢時，王景率領民工疏通下游河道，使河道順直，又截斷支流，使水流合為一股，順勢沖沙以減輕淤積，並修築新的黃河大堤。此後約 800 年時間中，河道處於比較穩定的狀態。
- 資料二：黃河中游地區，在漢唐之間發生由農變牧的過程，黃河含沙量相對減少，延緩了黃河河床淤高與改道的過程。
- 根據這兩段資料，下列解讀，何者最合理？
- (A) 黃河的水患為自然環境變化所造成，人力不可能補救，資料一解釋顯然有誤
(B) 人為的水利措施或開發行為，對黃河安流或發生水患與否，具有重要的影響
(C) 整治河患，疏導重於築堤，將黃河下游河道盡量分流以減緩流速，最能收效
(D) 黃河中游西側在漢唐時大量開發農業，引河水灌溉，有助於減輕下游的水患
38. 某個時期，有教養的人都說希臘語，即使他們不具有希臘血統；建築師和雕刻家賦予自己的作品以戲劇性和情感，科學則延續美索不達米亞天文學和數學的傳統而蓬勃發展。此時的哲學內涵主要都在提供一種屬於個人的安寧感，而非理想城邦的建構。請問「某個時期」是指？
- (A) 希臘化時期
(B) 希臘城邦時期
(C) 文藝復興時期
(D) 東羅馬帝國時期
39. 1649 年一部法典規定追捕逃亡農民無時間限制，因而確立這個國家的農奴制度；此後，農民世代被束縛於其地主的土地上，失去自由更換地主與遷徙的權利。農奴制度的形成，對這個國家而言，加強了君王的專政政體，但不利於工商業的發展。這個國家是？
- (A) 俄羅斯沙皇國
(B) 神聖羅馬帝國
(C) 法蘭西王國
(D) 拜占庭帝國

表 7

種族	數目
泰雅族	10841
賽夏族	29
布農族	2407
曹族	612
卑南族	1791
排灣族	5901
阿美族	4652

40. 表 7 資料，乃是整理台灣總督府於 1902 年到 1909 年間，對台灣原住民所作的調查報告，下列敘述何者正確？
- (A) 此為原住民的人口數目調查，主要是要徵集高砂義勇軍之用
(B) 此為原住民擁有槍隻數目，因推動理蕃計畫以開發山地資源
(C) 此為遭受屠殺的人口調查，當時爆發以泰雅族為首抗日行動
(D) 此為原住民申請更改姓名的人數，總督府獎勵高砂族日本化

41. 請閱讀下列兩段資料：

資料一：與先前游牧民族不同，近世以來的北方草原游牧民族，例如遼、金、元、清，他們在進入中原，征服漢人，建立王朝後，自覺主動抵制漢文化，從而避免被漢人同化之命運。

資料二：生存空間決定民族之生活方式，當草原游牧民族進入農業地區後，如不改變原有生活方式，必為自然環境所淘汰。遼統治華北地區百餘年，及金滅遼，視華北之契丹人如漢人；蒙古滅金，則將華北之契丹、女真及漢人，均視為「漢人」。史實俱在，何得稱「自覺主動抵制漢文化，從而避免被漢人同化之命運」？

對上述資料，下列評論何者最合理？

- (A) 資料一屬歷史解釋，資料二屬歷史事實
 - (B) 資料一屬歷史事實，資料二屬歷史解釋
 - (C) 資料一企圖建立某種歷史理論，資料二批判此種理論
 - (D) 資料二企圖建立某種歷史理論，資料一批判此種理論
42. 十九世紀中葉某場戰爭期間，為了滿足當地人們對於戰爭訊息的需求，該地發行了法文、英文、土耳其文、阿拉伯文等四種語文的報紙。請問，此地最有可能是下列何者？
- (A) 開羅
 - (B) 羅馬
 - (C) 巴黎
 - (D) 孟買
43. 有學者將此地歷史從伊斯蘭世界的創立談起，關注的焦點常是近代西歐帶來的衝擊與反應。但他們卻忽略了此地其實曾是希臘世界、羅馬世界與基督教世界的一部分，更不用談波斯與拜占庭帝國對此地的影響。請問：此地最有可能是以下何者？
- (A) 中東地區
 - (B) 中亞地區
 - (C) 巴爾幹半島
 - (D) 伊比利半島
44. 歐洲有三個主要語族：日耳曼、拉丁及斯拉夫，然而國與國的相鄰地區，分布著語言交疊區、雙語區（如波蘭地區的猶太語，東歐地區的日耳曼語，小亞細亞的希臘語）。但經由種族的交換、轉運及消滅，東歐的許多語言交疊區被一掃而空。請問造成以上改變的背景為何？
- (A) 一次大戰
 - (B) 經濟大恐慌
 - (C) 二次大戰
 - (D) 冷戰時期

45-46 題為題組

45. 以下兩段資料是對某一政治人物的不同評價：

資料一：他是一位不尋常的政治家，他使歐洲享有相對的國際和平達三十年之久；資本和企業有了大幅成長，宗教和宗教團體得到了加強和鞏固。

資料二：他實際上缺乏作為一名真正偉大的政治家所必須有的各種特性：勇氣、決心，對未來勢力的正確評估。他認為一切革命並不是起源於對經濟或政治的不滿，而是起源於秘密社團；他不理解世界上新興力量以及民族主義的觀念。

根據上述資料，下列敘述何者為宜？

- (A) 資料一反映出自由主義立場；資料二反映出社會主義立場
 - (B) 資料一反映出保守主義立場；資料二反映出自由主義立場
 - (C) 資料一反映出自由主義立場；資料二反映出民族主義立場
 - (D) 資料一反映出極權主義立場；資料二反映出自由主義立場
46. 承上題，請問這位政治人物是誰？
- (A) 拿破崙
 - (B) 俾斯麥
 - (C) 梅特涅
 - (D) 威爾遜

47-48 題為題組

47. 請問表 8，最有可能是男女人數的何種比較表？

- (A) 擔任軍職人數統計表
- (B) 全島出生人數比較表
- (C) 共黨遭受槍決死亡表
- (D) 男女留學日本人數表

表 8

	台籍女生	台籍男生
1922 年	20	727
1924 年	28	822
1926 年	26	860
1928 年	66	1339
1930 年	68	1249
1932 年	120	1507
1934 年	209	1768
1936 年	242	2115

48. 承上題，請問上述現象在 1930 年代之後激增的原因為何？

- (A) 受全球經濟大恐慌影響，共產學說蔚為風行
- (B) 重男輕女生育政策影響，政府鼓勵多生男孩
- (C) 推動日台共學後，教育風氣更趨於競爭開放
- (D) 因太平洋戰爭爆發所致，從軍風氣更加興盛

49. 喜歡蒐集地圖的曉杰，蒐集到西太平洋地區某地理現象的等值線分布圖，請根據圖 2 中資料判斷，下列敘述何者正確？

- (A) 圖 2 中等值線為等溫線
- (B) 圖 2 中等值線為等雨量線
- (C) 此時為北半球的冬季
- (D) 其等值線間距值為 4 單位

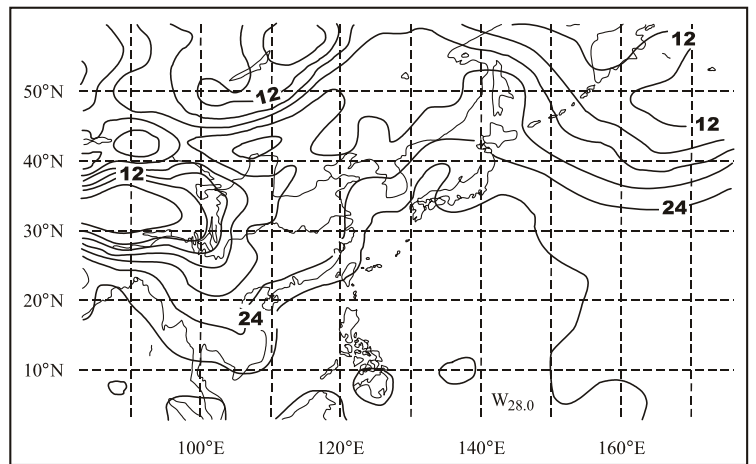


圖 2

50. 下列是楊真利用暑假到各處旅行時，所拍攝之各種地形景觀的照片，請問：下列哪一張照片中白色箭頭所指的地形類型，在臺灣地區最不可能出現？

(A)



(B)



(C)



(D)



56. 一國主要的貿易對象，呈現了國家間經濟合作依賴的緊密關係，進出口商品種類則反應了該國原料資源的豐缺或經濟發展程度的高低。表 9 為某國 2008 年主要的進出口貿易對象，表 10 為該國同一年主要的進出口商品。該國最可能為下列哪個國家？
- (A) 澳洲
(B) 巴西
(C) 印尼
(D) 沙烏地阿拉伯

表 9

主要貿易國家	
進口	新加坡、中國、日本、馬來西亞、美國、南韓
出口	日本、美國、新加坡、中國、南韓、印度

表 10

主要貿易商品	
進口	輕油及其配製品、石油原油、機動車輛之零件及附件、鐵或非合金鋼半製品、小麥或雜麥、有線電話、類比或混合自動資料處理機、載貨用機動車輛、無線電廣播接收/傳輸器具、熱軋之鐵或非合金鋼扁軋製品
出口	天然氣、石油原油、棕櫚油、煤、天然橡膠乳膠、銅礦石、石油殘餘物、椰子油、棕櫚仁油、錫、紙及紙板

57. 沙烏地阿拉伯、伊朗、伊拉克等國，石油生產量及蘊藏量都非常可觀。本區石油蘊藏量極為豐富，和形成之初的哪一項地質條件關係最密切？
- (A) 為新褶曲山地
(B) 主要是屬於古陸塊
(C) 曾發生地殼變動而形成背斜構造
(D) 沿海陸地過去皆為大型沉積盆地
58. 為了表示一地的絕對位置，必須仰賴適當的座標系統。請問：下列關於座標系統的敘述，哪些是正確的？
- 甲、在大比例尺地圖中，使用經緯度來表示位置比圖網方格更適合；
乙、臺灣經建版 1：25,000 地形圖中，橫座標值 263 其單位為公里；
丙、在橫麥卡托二度分帶網格中，右上角的數值代表該網格的座標；
丁、隨著緯度的增加，實際上緯度 1 度差所夾的經線長度，也隨之變長。
- (A) 甲乙
(B) 乙丙
(C) 丙丁
(D) 乙丁
59. 利用地理資訊系統進行疊圖分析前，必須針對哪些地圖要素進行校正、轉換後，才能夠順利且正確的將兩張不同的地圖重疊以進行分析？
- 甲、圖例；乙、方向標；丙、比例尺；丁、座標系統；戊、投影方法。
- (A) 甲乙丙
(B) 甲乙丁
(C) 乙丙戊
(D) 丙丁戊

60. 圖 6 為臺灣某地的衛星影像圖，由堤防的長度、方向來判斷，影響本區主要的沿岸流流向為何？
- (A) 由西向東
 - (B) 由東北向西南
 - (C) 由西南向東北
 - (D) 由西北向東南



圖 6

61. 圖 7 為臺灣某地的衛星影像圖，圖中粗虛線所標示的區塊，最可能是哪一種地形？
- (A) 沙丘
 - (B) 沙洲
 - (C) 潮埔
 - (D) 河階



圖 7

62-64 題為題組

「屏東縣『黑珍珠』蓮霧崛起於民國 60 年代，原先以林邊鄉為多，70 年代迅速帶動枋寮、佳冬、南州種植風氣。80 年代種植面積已超過 7 千公頃，年產值超過 30 億元。南州鄉目前栽植面積約 700 公頃，居全縣第二且年年激增。第一產銷班 16 位成員原栽種 16 公頃，近幾年來又增加 6 公頃。87 年開始外銷香港，當時裝箱係以報紙作為填充物，蓮霧沾上油墨味，風味盡失。後改用不織布作為內襯包裝，外以塑膠套袋雙層包裝，並在農改場技術支援下，掌握更精準的保鮮技術。除了推展外銷，近年也致力於創立『甜蜜果』品牌，名氣日盛。目前外銷採用依色澤區分為 6 級，大小區分 4 級。蓮霧栽培技術進展極快，第一產銷班成員之間，隨時進行技術交流。」請根據上文回答下列各題：

62. 黑珍珠蓮霧外銷分級包裝，類似現代工業生產的哪一項特徵？
- (A) 規格化
 - (B) 標準化
 - (C) 專業化
 - (D) 自動化
63. 根據上文的敘述，南州黑珍珠蓮霧外銷成功主要的關鍵因素為何？
- (A) 大量生產，降低成本
 - (B) 知識經濟，提升技術
 - (C) 生產連鎖，垂直分工
 - (D) 政策輔導，加入 WTO

64. 南州蓮霧產銷班農民運用了某些類似現代工業的生產策略，保障了收益。
如：甲、擴大市場；乙、擴大規模；丙、自創品牌；丁、全球分工；戊、重視技術研發。
正確的選項為何？
- (A) 甲乙丙丁 (B) 甲乙丙戊
(C) 甲乙丁戊 (D) 乙丙丁戊

65-66 題為題組

圖 8 為利用世界銀行 2008 年的統計資料所繪製之散布圖，圖中代號所代表的國家包括美國、日本、南韓、印度、巴西、俄羅斯與中國。請問下列各題：

65. 經濟發展潛力雄厚的金磚四國，依中國、印度、巴西、俄羅斯排列，正確的代碼順序為何？
- (A) 乙丁丙戊
(B) 乙丙戊己
(C) 丙丁乙戊
(D) 庚丁丙己

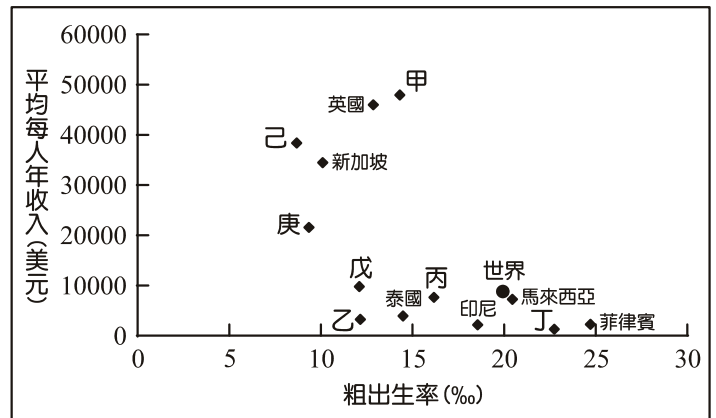


圖 8

66. 對於此散布圖的分析，下列哪一項是正確的？
- (A) 新興工業化國家人口轉型皆處於低穩定階段
(B) 粗出生率與平均每人年收入約成正比的關係
(C) 低出生率國家的人民通常也具有較高的年收入
(D) 高出生率國家的人民通常收入較世界平均值低

67-68 題為題組

美國是世界人口數第三大的國家，2010 年時已達 3 億 1023 萬人。除了相當可觀的自然增加之外，美國也是移民者的天堂。十六世紀以來，來自世界各地的大量移民，促使人口快速擴張，並造就了多元文化與高度經濟成長，美國因而被稱為民族熔爐或民族拼盤。請問下列各題：

67. 表 11 是四個國家的出生率和死亡率
資料(CIA 2010 年發布)，其中哪一個國家是美國？

- (A) 甲
(B) 乙
(C) 丙
(D) 丁

表 11

	甲	乙	丙	丁
出生率(‰)	8.01	9.56	10.43	13.83
死亡率(‰)	10.83	8.65	11.91	8.38

68. 在美國的各項經濟發展和文化景觀中，下列何者與亞洲移民的關係最密切？
- (A) 國內橫貫鐵路的興建
(B) 聖地牙哥的地名由來
(C) 南部各州的棉花種植
(D) 紐奧爾良的爵士音樂

69-70 題為題組

歷經兩次世界大戰後，人類發現國家必須互相結盟，互通有無，利益均沾，才能提升競爭力。因此，各國基於地緣、社會文化、經濟、政治、軍事與安全上的考量，打破國界、政區的束縛，建立聯繫關係，形成國家結盟，組成國際組織。圖 9 為四個國際組織的標誌，請回答下列各題：



圖 9

69. 非洲國家完全沒有參與的是哪些國際組織？

- (A) 甲乙丙
- (B) 乙丙丁
- (C) 甲丙丁
- (D) 甲乙丁

70. 非洲各國被殖民時，即以礦產資源的開採和發展熱帶栽培業為主要經濟活動。獨立以後，依然具有濃厚的依賴式經濟色彩。以進出口貿易額而言，今天非洲各國對哪一個國際組織的依賴程度最深？

- (A) 甲
- (B) 乙
- (C) 丙
- (D) 丁




71-72 題為題組

巴勒斯坦濱臨地中海，雨水尚稱豐富，加上約旦河流經，適合農耕，宗教經典中將其形容為「流著奶與蜜之地」，居住在此的人認定此地為被「應許之地」，因而發展出世界上最古老的一神教並建立國家。請問下列各題：

71. 上文中的「應許之地」，因為有明顯的降雨，使環境負載力高於周圍的荒漠。該地降雨的月份，和下列哪一個地區最為一致？

- (A) 智利中部
- (B) 巴西高原
- (C) 南非西南部
- (D) 中美地峽西岸

72. 創立於此地且歷史悠久的古老一神教，其宗教建築上可以見到下列何種標誌？

- (A) 
- (B) 
- (C) 
- (D) 