



# 全國公私立高級中學

一〇〇學年度學科能力測驗第一次聯合模擬考試

考試日期：100年7月25~26日



## 社會考科

—作答注意事項—

考試時間：100分鐘

題型題數：

- 單選題共 72 題

作答方式：

- 用 2B 鉛筆在「答案卡」上作答，修正時應以橡皮擦拭，切勿使用修正液(帶)。



祝考試順利



7. 美國咖啡連鎖店的龍頭星巴克(Starbucks)曾於 2007 年創下新開 2571 家店面的記錄，但因經濟衰退的影響而受創。其執行長決定停止繼續擴張店面，並著手將咖啡和服務多樣化，以迎合各個地區客人的喜好。例如在美國南部的店面著重冷飲的提供、東北部的店面則著重於滴漏咖啡等。請問星巴克所採取的措施是屬於何種文化變遷的現象？

(A) 文化順應 (B) 文化衝突 (C) 文化競爭 (D) 文化同化

8. 表(一)為近六年來外籍配偶子女就讀國中小學人數統計表，根據表中資料研判，下列何者正確：

(A) 外籍配偶的平均生育子女數高於國人  
(B) 跨國婚姻家庭在我國有大幅度成長的趨勢  
(C) 跨國婚姻家庭成為我國家庭型態的主流趨勢  
(D) 外籍配偶所生子女的平均受教育年限低於國民義務教育

表(一)

年度	國小	國中	總計
94	53,334	6,924	60,258
95	70,797	9,370	80,167
96	90,959	12,628	103,587
97	113,182	16,735	129,917
98	133,272	22,054	155,326
99	148,610	27,763	176,373

9. 電影「浩劫重生」敘述一個快遞員因飛機失事而獨自在孤島生活一千多天，最後獲救重回現實生活的故事。雖然電影中的主角是一個人生活，但他撿到足球後，將其創造成「威爾森」這號「人物」並與它互動。根據心理學家研究顯示，人是無法長時間被隔離在人群之外，而是需要和他人接觸，並產生親密關係。下列關於親密關係的敘述，何者正確？

(A) 在親密關係中，兩人之間的互相影響力有限  
(B) 親密關係一定具有血緣關係，而且是發生在人與人之間  
(C) 親密關係的兩人互動維持一段相當長的時間，而且相當頻繁  
(D) 兩人互動的範圍若都是同種類的活動，代表兩人的親密關係程度愈高

10. 近年來校園霸凌事件層出不窮，根據調查發現，過半數的學生會擔心校園安全，其原因包含暴力、被偷或被搶及性侵害等，突顯校園霸凌問題的嚴重性。探究這些青少年校園霸凌行為形成的原因，依據下列學者的論點，何者配對正確？

(A) 艾瑞克森認為青少年的偏差行為是由於自我認同不順利所造成  
(B) 米德認為青少年來自缺乏關注的家庭，使其較無安全感而產生逃避型依附  
(C) 顧里認為青少年的個人性格較為激動易怒，主要應與兒童時期的發展經驗有關  
(D) 佛洛伊德認為社會暴戾之氣的環境與傳播媒體的過度渲染，對青少年的行為產生極大的影響

### 11-12 題為題組

家庭暴力是指家庭成員間實施身體上或精神上不法侵害之行為。表(二)為近六年家庭暴力事件通報被害人總數，發現通報件數有直線上升的趨勢。為防治家庭暴力行為、保障被害人權益，我國於民國 87 年 6 月 24 日公布「家庭暴力防治法」，隨後設立 113 全國婦幼保護專線，促使通報管道深入民間，並統合政府資源成立「家庭暴力及性侵害防治委員會」，積極協調教育、社政、警政、司法、衛生、醫療院所等相關單位，共同建立制度化之通報體系以加強個案管理。請回答 11-12 題：

表(二)

家庭暴力事件通報被害人總數	
94 年	60965
95 年	63274
96 年	68421
97 年	75438
98 年	83728
99 年	98720

11. 根據上文敘述，下列哪些屬於家庭暴力行爲？  
(甲)小志經常遭父親的同居女友拳打腳踢  
(乙)小英的婆婆三不五時對她吼叫及言語羞辱  
(丙)小娟因無法忍受丈夫睡覺一直打呼而選擇離婚  
(丁)小明的爸爸要求小明期末考必須考 90 分以上，否則暑假必須關在房間裡不准出門  
(戊)媽媽因小華不寫功課而嚴厲斥責他，導致小華非常委屈  
(A) 甲乙丙 (B) 甲乙丁 (C) 甲丁戊 (D) 乙丁戊
12. 一名不識字婦女結婚卅年，被丈夫痛打五十多次，即使離婚還甩不掉前惡夫，繼續忍耐被施以棍棒，直到最近實在受不了了，才在兒子陪同下鼓起勇氣報案。請問這位婦女可向哪個單位申請民事保護令？  
(A) 警察局 (B) 社會局  
(C) 普通法院 (D) 家庭暴力及性侵害防治委員會

13-14 題爲題組

美國紐約和華爾街的大型金融機構中，因爲女性比例較低，常會爆出性別歧視的醜聞。2004 年美國某間銀行被判決支付 540 萬美元給 300 名參與訴訟的女員工，創下性別歧視案例的賠償金額最高紀錄。一名銷售員描述公司在工作升遷、獎金分配上都存在性別歧視行爲，不僅派女員工前往脫衣俱樂部談生意或與客戶應酬，甚至女員工生日時還會被送上乳房形狀的蛋糕，而這些行爲在該銀行非常普遍。請回答 13-14 題：

13. 公司這種讓女員工前往脫衣俱樂部及在女員工生日送乳房形狀蛋糕的舉動，是屬於哪種型態的性騷擾？  
(A) 交換利益性騷擾 (B) 濫用權力的性騷擾  
(C) 男性霸權性騷擾 (D) 敵意環境性騷擾
14. 下列對於性騷擾觀念的敘述，何者正確？  
(A) 從文中推論，被性騷擾的女員工應多爲年輕貌美的女性上班族  
(B) 即使是女上司派員工去脫衣俱樂部談生意，也是性騷擾的一種  
(C) 爲保障工作飯碗，女員工對公司提起訴訟是非常不明智的作法  
(D) 女性工作升遷與獎金皆不如男員工，這屬於性騷擾中的性挑逗

15-16 題爲題組

近年來盛行網路購物，尤其以食品類商品最受消費者的青睞。不過消基會對去年十大宅配美食風雲店家進行調查，結果發現四家業者訂有各種不利於消費者的條款。其中業者說，如果發現物品有損壞或數量短少時，必須當天立刻打電話告知，隔天再告知就無法處理。甚至有業者說，因爲所生產的熟食產品都是客製化新品，因此不享有一般商品鑑賞期和退貨退款的服務。消基會認爲，這些規定都是不合理、也對消費者不利，甚至消費者不知道這種禁止退換貨的規定是抵觸消保法，是無效的。消基會呼籲主管機關應加強查核業者使用的契約內容，替消費者把關。請回答 15-16 題：

15. 根據上述新聞，消基會所扮演的角色爲何？  
(A) 補充市場效率不足的志願團體 (B) 挑戰政府公權力的非政府組織  
(C) 受政府委託對抗市場的第三部門 (D) 補充市場與政府功能不足的非營利組織

16. 消基會的成立起源於民國 68 年，當時曾發生嚴重的「多氯聯苯受害事件」，受害者多達 2 千人，且大多屬經濟上的弱者；同年底又發生「假酒事件」，有教授因飲到假酒而失明。一群社會熱心的人士及學者專家，有感於消費者的弱勢，認為有加以保護的必要而發起，在獲得教育部核准後，向台北地方法院辦理登記。請問消基會所依據的法律以及組織類型為何？
- (A) 民法；財團法人 (B) 人民團體法；社會團體  
(C) 民法；社團法人 (D) 人民團體法；職業團體

### 17-19 題為題組

從搶救樂生運動、大埔農民抗爭、中科三四期抗爭到反國光石化運動，台灣公民社會不斷捲入新生進步力量，而彰化高中生的加入，更彰顯台灣新世代對於環境保護、社會改革的意志與行動力。「走過國光，我們體認到年輕人投入社會運動，並不是不可能的！」全國青年反國光聯盟成員、台灣大學法律所學生陳平軒感觸良多。…過去的一年內，他們軟硬兼施，設法讓更多人知道國光石化的「真相」。錄製的《青年反國光戰歌》與《白海豚之歌》在網路上不斷被轉貼，點閱人數屢屢破萬。…青年反國光聯盟成員、台大城鄉所學生許博任說，不要小看青年自主參與的能力，不一定要走上街頭，在網路上用很簡單工具技術，就能創造出影響力，絲毫不遜主流媒體。日前發起校園反國光石化行動的彰化高中三年級學生蕭宇泰指出，看不慣政府口說環保、卻又要硬推高汙染產業，於是號召同學組成「彰中反國光聯盟」，隨即獲得數百名同學認同響應，也成了這次反國光運動中，一支不可忽視的力量。請回答 17-19 題：

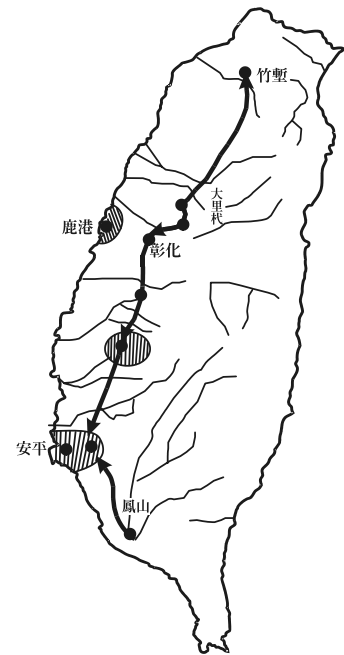
17. 根據上文研判，其主旨應為下列何者？
- (A) 學生自主發起社會運動，顯見學校教育的成功  
(B) 隨著社會變遷，人民以民主的方式督促政府立法  
(C) 環境保護需要人人自覺，並透過教育來強化公共倫理的重要性  
(D) 藉由公民參與行動表達對破壞環保產業的反彈，強調公民社會的力量
18. 由大學生組成的「全國青年反國光聯盟」，針對國光石化欲在彰化設廠的議題發起一波波的社會運動，希望政府與社會可以重視環境及生態的永續發展。下列對於社會運動的敘述，何者正確？
- (A) 社會運動對於社會現狀的改變力量薄弱  
(B) 有明確目標及計畫的社會運動一定可以成功  
(C) 愈多人投入社會運動可引起大眾對某一問題的重視  
(D) 由於社會運動不利於社會秩序的穩定，故需嚴加取締
19. 這次反國光運動，青年學子不只是走上街頭，更透過網路為弱勢發聲，強調國光石化蓋在彰化不僅使當地漁民的生存受到威脅，更影響人民的健康。這種以網路做為號召的影響力不亞於主流媒體，可顯示網際網路在社會運動中的何種功能？
- (A) 解決大眾資源社會階層化問題  
(B) 提供最迅速確實的第一手訊息  
(C) 減少人際衝突並提升互動的品質  
(D) 提供弱勢團體連結爭取權益的機會

20. 內政部近日研擬提高公務人員結婚獎金，最高將有可能領到 20 萬元。此外，內政部主動當起月老，找科技公司單身員工舉辦交友活動。請問：內政部提出這些措施的主要背景應為下列何者？
- (A) 台灣的婚姻斜坡問題愈趨嚴重，造成結婚率下降  
(B) 台灣的跨國婚姻人數逐年增加，造成新台灣之子的問題  
(C) 台灣的結婚人數及新生兒人數逐年下降，擔憂人口結構迅速老化  
(D) 台灣的單身人口越來越多，不婚且不生育的問題會影響國際聲望
21. 英文一向是世界上的強勢語言，但近年來政府也在推動中學生學習英、日語以外的第二外語，此種政策是在顯示出語言的何種特色？
- (A) 語言是個人身分的表徵  
(B) 語言可以累積文化  
(C) 語言是社會溝通的媒介  
(D) 語言可以傳承文化
22. 「公民社會」一詞主要強調人民自動自發地對公共事務表示關心，並以積極的行動，理性參與公共事務的討論、溝通、實踐以尋求共識。下列哪一項行動符合「公民社會」的內涵？
- (A) 英國人民高度關注威廉王子與凱特的婚禮，兩人的婚姻獲得多數民眾的認同  
(B) 鴻海公司召開股東大會，會議中各股東紛紛主動對公司未來營運的策略給予建議  
(C) 社區民眾擺攤設置跳蚤市場，販賣所得將全數捐給流浪動物協會，為流浪動物盡一份心力  
(D) 「2100 全民開講」節目開放現場 call in，針對台灣是否應該與中國簽署 ECFA 議題，民眾熱烈參與討論
23. 根據媒體報導：「美國加州等三州在 2008 年 11 月 4 日通過禁止同志婚姻的〈第八號公投案〉，這項公投結果對美國宗教組織與保守派人士來說，無疑是一大勝利，如今，美國只剩下麻薩諸塞州與康乃狄克州允許同志婚姻，加州是第一個讓同志合法完婚後，再否定其合法性的州」。請問：加州等三州的公投結果可說是何種社會現象之展現？
- (A) 性別歧視  
(B) 性別角色  
(C) 性別多元化  
(D) 異性戀霸權
24. 尖尖與方方兩人相約逛街，走在路上不斷地覺得周遭的人都在關注他們，於是他們小心翼翼的維持髮型，互相提醒頭髮有沒有被風吹亂，並且無時無刻露出迷人的笑容。請問這樣的情形，是屬於何種自我中心的概念的表現？
- (A) 自我迷戀  
(B) 個人傳奇  
(C) 假想觀眾  
(D) 成就幻想
25. 台灣某個史前時代的遺址，其聚落甚小，通常位於河口或近於海岸的階地、台地上，居民以狩獵和漁撈營生，也採集野生植物種子、果實和其纖維，可能已經有種植芋頭、薯類等根莖類作物的初級農業。從比較研究推測，這個文化的主人可能是南島語系民族的祖先，而台灣的原住民正是南島語族的一支。有關這個史前時代的遺址，下列敘述何者正確？
- (A) 這個遺址應屬於新石器時代中期  
(B) 這個文化與長濱文化是同一種人群  
(C) 這個文化又可稱為「粗繩紋陶文化」  
(D) 這時期各文化之間已有互動與交流
26. 近十年來，在原住民正名運動的努力下，陸續有五個族群獲得行政院的可認而得到正名，依次是(甲)邵族；(乙)噶瑪蘭族；(丙)太魯閣族；(丁)撒奇萊雅族；(戊)賽德克族。請問：其中有哪幾個族群原本是被歸類在泰雅族之中，而後獲得正名的？
- (A) 丙戊  
(B) 甲丙丁  
(C) 乙丙戊  
(D) 丙丁戊

27. 某報紙云：「高雄縣甲仙鄉小林村，在八八水災時慘遭土石滅村。在往年，每年九月十五日登場的平埔夜祭，是小林村重要的祭典，從未因為任何因素停辦過一次。夜祭儀式中，族人向公廨番太祖上香，趁夜幕低垂，在尪姨帶領下，眾人牽手繞圈、吟唱牽曲，踩著四步舞祭祀祖靈，這些今後將成為絕響了。」從這段報導來判斷，小林村應是平埔族中的哪一個族群？
- (A) 噶瑪蘭族            (B) 西拉雅族            (C) 洪雅族            (D) 凱達格蘭族
28. 明代有一篇文獻〈粵劍編〉中云：「辛丑(明萬曆二十九年，1601年)九月間，有二夷舟至香山澳(即澳門)。通事者也不知何國人。人呼之為紅毛鬼。其人鬚髮皆赤，目睛圓，長丈許。其舟甚巨，外以銅葉裹之，入水二丈。香山澳夷(指占留澳門的佛朗機人)慮其以互市爭澳，以兵逐之。其舟移入大洋後為颶風飄去，不知所適。」請問：此文所謂「紅毛鬼」指的是何國人，而他們被逐出澳門之後，轉往何處發展？
- (A) 西班牙、馬尼拉            (B) 西班牙、雞籠  
(C) 荷蘭、大員            (D) 荷蘭、澎湖
29. 某政權曾發表如下的諭令：「承天府安平鎮，本藩暫建都於此，文武各官及總鎮大小將領及家眷，暫住於此。隨人多少圈地，永為世業，以佃以漁，及政商取一時之利；但不許混圈土民及百姓現耕田地。」關於此諭令，其時代背景是：
- (A) 荷蘭東印度公司佔領台灣，徵收土地以為「王田」  
(B) 鄭成功驅走荷蘭人之後，以軍屯、官墾及民墾的方式開發地利  
(C) 施琅攻下台灣後，清朝給予施家開墾台灣土地之特權  
(D) 朱一貴起事後，為討好部眾所頒布的諭令
30. 荷蘭佔領台灣後，以台灣作為國際貿易轉運站，其主要貿易對象為東亞大陸、日本和南洋，並從中獲取極大的利潤。台灣商館是荷蘭在亞洲所設的 19 個商館中，獲利僅次於日本的商館。我們若要了解當時台灣的貿易情況，下列哪幾本書是最直接的第一手史料？
- (甲)《裨海紀遊》；(乙)《新港文書》；(丙)《巴達維亞城日記》；(丁)〈東番記〉；  
(戊)《熱蘭遮城日誌》
- (A) 甲乙丙            (B) 乙丙戊  
(C) 丙丁戊            (D) 丙戊
31. 有一首〈偷渡詩〉描寫偷渡來台的悲慘：「纍纍何為者，西來偷渡人。銀鐺雜貫索，一隊一酸辛。嗟汝為饑驅……登岸禍及身……汝愚乃至斯，我欲淚沾巾。哀哉此厲禁，犯者仍頻頻……」請問：此詩的背景最可能是何時？
- (A) 明鄭時期            (B) 清領初期  
(C) 日治時期            (D) 現今兩岸
32. 某生在網路書局找到一本書，書名是《近代東亞變局中的□□□》，其內容簡介提到□□□是臺灣史上第一位思想家。他的一生多采多姿，除了面臨東西文化的強烈激盪之外，也經歷了清廷將臺灣割讓給日本的重大的歷史轉折，使他從「棄地遺民」成為「日籍華人」。他初為英商買辦，後自營茶業致富，身為虔誠的基督徒，他力抗當時中國知識界的主流，嚴厲批判達爾文、赫胥黎等人的「進化論」。請問：此書所研究的對象有可能是誰？
- (A) 陳中和            (B) 李春生  
(C) 林維源            (D) 陳福謙

33. 圖(一)是清代發生在台灣的一場民變示意圖，圖中直線為反抗清軍的活動路線，黑色網點區表示其未攻占區域。關於此事的描述，何者正確？

- (A) 此事發生之因主要是不肖地方官員利用職權橫徵暴斂，引起普遍不滿
- (B) 起事者建立政權，並圍攻府城，聲勢大振，清廷前後費時一年多才平定
- (C) 時值清廷正與太平天國交戰，無力理會，因此初期清朝僅能依靠台灣當地的土豪鄉勇勢力與之抵抗
- (D) 當時幸有六堆客家人組成義民軍與之對抗，終究結束這場民變



圖(一)

34. 資料一：「台灣移墾社會的轉型，主要是一種內地化運動，變遷的歷程是由移墾社會轉變為中國本部的傳統社會。」

資料二：「清代台灣漢人社會的發展模式是土著化，土著化的結果是台灣社會與中國本土社會逐漸疏離。」

關於上述兩則資料，應該如何解讀？

- (A) 兩段資料之所以互相矛盾，主要是資料一著重於清領前期，資料二偏向清領後期
- (B) 以「西皮與福祿之爭」來印證資料一最貼切
- (C) 「金門不認同安，台灣不認唐山」是印證資料二的最佳俗諺
- (D) 兩者皆屬歷史事實，只是切入點不同，故說法有異

35. 某生為了寫報告，正在閱讀一本地方誌中的竹枝詞：「百樣艱難百樣人，但為製棹最艱辛，只貪利藪如山大，無驚生番無顧身。」由此內容判斷，此份報告的題目最有可能是？

- (A) 台灣茶業之發展史
- (B) 淺談台灣糖廊之轉型
- (C) 論清代開山撫番的得與失
- (D) 台灣三寶之腦丁血淚史

36. 資料一：「曩者□□人犯順，罷兵議撫，准其通商。而不通商之地，則不許登岸，違者送其領事治罪，此人人共知者，臺灣非該夷應至之地。我等知朝廷寬大，許其和約，不與抗拒，非畏之也。彼既俯首恭，我等豈敢生事？」

資料二：「□□在淡水、安平、打狗三地設立領事館。1866年駐在安平、打狗的外籍人數有14人，□□佔了11人。駐在淡水、基隆的外籍人數有12人，□□佔九人。」

請問：何事導致從資料一演變到資料二的結果？兩段資料的□□，應是哪一國？

- (A) 英法聯軍；英國
- (B) 羅妹號事件；美國
- (C) 牡丹社事件；日本
- (D) 中法戰爭；法國



37. 歷史課堂中，有五位學生曾針對「日治前期台灣的殖民統治特色」議題進行討論，其中，在述及「兒玉—後藤時期」之政績時，各有所主張：
- 甲生：總督府曾依據「六三法」，頒布「保甲條例」及「匪徒刑罰令」，對台灣社會治安進行嚴格控制。
- 乙生：總督府在頒布「台灣土地調查規則」後，不但清理出大量的隱田，使稅收大為增加，亦針對清代「一田二主」的租佃關係進行整頓，確立大租戶為真正的土地所有權人。
- 丙生：在交通建設方面，闢建基隆港、完成基隆至高雄的南北縱貫鐵路。
- 丁生：創立台灣銀行，除發行「台灣銀行券」逐漸統一台灣貨幣外，並直接或間接的支配台灣糖業、茶葉、樟腦……等產業。
- 戊生：透過「台灣拓殖株式會社」，對台灣產業進行壟斷性操控，並以其作為對南洋及華南地區經濟擴張的統籌機構。
- 以上五位學生之敘述，正確的有？
- (A) 甲丁                      (B) 丙戊                      (C) 甲乙丁                      (D) 乙丙戊
38. 日治時期台灣的產業發展與對外貿易，充滿著濃厚的「依附型殖民地性格」，其表現主要是反映在？
- (A) 在米、糖商品化的過程中，其加工與銷售完全操控在日本資本家手中，幾乎看不到台灣資本家式的經營
- (B) 米、糖商品化的經濟發展過程中，因總督府實施「原料採取區域制」剝削蔗農，使得 1920、1930 年代的台灣中北部地區出現了日趨嚴重的「米糖相剋」問題
- (C) 台灣的對外貿易呈現出對日本高度依賴的現象，台灣的對日輸出品以農產品或農產加工品為主，輸入品則以日本的工業製品為主
- (D) 日治初期，台灣的對外貿易仍以中國大陸為主，迨日本對台統治基礎確立後，台灣的對外貿易則轉為對日、對中國貿易並重之現象
39. 東東在翻閱「台灣史小事典」時，看到了兩則有關日治時期台灣總督之重要事蹟介紹，摘錄了其中一部分之敘述如下：
- 資料一：「□□□日本長州藩武士之子……明治 5 年當上陸軍上尉，2 年後他參加日本出兵台灣之役，以中校階級帶兵攻打牡丹社……當上台灣總督之後，一改過去以綏撫為主的理番政策，實施嚴厲的武裝鎮壓。尤其是在「五年理番計畫」中，仍以 70 歲高齡親自披掛上陣，動員強大的兵力血腥鎮壓太魯閣番……」
- 資料二：「□□□福島武士之子……昭和 4 年被任命為台灣總督，昭和 5 年台中州霧社發生原住民反叛的霧社事件，與總務長官於次年雙雙引咎辭職」
- 上文中資料一及資料二所提及之總督，應分別是？
- (A) 佐久間左馬太、石塚英藏                      (B) 樺山資紀、桂太郎
- (C) 田健治郎、安藤利吉                      (D) 小林躋造、乃木希典
40. 生活在 1930 年代的台灣學子，在校園生活中可能會經歷哪一史事？
- (A) 在公學校中完成六年的義務教育
- (B) 適值「國民學校令」頒布，全台的小學校、公學校都改稱為「國民學校」
- (C) 可以在中等學校看到看到日、台共學的現象
- (D) 總督府提倡高等教育，鼓勵台灣學子進入台北帝國大學鑽研法政科或習醫濟世



45. 歐里出生於 1978 年的臺灣，請問：在他的成長歷程中可能見證哪一項台灣經濟發展政策？
- (A) 他出生前幾年，祖父因為政府開始推行「耕者有其田」政策，而喪失大片土地所有權，家道開始中落
- (B) 他出生後幾年，剛好趕上「經濟起飛」，臺灣採「出口擴張」政策，父親白手起家創業成功
- (C) 他在就讀國小時，當時行政院長蔣經國以「今天不做，明天就會後悔」的口號，鼓勵全民支持建設
- (D) 他大學畢業後，順利進入新竹科學園區，從事科技研發工作

46. 在 1950 年代和 1970 年代，政府皆採取「進口替代政策」作為經濟發展的主軸。請問：此二階段發展重心有何不同？請選出正確的選項。

		1950 年代	1970 年代
(A)	發展主軸	以農業發展工業	以工業保障農業
(B)	產業	民生輕工業	石化重工業
(C)	外來刺激	工業化國家工資上漲	石油危機
(D)	策略	提高關稅	取消關稅限制

47. 妞妞在書上看到一段對台灣某一時期的描述：「從歷史的縱線觀察，這個時期是台灣政治社會的轉型年代，可稱是自政府播遷台灣以來，在政治、社會方面最具突破性發展的時刻。而這些突破性的發展，與多年來不斷對當局施加批判、向政治禁忌提出挑戰的黨外運動相關，隨著政治趨向開放，以及禁忌的紛紛突破，全面開放似已成為社會的心聲，蓄積已久的社會運動潛力正如開閘之水，一時之間放肆奔流。街頭頓然熱鬧起來，這種現象是台灣四十年來所罕見，都在這個『突破與開放』的關鍵年代裡衝放出來」，請問：文中所指的「關鍵年代」應該是指何時？

- (A) 1977~1979年 (B) 1986~1987年  
(C) 1990~1991年 (D) 2000~2008年

48. 請閱讀下述三則資料，選出正確的敘述：

資料一：「這些新一代的作者沒有機會接觸到較早時代的作品，因為魯迅、茅盾及其他左翼作家的作品全遭封禁，因此不論事實需要上面，或在本身意識的強烈驅使下，這些作家只好轉向內在、心靈方面的探索……」


資料二：「這個時期以詩歌為發端，以小說的興盛而進入全盛期，……當時台灣社會轉型、經濟起飛、西風吹入，傳統價值取向和倫理觀念受到懷疑和衝擊。故以現實主義為主引進外來主題突破文化傳統……」

資料三：「回國半個月，見到許多文友，大家最驚心的一個話題是工農兵的文藝，台灣已經有人在公然提倡了……所謂工農兵文藝正是配合階級鬥爭的一種文藝，政治才是目的，文藝云云不過是一種手段……那些工農兵文藝工作者立刻會嚷起來，這是戴帽子說真話的時候已經來到，不見狼而叫狼來了是自擾，見狼而不叫狼來了是膽怯。問題不在帽子，在頭。」

- (A) 此三則資料依先後次序，分別代表 1940、1950、1960 年代，台灣藝文發展的特色
- (B) 資料一所陳述的「這些新一代作者」以琦君、司馬中原為代表
- (C) 資料二的背景之下，產生了如黃春明等社會關懷創作者
- (D) 資料三中的「工農兵文藝」是對鄉土文學的批評

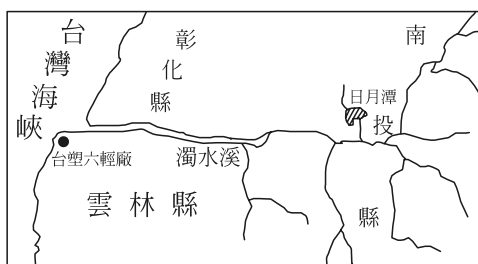
49. 下列有關溫帶地中海型、溫帶海洋性和溫帶大陸性三種溫帶濕潤氣候的敘述中，何者正確？
- (A) 地中海型氣候的年溫差最大
  - (B) 溫帶大陸性氣候夏雨集中率最高
  - (C) 溫帶海洋性氣候區的鋒面雨多出現在春夏之際
  - (D) 溫帶大陸性氣候區的年雨量變率最小

50. 圖(二)為馬特洪峯，它被著名的三角巧克力(TOBLERONE)選為品牌包裝標誌(右側小圖)。請問其特殊的形狀與下列哪一種地形作用有關？

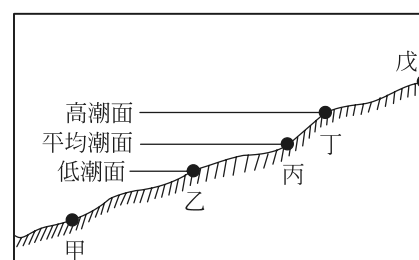


圖(二)

51. 台灣地區在冬季時常有寒流來襲，請問下列有關台灣地區寒流的敘述中，何者正確？
- (A) 發源地為反氣旋區
  - (B) 中南部地區降水以滯留鋒面雨為主
  - (C) 使台灣西部成為副熱帶季風氣候區少見的冬雨區
  - (D) 全台各地寒冷而晴朗
52. 近年來，雲林縣在高鐵沿線發生超抽地下水、地層下陷的現象，因恐危及高鐵運輸的安全性，封井與否，成為各方爭論不休的議題。請問雲林縣高鐵沿線抽取地下水最不可能用於何種用途？
- (A) 農業用水
  - (B) 沿海養殖漁業用水
  - (C) 工業用水
  - (D) 民生用水
53. 2010年7月，台塑麥寮六輕廠(位置示意圖見圖(三))因嚴重工安事件，使其對環境造成影響的議題再次受到關注。請問此一工業區與工業港開發案，最可能是利用圖(四)海岸地形剖面圖中哪兩地之間的地形「填海造陸」興建而成？



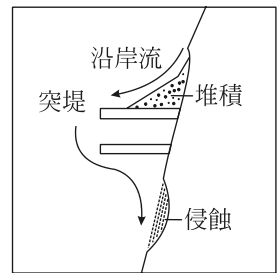
圖(三)



圖(四)

- (A) 甲乙
  - (B) 甲丙
  - (C) 丁戊
  - (D) 乙丁
54. 整合地理資訊系統(GIS)、遙感探測(RS)與衛星定位系統(GPS)三項技術，可結合土壤沖蝕模式(Revised Universal Soil Loss Equation)推估河川或水庫集水區之土壤沖蝕量。如南投縣水里溪集水區內之土地約有三分之二以上種植檳榔樹，研究者可利用(甲)資料進行分類，取得土地植被覆蓋的資訊，並結合(乙)所建立的資料，如高程、坡度、坡向、道路等，結合土壤沖蝕模式進行土壤沖蝕量之分析。請問：上文中(甲)、(乙)分別是指哪一種技術？
- (A) GIS、GPS
  - (B) RS、GIS
  - (C) GPS、RS
  - (D) GIS、RS

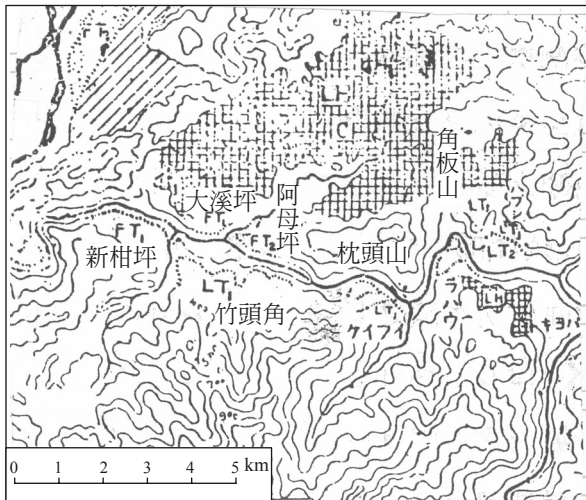
55. 「若在沿海地區興建由陸地向外伸入海中的防波堤，往往會阻礙沿岸流的輸沙，導致在防波堤迎沿岸流一側的海岸發生堆積現象，而背沿岸流的一側發生侵蝕現象，形成如圖(五)所示的『突堤效應』」。上文所述，主要是採取哪一種地理學研究方法？




圖(五)

- (A) 空間分析 (B) 生態分析  
(C) 區域複合體分析 (D) 雜異性分析

56. 由林朝榮先生編修的「台灣地形」一書發現，在桃園角板山附近出現許多有「坪」字的地名(圖六)，若繪製成圖，則如圖(七)所見。請問書中的「坪」字最可能是指何種地形？



圖(六)



圖(七)

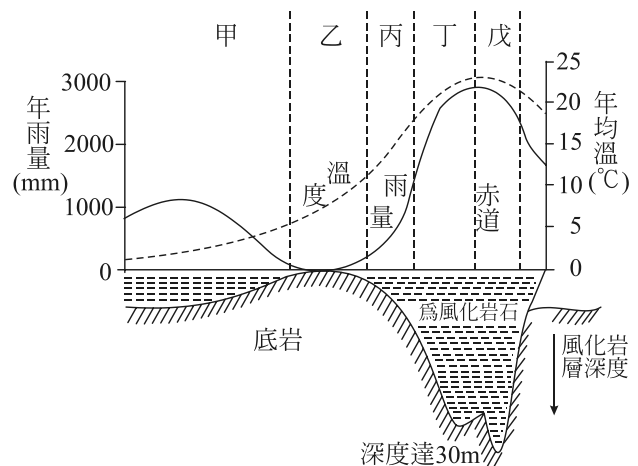
- (A) 曲流 (B) 陡崖 (C) 河階 (D) 丘陵

57. 中國大陸幅員廣大，但全境統一以東八時區為計時標準。請問當住在紐約(78°W)的小利於2010年7月18日7時打電話給在西藏拉薩(91°E)旅遊的小華時，拉薩的當地時間應為何時？

- (A) 2010年7月18日18時 (B) 2010年7月17日18時  
(C) 2010年7月18日20時 (D) 2010年7月17日20時

58. 圖(八)為在不同氣候條件下，岩石風化深度變化情形的示意圖。請問下列敘述何者正確？

- (A) 乙區成土作用以鈣化作用為主  
(B) 戊區因物理風化盛，所以土壤層最厚  
(C) 甲區岩石風化深度與氣溫無關  
(D) 丁區為副熱帶季風氣候區



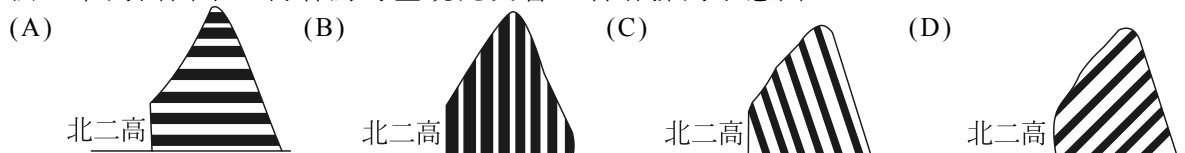
圖(八)

59. 表(五)為信義高中國文老師針對二年忠班四十位同學所做有關「最喜歡文學作品類型」的調查結果。請問下列有關此調查結果的敘述何者正確？

表(五)

類別	科幻小說	散文	新詩	古典文學	愛情小說
人數	10	7	3	8	12
比例(%)	25	17.5	7.5	20	30

- (A) 此資料為「二手資料」 (B) 可使用面量圖呈現調查結果  
(C) 可用柱狀圖清楚表現各類型的差異 (D) 男同學較喜歡科幻小說
60. 2010年4月25日北二高3.1公里處的路段發生嚴重走山事件，全國譁然。造成此災害的原因眾說紛紜，有些專家研判可能與地層沿著「順向坡」滑動有關。請問依這些專家的說法，下列四圖中，何者為可呈現此災害之岩層排列示意圖？

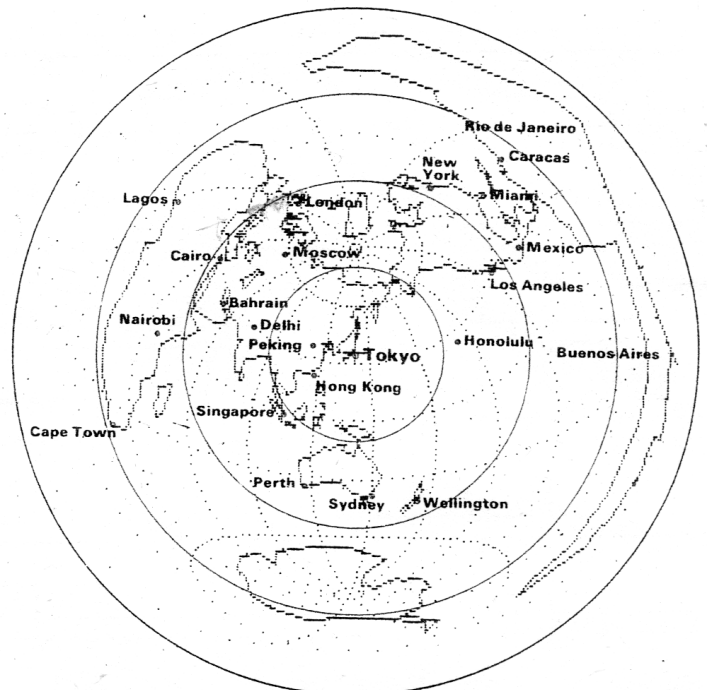


61. 乾燥氣候可分為熱帶乾燥氣候與溫帶乾燥氣候兩種類型。下列有關兩者的敘述何者正確？
- (A) 兩者主要依緯度位置來區分  
(B) 熱帶乾燥氣候的化學風化作用較明顯  
(C) 仙人掌科植物以短生命週期方式在乾燥氣候區生存  
(D) 溫帶沙漠年溫差較小，但日溫差較大

62-63 題為題組

圖(九)為常見的地圖投影類型之一。請問：

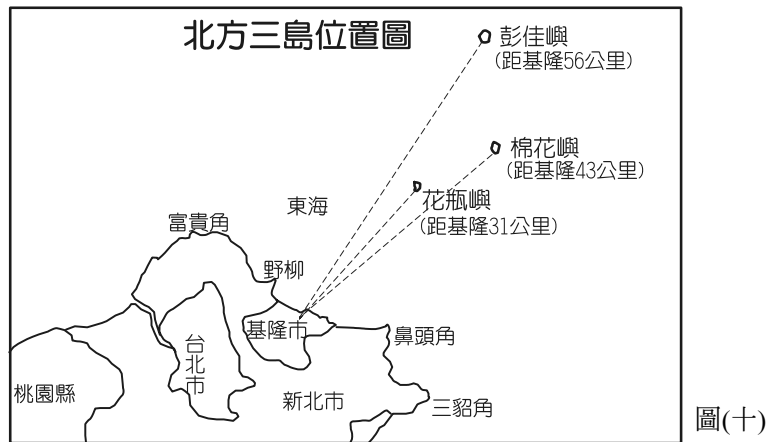
62. 此種投影方式的正確名稱為：
- (A) 圓柱投影  
(B) 圓錐投影  
(C) 方位投影  
(D) 莫爾威投影
63. 承上題，此種投影最具特色的幾何特性為：
- (A) 等積  
(B) 等距  
(C) 正形  
(D) 正向



圖(九)

64-65 題為題組

台灣北方海域有三座孤立的小島——彭佳嶼、棉花嶼和花瓶嶼(圖十)，原漁場資源豐富，近年來卻因過度捕撈，加上中國漁船不時越界捕魚，使用滾輪式拖網，嚴重破壞底棲珊瑚礁生態，海洋國家公園管理處預計將這塊海域劃為海洋國家公園，讓漁業資源喘息。請問：




64. 北方三島都是火山島，各種火山地質景觀到處可見，被形容為火山地質地地形資源寶庫。而下列我國各島嶼中，何者成因與此北方三島不同？  
 (A) 龜山島 (B) 望安島 (C) 馬祖東莒 (D) 蘭嶼
65. 若要將此北方三島規劃特別的島嶼觀光，最需克服的是風浪過大的問題。請問最不理想的旅遊季節應該是：  
 (A) 春季 (B) 夏季 (C) 秋季 (D) 冬季

66-68 題為題組

東非肯亞的馬賽馬拉國家公園是世界上最大的野生哺乳類動物保護區，成立於 1961 年，與南邊鄰國坦尚尼亞賽倫蓋提國家公園相接。每年 7~9 月是東非草原上動物遷徙的高峰期，超過百萬隻的牛羚、瞪羚、斑馬越過邊境來到馬賽馬拉國家公園，在此停留 1~2 個月後，又往南返回坦尚尼亞。駕著四輪驅動車尋找及觀察野生動物的「獵遊」(safari)在肯亞最為盛行，被列為此生必遊旅程之一。請問：



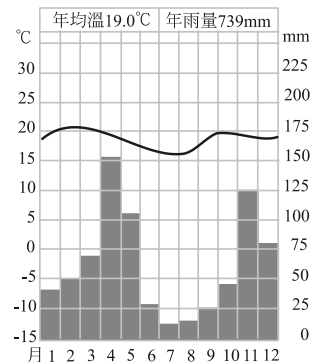
圖(十一)



圖(十二)

66. 東非高原上動物的遷徙與下列何項氣候因素有關？  
(A) 年雨量變率的大小 (B) 降水強度的高低  
(C) 降水季節分布的差異 (D) 年雨量的多寡
67. 圖(十一)為兩座國家公園的位置，而圖(十二)則為在肯亞地區「獵遊」時常見的動物景觀，請問本文所述的地區主要屬於何種氣候類型？  
(A) 熱帶雨林氣候 (B) 熱帶莽原氣候  
(C) 熱帶季風氣候 (D) 熱帶沙漠氣候

68. 圖(十三)為肯亞首都奈洛比的氣候圖，可發現其有兩個降水高峰，主要與下列哪一個因素關係最密切？  
(A) 緯度位置  
(B) 距海遠近  
(C) 高原地形  
(D) 植被類型



圖(十三)

69-70 題為題組

2006 年「榴槤」颱風形成之際，中央氣象局提醒民眾，應密切注意此颱風是否會因產生共伴效應，而造成更大的災害。請問：

69. 由上文可判斷，榴槤颱風最可能出現在哪一月份？  
(A) 2月 (B) 4月 (C) 7月 (D) 11月
70. 文中所謂「因產生共伴效應，而造成更大的災害」最可能是指  
(A) 暴風圈範圍迅速擴大 (B) 降水強度更大  
(C) 颱風過境速度加快 (D) 焚風現象更明顯

71-72 題為題組

自古以來，歐美國家一直希望能以更短距離的海運航線到達亞洲國家，如沿著歐亞大陸北方沿岸而行的東北航道與沿著北美洲沿岸而行的西北航道，卻一直因困難重重而作罷。但 2010 年 9 月 4 日，「北歐巴倫茲號」從挪威北方的基柯尼斯港向東航行，將在俄羅斯兩艘破冰船協助下，穿過北極海航向中國青島，全程估計 15000 公里，預計花費 25 至 26 天。比起向西走傳統的蘇伊士運河航道約縮短 8000 公里，大概可節省十天的時間。請問：

71. 造成上述東北航道在將來變得可行，主要與下列何項因素有關？  
(A) 2010 年出現反聖嬰現象 (B) 破冰船航運技術進步  
(C) 全球暖化現象日益嚴重 (D) 國際敵對局勢消失
72. 文中所謂的東北航道、西北航道，最接近下列哪一條緯度線？  
(A) 北緯 50 度 (B) 北緯 60 度 (C) 北緯 70 度 (D) 北緯 80 度