




全國公私立高級中學

100 學年度學科能力測驗第二次聯合模擬考試

考試日期：100 年 9 月 7~8 日



社會考科



—作答注意事項—

考試時間：100 分鐘

題型題數：

- 單選題共 72 題

作答方式：

- 用 2B 鉛筆在「答案卡」上作答，修正時應以橡皮擦拭，切勿使用修正液(帶)。



祝考試順利

單選題 (占 144 分)

說明：第 1 題至第 72 題皆是單選題，每題均計分，每題 4 個選項，其中只有一個是最適當的答案，畫記在答案卡之「選擇題答案區」。各題答對得 2 分；未作答、答錯、或畫記多於一個選項者，該題以零分計算。

1. 「自我」是社會化後的自我認同，關於一個人由何種方式建立對自我身分的認同，學者提出多元的解釋理論。美國學者米德(George H. Mead,1863~1931)認為自我發展是社會經驗的累積，強調環境塑造人類行為的重要性，兒童期是自我發展的關鍵。關於米德自我社會化理論的敘述何者正確？
- (A) 兒童經由三個社會化階段，學習從他人的角度看自己。亦即，由主我(I)發展出客我(Me)
 - (B) 2~3 歲的模仿階段的兒童，深受廣泛的社會大眾影響他的行為模式及價值觀念，此社會大眾稱為「參照團體」(reference groups)
 - (C) 約 8 歲以後團體遊戲階段的兒童，除了扮演不同的角色外，亦能理解角色之間的關係，此時的同儕稱為「重要他人」(significant others)
 - (D) 4~8 歲遊戲階段的兒童，藉由遊戲扮演身邊影響他的大人角色，例如，父親、母親與孩子。此時影響他的父母親、老師、兄姊等人稱為「概化他人」(generalized others)

2-3 題為題組

美國人類學家瑪格麗特·米德(1901~1978)是一位知名的美國人類學家，她研究領域廣泛，包含性別、青少年與家庭等。在性別的研究上，深入部落以進行觀察、紀錄與分析新幾內亞(New Guinea)三個原始社會的性別氣質與兩性關係，並出版《三個原始社會的性與氣質》(Sex and Temperament in Three Primitive Societies)一書。在阿拉佩什(Arapesh)部落裡，兩性氣質陰柔，共同承擔家庭勞務，人際關係和諧；在蒙杜古馬(Mundugumor)部落裡兩性皆具備陽剛氣質，具侵略性，社會關係緊張而敵對；在德昌布利(Tchambuli)部落裡的男性氣質陰柔，負擔家務，好裝扮並精熟舞蹈與樂器，女性則從事家務之外的生產勞動，掌有部落與家務的決定權。

2. 關於瑪格麗特·米德研究分析的主題主要是批判西方關於兩性社會角色，哪一方面的主流看法？
- (A) 性別歧視
 - (B) 性別不平等
 - (C) 性別主流化
 - (D) 性別刻板印象
3. 男性天生陽剛且具侵略性，適合社會競爭。而女性天生陰柔，適合溫和的人際關係維繫角色及非競爭的家務勞動。米德此種現代化社會之二元對立的兩性關係角色界定的批判，下列敘述何者符合其理論所關注的焦點？
- (A) 我們可以完全而任意地重新安排性別角色，塑造性別氣質與人格
 - (B) 性別角色是由性別(sex)所決定，包括染色體、性器官、荷爾蒙所決定的
 - (C) 相對於原始部落，當今「現代化」社會所發展出的二元性別氣質與角色關係，代表一個成熟與進步的社會發展的必然結果
 - (D) 社會性別(gender)並不是由先天生理決定，而是受到特定社會文化裡兩性角色的規範，透過社會期待所進行的角色扮演所形塑的結果

4. 依據《憲法》第七條：「中華民國人民，無分男女、宗教、種族、階級、黨派，在法律上一律平等。」相較於西方早期民主革命所奠定的人權之平等觀念，何種制度上的設計更能因應當代社會情勢對平等權利主張？
- (A) 男女享有法律形式上應考試服公職的權利
(B) 公共場所的廁所設計，女廁間數應多於男廁
(C) 政府應硬性規定企業雇用40%的女性為主管階層
(D) 3C電子展覽會大量雇用show girl，以增加婦女就業機會
5. 「教育部 18 日在台北召開記者會，教育部長吳清基與天燈師傅林國和祖孫點燃象徵祈福的天燈，宣布第 1 屆「祖父母節」將於 29 日正式起跑。」(中央社，99 年 8 月 18 日)政府設定「祖父母節」，除了彰顯傳統文化家庭倫理與敬老尊賢的文化外，造成祖父母替代父母親親職角色的社會現象，其主要的可能因素是？
- (甲)雙薪家庭 (乙)高離婚率 (丙)低出生率 (丁)低結婚率
- (A) 甲乙 (B) 乙丙 (C) 乙丁 (D) 丙丁
6. 由父親或母親其中一人帶著未成年子女，並與祖父母同住的家庭型態是？
- (A) 繼親家庭 (B) 隔代家庭
(C) 折衷家庭 (D) 新三代家庭
7. 據報載，國內黃姓農場主人將雄性非洲獅與雌性孟加拉虎交配產出「獅虎」。儘管園方表示從小就將它們關在一起，並沒有刻意要交配繁殖，現在自然交配成功，園方也很意外。但林務局強調，貓科動物所有種(除家貓外)均屬農委會依據《野生動物保育法》所指定公告保育類野生動物，也是華盛頓公約(CITES)附錄物種。獅與虎同屬貓科動物，孟加拉虎為瀕臨絕種保育類動物、非洲獅為珍貴稀有保育類動物，不同保育類種間雜交後代也受規範，因此仔獸「獅虎」屬於保育類野生動物。此則新聞突顯出當代社會哪一項公共倫理？
- (A) 科技倫理 (B) 生命倫理
(C) 經濟倫理 (D) 工作倫理
8. 「社區」是公共生活最基本的單位，成員在平等的基礎上參與公共事務，透過理性建立共識以及一套民主的運作機制，並培養溝通、容忍、尊重的德行。常見的社區類型除了地理社區與心理社區、都市社區與鄉村社區外，尚有由電腦科技與網際網路發達而發展出來的虛擬社區。在構成社區的諸要素之間，哪一個是構成社區的最關鍵要素？
- (A) 社區人口 (B) 地理空間
(C) 團體組織 (D) 心理認同
9. 「藝術表演在台灣太『高貴』？消基會針對台灣藝文活動進行跨國比較，發現台灣票價的確比較貴，其中歌劇魅影甚至是韓國的 2.4 倍、英日等國的 1.9 倍，舞王票價更是美國的 8.5 倍。中華民國消費者文教基金會呼籲政府加強輔導、協助，讓更多表演資訊透明化，並且開放建立良性競爭環境，讓台灣藝術表演票價趨向合理。」關於消費者文教基金會的相關敘述何者不正確？
- (A) 屬於第三部門的民間社會團體
(B) 屬《民法》非營利(NPO)之財團法人
(C) 屬《人民團體法》裡的職業團體
(D) 非營利社團之非政府組織(NGO)

10. 下列圖案依次代表哪些類型的商標？



- (A) 證明標章、服務標章、商品標章、團體標章
(B) 服務標章、團體標章、商品標章、證明標章
(C) 團體標章、服務標章、商品標章、證明標章
(D) 服務標章、證明標章、商品標章、團體標章
11. 藉由殖民、移民與傳播管道，促使世界各文化間相互交流，所形成文化全球化現象，在地文化受到挑戰並產生轉變。擁有科技技術與經濟優勢的國家正主導文化交流的模式，並朝文化一元化發展。因此，我們應採取何種角度看待全球化與在地化間的關係？
- (A) 在地的社群文化為避免文化遭受到同化，最佳的做法就是強化文化差異性，並封鎖跨國企業與商店
(B) 全球化擁有讓不同文化間交流、匯集的機制，該機制並非單向地被壟斷，在地文化亦可藉此衝擊來凸顯自身的特殊性
(C) 只要透過呼籲尊重各種不同社群文化，喚起理性以平等對待差異，主張文化多元主義，則不同文化便可保持各自原貌，彼此間將自然地和平共存，並且毫不衝突
(D) 擁有科學技術的資本主義國家挾其經濟上的優勢主導文化交流模式，並引領時尚潮流與消費型態，全球文化統一是唯一的發展趨勢
12. 柏瑞的公民與社會科老師在課堂上講授關於台灣社會的移民歷史、重視家族倫理文化，以及現代化社會社區發展對前者關係所產生的影響課程，並設計了一份學習單。學習單要求柏瑞必須與家中長輩共同探尋家族的族譜，以及遷居的歷史，並且到社區圖書館查詢地方誌、社區歷史及目前居民的結構。請問，這個學習歷程不涉及哪一種教育型態？
- (A) 家庭教育 (B) 學校教育
(C) 回流教育 (D) 社會教育
13. 有鑒於人類歷史裡，一國政權常以宗教之名對內進行宗教迫害，或是對外發動對外戰爭。然而，宗教不只是人類精神信仰的活動，更是衍生社會規範與文化內涵的淵源。當代自由民主國家，以憲法保障人民宗教信仰的自由的同时，也約束政府權力不得干涉人民的宗教活動，此乃所謂「政教分離」，藉以確保多元文化。請問下列敘述何者符合政教分離的精神？
- (A) 一國之內所有宗教團體，應與政府權力運作保持距離
(B) 政府應補助少數民族所信仰之宗教組織，以促進該團體的宗教文化
(C) 對少數不斷預言末世到來而造成人心惶惶的宗教團體，政府得立法禁止之
(D) 公私立學校皆不得教授宗教課程

14-17 題為題組

據報載，某民間加油站業者在 2007 年間因興建位址距離故宮博物院甚近，故宮主張該建築具有引起火災而爆炸的高度危險，台北市政府在考量其將造成古文物保存的風險，以及周邊居民的生活品質後，將業者建造執照廢止。業者不服，提出申訴及行政訴訟，最高行政法院於 2010 年 8 月判決台北市政府敗訴，除賠償業者一億元，加油站的興建也可捲土重來。

14. 該業者所提出國家賠償乃是依據《國家賠償法》，及哪一個法律進行求償？
- (A) 《民事訴訟法》 (B) 《訴願法》
(C) 《行政罰法》 (D) 《行政訴訟法》
15. 台北市政府廢止業者建造執照之行政作用屬於下列何者？
- (A) 行政執行之直接強制
(B) 行政罰之限制與禁止行為處分
(C) 制定行政法規使特定人負擔義務之處分
(D) 行政罰之剝奪或消滅資格與權利之處分
16. 當代憲政主義的民主國家，法律除了不能違反憲法保障的人權之外，必須經過一定的合法過程制定與修正，才具備法的型式。關於法律制定與修正程序的相關敘述，何者正確？
- (A) 憲法制定與修正及法律制定與修正的機關和程序是相同的
(B) 法案二讀通過後所進行黨團協商討論，其結果經院會同意後，委員不得反對
(C) 法案在二讀或三讀會中，若有委員提出疑義，因而再重新表決的程序稱為「復議」
(D) 當法律案經由立法院全院會議二讀後，交付與該法案相關委員會進行實質內容的審查
17. 行政法的精神與原則是為了避免國家機關濫權，規範行政機關就行政目的、範圍、手段與程序依法行政，並補救行政處分違誤致人民權利受損，以落實憲法對人民權利的保障。以此例而言，憲法保障何種權利？
- (A) 自由權 (B) 平等權
(C) 社會權 (D) 救濟權
18. 《中央法規標準法》第 5 條：「一、憲法或法律有明文規定，應以法律定之者。二、關於人民之權利、義務者。三、關於國家各機關之組織者。四、其他重要事項之應以法律定之者。」第 6 條「應以法律規定之事項，不得以命令定之。」該法第 5 條、第 6 條對於人權保障的意義指的是？
- (A) 憲法明文載定之權利內容可以發揮直接與絕對的人權保障
(B) 「法律保留原則」，意指政府對人民權利的限制必須有法律依據者
(C) 「比例原則」，意指公權力對人權限制時，其所欲達成的「目的」和採行的「手段」之間，應有適當的對應比例
(D) 「法治原則」，民主憲政國家的政府機關，其運作必須受到憲法拘束，即政府權力的行使應依循法律規範，遵守法治原則
19. 憲政主義是保障人權的民主國家，表現在各個領域法律上的基本原理原則不包括下列何者？
- (A) 行政法的法律保留原則 (B) 行政法的比例原則
(C) 民法的私法自治原則 (D) 刑法的罪刑法定主義

20. 現代社會，科技使人與人之間的交流便捷快速，人際關係錯綜複雜，個人的行為往往引發無法預料的連鎖效應，必須特別注重並培養公共倫理。關於現代公共倫理的敘述何者正確？
- (A) 醫生不因病患身分，視病如親，務求保存病人的生命療癒疾病，此乃「生命倫理」
 - (B) 教師參與教學研習，蒐集相關資料研發教材，謹守師生應有之分際，並依相關規範作業，此乃「校園倫理」
 - (C) 「資訊倫理」指資訊製造、蒐集、運用時可能造成個資外洩，侵犯個人隱私問題，但並不包括人們利用網路進行犯罪行為
 - (D) 爲了享有更好物質生活條件與良好的生存狀態，以科技改造物種(基因改造)、藉由幹細胞研究，發展治療疾病的處方等，此乃「科技倫理」
21. 妍希爲了撰寫關於金庸小說對當代小說發展影響的論文，在蒐集資料、研討會發表以及論文發表過程中無法避免重製、公開傳輸及引用多本金庸小說。妍希可以作出以下聲明以主張其行為未違反著《著作權法》，其中不包括？
- (A) 研究皆明示其出處
 - (B) 其行為是爲了學術研究之公益目的
 - (C) 其援引範圍在合理範圍之內
 - (D) 金庸小說的著作財產權存續期間已屆滿
22. 關於《民法》與《刑法》比較之敘述何者正確？
- (A) 民法上對故意與過失的定義適用於刑法
 - (B) 民法上自然人年滿 18 歲爲完全行為能力人，刑法上年滿 20 歲需負完全行為責任
 - (C) 民法以習慣法補充法律所未規定事項，同樣適用於《刑法》
 - (D) 民事訴訟乃私人間權利義務的糾紛，當事人若不告訴則法院不審理；刑事事件乃損害個人、社會與國家法益，只能由檢察官提起公訴
23. 日常生活中，我們的權利若受到他人乃至於政府的侵害，可以透過和解、調解、仲裁、訴訟等不同的管道來救濟受損的權利。下列有關調解的相關敘述何者正確？
- (A) 調解只適用告訴乃論的刑事事件，例如：普通傷害、公然侮辱、誹謗等
 - (B) 告訴乃論刑事事件之調解，必須得到被害人之同意，方可聲請調解
 - (C) 調解機關在行政機關的部分是由「鄉鎮調解委員會」進行調解，其調解書不具備法院「確定判決」的效力
 - (D) 在司法機關訴訟所進行的調解，屬於當事人任意調解
24. 關於我國司法體系之民刑事訴訟採三審三級制，限制上訴爲例外，下列相關敘述何者正確？
- (A) 最重本刑爲三年以下有期徒刑、拘役或專科罰金之罪，採二審終結
 - (B) 民事訴訟所得受之利益未超過 500 萬者，採二審終結
 - (C) 「當選無效」之選舉訴訟，爲避免訴訟結果超過當選者任期，採一審終結
 - (D) 不服最高法院第三審確定判決，發現該案件之審判係違背法令者，上訴人得向最高法院提起非常上訴
25. 對於商代政治、經濟、社會生活各方面的敘述，下列何者正確？
- (A) 中國崇敬祖先，歲時祭祀的習俗，應淵源於此時
 - (B) 此時曆法進步，已有效掌握天時知識，符合「天道遠，人道邇」的觀點
 - (C) 商王室擁有相當權力，但除了神之外，一般已無任何力量可制衡之
 - (D) 工藝技術以煉鐵最重要，燒製陶器已運用塗釉技術

26. 書生張宇生於魏晉南北朝，此時期因外族不斷侵擾入主中原，故各方面發展都有其獨特性，以下各項史料敘述，何者不是此階段的特色？
- (A) 「江左諸帝乃皆出自素族，……其他立功立事，為國宣力者，亦皆出於寒人，…皆禦武戡亂，為國家所倚賴，而所謂高門大族者，不過雍容令僕，裙屐相高，求如王導、謝安柱石國家者，不一二數也。」
- (B) 「自古皆貴中華，賤夷狄，朕獨愛之如一，故其種落皆依朕如父母。」
- (C) 「一宗近萬室，煙火連接，比屋而居。」「屯聚堡塢，據險自守。」
- (D) 「官有簿狀，家有譜系，官之選舉，必由於簿狀，家之婚姻，必由於譜系。」
27. 中國歷代皆重農，土地政策成為統治者十分注重的問題，因此各朝代、各時期皆制定不同的土地政策。下列不同時期與土地政策的配對，何者有誤？
- (A) 秦－土地國有制 (B) 唐－均田制
- (C) 太平天國－天朝田畝制 (D) 國民政府來台－耕者有其田

28-29 題為題組

「中國政俗，皆尚和平，承平之時，武備不得不弛，初無關於法制。自五胡亂華以來，以漢人任耕，而以降附之外族任戰，其策亦未當變，……雖有府兵，出征實多用蕃兵、蕃將，此實非玄宗一人之咎，歸罪林甫，尤近深文(苛刻)。惟天寶之時，偏重之勢太甚，君相不早為之計，而徒荒淫縱恣，耽寵怙權，則神州陸沉(國土沉淪)，固不得不任其責耳。」

28. 請問上述文字道出哪一個中原亂事？
- (A) 淝水之戰 (B) 侯景之亂
- (C) 安史之亂 (D) 黃巢之亂
29. 根據上述文字，下列描述此場中原亂事的選項何者正確？
- (A) 起因與當時朝政宦官專權，私通外族進犯有關
- (B) 亂事成功平定與府兵制完善、將領帶兵卓越有關
- (C) 亂事平定賴外族援兵，但外族卻因此屢犯邊境，成為重要外患
- (D) 影響日後朝廷的對外政策，改採強硬、不妥協、不和親的態度
30. 來自西域，精通漢文，西元五世紀初到長安譯經，奠定中文藏經的基礎。史上記載其「手執梵本，口宣秦言，兩譯異音，交辯文旨。……」對東晉南北朝的佛教傳布功不可沒。以上敘述應為描述何人？
- (A) 鳩摩羅什 (B) 玄奘
- (C) 慧能 (D) 菩提達摩
31. 某個時代的俗諺說道：「今之富民，鮮有三世之久者。」又道：「今驟得富貴者，止能為三、四十年之計。造宅一區及其所有，既死則眾子分裂，未幾蕩盡，則家遂不存。」請問這段敘述應是在反映何時的社會現象？
- (A) 指春秋戰國時代上者陵夷，下者上升，貴族階級逐漸失去其政經舞臺
- (B) 指魏晉南北朝時期，因北方僑姓世族南下江南避禍，卻強行封山占田，使南方吳姓世族勢力大衰
- (C) 指唐代科考特重明經科，但傳統世族不習經典而日趨沒落
- (D) 指宋代官員子弟雖可蔭任，卻只能擔任小官，欲顯貴還是得參加科考

32. 以下從明代一短篇小說中擷錄：

「……蘇州盛澤鎮上有一人，姓施名復，渾家喻氏，夫妻兩口，別無男女，家有機杼，以養蠶織綢為生……不幾年，增加了三、四張綢機光景過得饒裕，鄰里慶他個號兒叫施潤澤。……不上十年，積下千金家私，又買下左近一處大房住處，開起三、四十綢機，有討了(僱用)幾房家人小廝，把這個家業收拾得十分完美……」

請問：上述形容明代江蘇地區勞動力充足，手工業興盛的情況，應與下列何者有直接關係？

- (A) 「蘇常熟，天下足」的情況，使全國人口集中於此
- (B) 海外貿易從明代起只在江蘇一帶設市舶司，帶動此地的經濟繁榮
- (C) 江蘇為盜窯業興盛地區，故帶動其他手工業者
- (D) 張居正從事「一條鞭法」的改革，有助於釋放勞動力

33. 「中國人也傾向於事天修身，……這是我經過仔細觀察所得的結論。中國人自古就遵『天理』，且比我們歐洲人守的還更完善。……中國人古人主張修德養性，思想、行為、舉止一般皆佳。中國經書也是最古、最有權威的著作，書中只講『敬天地、敬天地之主』。……我們可以希望中國古代的先聖先賢基於遵守天理良心，再加上天主的仁慈所賜的恩典，他們也可能得救升天。」

請問上述文字的背景應為下列何者？

- (A) 唐時，波斯商人來華貿易，引進十字教來華宣教
- (B) 明初，鄭和下西洋後，引進大量傳教士入內地傳教
- (C) 明中葉後，因歐洲宗教改革，天主教耶穌會來華傳教
- (D) 清中葉，洪秀全成立「拜上帝會」時的理念

34. 以下為二則康熙中晚期的史料：

資料一：「向為番民鹿場麻地，今為業戶請墾，或為流寓占耕，番民世守之業，竟不能存什一於千百。」

資料二：「歷新港社、目加溜灣社、麻豆社，雖皆番居，然嘉木蔭森，屋宇寬闊，不減內地村落。……四社蕃亦知勤稼穡，務蓄積，比戶殷富。又近郡邑，習見城市居民禮讓，故其俗於諸社為優。歐汪近海，尤富庶……。」

根據上述，下列有關清領時期的漢番關係，何者有誤？

- (A) 清廷採封山政策，嚴禁漢人與原住民接觸，因成效不錯，一直延用
- (B) 原住民的土地，被漢人巧取強奪的情形很普遍，因此常有漢番衝突
- (C) 漢人移墾面積日增，鹿場減少，平埔族賴以維生的捕鹿工作被迫放棄
- (D) 原住民透過與漢人的接觸，逐漸接受、學習漢人的生活習俗和農耕技術

35. 表(一)為清領時期臺灣各地著名的水利設施，若要增加一欄「創立時間」，下列何者可包含這幾個水利設施的創立時間？

表(一)

名稱	創立人	創立地點	特色
八堡圳	施鹿門、施世榜父子	彰化平原	引濁水溪，清代全臺最大規模，也是最早的水利工程
貓霧揀圳	張達京	臺中盆地	以割地換水方式取得原住民同意，引進大甲溪水而成
瑠公圳	郭錫瑠	臺北盆地	引新店溪碧潭水到艋舺和大稻埕

- (A) 康熙~乾隆年間 (B) 道光~咸豐年間 (C) 同治~光緒年間 (D) 民國時期

36. 資料一：日治時期一份請願書中要求：「設置由臺灣民選議員所組織之臺灣議會，使臺灣民眾仰體一視同仁之至意，均沾立憲政治之恩澤。」
資料二：一本方志討論日治時期的情況：「首任文官抵臺之後，希望軍民分治，改革地方制度，警察對地方管轄的權利顯然減少，逐漸走向地方自治，並成爲了街庄協議會。」
根據上述二項資料，請問當時日本總督府在臺的主要政策爲下列何者？
(A) 武裝治臺的政策 (B) 同化政策
(C) 皇民化政策 (D) 戰備動員政策
37. 1950 年 6 月韓戰爆發，對當時退守臺灣的國民政府而言，韓戰讓美國體認到臺灣戰略地位的重要性，重新將臺灣納入防禦體系。因此美國爲確保臺灣不會被赤化，韓戰後與當時中華民國簽訂何者以保障臺海安全？
(A) 〈中美共同防禦條約〉 (B) 〈臺灣關係法〉
(C) 〈臺灣安全加強法〉 (D) 〈臺美安保條約〉
38. 郭英男老先生最大的嗜好是收藏紙幣，在他的收藏品中包括有交通銀行發行的法幣五千元紙幣、金圓券、臺幣一萬元紙幣、新臺幣十元紙幣，請問這些紙幣發行的時間，不包含下列何者？
(A) 庚子新政時 (B) 北伐後十年的建國期
(C) 陳儀來臺後 (D) 國民政府遷臺後

39-40 題爲題組

39. 清末至 1950 年代，中國歷經皇帝制度瓦解、軍閥干政、北伐、抗戰、國民政府遷移來台等政治社會變化，下列是幾段關於因應清末至民國成立後，中國多次的歷史變局的史料，請問以下事件與敘述的配對何者正確？
- (A) 針對清末革命黨人的起義行動
— 駐華英國官員參訪南京後提出感想：「如果基督教國家參與鎮壓這場運動將是很悲哀的，因爲起義者們抱著一種爭取進步的激情和作全面改革的意向……起義者自稱的基督教之形式雖然大有疑問，但卻比迄今爲止中國人一直在作的愚蠢的偶像崇拜要好得多」
- (B) 針對民初袁世凱稱帝
— 英國公使布魯斯給倫敦的一份報告中透露了英國在這場宮廷政變中扮演的角色：「……在過去十二個月裡(我們)培植了一個傾向並相信作友善交往之可能性的派別，且有效地幫助了這個派別掌權……已在北京建立了令人滿意的關係，並已在某種程度上成爲政府的顧問，而十八個月前我們還在同該政府開戰。」
- (C) 針對九一八事變
— 當時中國報紙：「巴黎和會之始，我們多聞所謂的『公正的勝利』、『支援弱小民族的權利』，但是我們得到了什麼？求助他人者是注定要失望的。讓國人今天知道，一勞永逸的是自力更生。如不是國人拋棄了自己的利益，誰能侵犯它們？」
- (D) 針對八年抗戰
— 美國總統羅斯福：「假如沒有中國，假如中國被打垮了，你想一想有多少師團的日本兵可以因此調到其它方面來作戰？他們可以馬上打下澳洲，打下印度——他們可以毫不費力氣把這些地方打下，他們並且可以一直衝向中東……」

40. 根據上題的答案，當時中國正處於內憂外患之局，請問當時還有令中國執政者困擾的事是？
- (A) 保皇黨在日本不斷批判政局
(B) 孫文為首的革命黨人不斷起義
(C) 日本不斷進逼東北
(D) 中國共產黨勢力不斷提高
41. 《未央歌》一書在 1950、60 年代的台灣大學生之間甚為流行，此書是在描寫西南聯大學生的愛情故事，也提到大學生們覺悟個人命運與國家息息相關，積極捐錢、捐衣、捐棉被充作救災用及寒、暑假參與社會服務工作。請問這部書的背景主要是在描述下列何時？
- (A) 長征 (B) 北伐
(C) 抗戰 (D) 國共內戰
42. 毛澤東在 1942 年 2 月中共中央黨校的開學典禮上宣布展開活動，內容主要在建立一套用於黨員和幹部的理想標準，這套標準並作為黨員自我批評的原則。因此在活動中，各黨員和幹部要開始檢討自己、其他人以及各單位，大家被要求把自己的一切背景、行為甚至內心深處想法誠實交待清楚，毫不保留，然後讓彼此相互批評，相互糾正，努力把同志的缺點指出，猶如把人的疾症找出。請問，此活動應為下列何者？
- (A) 工農大躍進
(B) 社會主義建設總路線
(C) 整風運動
(D) 大鳴大放引蛇出洞

43. 參考表(二)為 1865-1894 年間，臺灣進出口貿易統計顯示臺灣進出口貿易的發達，主要背景為下列何者？
- (A) 劉銘傳任臺灣總督時積極招商
(B) 自強運動在臺成效甚大，西化十分成功
(C) 英法聯軍後臺灣被迫開港
(D) 八國聯軍後因簽約所致，外商大舉進入臺灣

表(二)

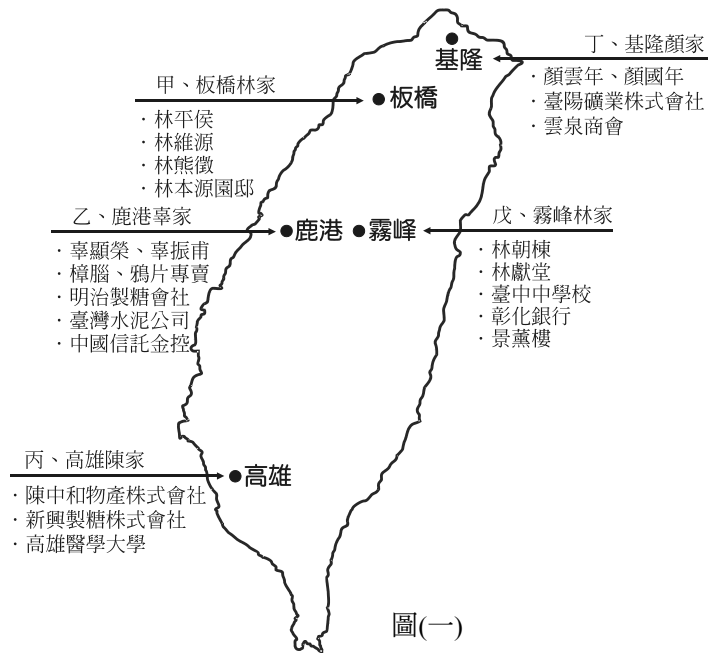
年代	進口	出口	總計
1865	1,400,004	862,432	2,262,436
1870	1,437,084	1,645,987	3,083,071
1876	2,475,210	2,628,982	5,104,192
1881	4,039,158	4,160,960	8,200,118
1885	3,158,173	3,819,763	6,977,936
1889	3,600,399	4,543,406	8,011,468
1892	3,745,065	4,959,829	8,704,894
1894	5,449,460	7,245,035	12,694,495

(單位：海關兩)

44. 有位臺灣本土作家，創辦《臺灣文藝》，取材較偏向於寫實主義的現實文學，他的著作《亞細亞的孤兒》曾表達出對皇民化運動的反感：「捨棄了自己的歷史，丟棄了自己的傳統，只希望皇民化，想求子孫的幸福。可是，外形的皇民化雖然做到了，但剩下的血的問題要怎麼辦呢？恐怕日本人到那個時候，會說不把血液也換過，不是真正的皇民吧！」請問此位作家應為何人？
- (A) 賴和 (B) 林獻堂
(C) 吳濁流 (D) 蔣渭水

45. 臺灣五大家族在傳統上，是指臺灣自清領時期一直到戰後時期，地方上最具政經影響力的本省五大家族，由北至南分別為基隆顏家、板橋林家、霧峰林家、鹿港辜家和高雄陳家。請問若依這幾個家族發跡的順序，按照圖(一)中的代號，依時間先後應為下列何者？

- (A) 乙→甲→丙→戊→丁
- (B) 甲→乙→丙→丁→戊
- (C) 甲→戊→丙→丁→乙
- (D) 戊→甲→丙→乙→丁



46. 在中華民國建國後，每個不同時期都有不同的法律依據，下表為中華民國根本大法的演進表，請問表(三)甲、乙應填入何者？

表(三)

根本大法	甲	《中華民國約法》	乙	《中華民國憲法草案》	《中華民國憲法》
日期	民國元年 3 月	民國 3 年 5 月	民國 20 年 5 月	民國 25 年 5 月 5 日	民國 36 年元旦公布，12 月 25 日實施
制訂	臨時參議院 (國民黨議員)	約法會議	國民會議	立法院	制憲國民大會
體制	內閣制	總統制	五院制	總統制、五院制	總統制、五院制

- (A) 甲－中華民國臨時憲法，乙－中華民國臨時約法
- (B) 甲－中華民國臨時約法，乙－中華民國訓政時期約法
- (C) 甲－中華民國軍政時期約法，乙－中華民國臨時憲法
- (D) 甲－中華民國約法，乙－中華民國訓政法

47. 自強運動是中國現代化的第一個運動，在許多方面都開創了「第一」的記錄，其中包括一甲、首創第一個學習外國語文的學校；乙、創設京師大學堂，是中國大學教育的第一步；丙、首次派出第一批赴美留學的幼童；丁、創辦第一個同時招收男、女生的大學。以上敘述，正確的選項包括：

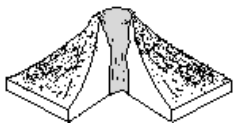
- (A) 乙丙丁
- (B) 甲丙
- (C) 甲乙
- (D) 甲乙丙

48. 中國歷代皆有內部戰亂，有些是政治因素，有些是經濟因素，有關下列動亂及其所代表的影響，何者正確？

- (A) 西晉永嘉之亂－中國歷史文化重心南移完成
- (B) 唐黃巢之亂－造成唐賴以生存的東南財賦嚴重損傷，大大影響國力
- (C) 明靖難之變－宗室勢力盡除，鞏固中央集權
- (D) 清太平天國之亂－八旗兵制敗壞，清只剩綠營可用

49. 澎湖群島自然保留區，主要保育的景觀屬於以下哪一種類型火山？

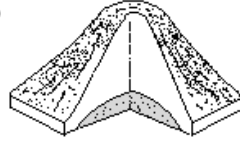
(A)



(B)



(C)



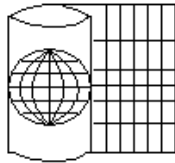
(D)



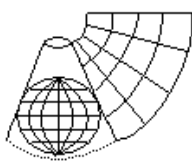
■ 表示熔岩

50. 地圖的繪製過程中，將地球表面上的經緯系統轉移到平面紙的過程，稱為地圖投影。按光源位置、紙型和地球儀相切方式，可以形成多種不同的投影地圖。請問下列哪一種地圖投影可以維持距離比例正確，有利於直接比較地圖中心至各地間的距離？

(A)



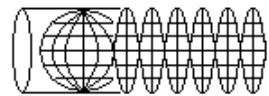
(B)



(C)



(D)



51-52 題為題組

洪患的發生，通常為自然及人文因素綜合的結果。雨季來臨時，台灣的淹水潛勢區通常位於海拔低於 5 公尺的河道流經處，並且在養殖業比例超過 50% 的區域。圖(二)為某地區經過地理資訊數位化後的分析網格，請依圖(二)回答以下 51-52 題：

圖1:養殖業分布

0	0	0
0	1	1
0	0	0

1:從事養殖業之比例超過50%
0:從事養殖業之比例未及50%

圖2:河川分布

0	0	1
1	1	0
0	1	0

1:有河川流經
0:無河川流經

圖3:海拔高度

0	1	1
0	1	1
0	0	0

1:海拔高度低於5公尺
0:海拔高度高於5公尺

圖4:淹水潛勢區

甲	乙	丙
丁	戊	己
庚	辛	壬

圖(二)

51. 依資料判斷，該地區河川的流向，最可能是圖中何方向？

(A) 右上角

(B) 左上角

(C) 右下角

(D) 左下角

52. 該地區最有可能發生淹水的區域為圖 4 中的哪一區？

(A) 丙

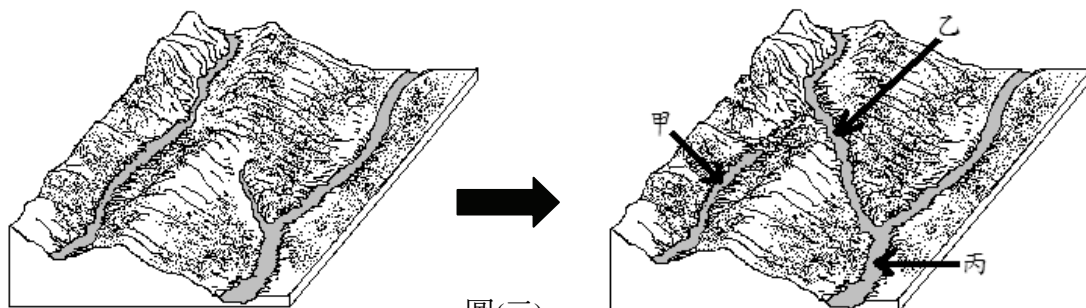
(B) 丁

(C) 戊

(D) 己

53-54 題為題組

圖(三)為某河流地形前後時期的變化，請依圖回答以下 53-54 題：



圖(三)

53. 圖中河川發生什麼現象？

(A) 山崩堰塞

(B) 溶蝕作用

(C) 差別侵蝕

(D) 河川襲奪

54. 下列對於甲、乙、丙河的敘述何者正確？

(A) 甲河因坡度減緩而產生堆積

(B) 乙河因侵蝕基準下移而產生侵蝕

(C) 丙河因坡度增加而產生侵蝕

(D) 三條河川均符合老年期的特徵

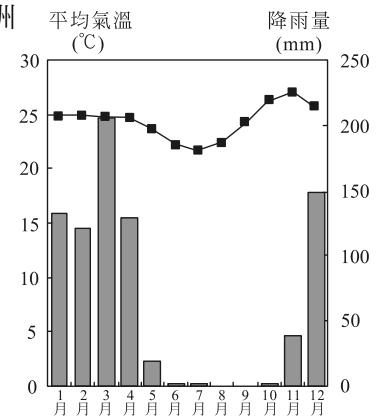
55-56 題為題組

資料一：「……離開了礫石路之後，我們步行到長滿樹木的溼地，黑杉的枯枝上纏著色澤淡灰的苔蘚。冰冷深黑的水透過沼澤過濾，底下則是永凍層。」

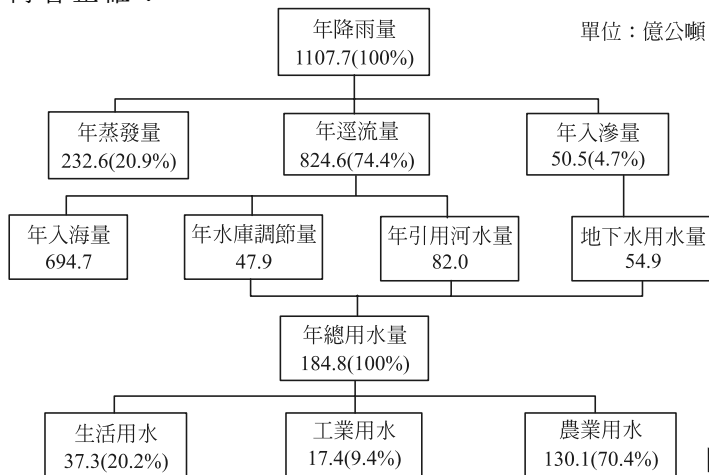
資料二：「水與火形塑了這片森林，這裡有全世界面積最廣的溼地，但降水其實並不多。閃電或人為引發的火災，是森林最主要的再生動力，大火之後就是新生—落葉松和楊樹通常率先冒出新芽，接著是松樹、雲杉和冷杉。」

上列二段資料乃是針對某自然景觀帶的記載，請依此資料回答以下 55-56 題：

55. 上述資料主要描寫哪一自然景觀帶？
 (A) 溫帶落葉林 (B) 寒帶針葉林
 (C) 極地苔原 (D) 溫帶灌木林
56. 關於此自然景觀帶所屬之氣候類型，其主要特徵之敘述何者正確？
 (A) 最暖月均溫高於 0°C ，但低於 10°C (B) 冬季常有鋒面通過，乾溼季不明顯
 (C) 夏涼冬暖，年溫差不大 (D) 為年溫差最大的氣候類型
57. 報載「2010 年首波大陸冷氣團南下，東北季風增強，雲林縣清晨起就刮起四級風，最大陣風還一度達到六級，尤其是空曠的濁水溪，一陣陣的強風吹過河床，帶起的陣陣風砂，更嚴重破壞濁水溪南岸雲林縣多個鄉鎮市居民的生活品質」。請問雲林地區沙塵問題多發生於冬季，主要與臺灣河川的哪一項特性有關？
 (A) 坡陡流急，侵蝕力強 (B) 河水含沙量高
 (C) 河川洪枯量變化大 (D) 河口堆積成三角洲
58. 小茜計劃到國外進行渡假打工，她蒐集到該地的氣候圖(如圖(四))。下列有關此地氣候特徵的敘述，何者正確？
 (A) 位於北半球
 (B) 年溫差非常大
 (C) 夏季乾旱少雨
 (D) 最高溫出現在雨季來臨前
59. 圖(五)為某年臺灣地區水資源利用概況。下列對此圖的說明，何者正確？



圖(四)



圖(五)

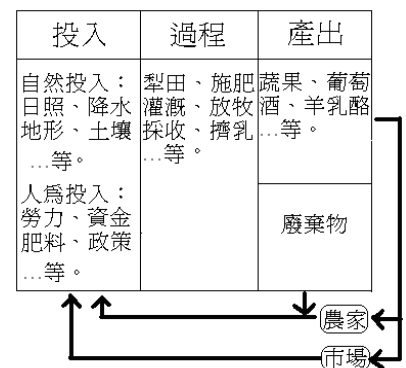
- (A) 農業用水主要引用地下水 (B) 工業用水短缺
 (C) 水資源的實際利用率不高 (D) 臺灣水資源不足，屬於缺水區

60. 臺灣地區位在板塊聚合帶，地形景觀複雜，以屏東平原為例，是一個板塊抬升與下陷並存的地區，其中屏東沿海地區地層下陷的速率非常快，尤其集中在林邊溪口一帶，而且有季節性的差異，乾季時(11月~4月)地層下陷率快；雨季時(5月~10月)地層下陷慢甚至停止，專家指出造成林邊溪口季節不等量的下陷同時有內外營力交互作用著，關於此現象的敘述正確的是：

- (A) 板塊運動呈現季節性的不等量運動
- (B) 雨季時地層下陷減緩是因地下水補注較多
- (C) 超抽地下水是唯一因素
- (D) 沿海養殖漁業以冬季較盛

61. 圖(六)為歐洲某地的農業系統圖，請問下列哪一項描述最符合此區的農業特徵？

- (A) 農業集約度大於酪農業
- (B) 兼營農牧業且畜產品為農家主要收入來源
- (C) 因地制宜使此類農業發展較複雜
- (D) 為降低成本多採取大規模機械化生產



圖(六)

62. 現代視訊會議和網際網路可以讓不同時區的工作人員接力研發或服務客戶，下列哪一項概念可以說明此現象？

- (A) 區位擴散
- (B) 產業連鎖
- (C) 產業群聚
- (D) 時空收斂

63-64 題為題組

澳洲墨累—大令盆地位於澳洲東南部，東有大分水嶺阻擋水氣，本區降水量僅 200mm—500mm 間，故墨累河及其支流的流量不豐，為發展農牧業澳洲政府大規模修建水利工程解決水源不足問題，讓此區成為澳洲產值最大的農業區，但農場規模擴大和數量增加，造成許多環境問題。請回答以下 63-64 題：

63. 大分水嶺阻擋水氣是指何種氣流？

- (A) 東北季風
- (B) 東南信風
- (C) 極地東風
- (D) 東北信風

64. 澳洲政府所執行的工程中，哪一項是增加本區水源，解決水源不足問題的最有效方式？

- (A) 雪山引水水利工程
- (B) 墨累河興建攔河壩和水閘
- (C) 增設廢水回收站循環利用
- (D) 廣建埤塘和雨水集水池

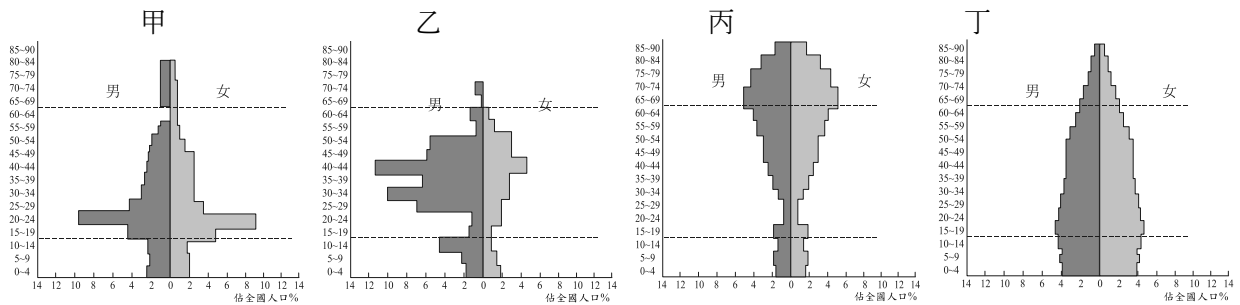
65-66 題為題組

資料一：「英國伯明罕於工業革命後因附近發現煤礦，接著城市快速發展，成為鐵路、蒸汽機、船舶等金屬加工製造中心，當時英國 25%以上的出口產品是在伯明罕生產。」

資料二：「二次大戰後因資源枯竭、設備老舊、環境污染、戰爭破壞和新興工業國崛起等外部環境和內部結構因素，在 1960 年代後伯明罕因產業外移，製造業各部門嚴重衰退，失業人口大增。」

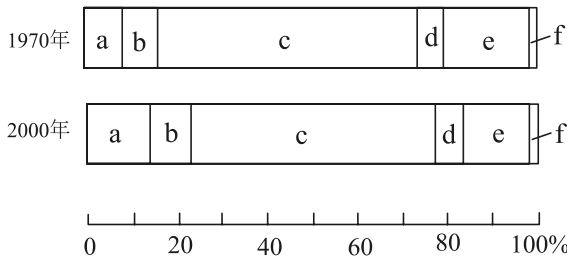
資料三：「1980 年後政府提新經濟計畫，大刀闊斧將老舊工業區進行再開發計畫，改善基礎建設，引導經濟朝向第三級產業發展。」請回答以下 65-66 題：

65. 請問 1960 年代後新興工業國有何優勢條件，吸引製造業進駐，造成伯明罕產業外移？
 (A) 原料充足、技術精湛 (B) 零關稅、市場廣大
 (C) 工資低廉、環保法規寬鬆 (D) 產業群聚拉力強
66. 調整產業結構是伯明罕解決問題的重要方式，下列哪一組經濟活動最適宜伯明罕發展？
 (A) 成衣、電子裝配、食品加工等低污染性產業
 (B) 金融、商業、文化等服務性產業
 (C) 精密機械、半導體等高附加價值產業
 (D) 倉儲、物流、加工出口等外向型產業
67. 圖(七)為美國四個城市的人口金字塔圖。其中哪兩個都市的機能依序為大學城、礦業都市？



- (A) 甲乙 (B) 乙丁 (C) 丙丁 (D) 甲丁 圖(七)

68. 圖(八)表示除南極洲外的六大洲(亞洲、歐洲、非洲、北美洲、拉丁美洲、大洋洲)人口占世界總人口的比例。下列關於此圖的敘述：



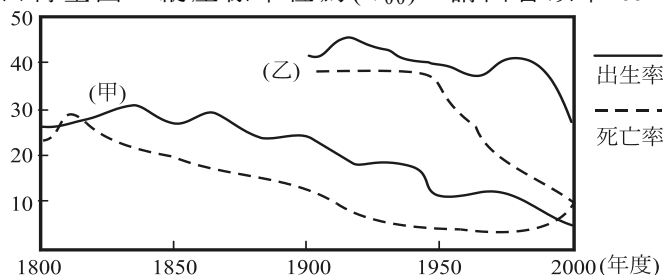
圖(八)

- (甲)a 洲深受戰亂、疾病的威脅
 (乙)b 洲都市人口規模分布型態易出現複合型都市
 (丙)c 洲人口集中於「季風氣候」分布區
 (丁)e 洲面臨人口高齡化的問題
 正確的選項為何者？

- (A) 甲乙丙 (B) 乙丙丁 (C) 甲丙丁 (D) 甲乙丁

69-70 題為題組

圖(九)是甲、乙兩國人口轉型圖，縱座標單位為(‰)，請回答以下 69-70 題。



圖(九)

69. 下列有關甲、乙兩國的人口成長敘述：

- (甲)乙國人口老化的速度較甲國花費時間快
 - (乙)20 世紀初期乙國人口轉型位於低穩定階段
 - (丙)目前老年人口比率，乙國高於甲國
 - (丁)目前決定甲國人口成長主要因素為出生率
- 哪些敘述正確？

- (A) 甲乙 (B) 丙丁 (C) 乙丙 (D) 甲丁


70. 下列有關甲、乙兩國的敘述，何者正確？

- (甲)甲國人口多，人均糧食、資源短缺
- (乙)甲國人口成長趨緩，可能出現學校招生不足
- (丙)乙國人口金字塔類型為縮減型
- (丁)在國際分工體系中，乙國適合從事勞力密集產業

- (A) 甲乙 (B) 甲丙 (C) 乙丙 (D) 乙丁

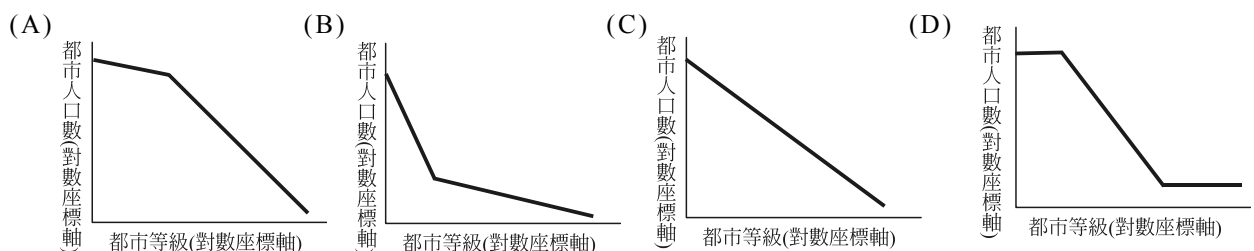
71-72 題為題組

圖(十)是南美洲某國的都市地景，請回答以下 71-72 題：



圖(十)

71. 該國的都市人口規模分布型態，最有可能是下圖中何者？



72. 下列關於此地景的土地利用方式敘述，哪些正確？

- 甲、受到郊區化的影響
- 乙、提供移民暫時棲身之所
- 丙、提供充足的就業機會
- 丁、多分布於都市外圍

- (A) 甲乙 (B) 乙丁 (C) 甲丙 (D) 丙丁