

# 全國公私立高級中學

100 學年度學科能力測驗第三次聯合模擬考試

考試日期：100 年 11 月 3~4 日

## 社會考科

### —作答注意事項—

考試時間：100 分鐘

題型題數：

- 單選題共 72 題

作答方式：

- 用 2B 鉛筆在「答案卡」上作答，修正時應以橡皮擦拭，切勿使用修正液(帶)。

祝考試順利

## 單選題 (占 144 分)

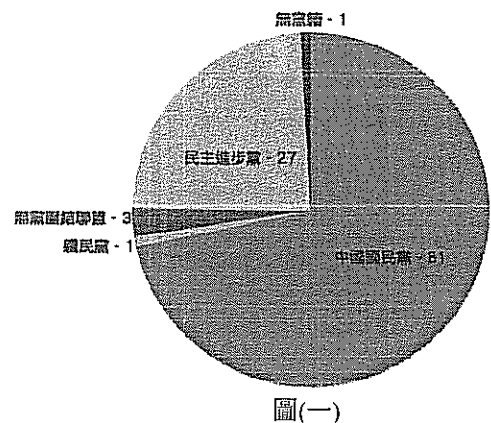
說明：第 1 題至第 72 題皆是單選題，每題均計分，每題 4 個選項，其中只有一個是最適當的答案，畫記在答案卡之「選擇題答案區」。各題答對得 2 分；未作答、答錯、或畫記多於一個選項者，該題以零分計算。

1. 下列關於自我形成理論的敘述，何者正確？
  - (A) 佛洛依德認為青少年階段的發展經驗是否得宜，會影響到自我認同的形成
  - (B) 米德認為社會化的我是屬客我，自我的形成是主我與客我內在互動的結果
  - (C) 艾瑞克森強調自我受幼兒時的生活經驗影響，社會不影響自我概念的形成
  - (D) 顧里的「鏡中自我」認為透過模仿重要他人的行為舉止，會形成自我概念
2. 兩位出櫃的義大利同志控訴該國某醫院宣布拒絕同性戀捐血，認為此種作法違反歐洲聯盟的相關規定。這已非義大利首度發生類似爭議，2007 年也曾有一名年輕男同志向米蘭晚郵報投訴，宣稱他並沒有吸毒、性病，也沒有任何傳染病史，只因為是同性戀就被醫院拒絕捐血。根據此則新聞所述，顯現了下列何種現象？
  - (A) 性別主流化
  - (B) 性別社會化
  - (C) 異性戀霸權
  - (D) 玻璃天花板
3. 在世界快樂地圖、快樂星球指數等調查中，不丹都名列前茅，不丹政府幾年前曾公布一項調查，稱 97% 國民表示他們非常快樂。然而，跡象顯示不丹人其實不再那麼快樂，從過去與世隔絕到現代化的過程中，因社會貧富差距拉大，使部分人民無法承受壓力，而導致自殺與犯罪率逐漸提高。根據上述內容，若從馬斯洛(Maslow)的需求層次而言，不丹人們的不快樂，可能來自何種需求層次的滿足出現問題？
  - (A) 自我實現
  - (B) 安全
  - (C) 尊重
  - (D) 愛與隸屬
4. 「天皇皇，地皇皇，無邊無際太平洋，左思想，右思量，希望在何方？天茫茫，地茫茫，無親無戚靠台郎；月光光，心慌慌，故鄉在遠方。」這首「日久他鄉是故鄉」是台灣「識字班之歌」的教唱歌曲內容。由此首歌的歌詞判斷，其教唱的對象與內涵應為下述何者？
  - (A) 隨國民政府撤退來台的外省籍老兵，對祖國產生的思念與恐慌
  - (B) 白色恐怖年代，被囚禁在綠島的政治思想犯對親人的無助思念
  - (C) 過去台灣義務役阿兵哥在金門、馬祖等外島服役時的茫然無奈
  - (D) 新移民的女性對家鄉的思念及對跨國婚姻新環境所產生的不安
5. 泰國新年的「潑水節」是傳統習俗，民眾以相互潑水來慶祝，並藉以除舊布新，驅除過去不好的事，為來年祈福。在台灣，隨著外勞與外籍新娘的增加，每年在新北市的中和也會見到這個屬於異文化的節慶。根據上文所述，構成此種現象的形成原因為何？
  - (A) 傳播
  - (B) 殖民
  - (C) 移民
  - (D) 涵化
6. 2010 年 2 月間紅標米酒降價，各新聞台都大做原住民喝酒新聞，還有電視台標題「米酒降價，原住民又喝起紅標了」；T 台有線電視的新聞畫面則播出「原住民見面先乾杯」，凸顯了原住民家庭愛喝酒的印象；另為搶救失業潮，某地方政府安排短期工到原住民家庭訪視。根據上述新聞內容，可看出媒體報導的何種現象？
  - (A) 關注台灣原住民族的權益
  - (B) 關注社會主流文化的議題
  - (C) 強化對原住民的刻板印象
  - (D) 過度報導社會或民生議題



13. 考試院研擬修正《公務人員考績法》，將擬定考績「丙等」的比例為 3%，消息一出，即引起正反兩面激烈的討論。請問下述何者屬於該法所規範的對象？  
(A) 教育部中教司專員 (B) 台南市教育局局長  
(C) 屏東縣恆春鎮鎮長 (D) 礁溪鄉的鄉民代表
14. 我國跆拳道好手楊淑君參加廣州亞運時，因腳部感應器問題，被判定失格，不僅無法晉級決賽，更有可能因此而喪失未來參加奧運的資格，引發國人關注與不滿。下列關於我國參加國際賽事之敘述，何者正確？  
(A) 此次我國參加亞運，是以中華台北名稱參加  
(B) 奧運為聯合國舉辦，故我國必須以中國台北名稱參加  
(C) 我國透過參與國際運動賽事增加能見度，是屬多邊外交  
(D) 國民黨重新執政後，兩岸關係改善，我國已能與他國發展正式外交關係
15. 某國國會大選結果，在 300 個席次中，A 黨獲 126 席，B 黨獲 108 席，C 黨獲 37 席，其他小黨共 29 席。由於沒有任何政黨贏得議會的過半數議席，因此必須組成聯合內閣。依上述條件判斷，實施該制度的國家應為下述何者？  
(A) 美國 (B) 英國 (C) 法國 (D) 台灣

16. 圖(一)為 2008 年台灣的第七屆立法委員選舉結果，其中國民黨獲得 81 席，民進黨獲得 27 席，其餘小黨或無黨籍人士獲得 5 席。其中在不分區立委的當選席次中，只有國民黨與民進黨達到 5%得票率的門檻，並按各自的得票率分別分得 20 與 14 席的席次。選後也引發各界對於我國選制的議論。請問若要修正台灣採行之選舉制度所產生的「政黨得票率與當選席次不成比例」的問題，可採行下述何種選舉制度？



- 甲、複數選區單記制  
乙、完全政黨比例代表制  
丙、單一選區絕對多數制  
丁、小選區與政黨比例混合之聯立制  
(A) 甲乙 (B) 丙丁 (C) 甲丙 (D) 乙丁
17. 兩岸關係在過去，往往因為不同的執政者，而有不同的政策主張。請問下列哪位總統將兩岸定位為「特殊國與國的關係」？  
(A) 蔣介石 (B) 李登輝 (C) 陳水扁 (D) 馬英九
18. 我國在 2003 年通過「公民投票法」，而國內也已舉行過多次的公民投票。2010 年間消基會就曾推動美牛輸台議定書應重啟談判的美牛公投提案，但卻遭失敗。請問：從我國公民投票法的相關規定檢視，上述美牛公投提案失敗的可能因素，下列何者正確？  
(A) 消費者文教基金會無權發動公民投票，重大公共政策之複決應由行政院提案  
(B) 公民投票的提案有一定連署門檻，若未達此門檻，則該公投之提案即未通過  
(C) 美牛輸台議定書屬行政部門之行政裁量權，消基會不得就此議題提出公投案  
(D) 我國《公民投票法》規定租稅、人事、預算、重大公共政策不得提公民投票

19-20 題為題組

卓溪鄉清水農場撤去警總管訓流氓的鐵幕後，國有財產局 94 年放租 68 公頃給民眾耕作，卻演變超耕 700 公頃，原始林慘遭濫墾殆盡。原民會土地管理處處長表示，這些土地使用人，都非卓溪鄉布農族，卻在原住民傳統領域違法濫墾，讓外界都誤會是原住民所為，如今在他們收回土地後，原住民也同時成立護山巡守隊，展開復育工作。

19. 若從社會運動的定義而言，原住民護山巡守與對山林的復育行為，下述何者正確？
- (A) 護山巡守屬對自身利益的捍衛，故不屬社會運動  
 (B) 社會運動必然會產生與社會利益相互衝突的立場  
 (C) 巡守隊強調的志願行動正是社會運動的重要特色  
 (D) 社會運動強調由政府組織是一種由上而下的號召
20. 國有財產局將山地小面積放租給原住民耕種，但到最後卻演變成外來民眾大規模的濫墾。對於此現象的敘述下列何者正確？
- (A) 原住民自治原則下政府公權力無法執行  
 (B) 一般民眾對於山林保育缺乏利他的觀念  
 (C) 原住民為求經費須求助企業，因此失去使用山林的自主性  
 (D) 因原住民僅擁有土地使用權，卻缺乏所有權，故產生濫墾

21-22 題為題組

苗栗縣府強制徵收大埔稻田事件，引發各地農民大串連，近兩千人夜宿凱達格蘭大道，高喊「還我土地」、「停止圈地惡法」，抗議中央忽視各地方政府與利益團體掛勾的行為，並要求儘速修訂土地徵收條例。藉著臉書、噗浪等網路工具串連、分享公民記者拍攝的怪手毀田的影片，成功動員了社會各界與農民併肩怒吼。

21. 依現行土徵條例施行細則規定，土地徵收應儘量避免徵收耕地。依此原則，若大埔農地被徵收的農民們對縣府徵收行動有異議時，按法定程序應如何處理？
- (A) 農民可進行連署提案，聲請大法官解釋憲法  
 (B) 要求總統發動公民投票，對此政策進行複決  
 (C) 可依法提起訴願，訴願不服，再提行政訴訟  
 (D) 強佔被徵收之農地，以禁止警方公權力進入
22. 政府為興建工業區而強行徵收農地，並派推土機強行破壞現有耕地與作物的作法，不符合國家存在的何種目的？
- (A) 增進公共利益  
 (B) 維護文化傳統  
 (C) 落實社會正義  
 (D) 維持國家安全

23-24 題為題組

王老先生是一位台商，某日因心肌梗塞驟逝，留下一千萬遺產，其有外籍配偶阿阮及四名子女大寶、二寶、三寶及四妹；其中四妹已出嫁，大寶則育有兩子。倘若王老先生結婚時與配偶阿阮並無登記採用何種夫妻財產制，請回答下列問題：

23. 若王老先生未留有遺書，若依法配偶阿阮可分得多少遺產？
- (A) 500萬  
 (B) 250萬  
 (C) 200萬  
 (D) 外籍配偶不得分配遺產

24. 若王老先生留有遺書，希望將全部遺產給配偶阿阮，此時四妹因生活貧困，希望爭取遺產。請問下述何者正確？
- (A) 出嫁女兒依法不得分配遺產  
(B) 四妹可依法提出特留分之請求  
(C) 王老先生立有遺囑，故須完全遵照其意願  
(D) 須獲得阿阮及其他兄弟全部之同意方能分配
25. 2010年的世界盃足球賽，最終由西班牙隊奪冠，有人打趣地說：「西班牙總算報仇成功，一吐三百多年前於聖多明哥城前輸給荷蘭的嘔氣」。我們應具有台灣荷西時代的哪些正確歷史知識，方能體會其中的歷史小玩笑呢？
- 甲、1626年西班牙人沿著台灣東部北上，進占淡水時建聖多明哥城。  
乙、1624年荷蘭人因受明朝圍迫棄守澎湖，而退居大員時建熱蘭遮城。  
丙、荷蘭以天主教來教化南台灣，西班牙則以基督教感化北台灣。  
丁、西班牙人因濱田彌兵衛事件而導致日本鎖國，致使對日貿易受挫而在台式微。  
戊、荷蘭乘西班牙轉調軍隊對抗菲律賓南部的印度教徒之機，北上強占其據點。
- (A) 甲乙丙丁戊 (B) 甲乙丙丁 (C) 甲乙丙 (D) 甲乙
26. 哈佛大學奈伊(Joseph S. Nye, Jr.)教授提及國家的文化軟實力，將可助該國吸引外資進駐，並有達其內部效忠與外部宣揚的政治目的，而舉辦博覽會即有此功能。試問 1935年於台灣所辦的始政四十周年台灣博覽會，探究日本官方的目的應有下列哪些？
- 甲、1933年日本因「滿州國承認與否事件」退出國聯，遭國際孤立，試圖以此博覽會宣示世界「台灣乃南進政策的基地」。  
乙、1933年日本因「滿州國承認與否事件」退出國聯，遭國際孤立，試圖以此博覽會宣示世界「日本乃和平之師」。  
丙、讓海內外人士瞭解總督府在台灣的经营成果。  
丁、介紹台灣特有風土民情，推廣台灣觀光。  
戊、啓蒙教化台灣民眾認同台灣，與反殖民的思維。
- (A) 甲丙丁 (B) 乙丙戊 (C) 甲丙戊 (D) 乙丙丁
27. 欲甄試歷史系的小蔡，決定以「清代的台灣生活」為主題來進行拍攝和製作一部短片。影片畫面首先呈現距今約300多年前的(甲)台灣棄留議題，靖海侯施琅力諫留治台灣，康熙皇帝決定以(乙)「防台而治台」的統治方針來治理，故而提出(丙)新渡台者不可攜眷來台，而早已來台者可提眷來台之處處充滿限制的「渡台禁令」；台灣雖於渡台禁令管控下，但於乾隆年間允許(丁)北艋舺、中鹿耳門以及南安平等三個合法的中國與台灣之對渡港，進而衍生出「一府二鹿三艋舺」之諺語，爾後於開港通商後，更廣開(戊)雞籠、滬尾、安平與打狗等四個港口。試問：在這部影片裡，我們應該幫小蔡挑出哪些錯誤？
- (A) 甲丙丁戊 (B) 丙丁 (C) 甲乙戊 (D) 丙丁戊
28. 小博欲拍攝「台灣文學發展史(1920年代~1980年代)」的紀錄片，即先整理各時期的文風，試問下列各時期的文學風格何者錯誤？
- (A) 1920年代反共懷鄉文學 (B) 1950年代戰鬥文藝  
(C) 1960年代反對反共文學與反現代文學 (D) 1970年代鄉土文學

29. 唐朝的武則天若深究其稱帝的歷程，我們可以得知武后得以能掌握實權，乃因其能使朝廷內的世家大族相互制衡，試問武則天到完成稱帝前即已有何種打壓士族措施？
- (A) 於唐高宗時，即命大臣修《氏族志》打擊世家大族的地位  
 (B) 於唐太宗時，鼓勵「買婚」，使得世家大族相互通婚，門閥觀念漸淺  
 (C) 於武后時科舉考試加試詩賦，積極拔擢寒門以抗山東經學世家  
 (D) 因為黃巢之亂，致使土地經濟崩潰，乃至世家大族無暇對抗皇室
30. 曹操〈求賢令〉的「用人唯才不論品德」和魏文帝(曹丕)採用陳群的「九品中正制度(九品官人法)」，可以得知曹操與曹魏政權求才若渴之際，乃因當世何種社會情勢？
- (A) 由於曹操篡東漢政權，欲拉攏有才者以抗反篡位之德眾，故求才若渴  
 (B) 由於曹魏身處北邊，有烏桓和高句麗等兩大強悍外族威脅，不像蜀漢僅有西南夷騷擾、孫吳僅有山越民族侵擾，故求才若渴  
 (C) 由於東漢末年兵禍連年，致使中原人口大量移入揚州與荊州，乃至交州，故蜀漢與孫吳人才濟濟，恐危及曹魏政權，故求才若渴  
 (D) 由於東漢末年以來天災連年且兵戎頻繁，不僅人口嚴重流失，更致使人民戶籍散佚，故求才若渴
31. 史書載：「秀才盧生，自(唐)天寶後三代，或仕燕、或仕趙，兩地皆多良田畜馬，生年二十，未知古人曰周公孔夫子…」由上述的內容，我們可以得知唐朝於玄宗以後的書生竟然不知周公或孔夫子，試問此言乃主要展現出唐朝於玄宗之後，處於何種情況的社會？
- (A) 武則天爲了奪權，而廣開科舉以培養自己於朝中的實力，冀能與朝中的山東世族抗衡，因而使得唐朝武風鼎盛  
 (B) 由於安史之亂後，唐朝北方處於藩鎮割據之局，年輕一代唯一出路就是當兵，讀書已不符合時代需求，故書生不知周公或孔子  
 (C) 由於玄宗以後，唐朝皇權低落，皇帝恐有政權被取代和生命安危的緊急問題，因而充實禁軍，廣開武舉，致使武風鼎盛  
 (D) 安史亂後，北方文人大量遷移至江南，致使北方的文風不盛，留於北方的後代書生找不到文教導師，知識低落
32. 書載：「西元前一千三百年，於黃河中游有以土堆堆成城牆的村莊，即稱爲邑，是爲大都市(大邑)所管轄，並以大都市爲集團抵抗周邊游牧民族的攻擊；而其○○君主身分等同於神，且以祭司長的身分來祭支配神與祖先，另藉由龜甲或肩骨龜裂之象，來判神與祖的意旨。」由上述，我們可以知道○○君主應爲下列何者？
- (A) 夏代的啓  
 (B) 周代的武王  
 (C) 商代的盤庚  
 (D) 傳說的黃帝
33. 「○○，獲得第一個殖民地後，致使日本國民歡迎『軍國主義』，舉凡於體育的場合中增加了軍隊戰爭模式，甚至於小朋友的遊戲也中盛行戰爭競逐，乃至明治 28 年(1895 年)9 月的帝國教育大會中，決議小學校的尚武精神與兵事體操，以及堅毅精神的養成，…，即於該年在京都成立『大日本武德會』來推行國粹與尚武精神的體育政策。」由上文中我們可以知道，日本崇尚「武德」和「軍國主義」，主要是因爲○○，試問○○是指？
- (A) 牡丹社事件  
 (B) 甲午戰爭  
 (C) 日俄戰爭  
 (D) 九一八入侵中國

34. 1965 年，中國乒乓球代表隊贏得第二十八屆世界乒乓球錦標賽男子與女子團體賽冠軍，因而被國際譽為「世界頭號乒乓球國家」，正處於巔峰之際，於隔年卻爆發○○，該事件更指責「贏得的『乒乓球冠軍球杯』，其乃「資本主義」國家所提供的，是不正義的。」且幫中國贏得第一座乒乓球冠軍金杯和訓練女子隊奪金的容國團先生，也因而被清算逮捕，終究含冤而死。試問○○所指為何？
- (A) 「三反五反」運動 (B) 人民公社運動  
(C) 文化大革命 (D) 知識分子大鳴大放
35. 小任看完 BBC 所制作的「The Mystery of the Rosetta Stone(羅賽塔石碑的秘密)」，對 19 世紀的法國人商博良(Jean-François Champollion)深感佩服，不僅以市井小民之力對抗有大英帝國強力資源為後盾的湯瑪士楊(Thomas Young)，還日以繼夜、不屈不饒地在 1822 年解除埃及象形文字；商博良的成功不僅為法國爭回了顏面，並贏回了民族信心。試問我們對羅賽塔石碑的歷史應有何認識？
- (A) 石碑上的象形圖文記錄著阿拔斯王朝的統治歷程  
(B) 石碑乃法國拿破崙三世進軍埃及，隨行學者藉機研究，並編有「埃及描述」  
(C) 石碑乃因英國進軍埃及而得的，湯瑪士楊才得以進行相關研究  
(D) 石碑上的古希臘語，證明埃及的上層階級希臘化
36. 日本進入平安時代(794~1192 年)，到了 1016 年文官藤原道長任太政大臣，使得「攝關政治」迎向全盛，致使天皇式微；天皇為了與之抗衡，因而重用並拉抬原本處於保護文官的下階「武士階級」，但卻導致平氏武士階級掌權，甚至平安時代終結於源氏所建立的幕府，更創立了武士階級統領國家的幕府傳統；試問下列何人建立幕府？
- (A) 足利尊氏 (B) 豐臣秀吉 (C) 織田信長 (D) 源義經
37. 從李安的「色戒」我們可以看到，其中引用汪精衛於刺殺滿清攝政王載灃未成而被捕入獄的「慷慨歌燕市，從容做楚囚；引刀成一快，不負少年頭。」革命愛國名言，因緣巧合地發展成片中愛國志士鄺裕民誓死刺殺汪精衛的從容快歌，歷史的巧合和玩笑時常可見。試問汪精衛從愛國的革命志士，可能因哪個事件於片中反倒變成人人得而誅之的賣國賊？
- (A) 聯俄容共 (B) 寧漢分裂 (C) 中山艦事件 (D) 南京汪精衛政權
38. 馬可波羅的《東方見聞錄》載：「在遙遠的東方帝國之南方，住有一群『蠻子』，其眾在狹小的農地上集體勞動，以求得生計。」，就其所指的「蠻子」我們可推知其應為何者？
- (A) 蠻子，應指該時代的「色目人」階級  
(B) 蠻子，應指該時代的「南人」階級  
(C) 蠻子，應指該時代的「蒙古人」階級  
(D) 蠻子，應指該時代的「漢人」階級
39. 甲午戰爭後，中國陷入瓜分之境，小強的列強瓜分區域筆記如下，甲、俄國占有東三省、蒙古與西北地區；乙、英國強占廣西與雲南；丙、德國占據山東；丁、法國占長江流域；戊、美國占有福建。試問上述各列強瓜分中國的區域何者正確？
- (A) 甲乙丙丁戊 (B) 甲乙丙 (C) 甲丙 (D) 乙戊



40-42 為題組

資料一：1650 年「遵照我們本月 5 日的決議，將公司轄區裏全部福爾摩沙的村莊、河川和漁場，發給出價最高的人……含西港溪和直加弄溪，包括蕭壠地區的邊緣直到岸邊，因為位於蚵港南邊的那條淡水的蕭壠溪的溪口也一起發。」

資料二：1653 年「長官呼籲原住民去開墾直加弄溪附近的土地，如果事後發現福爾摩沙人對此沒有興趣，那麼，鑑於缺乏糧食，他將准許公司人員去那裡耕種小麥。」

資料三：1654 年「含西港溪和直加弄溪，即從蕭壠溪的岸邊，那產螺淺水區的南邊流下來的溪水漁場，因原住民的要求，繼續不發。」

資料四：1655 年「頭家來向我們投訴說，蕭壠社有些原住民不肯離開，他和其他人去年獲准租用在直加弄的土地，雖然很友好地同意收取(承購)他們種在那土地上的全部作物。因此，今天長官閣下寄一封信去給那裡的政務員，要他命令那些原住民說，只要頭家使他們滿意地轉用這些土地，例如補償在這土地上的果樹和竹子，他們就得離開這些土地。」

40. 由上述四資料，我們可以明顯的知道這應該是描述台灣哪族的原住民？  
(A) 馬賽族 (B) 洪雅族 (C) 馬卡道族 (D) 西拉雅族
41. 由上述四資料，假若我們要撰寫該地原住民生活，下列何資料最不適合我們拿來對照參考？  
(A) 西班牙傳教士艾斯維其(Jacinto Esquivel) 的傳教紀錄  
(B) 明陳第《東番記》對原住民的描述紀錄  
(C) 荷蘭傳教士甘治世(Georgius Candidius)《台灣島志略》的傳教紀錄  
(D) 清郁永河《裨海紀遊》對原住民的紀錄
42. 綜合「資料一、資料二與資料三」，我們可以做何種的合理解釋？  
(A) 說明了公司總是壓迫該地的原住民讓出土地和漁場，好讓公司開墾  
(B) 公司會適時讓步給原住民，以避免原住民抗爭，更可抑制來開墾人的漢人勢力  
(C) 原住民不吃麥，所以對於小麥的種植沒有興趣，因此公司必須自行耕種獲取  
(D) 公司獲取的漁場和土地，即以出價最高者得標，而獲標者即擁有使用與所有權

43-46 為題組

Russ 的原意乃划槳的櫓夫，而所謂的 Russia(俄羅斯)即是指划槳的櫓夫所在的地方；而於 9 世紀~13 世紀中葉，俄羅斯人建立基輔公國，並且藉外來的文字拼寫創造出屬於自己的斯拉夫語，但其政權並未順利發展，因為 13 世紀又被外來民族統治，所幸外來政權只管稅收，而不深入限制其他，致使俄羅斯本土的政治重心尚可北遷，15 世紀擊敗外來民族，至 16~18 世紀建立一個橫跨歐亞的大帝國。

43. 俄羅斯被命為划槳的櫓夫，是指其幫助於波羅的海的維京人往來黑海的貿易而得名，且再藉由聶伯河順勢來到黑海(希臘人之海)，另順窩瓦河南下來到裏海(中亞)，於其間扮演著拜占庭和○○民族的仲介，試問該○○民族所指為何？  
(A) 日耳曼 (B) 中國 (C) 條頓 (D) 伊斯蘭
44. 基輔公國於 13 世紀中葉，被外來民族擊潰並統治，試問該民族是？  
(A) 蒙古 (B) 日耳曼 (C) 拜占庭 (D) 維京人

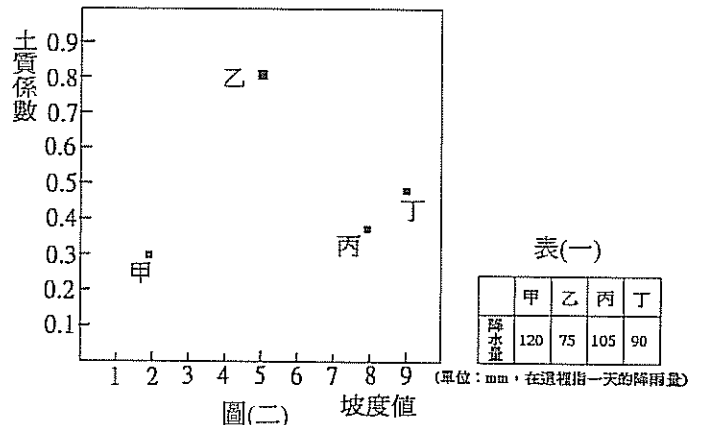
45. 16 世紀中葉，○○以繼「羅馬帝國」與「拜占庭帝國」後的「第三羅馬帝國」自居，並自稱沙皇而建立俄羅斯沙皇國，試問○○為何人？  
(A) 彼得一世(彼得大帝) (B) 伊凡四世  
(C) 尼古拉一世 (D) 亞歷山大一世
46. 拜占庭帝國的宗教傳入東歐斯拉夫人地區，而傳教士○○利用希臘字母而創立斯拉夫語，試問○○為何人？  
(A) 聖巴德利爵(St. Patrick) (B) 聖奧古斯丁(Aurelius Augustinus)  
(C) 西利爾(Cyril) (D) 聶斯托理(Nestori)

47-48 為題組

1526 年巴布爾攻佔蘇丹，並討平蘇丹國，統一印度北部，建立印度史上著名的蒙兀兒王朝(1526~1858)；至第三任帝王阿克巴以身作則地破除成見迎娶○○教的公主為妻，並禁建□□教的寺廟，因此緩和了國內的宗教衝突，廣受當地的人民愛戴，致使印度人民認同蒙兀兒王朝於印度的合法性，並成就了印度史上的黃金盛世；但蒙兀兒的第六任帝王奧朗則布不同於其先祖父，打破其先祖父對宗教的寬容，不僅對異教徒徵收差別稅，且又大肆地破壞異教徒的寺廟，因而時至今日，於印度尚可看到宗教的衝突。


47. 承上述，○○與□□的配對何者正確？  
(A) 佛教與伊斯蘭教 (B) 印度教與伊斯蘭教  
(C) 伊斯蘭教與印度教 (D) 藏傳佛教與印度教
48. 阿克巴的宗教寬容措施，如同法國的○○頒布〈南特詔令〉，試問○○為何人？  
(A) 路易十三 (B) 亨利八世 (C) 亨利四世 (D) 威廉三世
49. 俄羅斯發生號稱千年來最嚴重的森林大火肆虐，大批林地受到破壞，恐將造成當地甚至全球的生態浩劫。在這次森林大火中受到波及、燒毀的森林，可能屬於下列哪些景觀帶？  
(甲)灌木林景觀帶；(乙)針葉林景觀帶；(丙)混合林景觀帶；(丁)莽原景觀帶  
(A) 甲丙 (B) 乙丁 (C) 乙丙 (D) 甲丁
50. 歐洲各國的主權債信問題，有如雨後春筍般一個接一個的冒出頭來。在冰島宣布破產後，再次因「PIGS」即葡萄牙、義大利、希臘與西班牙等國的赤字問題，引發世人對歐洲主權債信的疑慮，亦將延緩全球經濟復甦的腳步。下列關於「PIGS」四國的敘述，何者正確？  
(A) 皆臨地中海 (B) 皆為申根公約國  
(C) 最晚加入歐盟的是希臘 (D) 皆為歐盟的創始會員國

51. 土壤侵蝕量主要受到一地的土質、坡度及單位時間降雨量的影響，四者之間的關聯程度如下： $\text{土壤侵蝕量} = 2 \times \text{土質係數} \times 5 \times \text{坡度值} \times 0.8 \times \text{降雨量}(\text{mm}/\text{日})$ 。某日測得甲~丁四地的日降雨量如表(一)所示，請根據上述公式判斷，圖(二)中甲~丁四地，何者的土壤侵蝕量最大？  
(A) 甲 (B) 乙  
(C) 丙 (D) 丁



52. 2010 年世界盃足球賽在南非舉辦，這是非洲國家第一次舉辦國際足球賽事，南非政府也卯足全勁，希望透過足球賽事可以讓南非踢進經濟成長大國之林，所以有人預測「南非可望成為世界第五金磚國家」。南非之所以被期許成為第五金磚國家主要與下列何種產業的發展關係最密切？
- (A) 石油開採
  - (B) 栽種熱帶經濟作物
  - (C) 觀光資源相當豐富
  - (D) 為稀有重金屬重要產地

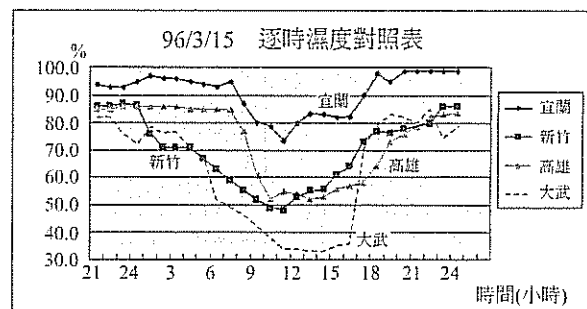
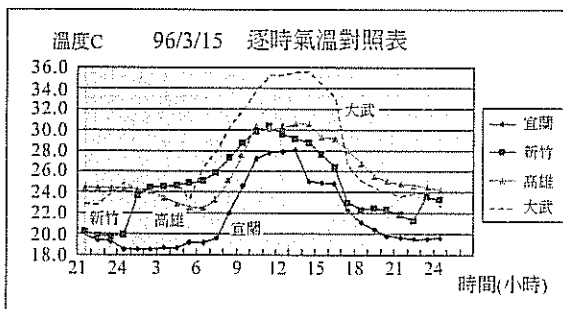
53. 圖(三)為某地的自然景觀照片，目前該景觀帶所面臨的環境危機主要為下列何者？
- (A) 全球暖化造成該地植被大量減少
  - (B) 為求經濟發展大量砍伐造成環境危機
  - (C) 因發展農業大量噴灑農藥形成土壤污染
  - (D) 屬於單一化的高經濟價值商業林，消失速度快



圖(三)

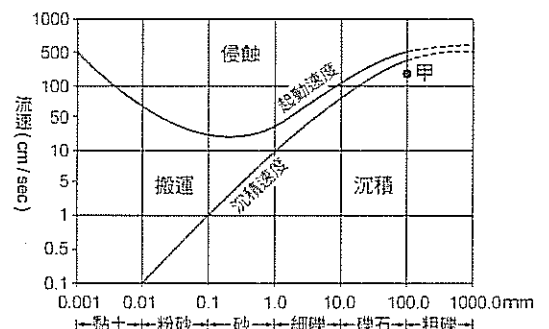
54. 地理資訊的取得可以分為第一手資料與第二手資料，下列四種取得資料的方式，何者屬於第一手資料？
- (A) 到鄉公所查閱路竹鄉人口增減資料
  - (B) 利用網路蒐集景美地區的聚落發展沿革
  - (C) 參看 Google Earth 的景觀照片發掘各地問題
  - (D) 設計問卷在賣場訪問以瞭解消費者消費行為

55. 圖(四)為宜蘭、新竹、高雄、大武地區在 96 年 3 月 15 日的逐時氣溫與濕度對照表，根據圖中資訊判斷，當天大武地區可能受到何種氣象因素影響？



圖(四)

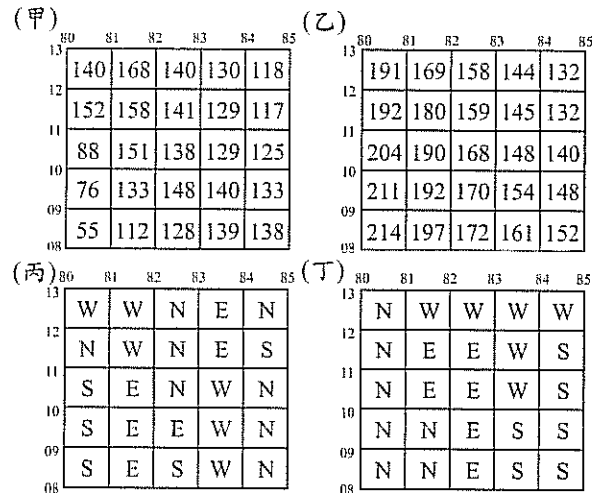
- (A) 當地颳起焚風
  - (B) 冷氣團南下影響
  - (C) 受到落山風的影響
  - (D) 滯留鋒面在當地停滯
56. 圖(五)為河川流速與搬運物質粒徑大小關係圖，下列臺灣各地何者最可能出現與甲處相同條件的地形景觀？
- (A) 高雄西子灣
  - (B) 花蓮縱谷區
  - (C) 高雄市月世界
  - (D) 雲林縣崙背鄉



圖(五)

57. 在都市的規劃當中，公共設施的面積多寡對於市民居住品質的維持有一定的幫助。就個別都市來說，影響公共設施設立面積的最重要影響因素為何？  
 (A) 都市機能 (B) 交通網路分布狀況  
 (C) 當地未來人口推計值 (D) 土地利用分區管制法條
58. 在 1980 年代時，日本產業因應內部與外部環境的改變，紛紛外移，也因此掀起產業空洞化的疑慮與危機。下列造成日本產業外移的因素中，哪三項是正確的？  
 (甲)日幣大量貶值 (乙)人口高齡化造成勞動成本上升  
 (丙)規避歐美國家的關稅障礙 (丁)基於比較利益選擇最佳區位  
 (A) 甲乙丙 (B) 甲丙丁  
 (C) 甲乙丁 (D) 乙丙丁
59. 爲了增加競爭力，許多國家透過結盟的方式以達到合作的目的。下列各個不同的區域組織，何者的會員國組成跨越的洲別最多？  
 (A) EU (B) OAS  
 (C) APEC (D) ASEAN

60. 圖(六)中(甲)~(丁)爲某地四種不同資料的網格示意圖。(甲)爲該地各網格內最低點(單位：公尺)，外框數字爲網格座標；(乙)爲該地各網格內最高點(單位：公尺)；(丙)爲該地各網格的坡向示意圖；(丁)爲該地各網格的岩層走向示意圖。圖中每一網格的邊長代表實際距離爲 500 公尺。根據調查發現，當一地的坡度大於 7%，且位於順向坡時，遇到豪大雨時，發生地層滑動的機率便會大增。根據上述與圖(六)判斷，下列哪一網格若降下豪大雨時，最易產生地層滑動的自然災害？

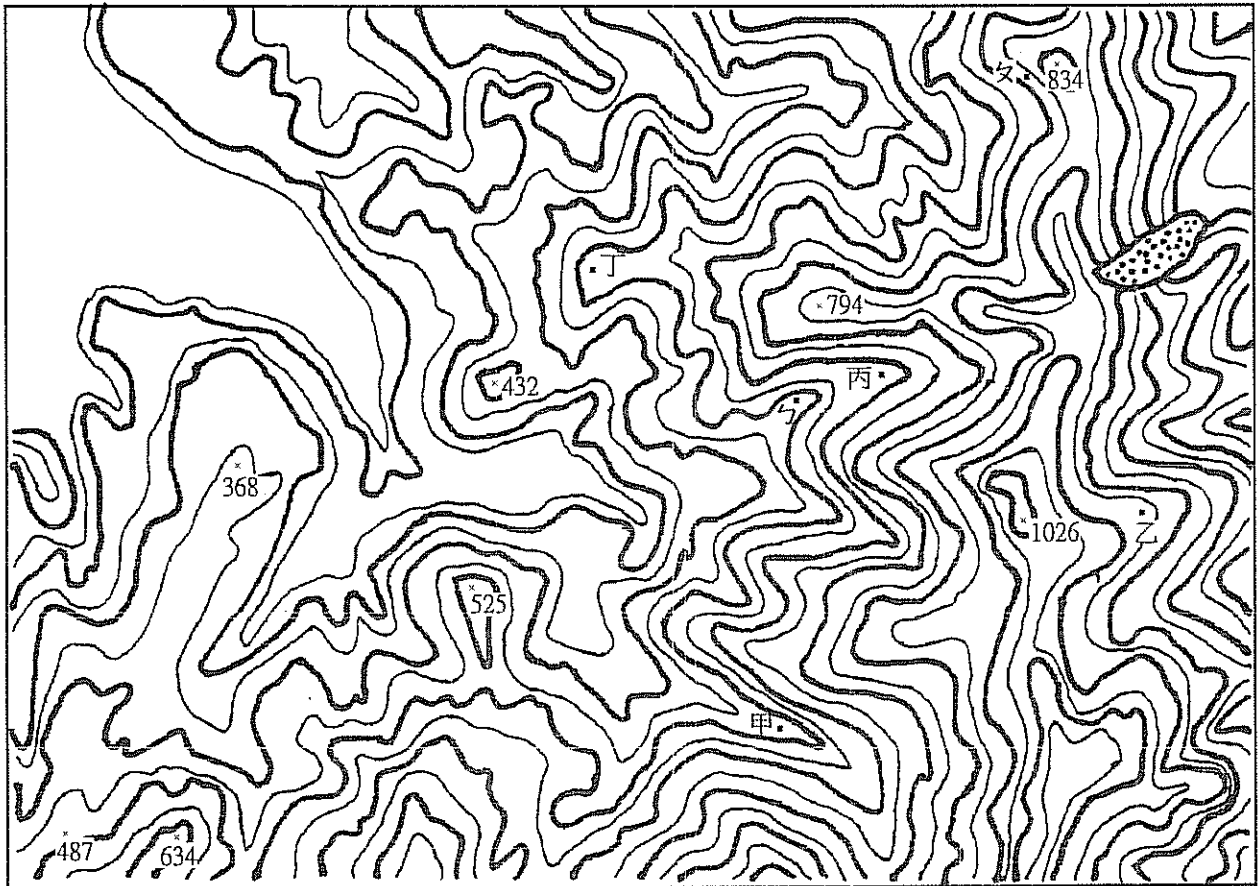


圖(六)

61. 位居澳洲西南部的伯斯因爲地處乾燥氣候的邊緣，因此在全球氣候變遷的環境改變下，備受乾旱之苦。若以伯斯所在地的氣候類型判斷，下列哪一個月份最可能是當地降雨量最少的月份？  
 (A) 1月 (B) 3月 (C) 6月 (D) 9月

62-64 題為題組

圖(七)為某地區的等高線地形圖，圖中數字代表當地的獨立標高點的高度(單位：公尺)。請根據該圖回答下列問題：



 崩塌地

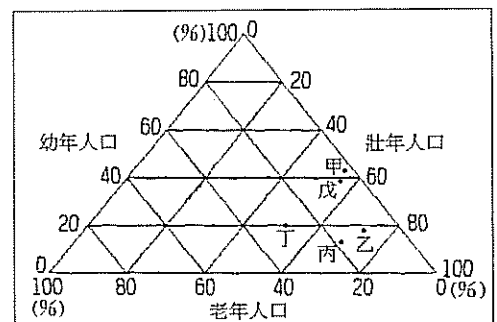
圖(七)

0 1 2  
(公里)

62. 圖中甲~丁四處，哪兩地在地形上屬於「谷地」？  
 (A) 甲乙 (B) 乙丁 (C) 丙丁 (D) 甲丙
63. 圖上獨立標高點的最高處距離圖中的「崩塌地」中心位置，其水平距離約為多少公里？  
 (A) 2公里 (B) 5公里 (C) 8公里 (D) 11公里
64. ㄅ-ㄆ剖面線之間，總共會出現幾個突起的山脊？  
 (A) 1個 (B) 2個 (C) 3個 (D) 4個

65-66 題為題組

「當某國家人口組成中，需被撫養的 14 歲以下少年與 65 歲以上老年人口佔 15~64 歲勞動人口比例小於 50% 便稱之為「人口紅利」(demographic dividend)時期。反之，若該人口扶養比例超過 60% 則稱之為「人口負債」。」圖(八)為五個不同國家的人口三角圖，請根據該圖及上文中的相關定義回答下列問題：




圖(八)

65. 下列哪一個國家的人口組成正好屬於「人口紅利」階段？  
(A) 甲 (B) 乙 (C) 丁 (D) 戊
66. 下列哪一個國家人口組成雖然屬於「人口負債」階段，但是未來應較具發展潛力？  
(A) 甲 (B) 乙 (C) 丙 (D) 丁

67-69 題為題組

圖(九)為七股地區的航空照，根據對照不同時期的航照圖發現，該地的海岸退縮速度很快，乙處的設施被視為是罪魁禍首之一。原本被視為「海田」的甲區，正面臨生存關頭的挑戰，所以當地居民也發起一連串的活動，希望可以喚起大眾的關注，共同為當地留下生機。請問：



圖(九)


67. 七股地區海岸線快速後退，與下列哪些敘述相關？  
(甲)興建漁港造成漂沙堆積失衡  
(乙)山區過度開發造成水土保持欠佳  
(丙)河川興建水庫導致下游輸沙減少  
(丁)超抽地下水致使地層下陷  
(A) 甲乙丙 (B) 乙丙丁  
(C) 甲丙丁 (D) 甲乙丁
68. 七股地區沿海一帶的濱外沙洲(青山港汕、網仔寮汕、頂頭額汕)，面積也不斷縮減，同時位移。根據上文內容敘述，這些沙洲的位移主要與哪一方向的海流方向有關？  
(A) 東北方向 (B) 東南方向  
(C) 西北方向 (D) 西南方向
69. 七股地區被視為「海田」，主要與當地哪些產業活動的生產有關？  
(甲)蚵架養蚵；(乙)設立大煉鋼廠；(丙)養殖九孔、鰻魚；(丁)利用定置漁網捕魚  
(A) 甲乙 (B) 丙丁 (C) 乙丙 (D) 甲丁

70-72 題為題組

面對中國投資大環境的改變，中國台商剛開始一直處於觀望中國、探路臺灣的心態，是否要迴游臺灣似乎左右為難！2005 年臺灣由僑委會設立「鮭魚返鄉專案」，2007 年經濟部成立台商回台投資辦公室，2010 年立法院通過「台商回流及吸引廠商進駐工業園區政策」。一時之間各縣市紛紛搶食投資大餅，透過各種方式開發工業區、提供設廠優惠，縣市政府招商能力愈強，其政績評比愈高。然而以後龍工業區為例，為了設廠必須徵收超過 300 公頃的優良農地，進駐的廠商如同大拼盤一般，電子、生技、機械、塑膠各種類型都有，這些廠商會造成什麼樣的環境問題，沒人說得清楚，臺灣真的還是必須用犧牲環境來換取經濟的成長嗎？政府口中所謂的產業升級，並不是將工業區取名為「科技園區」就算了，不是嗎？請問：

70. 當中國生產環境改變時，許多台商紛紛感受到生存的壓力，之所以無法在第一時間立刻決定續留中國或是回流臺灣，主要可以用下列哪一概念來解釋？  
(A) 區位轉移 (B) 工業慣性 (C) 國際分工 (D) 空間分工鏈

71. 由上文敘述可知，目前臺灣發展的思維趨近「犧牲農業成就工業」，彷彿工業發展才能使臺灣成爲已開發國家，此乃因爲工業具有下列哪些特性？
- (甲)工業發展往往能夠帶動商業與服務業的發展
  - (乙)發展工業可以解決勞動力過剩的問題
  - (丙)工業的每人平均產值高於農業
  - (丁)一地的工業發展程度與 GDP 成正比
  - (戊)工業是人類獲取生活資源的基本方式
- (A) 甲乙丙                      (B) 丙丁戊                      (C) 乙丁戊                      (D) 甲丙丁
72. 下列關於臺灣產業發展的敘述，何者才是真正符合「產業升級」的概念？
- (A) 將稻殼透過碳化技術轉變成爲高價肥料
  - (B) 寶成鞋業成爲耐吉集團最重要的產品製造商
  - (C) 臺灣企業家紛紛鮭魚返鄉在臺設立營運中心
  - (D) 聚陽企業發展成爲跨越9國、30個工廠的全球成衣供應鏈





全國公私立高級中學 100 學年度學科能力測驗第三次聯合模擬考試  
 社會考科解析

考試日期：100 年 11 月 3~4 日

1	2	3	4	5	6	7	8	9	10	11	12	13	14	15	16	17	18	19	20
B	C	B	D	C	C	B	A	A	C	C	A	A	A	B	D	B	B	C	B
21	22	23	24	25	26	27	28	29	30	31	32	33	34	35	36	37	38	39	40
C	C	C	B	D	A	B	A	C	D	B	C	B	C	D	A	D	B	C	D
41	42	43	44	45	46	47	48	49	50	51	52	53	54	55	56	57	58	59	60
A	B	D	A	B	C	B	C	C	B	D	D	B	D	A	B	C	D	C	A
61	62	63	64	65	66	67	68	69	70	71	72								
A	D	B	C	B	A	C	A	D	B	D	A								

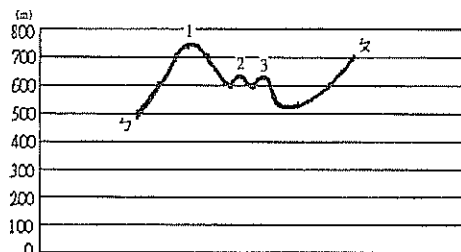
單選題

- (A)(C)艾瑞克森強調社會影響自我概念形成與發展，他將人的一生分為八個階段，每一階段都會出現影響自我發展的危機，若表現合於社會文化要求，則順利通過此危機，若未過關，便會出現心理危機或衝突，阻礙以後各階段之發展 (B)米德的主張為「主我」、「客我」，客我是一種社會的價值規範 (D)顧里的「鏡中自我」是想像自己的容貌或行為如何出現在別人的腦海中，而別人對於此容貌或行為是如何的評價，並藉此形成一種自我的感覺和反應
- (A)「性別主流化」是一個在政策與法律面的運動，希望藉由檢視並修改性別不平等的政策與法律，創造性別平等的社會 (B)「性別社會化」指性別角色是透過成長、發展及社會化的歷程學習而來 (C)「異性戀霸權」是指將愛情、性、婚姻與生育加以結合，使異性戀成爲一個社會的優勢，而同性戀則遭致歧視、迫害或被視爲異類 (D)「玻璃天花板」是指女性或少數族群沒有辦法晉升到企業或組織高層，而原因並非能力或經驗不夠，而是一種升遷的障礙，此障礙就像玻璃天花板一樣，看不到其存在，但卻擋在上頭
- 馬斯洛(Maslow)將人類需求分成：「生理、安全、愛與隸屬、尊重、自我實現」五個層次。其中生理需求是指最基本的需求，如水、食物、空氣；安全需求是指免於恐懼、危險及被剝奪的需求；愛與隸屬是指與人交往、歸屬及朋友、友誼等需求；尊重是指取得同儕團體的認同與尊重；自我實現是指個人對自我潛能的充分發揮。此處不丹人民因產生財富、生活等的比較感，而覺得不快樂，應屬安全需求
- 此是描述遠從東南亞飄洋過海嫁來台灣的外籍新娘的心情與故事的歌曲，刻畫了新移民的女性對家鄉的思念及對跨國婚姻新環境所產生的不安
- 來台工作之外勞、跨國婚姻的配偶，都屬於移民的一部分，外勞屬於短期的移工
- 此則新聞顯現電視台的報導內容缺乏對「多元文化」尊重，有歧視原住民之嫌，容易強化了社會對原住民的刻板印象
- 目前國內已有《廣播電視法》、《有線廣播電視法》等法源來規範；此外公民也可監督媒體改革，如台灣媒體觀察基金會等。而民眾也可以接近權(可要求更正、答辯)和使用權(自行製作內容在媒體發表)來表達或發聲
- (A)阿基師認爲要充分利利用食材，不能浪費是一種廚師的專業，此是屬「工作倫理」，即個人在工作時對社會大眾及工作本身所應遵循的行為準則和道德規範 (B)科

- 技倫理是指人類如何發展和使用科技的道德規範與行為準則 (C)生命倫理是指個人對生命的意義與價值所抱持的態度 (D)資訊倫理是指人們在製造、使用資訊時所產生的倫理問題，例如在網路上進行資料複製時，可能構成著作權問題
- (A)是指當公權力的行使涉及人權限制時，其所欲達成的「目的」和所採行的「手段」間，應有適當的對應比例。若採取的手段無法達成其目的；或雖能達成目的，但所採取的手段卻太過激烈即屬違反比例原則 (B)公益原則是指除爲防止妨礙他人自由、避免緊急危難、維持社會秩序，或增進公共利益所必要者外，不得以法律限制之 (C)法律保留是指政府對人民基本權利的限制，必須以法律定之 (D)無罪推定原則：被告在未經審判證明其有罪前，應推定其爲無罪，此爲刑法中對被告的人權保障
  - 課稅需有法律明文依據或授權，否則行政機關不能任課稅，此即「法律保留原則」。因此阿兩市長的行為並不合法
  - (A)不得溯及既往是指刑法的效力僅及於法律施行之後，不能溯及公布實行前的行為 (B)習慣法是指法律未明文規定的事項，但爲多數人在長時間內反覆施行，並爲國家所承認的社會生活規範。犯罪和刑罰的規定應力求明確，使一般人能明白遵守而不至誤觸法網，因此刑法必須以成文法爲法源 (C)禁止類推適用是指法律未規定的事項，不可援引、適用類似性質的法律條文而加以處罰 (D)絕對不定期刑是指法律完全不規定刑罰的種類和範圍，而交由法官自行決定。而如此將可能因法官個人好惡，而恣意裁判。故強調刑罰的種類以及其範圍，應有客觀的明確性
  - (A)爲民事訴訟，一審法院爲地方法院 (B)內亂外患罪之一審法院爲高等法院 (C)(D)皆爲高等行政法院所管轄
  - 教育部中教司專員爲國家考試及格，其餘皆爲政務官(B)或民選(C)(D)
  - (A)、(B)我國參加亞運、奧運等國際運動比賽是以「中華台北」參加 (C)多邊外交是指與兩個以上國家發展正式外交活動，但參與國際運動賽事，是屬國民外交 (D)兩岸目前關係緩和，但中國對台灣的打壓仍在，台灣尚未能與其他國家發展正式外交關係
  - 此爲內閣制國家，英國爲內閣制國家，美國爲總統制、法國與台灣爲總統制與內閣制之間擺盪的中央政府體制(雙首長制)
  - 若要使政黨得票率與當選席次相當，可採用政黨比例代表制或德國之混合制(屬聯立制)，我國採用的是類似日本的並立制，造成席次與得票率不相當

17. 馬英九總統在上任之後接受外國媒體專訪時，即將兩岸關係定位為「是非國與國的特殊關係，台灣與中國是自由地區與大陸地區的關係」。李登輝總統則主張「特殊國與國的關係」；陳水扁總統則主張「兩國論」。蔣介石時期則認為一個中國是中華民國，且不承認中國大陸是合法政權，強調漢賊不兩立
18. 依據我國《公民投票法》之規定，由人民所提之全國性公民投票案提案人人數，應達提案時最近一次總統、副總統選舉選舉人總數千分之五以上。連署人數應達提案時最近一次總統、副總統選舉選舉人總數百分之五以上。此次失敗即因連署人數未達法定門檻。(A)消費者文教基金會會有權發動公民投票，但須經上述提案與連署門檻 (C)立法院就全國性重大公共政策認有進行公民投票之必要者，得附具主文、理由書，經立法院院會通過後，交由中央選舉委員會辦理公民投票 (D)重大公共政策可提公投，但預算、租稅、投資、薪俸及人事事項不得作為公民投票之提案
19. (A)原住民護山巡守有助於整體社會利益，屬社會運動之一 (B)社會運動不必然會產生與社會利益相互衝突的立場，反而常有助於整體社會 (D)運動強調由下而上自發性的行動，且為一共同的目標而行動，故原住民的護山行動亦屬社會運動的一種
20. 此即共有財的悲歌，民眾缺乏公共利益的精神，過度濫墾濫伐。並非受原住民自治原則的限制或企業經費贊助所限制
21. 人民與行政機關之間因公法事件而發生法律爭議時，可視該事件的性質，分別尋求訴願程序或行政訴訟程序的救濟。而行政救濟程序，包括訴願與行政訴訟。訴願是人民認為中央或地方機關的行政處分違法或不當，導致損害其權利或利益；或人民因中央或地方機關對其依法申請的案件，於法定期間內應作出決定卻未作成，認為損害其權利或利益者，均可依法提起訴願。依訴願法提起訴願後，若訴願人不服決定時，可向高等行政法院提起行政訴訟。(A)而人民聲請釋憲是在憲法所保障之權利，遭受不法侵害，經提起訴訟，對於終局判決所適用之法律或命令，認為有抵觸憲法之疑義者方可提出 (B)總統發動之公投僅限於「當國家遭遇外來威脅導致主權有被改變之虞時」，方可提出「防禦性公投」 (D)並非合法程序
22. (A)增進公共利益是指國家必須提出適當的政策，促進社會與經濟發展，增進公共利益，而此次爭議即是國家以公共利益之名強行徵收農地，但卻忽視弱勢農民的權益 (B)是指國家藉由文化資產的保存，可使人民形成對國家的認同 (C)是指保障每個國民都受到國家同等的權利對待，國家也必須建立公平的社會與經濟制度，照顧社會上和經濟上的弱勢者 (D)維持安全與秩序是指國家對外在於確保國家領土完整與主權獨立，對內則在維護整體社會秩序的安定
23. 法定應繼分，配偶與第一順位(子女)繼承人繼承時，為均分，因此 1000 萬分成五份為 200 萬
24. 為保護法定繼承人，避免其生活陷於困境，民法特別保留一定比例之遺產給繼承人，而不受被繼承人以遺囑處分財產的影響，稱之為「特留分」。至於其比例，則是以法定應繼分為計算標準，按不同順位的人有不同比例，可謂繼承人最低限度之應繼份
25. 丙、荷蘭傳基督教，西班牙傳天主教；丁、日本鎖國非因濱田彌兵衛事件所致；戊、西班牙是因菲律賓南部的伊斯蘭教徒動亂而調兵的
26. 乙、宣示世界「台灣乃南進政策的基地」；戊、凝聚被統治者對日本政權的認同
27. 丙、不管是新渡台者或已渡台者，均不可攜眷或提眷來台；丁、「一府二鹿三艋舺」的諺語，其中的二鹿是指「鹿港」，而非鹿耳門
28. (A)1920 年代是新文學運動時期，白話文與漢文之爭 (B)1950 年代的戰鬥文藝是由蔣介石所倡 (C)1960 年代即文學作家反對反共文學與現代文學的偏離時代現實 (D)1970 年代即鄉土文學盛起
29. (A)於唐太宗時命大臣修《氏族志》打擊世家大族的地位 (B)於唐太宗時，嚴禁「買婚」，使得世家大族難以維繫門閥婚姻 (C)於武后時科舉考試加試詩賦，積極拔擢寒門以抗山東經學世家 (D)黃巢之亂於唐朝末年，非武后前
30. (A)不是曹操篡東漢的 (B)曹魏的人口有 430 萬人，蜀漢僅有 100 萬人，而孫吳也才 250 萬人，故蜀漢與孫吳也極缺人才，求才若渴 (C)中原人口大量移入揚州與荊州乃於西晉永嘉之禍後 (D)由於東漢末年天災與兵戎連年，故使得東漢末年人口流失嚴重，且漢朝的舉才制度也不敷使用，故曹操與曹魏求才若渴，積極提出舉才政策
31. (A)武則天的廣開科舉，培養一批進士新貴以抗山東世族(明經科)，且武則天至玄宗時，文風還是鼎盛的 (C)唐朝的禁軍大權已旁落到宦官手上，故增強禁軍，是無法保護唐朝皇帝的 (D)南方文教超越北方，是在北宋以後
32. 盤庚遷殷約於西元前一千三百年，且殷王具有神的象徵，以及祭祀權
33. 判斷重點在於 1895 年，獲得第一個殖民地
34. 1966 年中國正好展開文化大革命，對資本主義等黑五類進行清算和鬥爭
35. (A)象形文所記載為托勒密王朝的紀錄 (B)(C)石碑乃法國拿破崙進軍埃及而得 (D)古希臘文不僅是解讀的關鍵，也代表了埃及於希臘化時代托勒密王朝統治下，上層階級希臘化的表現
36. (A)足利尊氏乃建立室町幕府的第一代將軍 (B)豐臣秀吉僅關白，不可建幕府成為幕府大將軍 (C)織田信長死於本能寺之變，未建幕府 (D)源義經死於建立鎌倉幕府的源賴朝將軍之手
37. 由於汪精衛傾向與日和談，而日軍則利用汪氏另建中國政權，混淆中國視聽
38. 蠻人，是指於元帝國於中國境內之南方，以種田維生的「南人」階級；而元帝國於中國境內之北方，則以契丹人稱之，係為「漢人」階級
39. 俄國占有東三省、蒙古與西北地區；法國占有廣西與雲南；英國占有長江流域；德國占有山東；日本占有福建；美國因遲來而未有占領區域
40. 由直加弄和蕭壠地區等，即可判定此地乃屬曾文溪以南，台江口附近的原住民，即西拉雅族
41. (A)由於西班牙僅統治台灣北部，故不適合題幹所描述的原住民 (B)(C)(D)均有記載到南部的原住民
42. (A)並非總是壓迫原住民 (C)由於公司面臨糧食短缺問題，急須迅速解決，故須找種植意願高的人來處理，而原住民較無資本觀念，需食時，方獵方種，無法解決當務之急 (D)獲標者僅有土地使用權，未有所有權
43. 基輔公國乃拜占庭與伊斯蘭的仲介
44. 元朝的金帳汗國(欽察汗國)統治過俄羅斯
45. 伊凡四世以沙皇自稱
46. 西利爾運用希臘字母創斯拉夫語。(A)聖巴德利爵以酢漿

- 草講述三位一體 (B)聖奧古斯丁以天主之城為基督教辯護 (D)聶斯托里因反聖母崇拜而被打為異端
47. 蒙兀兒的阿克巴本身是伊斯蘭教，身為外來民族且又佔居少數人口，欲安順地統治印度，必須要得到大量印度人支持，故必須壓抑伊斯蘭教，並拉攏印度教
48. 南特詔令乃亨利四世頒布
49. 俄羅斯位處高緯地區，所以當地的景觀帶最可能是(乙)(丙)。(甲)位於溫帶地中海型氣候區內。(丁)位於熱帶莽原氣候區內
50. (A)葡萄牙不臨地中海 (C)上述四國加入歐盟的順序如下：義大利(創始會員國)、希臘(1981年)、西班牙、葡萄牙(1986年) (D)僅有義大利為歐盟創始會員國
51. 甲~丁四地的土壤侵蝕量如下：  
 甲( $2 \times 0.3 \times 5 \times 2 \times 0.8 \times 120 = 576$ )；  
 乙( $2 \times 0.8 \times 5 \times 5 \times 0.8 \times 75 = 2400$ )；  
 丙( $2 \times 0.4 \times 5 \times 8 \times 0.8 \times 105 = 2688$ )；  
 丁( $2 \times 0.5 \times 5 \times 9 \times 0.8 \times 90 = 3240$ )
52. 南非因為地質屬古老結晶岩，為世界主要稀有重金屬的產地，因此成為非洲工業發展程度最高的國家，未來發展頗具潛力
53. 該景觀照片所示應為熱帶雨林地區。(A)熱帶雨林的大量消失可能加速全球暖化並使之更嚴重 (C)出現於溫帶草原或森林區 (D)所指應為寒帶針葉林區
54. (A)(B)(C)皆為取得第二手資料的方式
55. 由圖中資訊得知大武地地區氣溫上升，但濕度卻驟降，所以最有可能因為受到焚風影響。落山風是指冬季出現於恆春半島的下沉風
56. 由圖中可知是沉積地形，且顆粒以粗礫和礫石為主。  
 (A)可見到沙灘，顆粒細 (B)縱谷區為聯合沖積扇所組成，扇頂顆粒較粗 (C)可見惡地地形，堆積物顆粒粗 (D)可見沙丘，為風積地形顆粒細且均勻
57. 公共設施的設立主要參考一地的人口密度，所以推計一地未來人口的成長值為最重要的參考指標
58. (甲)日幣貶值應有利於日本國內產品出口，所以不致造成國內產業因生產成本提高而需要外移因應
59. (A)為歐盟，會員國都位於歐洲 (B)為美洲國家組織，會員國主要為美洲國家 (C)為亞太經合會，會員國主要有亞洲、美洲、澳洲的國家 (D)為東南亞國協，會員國都位於亞洲
60. (A)為順向坡，坡度為 $(192 - 152) / 500 \times 100\% = 8\%$   
 (B)非順向坡，所以坡度雖大， $(197 - 112) / 500 \times 100\% = 17\%$ ，但不符合題目所述  
 (C)為順向坡，坡度為 $(148 - 129) / 500 \times 100\% = 3.8\%$   
 (D)為順向坡，坡度為 $(132 - 117) / 500 \times 100\% = 3\%$
61. 伯斯位於南半球，屬於溫帶地中海型氣候，所以乾季應為當地夏季1月
62. 根據圖中等高線分布型態判斷，甲丙兩地應為谷地(等高線尖端指向高處)，乙丁兩地應為山脊(等高線尖端指向低處)
63. 根據圖中比例尺所示，圖上0.65公分代表實際距離1公里，測量圖中獨立標高點1026公尺到崩塌地的中心位置(在1026公尺處的北30°東的方向)，在圖上距離約為3.5公分，所以實際上水平距離約相距5公里
64. 根據下圖所繪製的剖面圖可以發現，ㄅ—ㄆ之間共有3個突起的山脊



65. 根據文中的定義可知，所謂「人口紅利」即為一國的人口扶養比低於50，圖中五個國家的扶養比如下：  
 甲國 $(42+3) / 55 \times 100 = 81$ ；  
 乙國 $(17+10) / 73 \times 100 = 36$ ；  
 丙國 $(14+18) / 68 \times 100 = 47$ ；  
 丁國 $(20+28) / 52 \times 100 = 92$ ；  
 戊國 $(39+5) / 56 \times 100 = 78$
66. 甲國雖然屬於人口負債階段，但是因為人口組成主要以幼年人口為主，所以未來勞動力較不虞匱乏
67. (乙)上游水土保持欠佳，一遇豪大雨將使大量土石被沖刷帶至下游地區，所以與海岸線後退較無關
68. 東北季風所造成的海流較夏季強，所以沙洲的移動主要與東北季風所造成的洋流較相關
69. 漁民在七股潟湖區架蚵架養蚵、設定置網捕魚，具有生產力，所以該區又被稱為海田。原本該地要開發成工業區設立大煉鋼廠，但因會破壞當地生態環境，所以居民反對。臺灣的九孔養殖，主要在東北部岩岸地區
70. 台商在中國生產已有一段時間，所以在當地也已經建立相當好的連鎖關係，基於工業慣性，一下子要轉移並非易事
71. (乙)早期工業的發展具有吸收農村剩餘勞動力的功能，然而今日工業發展趨向機械化，所以不一定可以解決勞動力過剩的問題 (戊)農業才是人類獲取生活資源的基本方式
72. (B)此為產業國際分工的一種型態，寶成鞋業主要為製造大廠 (C)台商返鄉主要導因中國投資環境轉變，而臺灣相對提供更優惠的經營條件 (D)此為傳統產業轉型，為跨國企業的一案例

