

臺中區國立高級中學 101 學年度
大學入學第一次學科能力測驗聯合模擬考

社會考科

試題編號：AU-3011
考試日期：101.11.01

—作答注意事項—

考試時間：100 分鐘

題型題數：

- 選擇題共 72 題

作答方式：

- 選擇題用 2B 鉛筆在「答案卡」上作答，修正時應以橡皮擦拭，切勿使用修正液。

祝考試順利

單選題 (佔 144 分)

說明：第 1 題至第 72 題皆是單選題，每題均計分，每題 4 個選項，其中只有一個是最適當的答案，畫記在答案卡之「選擇題答案區」。各題答對得 2 分；未作答、答錯、或畫記多於一個選項者，該題以零分計算。

1. 立法院是我國最高民意機關，享有多項職權，下列立法院職權何者正確？
(A)對行政院長任命案有同意權
(B)對正副總統有彈劾權
(C)對緊急命令有追認權
(D)對重大弊案有調查權
2. 民進黨、台聯黨團於九月 18 日對陳冲提出不信任案，21 日經立法院全院委員會審查，記名投票表決，朝野各自發動甲級動員，全力固票（中央社 2012/9/22）。關於上述不信任投票案，下列敘述何者正確？
(A)依據憲法增修條文規定，不信任投票須經 57 席以上立法委員贊成，始為通過
(B)不信任案如獲通過，行政院長應向立法院提出內閣總辭
(C)不信任案如獲通過，總統應宣布解散立法院
(D)不信任案如未獲通過，立法院得於下一會期再對同一行政院長提出不信任案
3. 依現行法律的規定，下列何者符合大法官接受釋憲聲請的條件？
(A)某法官審理案件發現適用法律有違憲疑義時，經同一法院超過三分之一法官連署，即可聲請釋憲
(B)某大學研究所學生，向學校學生事務處課外活動指導組申請在該校公告欄及海報版張貼「挺 X 海報」，時值公職人員競選期間，學校以違背國家法令為由否准所請，怒而聲請解釋
(C)現有總額三分之一以上的立委，可就「行使職權」適用憲法發生疑義，或適用法律有牴觸憲法疑義，聲請釋憲
(D)某政黨認為政府開放美牛進口有危害國人健康之虞，遂請求大法官解釋行政院所為違背憲法第十五條
4. 釋字 673 號部分解釋文如下：「所得稅法第 174 條第一款後段，有關扣繳義務人不按實補報扣繳憑單者，應按應扣未扣或短扣之稅額處三倍之罰鍰部分，未賦予稅捐稽徵機關得參酌具體違章狀況，按情節輕重裁量罰鍰之數額，其處罰顯已逾越必要程度，就此範圍內，不符（ ）原則，與憲法保障人民（ ）權之意旨有違，應自本解釋公布之日起停止適用。」判斷上述解釋文，括弧中分別應填入
(A)比例、自由
(B)比例、財產
(C)明確性、自由
(D)法律保留、財產

5. 夢幻國在國會議員選舉之後其席次分配如下表。若該國的國會區域代表及政黨代表各 100 席（總席次為 200 席），若夢幻國採並立制則對哪一黨最不利？

政黨	金	銀	銅	鐵	錫
單一選區席次	31	8	40	14	7
政黨票	31%	7%	38%	19%	5%

(A)銀

(B)銅

(C)鐵

(D)錫

6. 小王和老陳都任職銀行擔任櫃台出納，有很多經收客戶鉅額款項暫時挪用不會被發現的機會，小王近來個人金融操作不順利欠下不少民間高利借款，老陳身為獨子而父母近日分別中風與患有老人失智症，財務壓力亦不小。小王多次天人交戰後決定不侵占經手公司公款，老陳從頭到尾不曾動念侵占任何經手金額。若由史上眾位思想家給此二人評價，下列何者正確？
- (A)康德會誇獎老陳人品高貴，好德行
(B)亞理斯多德肯定小王理性戰勝私欲，具體實踐道德
(C)邊沁會認為兩人都是奉公守法的好人
(D)皮亞傑可能主張兩人在道德認知發展方面的成長停滯於「他律」階段
7. 報載：二代健保補充保費明年元月上路，存款人單筆利息所得達二千元，銀行須直接扣繳百分之二健保費。不少定存族為了「逃」健保費忙「拆單」，銀行公會估計，銀行光是執行「拆單」成本即高達三十二億元，但在存戶未拆單前代扣的健保補充保費收入卻只有三十億元，不僅稽徵成本高於代扣保費收入，且浪費整體社會資源。請問：關於二代健保補充保費政策以及引發民眾拆定存單的行為，符合下列何者的敘述？
- (A)拆定存單的行為不符合經濟學認為人是理性自利的看法
(B)拆定存單是增加社會資本的行為
(C)該政策制定前可能未精算加收定存利息的補充健保費，符合整體的最大效益
(D)從效益論的觀點來看，成本若高於健保補充保費的徵收，也都應該實施，才是對的行為
8. 爭議多時的台東杉原美麗灣渡假村開發案，最高行政法院昨（20）日認定美麗灣渡假村開發案，未經環評就興建旅館建築，違法事實明確，因此判決環保團體勝訴，台東縣政府應命令美麗灣渡假村公司停止開發行為，並支付環團律師費 6 萬元，全案定讞（新頭殼 2012/9/21）。關於美麗灣開發案的敘述，下列何者正確？
- (A)當事人如對最高行政法院判決結果不服，可向司法院提起上訴
(B)「未經環評就興建旅館建築，違法事實明確」屬於程序違法
(C)台東縣政府應「命令」美麗灣渡假村公司停止開發行為，該「命令」屬於行政命令
(D)台東縣政府在法律上屬於地方自治團體，具公法人地位

9. 台灣第一家聚酯絲生產廠華隆紡織公司近年來將資金與產業重心逐步移往海外，並陸續對國內勞工實施凍薪、取消年終獎金，減薪。2008 年 5 月，公司更要求產效達到 130% 員工才能領到 100% 的薪水。勞資多次協調不成，經工會投票表決，最後決議罷工。2012 年 6 月 6 日，華隆工人開始無限期罷工，9 月 9 日，華隆工會在日前與資方達成「退休金八折、資遣費六折」協議，資方同意償還罷工工人 1.5 億欠薪解決紛爭。請問：關於華隆紡織工人罷工事件之敘述，下列何者正確？
- (A) 勞方與資方的工作契約中，資方積欠工資屬於債權人之一方
 - (B) 勞工的罷工權明定於勞基法中，是被保障的消極人權
 - (C) 勞資契約屬於第三法域規範的領域
 - (D) 雙方簽立的協議書屬於仲裁
10. 依《性別平等教育法》之規定，關於校園性平事件申訴及調查流程，下列敘述何者錯誤？
- (A) 校園性平事件之構成要件，以當事人一方為教職員工生之一，他方為學生者為限
 - (B) 實務上各校大多以學務處為受理申訴單位，與輔導室負有知悉後 24 小時內通報主管機關之義務
 - (C) 性別平等委員會及調查小組之組成，女性委員應佔委員總數二分之一以上，始為合法
 - (D) 調查小組應上網公開調查報告，詳述事件始末，以確保調查過程公正客觀
11. 就讀高中一年級的甲、乙兩生練習跆拳道時，兩人均未穿戴護具，其中甲不幸被乙誤踢中頭部，送醫之後，不治身亡。教練表示，事發當時兩人只是互踢拿在手上的防禦踢靶，並未要求他們穿戴護具。有關此事件之相關法律責任，下列敘述何者正確？
- (A) 當事人未穿戴護具，與教練無關，教練無民、刑事責任
 - (B) 乙的行為並非故意，故無刑事責任
 - (C) 乙的家長必須負起連帶的刑事責任
 - (D) 甲的家長可向乙請求損害賠償
12. 行政院召開基本工資審議委員會，針對最低時薪與月薪是否調高進行研議。依相關法律規定，基本工資審議委員會審議結果需由行政院勞工委員會報行政院核定後公告實施。請問：基本工資審議委員會之討論與決議屬於政府決策過程中的哪個階段？
- (A) 政策規劃
 - (B) 政策合法化
 - (C) 政策執行
 - (D) 政策評估

13. 國內少子化問題日益嚴重，不孕夫妻、高齡產婦也明顯增加，使得在英、美等國家立法實行多年的「代孕生殖」議題獲得國人重視。衛生署已擬妥「代孕生殖法」草案，但至今還是議而未決，近期衛生署將舉行「公民審議會」進行討論。請問：有關「公民審議會」之敘述，何者正確？
- (A)由菁英代表參與，恐造成菁英壟斷決策的權力
 - (B)參與者將在獲得充分資訊的狀態下進行理性的討論與溝通
 - (C)公民審議會之後，衛生署會得到會議以多數決產生的結論
 - (D)衛生署遴選壓力團體代表參與，展現了多元民主理論的精神
14. 九月一日記者節，有上萬的群眾到 NCC 前遊行，表達對旺旺集團併購中嘉的不滿意見，希望撤銷該併購案。遊行活動在臉書上發起，卻意外出現上萬人潮，其中一個原因是該集團的平面媒體，以不實的報導影射中研院某學者在某次反旺中併購案的遊行中以發「發走路工」來動員學生，同時也要對清大學生轉貼抗議照片提告，引發許多網友義憤，走上街頭。遊行活動同時也以前述理由主張何以媒體的言論市場不應該被壟斷，否則就容易出現媒體不報導真實，主導言論自由度的問題。媒體被期待能呈現真實、報導真實，但往往因為下列哪些因素，使閱聽人無法完整得知新聞全貌？(甲)媒體本身的立場；(乙)廣告新聞化；(丙)守門人篩選想要呈現出的內容；(丁)造假新聞
- (A)甲乙丙
 - (B)甲丙丁
 - (C)乙丙丁
 - (D)甲乙丙丁
15. 香港九月七日發起反國民教育的大遊行，引起十多萬人共同參與，這項反國民教育的主要訴求是反對洗腦教育。該運動是由三名高中生發起，其後大學生、家長與社會人士紛紛站出來反對洗腦教育。由於反對的呼籲不斷持續，最後迫使香港特首梁振英宣布展緩三年實施，雖非最終勝利，但也使得港府必須正視人民的聲音。這項遊行展現了以下哪一部門的力量？
- (A)第一部門
 - (B)第二部門
 - (C)第三部門
 - (D)第四部門
16. 兩年前有位法律系畢業女子，因拾得單親貧婦遺失的兩萬一千元，揚言依法向貧婦索求三成報酬六千三百元，引發爭議；去年又發生男大生撿到筆電後，先找電腦商估價，再向失主索求一萬元報酬金。立法院在今（2012）年五月三讀通過民法修正案，明定拾獲遺失物者向失主索求報酬之上限，從物品價值三成降為一成，且不得向中低收入戶等弱勢失主請求報酬。如此調整之後最可能出現何種發展？
- (A)經濟弱勢失主付不起報酬而陷入困境
 - (B)部分民眾視此法為「獲利工具」，各地不易有遺失物可拾
 - (C)鼓勵民眾拾金不昧、物歸原主美德
 - (D)拾得人與原失主私下達成協議以提高歸還意願

17-18 題為題組

八月底，一樁纏訟長達二十餘年的兇殺命案終於落幕，蘇建和等三人無罪定讞。蘇建和等三人因為汐止吳家命案，被當時服役的軍人王文孝指控共同涉及該案，現場只有王文孝的指紋，但在沒有安排相互對質的情況下，王文孝很快被執行死刑槍決。被指控的三名被告，在檢警辦案後除了自白以外，並沒有證據，就定三人的罪行。何謂「沒有證據」？例如菜刀上之毛髮、浴室中之毛髮，經警方鑑定結果均不屬於三名被告。有血指紋三枚：血指紋一枚是王文孝的，其餘兩枚，過於模糊而無法鑑定，並無三名被告之指紋。判決書說，蘇建和及劉秉郎分持有開山刀及水果刀，但警方從頭到尾都沒找到開山刀跟水果刀，只發現菜刀一把，然而這把菜刀是王文孝所持有，與三名被告無關。

17. 請問，在查無實證的情況下，檢警以及法院都認為該命案是蘇建和等三人共同所為，這是違反了以下哪一項原則？
- (A)無罪推定 (B)不告不理
(C)從舊從輕 (D)罪刑法定
18. 許多刑事案的偵查終結，往往因為刑求而被迫自白，因此形成許多冤案，所以刑事訴訟法規定，不可以嫌犯的自白作為唯一證據，請問這是遵循以下何者原則？
- (A)從新從舊 (B)不告不理
(C)毒樹果實理論 (D)私法自治

19-20 題為題組

天秤颱風重創蘭嶼，機場跑道、環島公路堆滿石頭與漂流物，開元港也滿目瘡痍。令人吃驚的是，颱風遠離後的兩天內，機場跑道及環島道路上的石頭已被清除，遭土石攻陷的公共設施，也逐一被清理出原狀。蘭嶼島上雅美族人運用了傳統文化「船團」的制度與精神，迅速地完成重建工作。船團制度是承襲自祖先的共作與分享的生產方式，由合作造拼板舟，到造舟完成的慶祝與下水儀式，乃至一同操舟捕魚、上岸後分魚，都有完整的步驟與規矩予以約束。

19. 蘭嶼重建的高效能可歸功於「船團」制度。請問：船團制度主要展現了下列何者的功能？
- (A)人力資本 (B)文化資本
(C)社會資本 (D)政府效能
20. 災後另一個令人擔心的是蘭嶼島上的核廢料貯存場的安全狀態是否正常。我們不難發現，這些有風險的公共設施往往設立在人口稀少、偏遠的地區。這種現象除了可用鄰避效應解釋之外，亦可以何者解釋之？
- (A)環境種族主義 (B)搭便車
(C)草原的悲歌 (D)古典自由主義

21-22 題為題組

台灣大學研究助理、教學助理今年 1 月成立台灣大學工會，但申請立案遭勞工局駁回，駁回理由為「尚難認定存有僱傭關係」，台大工會 5 月 31 日提出訴願，勞委會於 9 月 7 日做出決定，撤銷北市勞工局的否准，要求北市府於 2 個月內另外作出行政處分（中央通訊社 2012/9/14）。

21. 依我國民法之分類，工會屬於下列哪一種組織？
- (A)財團法人
(B)非營利社團法人
(C)非法人團體
(D)公法人
22. 本案中，訴願管轄機關為下列何者？
- (A)台北市政府
(B)台北市政府勞工局
(C)行政院勞委會
(D)台北高等行政法院

23-24 題為題組

資料一：《個人資料保護法》於 2012 年 10 月 1 日起正式施行，其中第 42 條規定「意圖為自己或第三人不法之利益或損害他人之利益，而對於個人資料檔案為非法變更、刪除或以其他非法方法，致妨害個人資料檔案之正確而生損害於他人者，處五年以下有期徒刑、拘役或科或併科新臺幣一百萬元以下罰金。」

資料二：《個人資料保護法》的前身為《電腦處理個人資料保護法》，其中第 34 條規定「意圖為自己或第三人不法之利益或損害他人之利益，而對於個人資料檔案為非法輸出、干擾、變更、刪除或以其他非法方法妨害個人資料檔案之正確，致生損害於他人者，處三年以下有期徒刑、拘役或科新臺幣五萬元以下罰金。」

23. 阿中於 2011 年 8 月 15 日因非法變更朋友小夏的個人資料，致使小夏蒙受財產之損害，遭到檢察官依法起訴。請問，有關阿中的權利之敘述，何者正確？
- (A)檢察官應秉持罪疑惟輕原則進行偵查
(B)此案審理應採不公開審理原則
(C)案件審理採「以原就被」為原則
(D)檢察官偵查時應秉持不公開的原則
24. 訴訟期間，所有證據都證明阿中的確違法，地方法院將於 2012 年 10 月 8 號宣判。請問，下列何者可能是法官的判決結果？
- (A)依法判處四年有期徒刑
(B)處兩年有期徒刑併科新台幣五萬元罰金
(C)依法判處十萬元罰金
(D)依法判處一年八個月有期徒刑

25. 美國普林斯頓大學的台灣留學生開始組成「保衛釣魚台行動委員會」，表示「反對美日私相授受」、「外抗強權，內爭主權」，甚至編了一首《保釣戰歌》：「滾滾狂濤，東海之遙，屹立著一群美麗的小島。釣魚島，英勇地俯視著太平洋，釣魚島，捍衛著我們富饒的海疆。風在吼，海在嘯，中國神聖領土釣魚寶島，象徵著我們英勇不怕強暴。……釣魚島，你帶給漁民多少歡笑，釣魚島，蘊藏著我國無價的寶藏。怒吼吧，釣魚島！我們寸土必爭，誓死抵抗，我們要藐視那東洋的強盜。」請問這是下列何事？
(A)這是馬關議和時，美國的中國留學生的愛國運動
(B)這是民國八年，配合北京大學的五四運動
(C)這是抗日戰爭前夕，美國的台灣留學生，抗議日本出兵佔領釣魚台
(D)這是 1970 年代，抗議美國和日本的保釣運動
26. 有一本描寫台灣原住民的歷史小說內容：「西班牙人來，少數的族人學會西班牙文，荷蘭人來了，我們也有人學會荷蘭文，但是生活過得比以前更差，現在是漢人的天下，會漢文的番人更多，我們卻變成永遠翻不了身的次級人，文字簡直就像剋制我們的一種符咒。」請問文中的我們是？
(A)西拉雅族 (B)凱達格蘭族 (C)阿美族 (D)卑南族
27. 「他們是一支被政府刻意疏離的國家部隊。……在漢化之前，他們是國家的精英，認同並參與政權運作；漢化之後，……將漢族傳統的身分制帶入胡族社會之中，結果造成這些軍人脫離國家核心，最後甚至發生叛亂。」文中「他們」應指何族？
(A)鮮卑 (B)契丹 (C)女真 (D)蒙古
28. 西元前三世紀，從中亞地區到北非、巴爾幹半島，統治者、知識分子和商人廣泛地參與了跨國際的交流。當時作為各國間往來的共同語言應是：
(A)希臘語 (B)波斯語 (C)拉丁語 (D)阿拉伯語
29. 有個民族從 14、15 世紀起開始一連串的擴張征服行動，建立了該區域最大的帝國。16 世紀初勢力達到巔峰，首都人口多達數十萬。帝國憑藉軍權和神權維繫其統治，控制境內的眾多部族，因此不受支持，以致不久之後，當異教民族挾優勢武力入侵時，這個帝國很快就被征服了。這個帝國應是：
(A)阿茲特克帝國 (B)蒙兀兒帝國
(C)俄羅斯帝國 (D)鄂圖曼土耳其帝國
30. 「我本來也有八甲山地，從會社（糖廠）拿了二、三百元，把山地開墾起來。會社太吝嗇，補助金還沒有眼淚的多。每一甲地只補助了四十塊錢。算算開墾費就要一百五、六十塊錢，但是種的甘蔗，由會社隨意訂了價格，實在太便宜了。……像你的頭家黃先生，善交際，那樣才行的。他承包會社的運輸，每年可以賺幾千塊的額外收入，而

且又是甘蔗栽培的獎勵委員，從那裡可以得到獎金。我不懂日語，所以完全不行。如果不種蔗，不會這樣窮的。那個時候，我也用過幾十個工人呀！哈哈……」蔗糖，是日治時期台灣農業生產的大宗，也是台灣出口日本重要的商品之一，但上述引文之內容，反映了經濟發展的背後，台灣蔗農悲苦遭受剝削的無奈。以下，關於日治時期台灣甘蔗種植之發展與其衍生的相關問題，何者為是？

- (A)會社可以隨意訂定甘蔗收購價格，是「皇民化」下經濟統制的作為
 (B)「台灣農民組合」於 1920 年代成立，其起因即與蔗農爭取權益之事件相關
 (C)因製糖有利日本政府與財閥，因而使台灣一直保持單一經濟作物蔗糖為主的農業
 (D)為增加蔗糖產量以供應日本本土需求，新、舊式糖廠皆為總督府保護之對象
31. 「…第三條：本條例所稱外銷事業，係指經核准在加工出口區內製造加工或裝配外銷產品之事業，及為區內上述事業在產銷過程中必需之倉儲、運輸、裝卸、包裝、修配等事業。第四條：……外銷事業之種類，由經濟部、財政部及外匯貿易主管機關視該種類事業之外銷情況及加工出口區之位置、面積等情形，會同擬訂。並應視其原料及產品易於稽查管理程度，擬訂優先次序，一併報請行政院核定公布之。…」請問此管理條例公佈於何時較為合理（民國）？
 (A)四十二年 (B)五十四年 (C)七十九年 (D)九十五年
32. 雷震，曾與胡適等人創辦《自由中國》雜誌，其除致力宣揚自由、民主等理念，亦曾與省議會的台籍菁英籌組「中國民主黨」，但最後卻以失敗收場，民國四十九年被當時政府以「知匪不報」的罪名逮捕判刑十年。在雷震所身處之戒嚴體制政治下，下列哪一單位，屬於當時負責搜捕「匪諜」、維護國家安全與社會穩定，卻也製造出許多冤案，使台灣民眾陷於「白色恐怖」氛圍的機構？
 (A)警備總部 (B)行政長官公署
 (C)國家統一委員會 (D)國民大會
33. 兩位朋友不期而遇並互聊近況。其中一位提到政府最近派員來丈量他家的田產，確定要按照第三等稅則負擔田賦；以往他家裏須派人到府衙服役，現在只要繳錢便可以找人代役了；而他的長子被編為保丁，負擔起防盜的責任；次子因青黃不接，農作急需錢，向政府低利貸款，紓解困境。請問這兩人所處時代應為何者？
 (A)唐德宗時 (B)宋神宗時 (C)明神宗時 (D)清雍正時
34. 「這位君主在位時，重新統一了帝國，接著展開一連串的改革措施，以拯救搖搖欲墜的帝國。他使得境內的部份異教徒獲得信仰自由，事實上是將宗教置於他的控制之下，種種措施不過是強化了他的統治權力，最終帝國仍因外強環伺，社會經濟惡化，難逃瓦解的命運。」請問：這位君主應是何人？
 (A)屋大維 (B)君士坦丁 (C)狄奧多西 (D)查士丁尼

35. 歐洲某位君王爲了擴張疆域，提高國際地位，多次對外參加國際戰爭，並且與新教國家並肩作戰；對內卻爲了樹立強大的王權，而宣布取消新教的合法地位。這位君王應是：
(A)俄國的彼得一世 (B)神聖羅馬的查理五世
(C)英國的亨利八世 (D)法國的路易十四
36. 淡水某英商日記（1884 年 10 月 3 日）記載：「事情嚴重囉！『甲軍』在 10 月 1 日登陸基隆，雖被守軍逼退二次，但終於佔領港口。『乙軍』節節敗退，死傷慘重，被俘不少。○○○終於下令撤退，狼狽的撤往大稻埕和淡水。『甲軍』乘勝追擊，直逼基隆河畔的七堵，『甲軍』士兵還在基隆市區燒殺擄掠。從大稻埕傳來消息，○○○帶著一千名士兵逃到艋舺，有意挾帶珠寶、金銀、細軟、糧秣，再往南逃到三十英里外的竹塹，但被艋舺民眾發現，他們抓住○○○，把他軟禁在廟裡。」請問文中的○○○是？
(A)唐景崧 (B)沈葆楨 (C)劉銘傳 (D)劉永福
37. 美國國會爲保障臺灣的安全，維持美臺的經貿、文化關係，通過《台灣關係法》，設立「美國在台協會」（American Institute in Taiwan，簡稱 A.I.T.），與台灣保持半官方關係，並提供足夠的防禦性武器，保障台灣安全。以上所述美臺間外交關係的變化，與下列何者相關？
(A)韓戰爆發，美國拉攏台灣共同圍堵共黨勢力
(B)聯合國通過〈2758 號決議〉，接受中共爲會員國
(C)「九一一恐怖攻擊事件」後，美國爭取中共支持其反恐
(D)美蘇談判失敗，爲遏阻蘇聯擴張，美國宣布與中共建交
38. 「寺內正毅（內閣）上台之後，立刻派其私人幕僚西原龜三多次前往中國秘密訪問，並以日本興業銀行、台灣銀行、朝鮮銀行三行的名義，與中國交通銀行（隸屬於中國政府交通部）總裁曹汝霖簽訂了第一批借款 500 萬日元的合同。之後又有第二次交通銀行借款 2000 萬日元；有線電信借款 2000 萬日元；吉會鐵路借款 1000 萬日元；黑龍江吉林金礦森林借款 3000 萬日元；滿蒙四鐵路借款 2000 萬日元；山東濟順、徐高二鐵路借款 2000 萬日元；參戰借款 2000 萬日元。總共八項借款，合計 14500 萬日元。貸款的抵押物包括中國山東和東北地區的鐵路、礦產、森林等。中國接受借款後，日本加強了在山東的存駐，在青島設置了民政署，在濟南開始了駐軍，並且控制了膠濟鐵路。」關於以上資料，下列何者正確？
(A)資料的時空是馬關議和時，日本所開出的條件
(B)資料的時空是民國四年時，日本在廿一條要求中所開列的條件
(C)資料的時空是段祺瑞擔任國務總理時與日本所進行的借款談判
(D)資料的時空是民國廿四年時，「塘沽協定」日方所開出的條件

39. 「孔子曾說：『德不孤，必有鄰。』這是由於積善修德的效果啊！後世的君子驕佚淫樂，不能治理國家；於是諸侯背叛，殘害人民，大家都爭土地，廢德教，而亂刑罰。刑罰一亂，便生邪氣，邪積於下，怨惡形於上，上下不和，陰陽失錯；於是妖孽便產生了，這就是災害的原因啊！」依文判斷，這段話應為何人所言？
(A)鄒衍 (B)董仲舒 (C)朱熹 (D)黃宗羲。
40. 從文藝復興時代到啓蒙時代，思想潮流有延續，也有變化，下列何者正確？
(A)前者信仰上帝，後者否定上帝
(B)前者崇拜東方文化，後者鄙視東方文化
(C)前者嚮往古典的希臘羅馬文化，後者相信進步史觀
(D)前者否定世俗文化，後者重視世俗文化
41. 日本於 1919 年頒布《台灣教育令》，開啓台灣近代教育的里程碑，也為日後台灣經濟發展奠定重要基礎。下列選項中，何者與此教育政策相關？
(A)台中中學校的設立
(B)台北帝國大學的設立
(C)嘉義農林學校之設立
(D)總督府取消所有日台間教育上的差別待遇
42. 一打油詩云：「讀書人，最不濟。爛時文，爛如泥。國家本為求才計，誰知變作了欺計。三句承題，兩句破題，擺尾搖頭，便是聖門高第。可知道三通、四史是何等文章，漢祖、唐宗是哪朝皇帝？……案頭放高頭講章，店裡買新科利器。……辜負光陰，白白昏迷一場。就教他騙得高官，也是百姓、朝廷的晦氣。」請問這首打油詩是諷刺下列何事？
(A)漢代選舉之流弊，以致「舉秀才不知書，高第良將怯如雞」
(B)唐代「干投行卷」風氣盛行，士人趨炎附勢
(C)宋代廣開科場，競爭激烈，而致士人考試作弊之風甚熾
(D)明清兩代八股取士，士人只知道背誦，作八股文章
43. 資料一：「清朝割讓廣東新安縣（今香港界限街以南）的九龍半島給英國。…清朝增開天津為商埠。…允許西方傳教士到中國內地租買土地及興建教堂。…容許外國商人招聘漢人出洋工作，充當廉價勞工（苦力）。」
資料二：「第一款，中國派醇親王載灃赴德國向德皇就德國大使被殺一事道歉。德國大使遇害處建碑紀念。…第七款，北京的大使館區內中國人不得居住，各國可以派兵保護。第八款，大沽炮台以及北京到天津之間的炮台一律拆毀。第九款，外國可以在北京至山海關之間駐紮軍隊。」
關於這兩段資料，下列敘述何者正確？

- (A)從資料一到資料二的敘述，顯示清廷並無積極的作為
- (B)從資料二到資料一的敘述，顯示清廷的國力增強，喪權辱國的部分減少
- (C)從資料一到資料二的敘述，清廷其實有經歷一段洋務運動的時期
- (D)從資料二到資料一的敘述，顯示列強對清廷的壓力減輕，要求的項目減少

44. 某份起訴書內容如下：「被告們沒有絲毫抵抗，就將我們寶貴的城堡及其百姓，彈藥、庫存、商品和金銀財寶（包括金塊和血珊瑚），全都投降給那位殘暴的異教徒、崇拜惡魔的敵人，儘管我方原本有很多機會可以保全所有貨物。……被告等犯下此等嚴重罪行，導致整塊領土及社會的崩潰，因此，應監禁這四位被告，以便在適當的時間和地點執行死刑；並沒收他們的全部動產及可繼承的財產。」請問以下解讀何者正確？
- (A)文中的城堡是台北府城
 - (B)文中殘暴的異教徒是鄭芝龍
 - (C)被告其中一名是鄭克塽
 - (D)這份史料引自《巴達維亞城日記》

45. 「此一時期，英國與美洲、非洲的重要貿易商品及貿易情形如下：英國輸出毛織品、印度棉布、武器等，換取西非奴隸；再運輸奴隸到西印度群島，換取砂糖、糖蜜、煙草和染料等，然後將之運回本國，獲得很大利益。」上述的商業發展最可能在下列那一時期的英國見到？
- (A) 1500 年代
 - (B) 1600 年代
 - (C) 1750 年代
 - (D) 1850 年代

46. 下表是台灣某時期進出淡水、打狗各國船隻數量表，請問這是哪一個時期？

國別	英國	德國	中國	美國	法國
總數（艘）	8079	3464	850	279	156
比例（%）	55	24	6	2	1

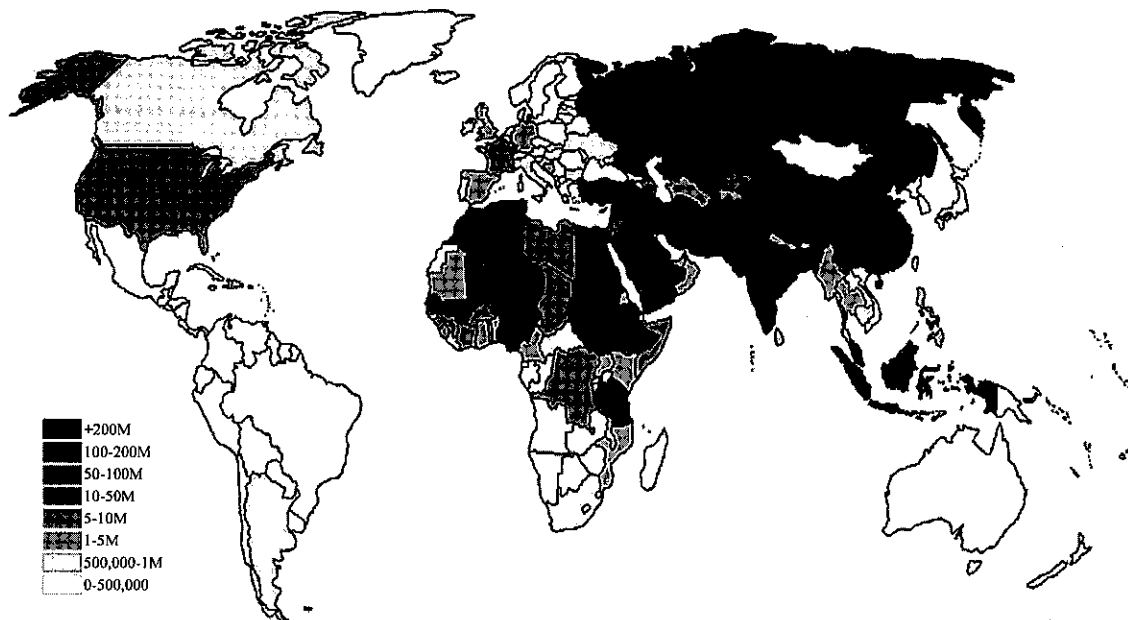
- (A)鄭氏時期
- (B)清領後期
- (C)日治後期
- (D)國府遷台初期

47. 下表為歐洲主要地區從西元 X 年起三百年間的人口大致變化情形，請問「X」最可能是多少？

地區	時間			
	西元 X 年	X+100 年	X+200 年	X+300 年
伊比利半島	930 萬	1130 萬	1000 萬	1460 萬
義大利半島	1050 萬	1330 萬	1330 萬	1810 萬
大不列顛	440 萬	680 萬	930 萬	1590 萬
北歐	150 萬	240 萬	280 萬	320 萬
日耳曼地區	1200 萬	1500 萬	1500 萬	2450 萬
法國	1640 萬	1850 萬	2100 萬	2690 萬

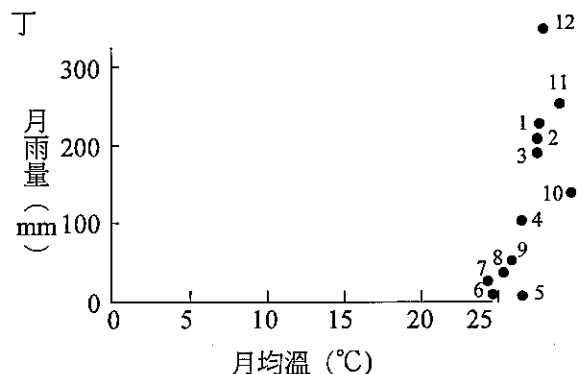
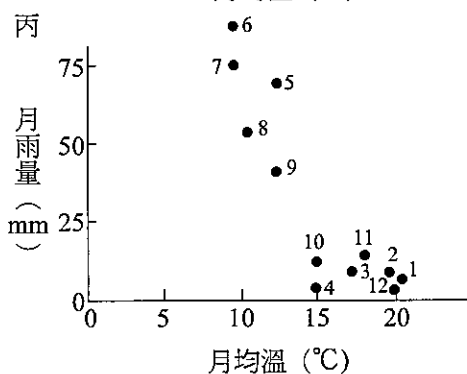
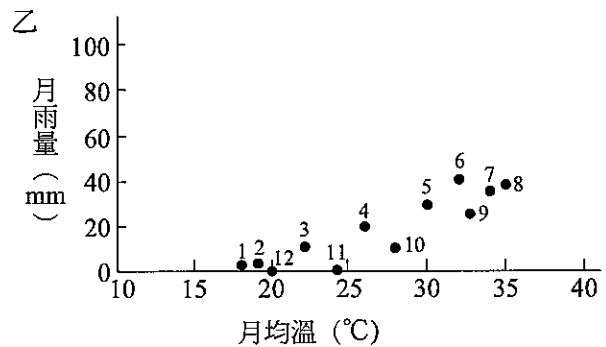
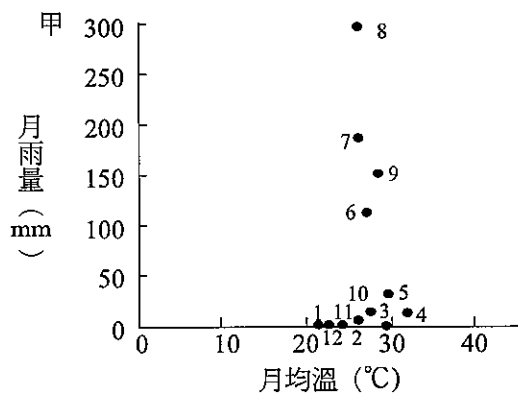
- (A) 400
- (B) 800
- (C) 1200
- (D) 1500

48. 下圖是 2009 年一個研究機構針對世界各國某一宗教信仰人口總數所作的統計數據。此一宗教信仰最有可能是：



- (A)佛教
(B)基督教
(C)印度教
(D)伊斯蘭教
49. 阿崧於 2012 年 7 月 13 日下午 11 時搭乘香港赤臘角機場的土耳其航空到西亞土耳其的伊斯坦堡 (41°01'N, 28°58'E) 遊玩 (土耳其實施日光節約時間)，預定 7 月 23 日下午 2 點返抵香港赤臘角機場。香港至土耳其伊斯坦堡飛行時間約 11 小時，因此阿崧應該預定幾天的住宿旅館？
(A) 10 (B) 9 (C) 8 (D) 7 天
50. 東南亞地區熱帶栽培業發達，林礦事業興盛，首要型都市分布的特性顯著，港埠型都市眾多。這些現象反映出該地區下列哪項區域特色？
(A)華僑人數眾多且掌握經濟大權
(B)自然環境景觀複雜又多樣
(C)依賴式經濟色彩很濃厚
(D)區域發展不均但區域結盟緊密
51. 「西臨亞得里亞海，隔海與義大利相望的甲國於 2012 年 1 月 22 日公投表決贊成加入歐洲聯盟，預定將於 2013 年 7 月正式成為歐盟第 28 個成員國。雖然這場公投票率低於五成，但仍顯示近來飽受歐債風暴之苦的歐盟，對經濟陷於停頓巴爾幹半島國家仍然具有一定吸引力」請問文中所述國家為何？
(A)阿爾巴尼亞 (B)克羅埃西亞
(C)塞爾維亞 (D)斯洛維尼亞

52. 每當有寒流來襲時，氣象單位往往會呼籲漁民要嚴防寒害。所以雲嘉南沿海的養殖漁戶經常大量抽取地下水至魚池中。由此推論漁民此行為的目的主要和地下水的哪一種特性有關？
- (A)水質良好 (B)取用方便
(C)不含礦物質 (D)具有恆溫特性
53. 近日臺灣的大學畢業生到澳洲屠宰廠工作引起社會廣泛討論。請問：澳洲主要的肉牛農場主要分布於下列哪一個氣候區？



- (A)甲 (B)乙
(C)丙 (D)丁

54-55 題為題組

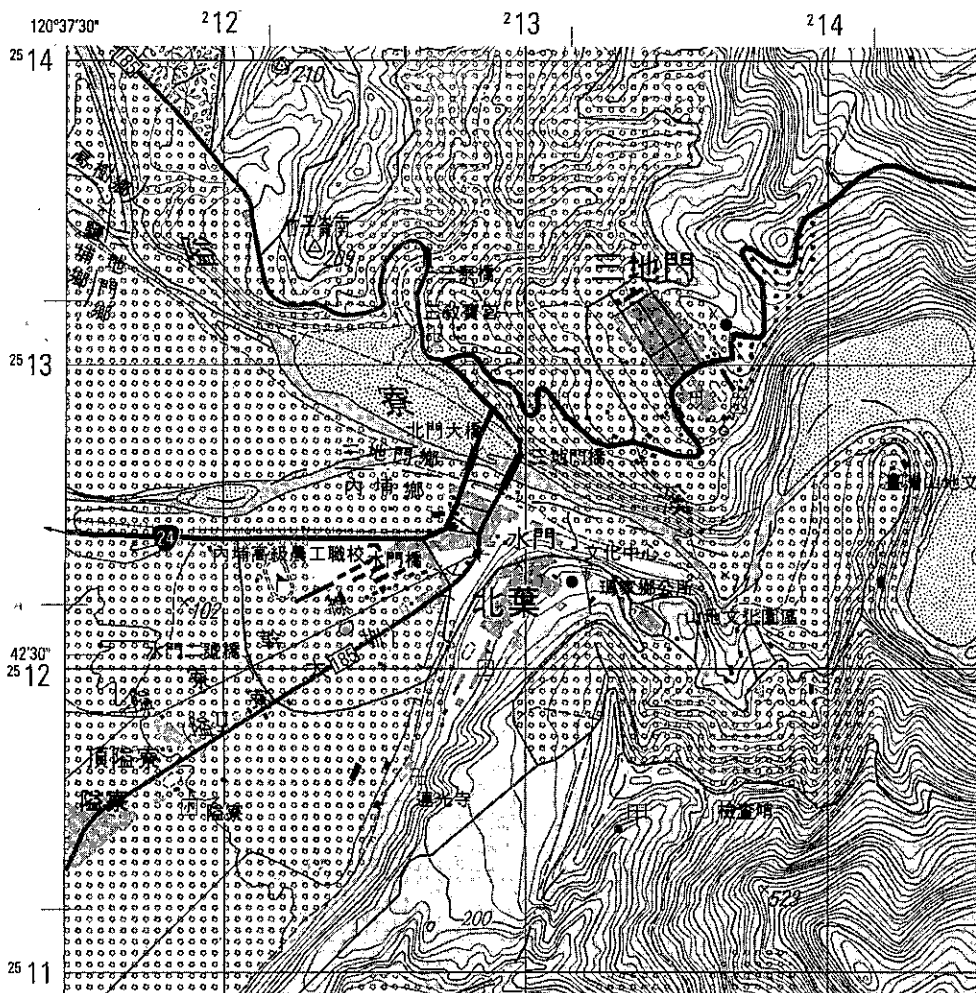
二次戰後日韓兩國迅速崛起，日本已成為世界經濟強國，南韓緊隨在後。目前兩國的文化產業方興未艾，在世界形成一股不容小覷的潮流。請問：

54. 以下對於日韓的經濟發展特色敘述：(甲)韓國近年 GDP 成長快速，2011 年已經超越日本 (乙)日本企業實施終身雇用與年功式薪資制度是促成 1955~1970 年經濟高度發展的原因之一 (丙)日韓經濟上皆以大型企業集團帶動經濟發展，韓國大型企業集團營業額占 GDP 比重又高於日本 (丁)韓國今日在汽車、科技產品（如手機、半導體、面板）等產量居世界第一。正確的是：
- (A)甲乙 (B)乙丙 (C)丙丁 (D)乙丁

55. 韓國 2000 年以後在文化產業上積極發展，主要具有哪些特色？(甲)電影等影視文化致力推向國際，目前相關產業已經無需政策保護 (乙)南韓藉由影視文化發展，吸引大批遊客赴韓觀光 (丙)目前是線上遊戲與動漫畫的最大製作和輸出國，首爾亦為世界動漫迷朝聖地 (丁)設立文化產業局，專門推動文化產業發展。
- (A)甲乙 (B)乙丙 (C)丙丁 (D)乙丁

56-59 題為題組

下圖是臺灣某地的等高線地形圖，圖中每一網格的邊長 4 公分代表實際距離 1 公里，等高線間距為 10 公尺。請問：



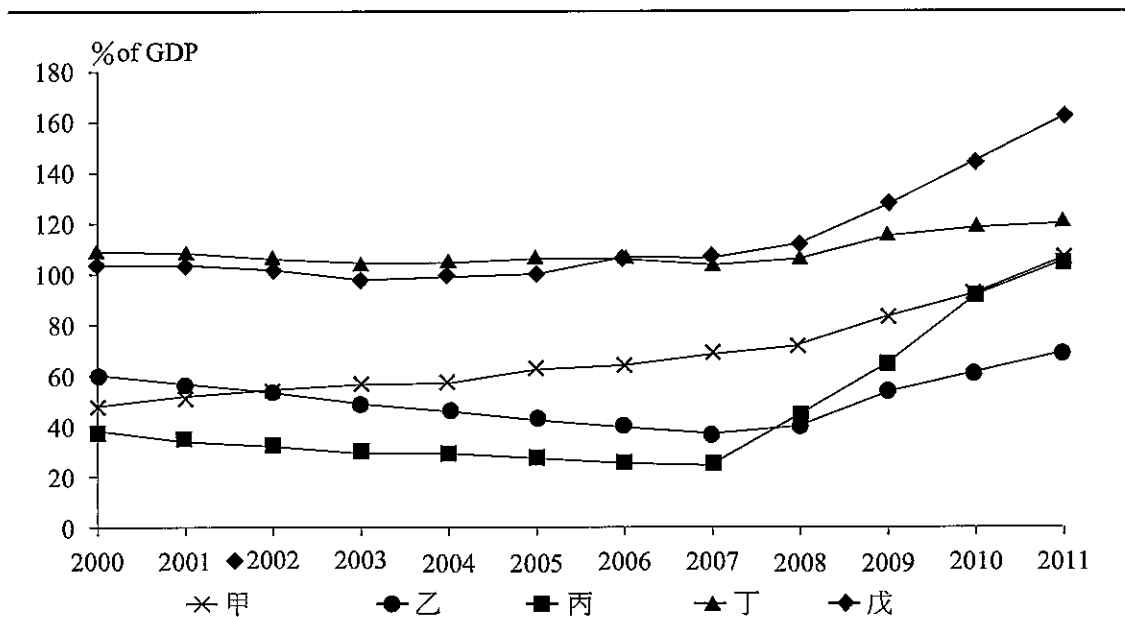
56. 該地區地勢最高的河階面，介於海拔幾公尺之間？
- (A) 100~120 公尺 (B) 140~160 公尺
(C) 200~250 公尺 (D) 340~360 公尺
57. 圖中 (211800,2512700) 所在區域最主要的土地利用方式為何？
- (A)早作 (B)果園
(C)蔗田 (D)茶園

58. 圖中 (211800,2512700) 所在區域屬於何種地形？
(A)河階 (B)扇央
(C)鯤鯨 (D)扇端
59. 圖中甲地 (213325,2511450) 的坡向為何？
(A)東北方 (B)西南方
(C)西北方 (D)東南方

60-61 題為題組

近年來，歐債危機一直無法解除，歐豬五國 (PIIGS) 的債務問題持續的影響歐盟與全球經濟發展，下圖為歐豬五國 (甲、乙、丙、丁、戊) 2000~2011 年負債占 GDP 的比率變化折線圖。請問：

2000-2011 負債占 GDP 的比率



60. 2010 年爆發國債危機，引起歐盟整體的債權危機的是哪一個國家？
(A)甲 (B)丙
(C)丁 (D)戊
61. 哪一個國家在 2008 年因金融風暴資金退潮的影響下，經濟成長率大幅的衰退，因此，加入了原本「歐豬四國」的行列，促成了「歐豬五國」的出現？
(A)甲 (B)丙
(C)丁 (D)戊

62-63 題為題組

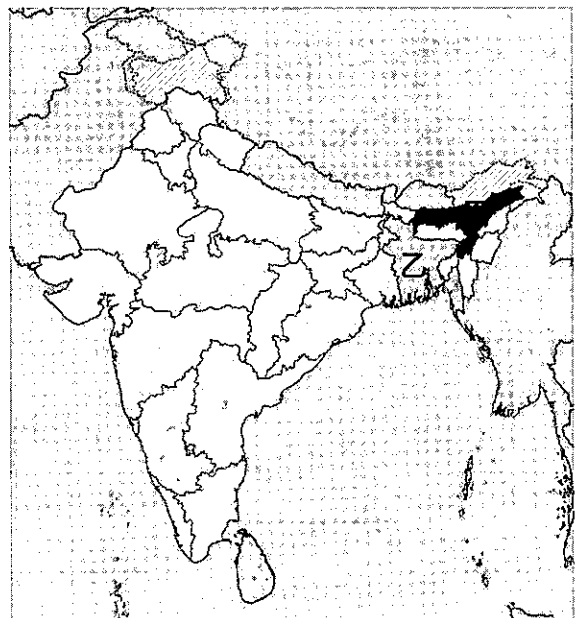
下表為獨立國協中俄羅斯、哈薩克、烏克蘭、烏茲別克的資料。請問：

	2011HDI	人均 GDP (美元)	面積 (萬平方公里)	人口 (萬人)
甲	0.755	6926	1707.52	13874.0
乙	0.729	2276	60.37	4513.5
丙	0.745	5292	272.49	1552.2
丁	0.641	647	44.74	2812.9

62. 近年來世界能源價格高漲，哪兩國因能源礦產大量輸出而經濟成長快速？
 (A)甲乙 (B)甲丙
 (C)乙丙 (D)甲丁
63. 哪一國地處輸往西歐的天然氣管線經過中樞位置，往昔享有天然氣優惠價格，2009 年曾因政治立場靠攏西方而被斷氣，歐人稱為「新冷戰」？
 (A)甲 (B)乙
 (C)丙 (D)丁

64-65 題為題組

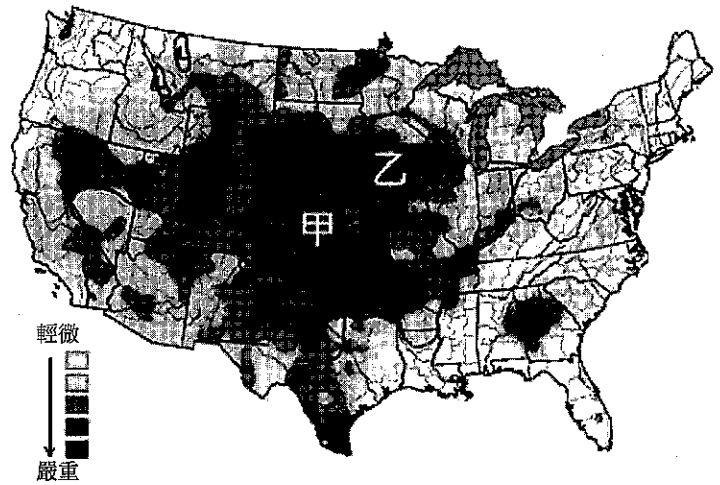
2012 年 9 月新聞報導：「印度阿薩姆邦因為季風引起的水災災情日益嚴重，被迫逃離家園的人數在 9 月 25 日已經增加到 170 萬，當地 27 個地區中有 19 個已經受災，至少有 13 個人不幸淹死。阿薩姆邦今年以來已發生了 3 次洪水。」。右圖甲是印度阿薩姆邦的位置，請問：



64. 引發阿薩姆邦發生洪水的季風風向應為下列何者？
 (A) ↘
 (B) ↙
 (C) ↗
 (D) ↖
65. (甲)位於板塊接觸帶；(乙)地勢低平；(丙)人口眾多；(丁)熱帶氣旋侵襲；(戊)喇叭狀地形。圖中乙國亦經常發生洪水災害，造成該國水患頻繁的主要因素包括下列何者？
 (A)甲乙丙 (B)乙丙丁 (C)乙丁戊 (D)丙丁戊

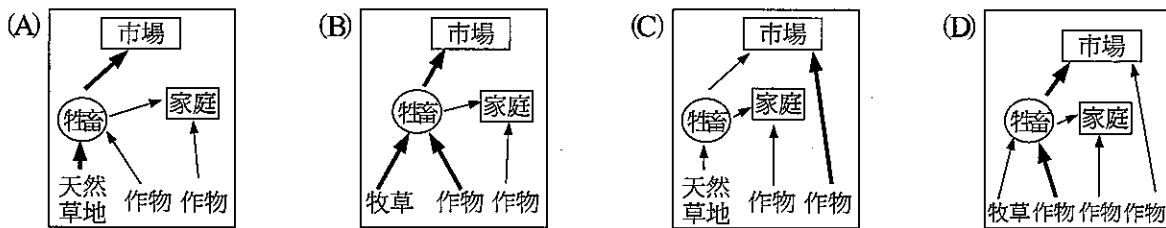
66-67 題為題組

美國是全球重要的糧食出口國，2012 年美國許多地區遭遇半世紀罕見的嚴重乾旱，已讓許多農作物價格推升至紀錄高點，造成全球糧食價格大幅飆漲。右圖是 2012 年以來美國乾旱分布圖，請問：



66. 圖中甲區乾旱情況嚴重，對該國何種農牧業的生產活動產生嚴重的衝擊？
- (A)肉牛 (B)小麥
(C)棉花 (D)玉米

67. 乙區的嚴重乾旱更進一步推升肉類及雞蛋的價格，請問下列何者最可能是乙區的農業生產類型？



68-70 題為題組

下方是某一地區以網格模式所繪製的坡向、地表高度、岩層傾向及建築物之分布圖，圖中網格每邊長 50 公尺。請回答下列問題：

E	E	W	N	S
N	S	E	W	S
N	S	E	W	S
E	N	N	E	W
E	W	S	E	W

坡向分布圖

- E：向東傾斜
W：向西傾斜
N：向北傾斜
S：向南傾斜

1	1	1	2	1
1	2	2	2	1
1	2	3	3	3
1	2	3	3	3
2	3	3	3	4

地表高度分布圖

- 1：標高 100 公尺
2：標高 200 公尺
3：標高 300 公尺
4：標高 400 公尺

W	E	W	N	S
S	N	E	W	N
S	N	E	S	N
W	S	S	N	S
W	E	E	N	W

岩層傾向分布圖

- E：向東傾斜
W：向西傾斜
N：向北傾斜
S：向南傾斜

	甲			丁
	乙			
		丙		
己				戊

建築物分布區


- 甲~己：住宅區

68. 網格模式的使用相較於向量模式具有哪一特性？
 (A)資料蒐集速度較慢
 (B)目前地理資訊系統的主流
 (C)適合應用於自然環境的經營、管理
 (D)廣泛使用在高精密度的地區
69. 若要在本區的山坡上蓋一棟房子，其條件如下列所示，①坐北朝南 ②距離河川 50 公尺以上 ③不要位在順向坡的位置，則該住宅應位於哪一住宅區內？
 (A)甲 (B)乙
 (C)丙 (D)丁
70. 承上題，要評選出房屋的最佳區位，需使用 GIS 中的哪一功能？
 (A)環域分析 (B)地形分析
 (C)疊圖分析 (D)路網分析

71-72 題為題組

右圖為地表天然植物分布示意圖。

請問：



71. 請問圖上「丙」區最可能的自然景觀特性為何？
 (A)由喬木、灌木、草類組成，層次不明顯，以樟樹、榕樹為主
 (B)樹木四季林相分明，常形成混合林型態
 (C)灌木具深根、厚皮、蠟質小葉特徵
 (D)多年生的耐旱草類，幾乎無樹木
72. 西歐以乙為主要的植被類型，此區域最可能發展出那一種地帶性土壤類型？
 (A)降水量適中，熱量較低，形成微酸性土壤
 (B)近乾燥氣候區處降水量較少，鈣化作用較強，呈鹼性，腐植質層偏向栗色
 (C)在表土層底部留下無法溶解的石英等淺色礦物，形成明顯的灰白色洗出層，土壤呈酸性
 (D)聚鐵鋁化作用盛，土壤呈紅色，土粒粗大，沃度低，土壤呈酸性