

## 單選題(占 144 分)

說明：第 1 題至第 72 題皆計分。每題有 4 個選項，其中只有一個是正確或最適當的選項，請畫記在答案卡之「選擇題答題區」。各題答對者，得 2 分；答錯、未作答或畫記多於一個選項者，該題以零分計算。

1. 捷運或公車上博愛座(priority seat)的標示為：「非老人、孕婦、行動不便及抱小孩者，請勿占用博愛座」。某市長抨擊捷運上不讓座給老弱婦孺及障礙人士，甚至霸佔博愛座的學生，形同「市民恥辱」，呼籲校方應予以處分。國人的公民素養低落及道德實踐不足等問題，再次成為關注的焦點。下列關於博愛座的敘述何者為正確？
  - (A) 「不占用博愛座」是一種道德規範，違反並不會被法律處罰
  - (B) 非老人、孕婦、行動不便及抱小孩者坐博愛座，應依道路交通管理處罰條例處以罰鍰
  - (C) 博愛座的設置精神，強調的是以讓座行為來照顧弱勢者，並不在乎讓座者是否發自內心的禮讓
  - (D) 解決博愛座的爭議，最好的方式乃藉由媒體、輿論壓力及校規介入，讓當事人後悔認錯
  
2. 網路人力銀行刊登一則徵「廚娘」的訊息後，遭民眾向台北市政府檢舉。依相關法律規定，業者最高可處以 50 萬元罰鍰。但經業者陳述表示此舉僅是習慣用語無特別含意後，勞工局即以行政指導代替開罰處分。下列何者說法較可能是其受投訴舉發的原因？
  - (A) 業者的要求是一種性別歧視的作法，已違反性別平等教育法
  - (B) 是一種玻璃天花板現象，導致性別遭受不平等的對待
  - (C) 對特定性別的招募，是一種性別主流化的作法，會加深性別不平等的現象
  - (D) 若要符合性別平等的主張，就應將徵才重點放在工作能力上
  
3. 今年五一勞動節，勞工用行動表達對政府的不滿，舉行「五一反剝削遊行」，由醫護相關工會帶領，抗議爆時工作壓榨勞工，而全國產業總工會也來到立法院門口、要求立法院儘速修法，讓勞工能被合理對待。無獨有偶，苗栗華隆紡織廠因長期積欠員工薪資爆發勞資糾紛，員工為保障自身權益，6 月 6 日起由工會組織在廠外展開長期罷工，並多次北上尋求主管機關協助。有關勞工權益，以下說法何者正確？
  - (A) 屬於第三代人權，必須由國家積極保障
  - (B) 勞工組織工會上街頭抗爭甚至罷工，是公民不服從的一種表現
  - (C) 工會與公會之區別，在於前者屬於各種專門職業技術人員，而後者屬於同類事業團體所組成
  - (D) 勞工權益的爭取，主要的核心價值是在於人性尊嚴的維護
  
4. 各大學中有許多類型的社團，依著其組成目標及理想，有的著重在爭取權益與促進社會正義的落實；有的定期舉辦同好、學術或競賽的交流；有的則是將所學知識及技能設計成各種活動課程，於寒暑假期間出隊至偏遠地區甚至是海外進行志工服務。請問，以下論述何者**錯誤**？
  - (A) 大學的社團也是志願結社的一種，只要是一群人為共同理想目標組織成一個屬於自己的團體，並不一定要向政府立案
  - (B) 服務性社團於寒暑假所舉辦的下鄉或海外志工活動，亦屬於社會運動的一種形式
  - (C) 大學社團若在外依法登記設立，則應屬於社團法人類型
  - (D) 法國政治學家托克維爾認為民主體制有賴活潑旺盛的「結社藝術」，因此學生所組成的社團也可能具備促成公民社會的影響力

5. 媒體報導，男子陳○○與高○○是同志伴侶，五年前公開宴客結婚，但他們去戶政事務所要登記結婚卻遭拒。陳、高兩人不服，因此向台北高等行政法院提起訴訟，主張同志伴侶可登記結婚。請問戶政人員拒絕他們登記為夫妻的理由為
- (A) 公開宴客不符合儀式婚的要件
  - (B) 現行我國民法規定男與女才能結婚，不承認同志伴侶的婚姻關係
  - (C) 陳、高兩人年紀差距太大
  - (D) 陳、高兩人輩分不符
6. 日籍藝人 Makiyo 與友人友寄隆輝涉嫌毆打計程車司機乙事引起軒然大波。媒體報導，就在電視名嘴砲轟接下 Makiyo 日籍友人友寄隆輝案件的律師事務所，是「替日本人欺負台灣人、為有錢人打壓窮人」的打手後，主辦委任律師突然以「案件過多無法負荷」為由，終止委任合約。請問，律師在類似這種引起公憤的重大社會事件中的主要職責為
- (A) 協助當事人說謊並銷毀不利之證據
  - (B) 勸服當事人認罪以換取減刑
  - (C) 提供當事人法律程序之協助，避免受到非法偵訊或過度處罰
  - (D) 代表當事人在媒體發言
7. 日前，南韓少女團體成員為某知名泡麵拍攝全新廣告，其中，在韓劇中常出現的以鍋蓋盛起泡麵食用的畫面，在網路上引發不小的討論。有日本網友認為這是一個「未開化」的行為，但也有理性的日本網友表示，應該尊重兩國的文化差異，不應因為用餐禮儀的不同，即惡意批評他國文化。就前述的不同觀點，以下論述何者正確？
- (A) 主張此為一「未開化的行為」，是一種源自於種族主義的文化歧視
  - (B) 用餐習慣也是一種生活風格，一旦經由社會化的過程習得這樣的文化模式，就很難再被改變，因此應給予尊重
  - (C) 依文化相對論的觀點，雖然兩國的用餐禮儀差異很大，但因為沒有孰優孰劣的問題，因此應該彼此尊重
  - (D) 依文化相對論的觀點，不同文化中都會有令人無法接受的低俗文化，因此應該彼此包容，相互尊重
8. 羅馬天主教教宗之選舉是由樞機主教舉行秘密會議選舉產生，任期為終身，任內為全球天主教徒之領袖，而其權威屬於下列何種權威類型？
- (A) 領袖魅力型權威
  - (B) 法理型權威
  - (C) 傳統型權威
  - (D) 現代型權威
9. 蘇丹因南北的淵源的不同、石油收益分配的不滿，以及兩次內戰的推波助瀾，南蘇丹於 2011 年舉行獨立公投，且一舉成功，成立「南蘇丹共和國」。我國於 2003 年 12 月 31 日公布公民投票法影響我國民主政治發展，下列有關我國公民投票之敘述，何者正確？
- (A) 上文中蘇丹的公民投票事項可成為我國公民投票之提案
  - (B) 行政院公民投票審議委員會負責審查公民投票提案
  - (C) 2012 年 7 月間，馬祖居民針對設立賭場舉行公投，因投票率僅達 40%，未達公民投票法之規定，因此遭到否決
  - (D) 政府租稅、預算及重大公共政策不得為公民投票之提案

10. 1957 年獲柏林電影節金熊獎的美國黑白電影十二怒漢(12 Angry Men)，內容為關於一個 12 人陪審團之討論過程。全劇深刻探討美國法律正義及陪審團制度，被認為是美國電影史上最重要的電影之一。該電影對白中一共出現了五次「合理的懷疑(reasonable doubt)」。此片也因為它「文化上、歷史上、美學上」的重要價值，被選為美國國家電影保護局(National Film Preservation Board)典藏。證據法上所謂「合理的懷疑」，係指刑事案件的控方證明被告犯罪，須使法院無合理之懷疑，亦即被告只須使對方的證據陷於有合理懷疑之地步，或舉證使法院對其犯罪事實發生合理懷疑，或法院對被告有罪、無罪有所懷疑時，均應採認對被告有利的見解。這就是國際鑑識專家李昌鈺博士所說的：「證據會說話，但是不會說謊。」就法治的角度而言，上述說法與下列何種觀念最為符合：
- (A) 真理越辯越明，透過法庭上各種的交叉詰問，一定可以發掘事實與真相
  - (B) 透過網路上的「人肉搜尋」及輿論壓力才能還原真相、找到真兇
  - (C) 「少數服從多數」原則是正義的保證
  - (D) 「眼見為憑」不一定正確，所以「無罪推定」可以避免因偏見所產生的誤判
11. 台大博士生蕭○○開車阻擋救護車還比中指，害救護員因救護車急煞車而撞傷，被控妨害公務、侮辱公務員及過失傷害罪。司法機關考量他已受校規處分，應訊時很懊悔，命他「緩起訴」一年，但須付六萬元緩起訴金，另提供八十小時勞動服務。下列有關的敘述何者正確？
- (A) 屬於緩刑的一種，必須經由法官宣告
  - (B) 檢察官暫時不起訴被告，但保留重新起訴的權力
  - (C) 為鼓勵悔過自新，被告所犯為死刑、無期徒刑或最輕本刑三年以上有期徒刑之罪亦得宣告緩起訴
  - (D) 緩起訴只限於告訴乃論之罪及一般的民事糾紛事件
12. 台中九天民俗技藝團是電影《陣頭》中的真實主角。團長許振榮先生於 1995 年創立後，便以發揚傳統廟會表演文化為己任，以傳統技藝作根基，吸收其他各派或各國的表演精神以多元創新，進而將民間習俗技藝提升至劇場藝術文化層次。近年來，更受邀至日、韓、美、加等國巡迴演出，讓世界各地都認識到臺灣精彩的民間藝術文化。請問該團在表演藝術上的努力，符合下列哪項論述？
- (A) 透過在地全球化的方式，台灣的本土文化在國際上能見度大增，也更具有競爭力
  - (B) 透過積極至海外巡迴演出，是反全球化的一種表現
  - (C) 九天的表演藝術是經由各種派別不同文化同化的過程，才晉升為進得了藝術殿堂的精緻文化
  - (D) 因為將民間習俗技藝提升至劇場藝術文化層次，所以該團的表演即不再屬於大眾文化的一環
13. 2012 倫敦奧運我國代表團除了成績不如預期外，在比賽期間，更因懸掛國旗與否的敏感問題，再度觸動我國人民的民族情感，也顯示兩岸間仍存在某些障礙，影響兩岸交流。而有關國際奧林匹克委員會(I.O.C)及奧運何者正確？
- (A) 奧會為非政府間之國際組織
  - (B) 在中共的壓力下，我國是以 Taipei, China 參與奧運
  - (C) 參與奧運均是以國家為單位
  - (D) 奧運金牌數目多寡與該國政治力、經濟力及文化力有關，因此北韓在此次奧運獲得四面金牌顯示北韓上述各方面超越台灣
14. 台大已故憲法學教授劉慶瑞認為，習慣、憲法解釋及憲法修改，三者均為憲法變遷的因素。而台灣在結束動員戡亂時期，回歸民主憲政後，也經過七次的修憲，除了加強憲政民主化及恢復人民憲政主體地位外，也對中央政府體制進行結構性的調整。下列有關修憲後我國中央政府體制之敘述，何者正確？
- (A) 立法與行政合一，立法委員兼任行政官員
  - (B) 今日監察院彈劾對象為中央、地方公務人員及民意代表
  - (C) 總統、副總統受立法院彈劾後，應立即撤職
  - (D) 大法官可針對釋憲案，決定召開憲法法庭舉行公開言詞辯論，讓釋憲方和相關機關推派學者專家，就相關憲法與法理爭議公開辯論

15. 十八世紀上半葉法國啓蒙思想家孟德斯鳩在其主要著作《論法的精神》中，認為「有兩種腐化，一種是由於人民不遵守法律；一種是人民被法律腐化了。」現代法治理念也特別強調：「法律是講道理的過程」、「法院是講道理的地方」。下列何者最適合描述這種理念？
- (A) 先衡情，再說理，後論法 (B) 惡法亦法  
(C) 惡法非法 (D) 罪刑法定主義

16. 我國立委選舉制度從第七屆大幅度改變，表(1)為 2012 年第八屆立委選舉結果，請問下列何者正確？

表(1) 第八屆立委選舉結果分析

政黨	區域 當選人數	原住民 當選人數	不分區 當選數	全部席次	席次率%	區域立委 得票率	政黨票 得票率%
國民黨	44	4	16	64	56.64%	48.18%	44.55%
民進黨	27	0	13	40	35.40%	43.80%	34.62%
親民黨	0	1	2	3	2.65%	1.33%	5.49%

(2012.1.14 中央選舉委員會)

- 甲、區域立委得票率與席次率間比例呈現偏差  
乙、此為「一票制」之選舉  
丙、此種選舉制度可能產生「分裂投票」  
丁、區域立委採取「單一選區」，有助於小黨候選人當選  
戊、區域立委採取「單記非讓渡投票制」
- (A) 甲乙丙 (B) 甲乙戊  
(C) 甲丙戊 (D) 甲丁戊

## 17-18 題為題組

「旺中案」紛擾一時，引發全國輿論重視。該案源起於已握有中天、中視等頻道的旺旺集團欲併購代理數家如東森、TVBS 等頻道的中嘉有限電視系統公司，而可能導致的媒體壟斷危機。於 NCC 審議之際，傳播相關學者即紛紛站出號召反對。雖然 NCC 最後以「與新聞台作切割」為前提有條件許可通過，但仍被旺旺集團拒絕。之後，中天新聞報導則影射某特定學者發動走路工，收買學生抗議旺中合併。此舉引發大專院校學生及民間人權團體大規模抗議，抗議人士自主性集結於中天電視台前高喊「拒絕媒體霸凌，捍衛言論自由」抨擊電視台以抹黑的惡質報導手段轉移焦點。隨後，該位學者即委由同行學者向 NCC 及中天遞交檢舉信和抗議信。

17. 針對本次事件，以下何者**並非**閱聽人主要所擔憂的事項？
- (A) 媒體的壟斷，將使多元的價值與意見趨向於一致，造成一言堂的現象  
(B) 媒體的併購，將使旺旺集團的置入性行銷更爲容易操作  
(C) 透過議題的設定，可使巨大的媒體怪獸以各種方式打壓或扭曲個人意見，進而行成寒蟬效應  
(D) 媒體可能無法有效發揮第四權的功能
18. 有關「中天新聞影射某特定學者以發動走路工的方式號召學生抗議旺中合併案」一事，下列論述何者正確？
- (A) 新聞報導若侵害當事人權益，則當事人依法有權行使媒體接近使用權的「接近權」  
(B) 新聞講究事實，對於報導的真偽，應先交由主管機關事先審查，再透過媒體自律報導  
(C) 儘管媒體選擇轉移焦點，設定議題大肆報導，也無法影響人們對特定學者的認識與支持  
(D) 對於走路工的影射案，媒體可主張「新聞自由」來保障其第四權之行使

## 19-20 題為題組

2011 年美國國會就美國債務上限(debt ceiling)提高引發一場激烈的爭辯。共和黨認為解決赤字問題只能透過大刀闊斧削減開支，但大部分民主黨黨員認為必須加稅。最後共和黨主導的美國眾議院通過調高舉債上限及減少赤字，而民主黨主導的美國參議院亦在隔日通過，歐巴馬總統簽署議案，結束債務上限危機。

19. 依據以上內容，有關美國的憲政制度及政黨政治的描述何者正確？
- (A) 美國國會最後選擇用表決的方式通過爭議的法案，此為審議式民主
  - (B) 歐巴馬總統若不同意削減開支，可將議案退回國會復議
  - (C) 歐巴馬總統若不退回該議案，也不願簽署公布議案，則議案於國會通過 10 天後生效
  - (D) 民主黨屬於外造政黨，黨內決策權力掌握在總統
20. 美國的憲政制度，與英國比較，下列敘述哪些正確？
- 甲、美國內閣直接對總統負責，英國內閣對國會負責
  - 乙、美國總統任命部會首長需經參議院同意，英國首相任命部會首長需經下議院同意
  - 丙、美國現任國務卿希拉蕊之職權為綜理國際外交事務，其地位相當於英國首相
  - 丁、英國首相及各部會首長得兼國會議員，美國則否
  - 戊、美國總統及各部會首長無法於國會提出法案，英國首相及各部會首長則可
- (A) 甲乙丙
  - (B) 甲乙戊
  - (C) 甲丙丁
  - (D) 甲丁戊

21-22 題為題組

媒體報導：「淫魔富少李○○的淫照和影片近日在網路瘋傳，知名的「○○○論壇」網站更新增 6 部透姦影片，供網友下載；檢警昨緊急召開專案會議循線追查上傳影片者，卻發現該帳號早在 2 年前遭盜用，查緝困難。但檢警認為，○○○網站供網友上傳影片，再以收費或增加廣告點閱率等方式營利，已涉妨害秘密及散布猥褻物等罪，將究辦相關人士刑責，並研商是否封鎖該網站 IP，杜絕散布管道。」

法律學者認為，「淫魔，淫照，透姦」這些話語，把侵害性自主權的強暴當成偏差的敗德行爲，將性侵害證據稱為淫照，既貶抑了被害人，也扭曲了事件的本質。刑法修正時刪除了「姦淫」兩個字，目的就是要釐清刑法處罰性侵害的理由：不是有損性道德，而是侵害性自主權利。女性主義法學家 Catharine MacKinnon 便認為「強暴影像構成兩次強暴」：先是透過強暴女人來做成影像，再透過影像傳達強暴來再次進行強暴，又因為強暴影像讓受害者的經驗從片刻成爲永恆，可以不斷被重演，每一次的觀看都重演了一次強暴，也就一再重複傷害。

根據以上的論述，請回答下列問題：

21. 媒體用「淫魔」等字眼來形容事件當事人
- (A) 屬於新聞自由的範疇
  - (B) 對加害人貼切的形容，替社會大眾宣洩怒氣
  - (C) 可能涉及妨害名譽、公然侮辱等刑責
  - (D) 是記者對可受公評之事發表評論，在法律上免責
22. 根據女性主義法學家 Catharine MacKinnon 的說法，關於「強暴影像」，下列何者為非？
- (A) 「強暴影像」的散播是受到憲法保障的言論自由
  - (B) 選擇不要、不看、不傳，不給、不留、不登「強暴影像」，來避免傷害的擴大，這才是民主社會的公民平等對待他人的方式
  - (C) 「強暴影像」是一種性別歧視的行爲，不是受到憲法保障的性言論
  - (D) 觀看「強暴影像」，就是透過觀看來體驗強暴，是對被害人一再重複的傷害

23-24 題為題組

由於法治理念的普及，權利保障意識的崛起，政府與人民之間的權利義務關係日趨複雜，相關的法律規範也日益重要。這不僅涉及公益與私利的調和，也是人民對政府誠信與信賴的考驗。例如，台北士林「文林苑」王家都更案(王家封閉溝通，建商搶先預售及市政府依法強拆)；苗栗縣大埔農地徵收案(縣府派怪手快速剷平即將收割的被徵收農田)；東菱電子案(十餘年前勞委會以貸款名義代發退休金給勞工，近日勞委會向勞工追討這些金額)等。政府不斷強調「依法行政」，必須貫徹公權力的執行，而抗議民眾卻批評政府包庇富商巨賈，欺凌社會弱勢與少數者，並質疑法律的正當性與合理性。

23. 所謂的「依法行政」積極面指的是？
- (A) 一切行政行為或其它一切行政活動，都必須合於法律規範，不得與法律相牴觸的法律優位原則
- (B) 限制人民自由權利的行政行為，其依據的法規應由立法院以法律規定，或是有法律明文授權為依據的法律保留原則
- (C) 行政機關的行政行為，都必須要有法律上的實質理由，不得恣意而為的禁止恣意原則
- (D) 人民因信賴公權力所形成之利益，應受到法律保護的信賴保護原則
24. 握有決策權的行政首長不但要有依法行政的認知，更應具備對法可能造成的不良後果有所預想，並視情況向人民解釋緣由。因此，從法治的精神及憲法保障人權的觀點而言，行政首長面對這些衝突與抗爭時，較妥適的做法為
- (A) 暫緩執行並向大法官聲請釋憲或向立院提出修正要求
- (B) 動用警察等公權力以貫徹少數服從多數的原則
- (C) 運用媒體力量以凸顯行政行為的合法性
- (D) 向法院提出假扣押、假處分等保全程序的聲請


25. 資料一、資料二為曾國藩籌組團練時的資料，閱讀資料後回答問題。

資料一：「故國藩此次辦法，重在團，不重在練。團者，即保甲之法也。清查戶口，不許容留匪人，一言盡之矣。練則必制器械，造旗幟，請教師，揀丁壯，或數日一會，或一月一會。」

資料二：「竊念今日大局，若非練兵萬人，合成一心，斷難制此賊之死命。……鄙意欲練勇萬人，呼吸相顧，痛癢相關，赴火同行，蹈湯同往。勝則舉杯酒以讓功，敗則出死力以相救。賊有誓不相棄之死黨，吾官兵亦有誓不相棄之死黨，庶可血戰一二次，漸漸吾民之耳目，而奪逆賊之魂魄。自出省以來，日夜思維，目今日之急，無逾於此。」

請問資料一中曾國藩想要籌組的團練名稱為何？又，資料二中的「此賊」所指為何？

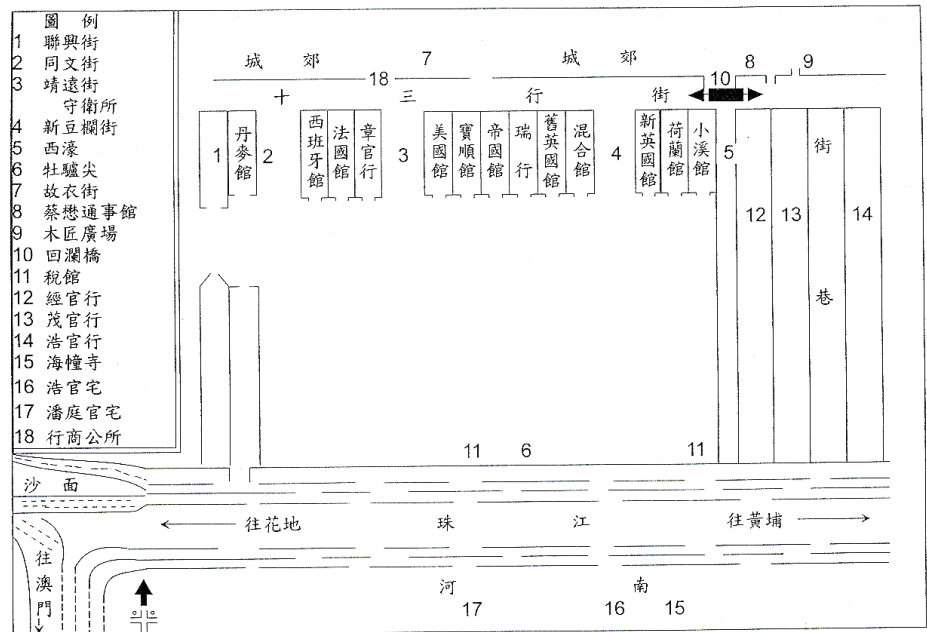
- (A) 湘軍；白蓮教
- (B) 湘軍；太平軍
- (C) 淮軍；捻匪
- (D) 淮軍；回變
26. 唐先生沉迷於古物古董，圖(1)是有一次他在拍賣會買到一份台灣古物，是一封貼有郵票的信封，藍底黃虎的郵票上還印有「FORMOSAN REPUBLIC」及「TAIWAN REPUBLIC」字樣的郵戳，請依你的歷史知識協助唐先生來判斷這張貼有郵票的信最可能出現在台灣的哪一個時期：
- (A) 台灣開港通商之際
- (B) 劉銘傳自強新政時期
- (C) 馬關條約簽訂後
- (D) 日本領有台灣後



圖(1)



27. 圖(2)為某一城市商館的平面圖，請問：圖(2)最有可能出現於何時何地？
- (A) 1830 年；廣州  
(B) 1840 年；天津  
(C) 1850 年；上海  
(D) 1860 年；廈門



圖(2)

28. 請閱讀以下資料：「馬祖考古隊一行再度登上亮島，進行長達 19 天的挖掘工作，在「島尾一號」遺址開挖的坑洞，再度挖出一具相當完整的人骨，計畫主持人陳仲玉教授表示，……這次出土的人骨呈現仰身肢葬，保持相當完整，而另外挖出的完整魚叉，由獸骨磨成，從地層判斷保守估計至少在 7500 年前，這次的挖掘過程與成果真的可以說是相當幸運。……此次挖掘成果相當豐富，先行運回的包括動物骨、尖鑽器、地層貝殼及陶片等……。」根據此遺址目前所挖掘出土的物品，其分布年代應與下列何者最為相近？
- (A) 長濱文化  
(B) 大坌坑文化  
(C) 網形文化  
(D) 十三行文化
29. 資料一：這位希臘哲學家曾說「知識即德性，無知即罪惡」。討論德性就是要獲得道德的一般定義和普遍本質，並時常透過問答的方式來啟發別人思考。  
資料二：「哲學家應該關心的是永恆不變的事物與『流動』事物之間的關係。永恆不變的東西並非一種『基本物質』，而是形成各種事物模樣的精神形式或抽象模式，被稱為『理型』或觀念。」  
資料三：這位希臘哲學家在講學後期，正值雅典在希臘內戰失利。西元前 399 年，被控以「不信神明，腐化青年」罪名，被判處死刑，成為西方第一個堅守自己原則而犧牲的哲學家。
- 上述三段關於希臘時代哲學家的敘述，以下正確為何？
- (A) 資料一所提的是柏拉圖，資料二是蘇格拉底  
(B) 資料一跟資料二所談的都是蘇格拉底的哲學思想  
(C) 資料一跟資料三所談的是蘇格拉底的哲學思想  
(D) 資料二跟資料三顯示柏拉圖哲學對當時希臘年輕人的影響力
30. 一場戰爭中，君士坦丁堡的皇帝向西歐求援，但並無回應，因為英國與法國正處於百年戰爭之後，大傷元氣；西班牙則與南方的穆斯林作戰；神聖羅馬帝國各邦不斷發生衝突。義大利北方城邦曾派遣部隊到達君士坦丁堡，但根本無法抗衡對方大軍。這場衝突是：
- (A) 西元前 5 世紀波斯人攻打希臘之戰  
(B) 西元 11 世紀十字軍攻打拜占庭之戰  
(C) 西元 15 世紀土耳其攻打東羅馬之戰  
(D) 西元 19 世紀俄羅斯攻打鄂圖曼之戰

31. 如圖(3)所示，麻六甲一個博物館中展出一件瓷器，圖案顯示歐洲的花紋，與中國的傳統文飾並不相同，又說明這是中國最早大量出口的瓷器，歐洲王室異常珍惜。這個瓷器應當是：

(A) 4 世紀羅馬商人經由絲路取得的商品  
(B) 7 世紀大食商人來華貿易的重要商品  
(C) 12 世紀阿拉伯商人從泉州所購商品  
(D) 17 世紀東印度公司從廣州所販商品



圖(3)

32. 由於區域貿易的加強，商人們經營活動的專業化與組織化愈來愈高。合夥很常見，商業的活動已有股份公司出現，公司的所有權與經營權相分離，金錢的流通管道暢通，人們可以從多處借錢，不僅通過放債人，也可以透過捐客、批發商和貨倉主來借貸。由上所述，這是哪一時代的經濟發展特色？

(A) 漢代  
(B) 魏晉南北朝  
(C) 唐代  
(D) 宋代

33. 學者陳永發將中國共產革命分為三期，分別是革命奪權時期(1921~1949 年)、不斷革命時期(1949~1978 年)及告別革命時期(1978 至今)。1949 年中國共產黨雖然已建立政權，但社會主義革命尚未完成，因此需要不斷革命以穩固政權。以下關於此時期中共鞏固政權的方法，何者正確？

(A) 推行平民教育，發動學生鬥爭當權派，對基層幹部加以思想改造  
(B) 運用國共合作，取得更多人民支持  
(C) 黨政軍體制一元化，提高軍事將領地位，以軍領政  
(D) 運用階級鬥爭和動員群眾的方式，在農村中推動土地革命，城市則利用群眾運動，使其深入社會角落

34. 1849 年，美國海軍曾進入臺灣某地，並聲稱當地某項物產的品質十分良好，可減少美國對歐洲的依賴。1854 年，美國又來到此地，再次調查當地該項物產的產量，並極力主張應以武力佔領此地，並以此地作為美國發展東方商務的中心。請問：文中所述的地點及物產應是下列何者？

(A) 大稻埕，茶葉  
(B) 大溪，樟腦  
(C) 基隆，煤礦  
(D) 安平，甘蔗

35. 「這個時期由於台灣外在環境的變化促使作家開始重新思考台灣的問題，產生回歸鄉土的運動，開始關心這塊土地人民的生活與問題，終於為前一個世代以來的失根與放逐感劃下一個休止符。」關於以上敘述，下列何者正確？

(A) 「前一個世代的失根與放逐感」是批評盛行於前一個世代的反共懷鄉文學  
(B) 「這個時期」指的是 1960 年代，「外在環境的變化」指的是越戰的爆發  
(C) 會支持以上言論的作家有朱西甯、余光中等  
(D) 「這個時期」的回歸鄉土思潮，日後引發一場文學論戰

36. 某份整理好的歷史考卷題目裡面，出現「徵召服役」、「采邑與土地轉移稅」與「效忠禮節」等關鍵詞，最有可能是在談中古時期的哪個觀念？

(A) 莊園經濟  
(B) 領主與附庸  
(C) 騎士精神  
(D) 政權傳統



37. 明代中後期商品經濟發達，城鎮間物品交流頻繁，使得近遠程商業販運活動有了廣闊市場，江南地區經濟繁盛，以運河、水運為主要方式的交通網絡，使得大批的長途販運商，攜重金到產地收購商品，然後運至遠地以獲厚利。此商品經濟型態的出現，對明代晚期社會造成何種影響？
- (A) 江南地區奢靡僭越之風日甚 (B) 在政府協助下組成商幫出外貿易  
(C) 程朱理學更為流行 (D) 士農工商身份階級日趨嚴格

38. 歐洲人最初用一個名詞指「缺乏古典主義的均衡特性」，原本是崇尚古典藝術者對不同於文藝復興風格的藝術的貶抑稱呼，現在卻成了強調「運動」與「轉變」的特點，注意作者的情緒。這個時期中，音樂、建築的表現最有特色，影響浪漫時期的風格。這應當是指哪一個時期的特色？
- (A) 希臘化時期 (B) 文藝復興時期  
(C) 巴洛克時期 (D) 現代主義時期

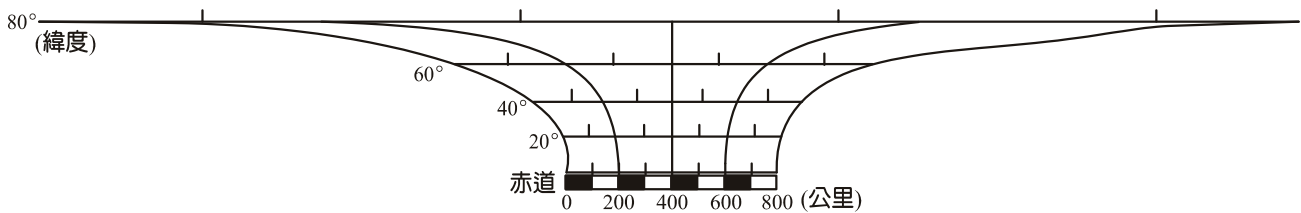
39. 表(2)為臺灣某一時期的人口統計分布表，請依據你的歷史知識，判斷此表應該最接近哪一年代？

表(2) 清代臺灣人口分布表

北部	中部	南部	東部	澎湖
767000	622000	1101000	6000	67000
29.5%	25.8%	42.7%	0.2%	1.8%

- (A) 1789 年 (B) 1850 年  
(C) 1893 年 (D) 1945 年
40. 某學期歷史報告以「區域歷史」為主題，士軒在報告中提到某地的水利灌溉措施甚早建立；紡織業相當發達；明末的流寇之亂造成人口大量銳減。依你的判斷，士軒的報告應是以何地的研究為主軸？
- (A) 山東 (B) 關中 (C) 江南 (D) 四川
41. 一位作家說：現在義大利崩潰是因為多年來依賴僱傭軍作戰。外敵壓境時，僱傭軍就原形畢露。法國國王能夠不費吹灰之力，占據義大利，便是因為僱傭軍不能作戰。當君主或共和國必須用兵時，君主必須身臨前敵；共和國則須委派公民前往。經驗證明，只有君主自己和武裝起來的共和國才能進展，僱傭軍只會造成損失。羅馬和斯巴達許多世紀都是整軍經武，從而享有自由；瑞士人則是徹底武裝起來，從而享有完全的自由。這位作家應當是：
- (A) 1 世紀時的羅馬帝國元首奧古斯都 (B) 4 世紀抵抗日耳曼人的君士坦丁帝  
(C) 15 世紀末擔任政府要職的馬基維利 (D) 19 世紀呼籲義大利建國的馬志尼
42. 這是台灣戰後經濟出現的第二波外資湧入潮，無論投資的件數與金額都顯著的增加，此時的台灣無論在人才與生產技術方面都到達足以吸引外資來從事跨國分工，終於跳脫所謂「夕陽產業」的外資投資型態。根據上述內容，此時期台灣經濟發展的特色應為：
- (A) 此時期政府鑑於國內產業無法與外資競爭的考量下，決定對原料及機器設備課徵相當高的貨物稅與關稅  
(B) 此時期政府為加速鼓勵外資投資台灣，決定制定「獎勵投資條例」來取代已實行三十多年的「促進產業升級條例」  
(C) 此時期政府也開始對應的政策，推動「自由化」與「國際化」；如加入國際經濟組織，「資本自由化」與「開放服務業給外商」等政策推波助瀾  
(D) 此時期政府所扶持的重點產業為重工業，如石化業及鋼鐵業等，以吸引外資進入台灣
43. 西元 313 年羅馬帝國的皇帝頒佈一份詔令，內容講述到：「有鑑於公共利益與安全，我們認為有必要頒訂尊重宗教之法，給予基督徒以及所有人信仰自由的權力...」。從文中可知，此時基於政治考量讓基督徒由原先的被迫害，轉而獲得羅馬政府的認可。請問頒佈這份詔令的皇帝為何？
- (A) 奧理略 (B) 戴克里先  
(C) 君士坦丁 (D) 狄奧多西

44. 據學者研究，荷蘭東印度公司施行各項措施鼓勵□□從事農業，「在……當局鼓勵之下，□□……引進甘蔗到大員種植，成為□□在福爾摩沙從事農業的開端。」請問：文中的□□應為下列何者？  
(A) 日本人 (B) 平埔族 (C) 中國人 (D) 荷蘭人
45. 他是一位小學教師，但他親眼見到農村的學童因過度勞動而難以學習，他知道根源出在農村的貧困，而農村的貧困則源自殖民政府與資本家對農民的剝削，他因此辭去人人稱羨的教職，騎著腳踏車到各農村演講、組織「農民組合」，走上農民運動的革命之路。1928 全台已有二十七個支部，登記會員二萬四千名，甚至有學者保守估計，當時全台 400 萬人中，每 20 位便有一位農組的支持者，是日治時代最具實力的民間組織。「他」是誰？  
(A) 蔣渭水 (B) 林獻堂 (C) 謝雪紅 (D) 簡吉
46. 暑假前往南亞某國自助旅遊的小夏，發現這個信奉印度教的國家「每家每戶都供奉神像」、「非常的崇敬黃色母牛，把牠們視為母親一般尊貴」。此外，這個國家還有崇拜「童女神」的特殊風俗和保留種姓制度的傳統。請問這個南亞國家為何？  
(A) 尼泊爾 (B) 印度 (C) 不丹 (D) 斯里蘭卡
47. 1926 年 9 月，王國維先生曾說「吾輩生於今日，幸於紙上材料之外，更得地下之新材料，由於種種材料，我輩因得據以補正紙上之材料，亦得證明古書之某部份全為實錄，即百家不雅馴之言，亦無不表示一面之事實。此二重證據法，惟在今始得為之。」而最有名的例子，乃是王國維先生利用甲骨文對哪一書籍的考證？  
(A) 《尚書》 (B) 《詩經》 (C) 《左傳》 (D) 《史記》
48. 這個朝代的前期是女服半臂的興盛時期。這時候的婦女多穿翻領、對襟、窄袖的直統長袍，腰帶上嵌有花飾，並且掛有佩刀、火石袋，衣長至小腿，露出條紋緊口褲與腳上的六合皮靴。這種裝束，應是哪一朝代的特色？  
(A) 春秋戰國 (B) 漢代 (C) 唐代 (D) 宋代
49. 圖(4)為某一張世界地圖中，所標示的比例尺圖例，則此世界地圖最可能是選項中的哪一張地圖？

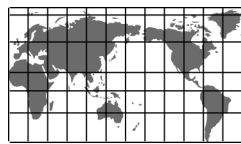


圖(4)

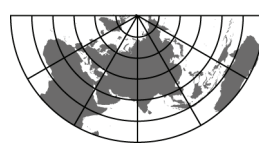
(A)



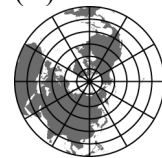
(B)



(C)




(D)



50. 西班牙的世界文化遺產數多達 44 個，位居全球第二，其中包括有伊斯蘭王宮、修道院、大教堂、古羅馬城牆等景觀。在歷史上西班牙受腓尼基人、古希臘人、迦太基人、羅馬人、日耳曼及北非人影響，使文化上呈現了多樣面貌，因此帶動西班牙觀光產業的發展，每年到訪的觀光客人數，僅次於法國位居世界第二位。試問西班牙文化的多元性，主要與該國哪一條條件關係最為密切？  
(A) 溫和的氣候 (B) 複雜的地形  
(C) 位置的條件 (D) 產業的結構

51. 圖(5)為台灣某地區的空照圖，圖中所標示的四地點中，哪一地點發生土石流災害的機率最大？  
(A) 甲  
(B) 乙  
(C) 丙  
(D) 丁



圖(5)

52. 某傳統建築利用了在地的建材建屋，該建材具有多孔隙，質輕但堅硬的特色。砌牆時可利用它多孔的特性互相嵌合，通風而不失堅固。若在縫隙中，填以該建材沉積成的石灰質土，作為牆壁，會有冬暖夏涼，經久不壞的優點。則建築最可能分布於下列哪一環境區域？  
(A) 分布近熱帶的海域  
(B) 分布於板塊接觸帶  
(C) 分布近高緯度山區  
(D) 分布於河川下游區

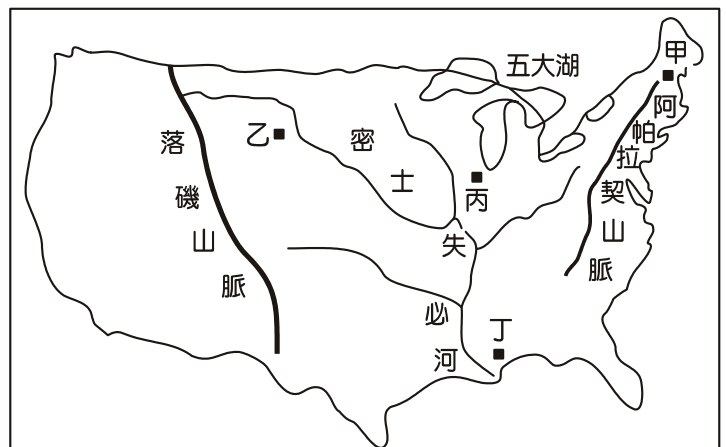
53. 下列是對台灣某公司生產區位及生產方式的報導：「德微是一家台灣的科技公司，從事電子產業中、上游原料的製造，2002 年至中國委請協力廠商代工生產，但在 2008 年時，德微發現農曆年後，許多員工返鄉未歸，導致工廠產能閒置。…在 2010 年德微回台設廠，因大陸設廠的經驗，使它調整了生產方式…。目前在台灣的工廠，只見數十支機械手臂不停地進行焊接，規律且一致，透過監視器，就能隨時掌握情況…。」上述的報導，就回台灣設廠後，**最不易**反應出該公司哪一生產特色？  
(A) 自動化生產  
(B) 機械化生產  
(C) 生產標準化  
(D) 生產規格化

54. 紐西蘭居民的組成，來自於三大族系。其中包括有：來自東太平洋島嶼的居民、來自亞洲的居民及來自歐洲的居民，表(3)為甲~丙三個族群，依人數的比例排列，就表中資料判斷，甲~丙三族群，最主要移居紐西蘭的先後順序是？  
(A) 甲乙丙  
(B) 甲丙乙  
(C) 乙甲丙  
(D) 乙丙甲

表(3)

	甲族群	乙族群	丙族群
所佔百分比	77%	14%	9%

55. 2012 年是自 1895 年以來美國最熱的一年，隨之發生了近 50 年來，最嚴重的一場乾旱。乾旱範圍大，持續的時間長，對美國農業影響甚鉅。其中在某一地帶的乾旱尤為嚴重，波及了相關產業的發展，使得美國許多製造乙醇的工廠停產，甚而有部份養牛場主人因乾旱，飼料成本增加，而至賣場收購打折的糖果，再添入營養素餵養牛隻。試問文中所指乾旱尤為嚴重的區域，最可能為圖(6)中的哪一位置？  
(A) 甲地  
(B) 乙地  
(C) 丙地  
(D) 丁地



圖(6)

56. 表(4)為日本本州島四個地點的氣候資料，其中各有兩地點，分列於本州島的東、西兩側近海區。若欲前往日本進行賞櫻之旅，則哪一地點是能眺望到日本海中，最早欣賞到櫻花的地方？

- (A) 甲
- (B) 乙
- (C) 丙
- (D) 丁

表(4)

地點	月份	1	2	3	4	5	6	7	8	9	10	11	12
甲地	溫度	2.9	2.9	6.0	12.1	17.0	20.8	25.2	26.6	22.1	16.1	10.8	6.0
	雨量	293	195	156	148	150	207	251	171	248	203	265	305
乙地	溫度	1.0	1.3	4.2	10.0	14.9	18.3	22.0	24.1	20.1	14.4	8.9	4.0
	雨量	33.	48	73	98	108	138	160	174	218	99	67	26
丙地	溫度	4.0	4.5	7.6	13.9	18.7	22.4	26.5	27.7	23.4	17.1	11.5	6.5
	雨量	50	66	111	152	154	248	235	143	203	112	70	40
丁地	溫度	-1.8	-1.7	1.5	7.6	13.0	16.8	20.9	22.9	18.4	12.0	6.2	1.0
	雨量	170	122	82	68	71	85	101	140	127	98	136	162

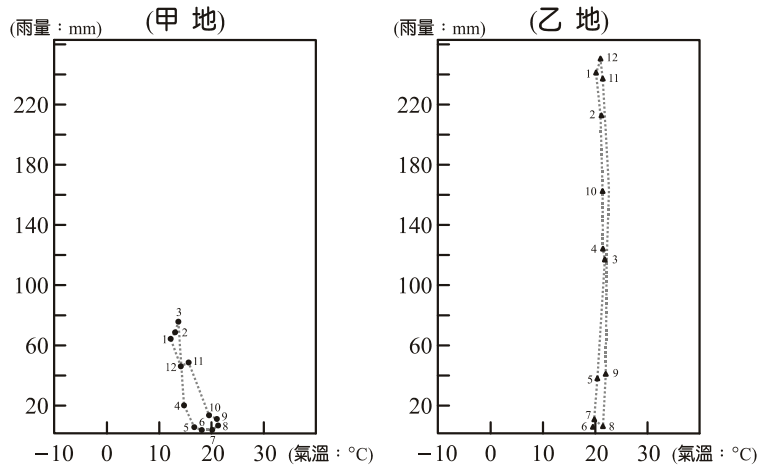
(溫度單位：°C；雨量單位：mm)

57. 某一山區土地利用調查的研究如下：將瞭解 10 年來，該山區高度在 1000~2000 公尺的範圍，林地面積的變化量。如果要應用地理資訊系統的功能：甲、地勢分析；乙、疊圖分析；丙、視域分析；丁、區域分析；等加以分析，最需利用哪兩種分析的功能？

- (A) 甲乙
- (B) 甲丁
- (C) 乙丙
- (D) 丙丁

58. 下列為兩種氣候類型，一年中各月份溫度及雨量的散布圖，圖(7)中的數字代表月份，試觀察兩氣候分布的特色，下列的推論何者最為正確？

- (A) 乙地為冬雨型的氣候
- (B) 乙地的溫差較甲地大
- (C) 兩者屬同一半球(南半球或北半球)
- (D) 兩者皆受副熱帶高壓帶影響



圖(7)

59. 某一非熱帶的自然景觀帶，具有下列特色：該地區開闊且寬廣的視野，適於奔馳，動物類型主要包括有：齧齒類及有蹄類。有蹄類的動物，具有迅速奔跑的能力，敏銳的聽力及視力，並有終生生長的臼齒，幫助咀嚼食物。但由於降水年際變率很大，使食物來源欠豐，齧齒類動物則以較高的繁殖能力及冬季儲食的習慣，來回應生態所產生的限制。則該自然景觀帶的土壤最可能具有下列哪一特色？

- (A) 淋溶作用明顯
- (B) 具豐富腐植質
- (C) 表土土層過薄
- (D) 土壤顏色偏紅

60. 表(5)為甲、乙、丙三個陸地區，一年的降水量、年蒸發量及年滲流量的分布表，試問三個地區的地表逕流量，由大至小最可能的順序是？

- (A) 甲乙丙
- (B) 甲丙乙
- (C) 乙甲丙
- (D) 乙丙甲

表(5)

地區	年降水量	年蒸發量	年滲流量
甲	1100	242	63
乙	963	94	57
丙	878	105	50

(單位：億立方公尺)



61. 下列圖(8)、圖(9)代表兩個不同農業系統所產生的農業景觀，比較兩地的農業特色，可能的推論有：甲、I地承受較大的市場風險；乙、I地年降雨量較豐；丙、II地單位勞力的產量較大；丁、II地的農業體系較接近生態農業；其正確的是？

- (A) 甲丙
- (B) 甲丁
- (C) 乙丙
- (D) 乙丁



圖(8)：I地

資料來源：<http://www.galenfrysinger.com/saskatchewan.htm>



圖(9)：II地

資料來源：<http://www.lvmama.com/info/>

62. 油價的上漲，對全球經濟的衝擊大，甚而影響了都市區域的發展，自 2008 年以來出現了歷史的高點，全球的油價在波動中持續的上漲，此一趨勢，對都市發展最可能產生下列哪一影響？

- (A) 郊區化現象減緩
- (B) CBD 的功能降低
- (C) 都市化程度增加
- (D) 都市機能雜異化

63-64 題為題組

台灣具有各類型的零售商店，經營方式亦不斷更新，讓我們購物更加便利。表(6)為台灣目前各不同等級的連鎖型商店，數量、營業面積及營業樓層概估表，其中包括的零售商店可能有：百貨公司、便利超商、超級市場及量販店等四個類型。試問：

表(6)

零售商店類型	甲類	乙類	丙類	丁類
數量(家)	9770	50	840	95
平均每店營業面積(坪)	20~30 坪(不含倉庫)	10,000 坪左右	120~520 坪	2,000~20,000 坪
平均營業樓層	1 層	約 5 層以上	約 1~3 層	約 2~5 層

63. 就乙、丙、丁三類型店址所在區位調查，平均單位地價高至低的順序最可能是？

- (A) 乙丙丁
- (B) 乙丁丙
- (C) 丙乙丁
- (D) 丙丁乙

64. 若要進行零售業商業活動的地理研究，針對來店的顧客進行問卷調查。下表為部份的問卷內容。若透過中地的概念瞭解商店的階層，問卷ㄅ~ㄉ的問題中，哪些較能瞭解各商店的等級？

顧客問卷：

ㄅ：請問您從哪裏至此購物？(請寫出地區及街道名)

ㄆ：請問您的年齡是？20 歲以下 20~30 歲 30~40 歲 40~50 歲 50 歲以上

ㄇ：請問您的月薪收入有多少？2 萬以下 2 萬~4 萬元 4 萬~6 萬 6 萬元以上

ㄏ：請問您大概多久會來這家商店消費一次？1~2 天 3~4 天 約一星期 約半個月  
約一個月以上

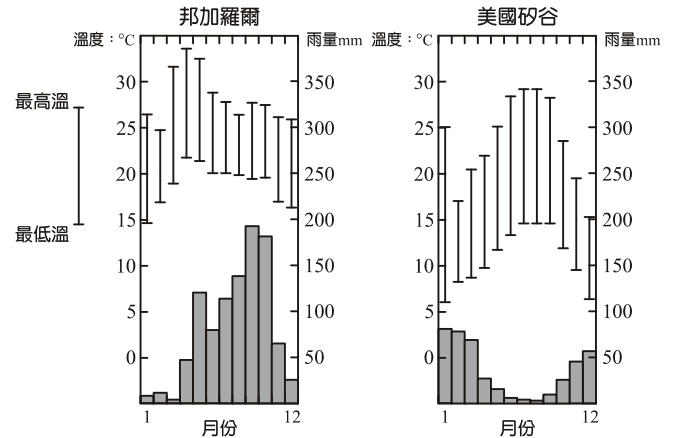
ㄉ：通常在一天中，您會哪一時間到這家商店購物？上午(11 時以前) 中午(11~13 時)  
下午(13~17 時) 晚上(17 時以後)

- (A) ㄅ
- (B) ㄆ
- (C) ㄇ
- (D) ㄈ



65-66 題為題組

美國的矽谷及印度的邦加羅爾，是世界著名科技產業的集中區域，除政府政策的影響外，兩地都分布於氣候良好的地點，溫和而宜人。而原本分居兩地的科技園區，時差本為合作發展的限制，而今卻因發達的通訊，並在接續生產的概念下，時差反成為合作的一個優點。試參考圖(10)兩地的氣候圖，回答下列問題：



圖(10)

65. 兩科園區設廠區位的選擇，常選擇「優良氣候」的條件，此一特色最可能反應出該產業的哪一特性？
- (A) 產品具較高附加價值
  - (B) 產業群聚的特徵明顯
  - (C) 具有高耗能生產特色
  - (D) 具有零庫存生產特色

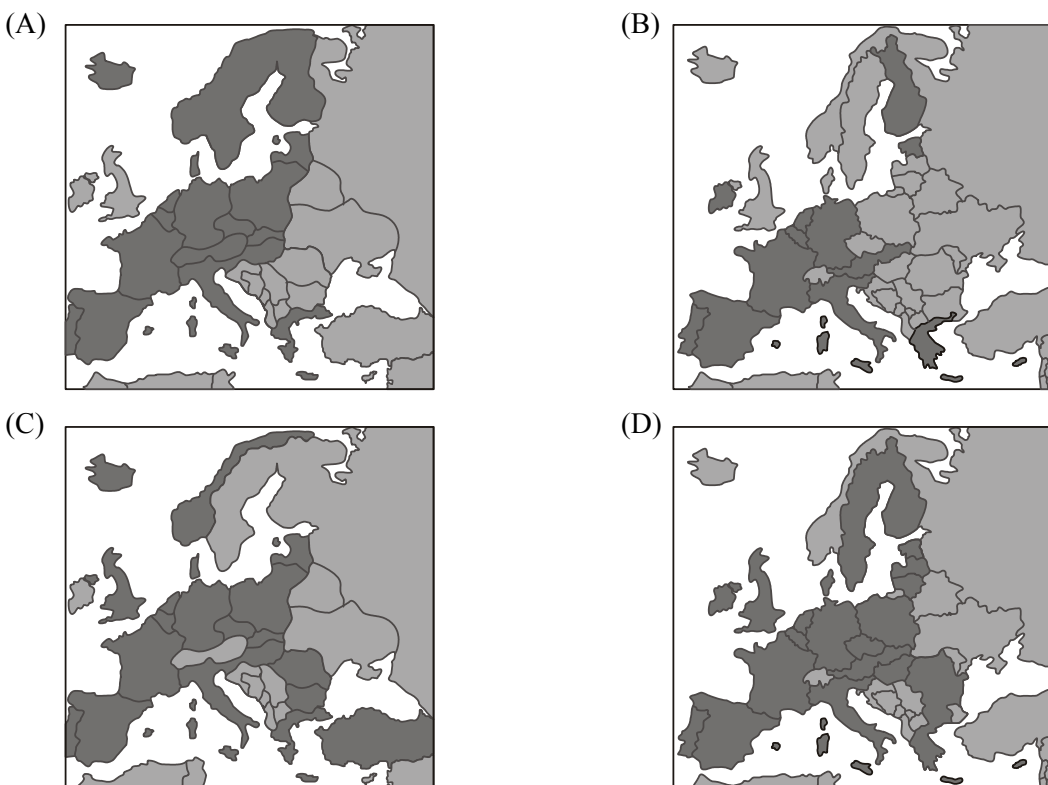
66. 下列選項中，何者最可能為印度邦加羅爾及美國矽谷所在經緯度？

地點 \ 選項	(A)	(B)	(C)	(D)
印度邦加羅爾	(43°E、35°N)	(55°E、41°N)	(73°E、15°N)	(81°E、5°N)
美國矽谷	(137°W、46°N)	(71°W、24°N)	(121°W、37°N)	(43°W、30°N)

67-68 題為題組

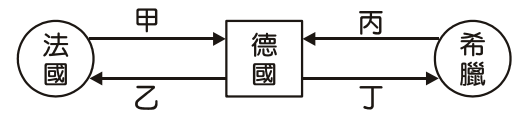
2002 年歐元正式成立，成立之初，為了使更多國家加入該組織，降低了參與的門檻，讓許多財政不佳的國家加入了歐元組織的運作，種下了今日歐債問題的禍因。其中地處歐洲邊陲區，以希臘為首的五個國家問題尤為嚴重，被稱之為「歐豬五國」，歐豬國家的債務問題，連帶使歐元組織更為脆弱。而今解決歐債問題，維繫歐元組織運作的關鍵，全球普遍認為是經濟發展相對穩健，以德法為首的核心國家。

67. 下列四個組織會員國的分布圖，其代表的組織包括有：歐元組織、申根協議、歐盟組織及北大西洋公約組織，其中哪一個圖最可能為歐元組織國家的分布圖(深色部份表加入的會員國)？



68. 如圖(11)所示，甲、乙、丙、丁為 2011 年德國對法國及希臘進出口額，佔德國進口總額或出口總額的百分比，四者的百分比可能出現的數值為 9.6%、7.6%、0.8%、0.3%，則丙、丁最可能出現的數值為？

選項	(丙) 德國自希臘進口金額，佔德國進口總額百分比	(丁) 德國出口至希臘金額，佔德國出口總額百分比
(A)	0.3	0.8
(B)	0.8	0.3
(C)	9.6	0.3
(D)	0.8	7.6



(箭頭所指為進出口方向)

圖(11)

參考資料：2011 年德國  
進口總額 12545 億美元；出口總額 14723 億美元

69-70 題為題組

西亞為世界主要缺水的地帶，各國為搶奪水資源，經常產生衝突，在水資源的利用上，因受自然條件的影響，衍生許多環境問題。下列為水源問題的兩段敘述，請針對敘述加以回答：

敘述一：水對甲國而言是一個國家存亡的資源，當敘利亞於 1974 年建立了水壩，幾乎造成了兩國的衝突，緊接土耳其亦建立了水壩，更引起甲國的關心與抗議，他們宣稱：土耳其「偷走了屬於阿拉伯人的水」。

敘述二：位於西亞的死海，正走向死亡。因受蒸發及水源地區大量截流發展農業，使死海的水位大幅下降，面臨湖泊消失的危機。

69. 針對敘述一，文中的甲國最可能是？

- (A) 以色列 (B) 約旦  
(C) 伊朗 (D) 伊拉克

70. 依據敘述二，死海水源的來源地區，最可能引發哪一環境問題？

- (A) 地層下陷 (B) 引發地震  
(C) 土壤鹽化 (D) 土壤流失

71-72 題為題組

某一國家主要信仰的宗教是鼓勵生育的，加以社會上，因具有不同階級的人，各階級為求階級社群的生存優勢，常利用內部通婚的方式，在其封閉式社會集團中努力生育，以利於該階級的生存與競爭，所以各階層的社群將對人口增殖持鼓勵態度，至使該國的人口數量增加快速。表(7)為該國在 1911 年至 1981 年人口成長的變化，試問：

表(7)

年份	城市人口(萬人)	城市人口比重(%)	出生率(‰)	死亡率(‰)
1911	2594	10.3	48.1	48.6
1921	2809	11.2	45.2	36.3
1931	3346	12.0	45.1	31.2
1941	4415	13.9	39.2	27.4
1951	6244	17.3	41.7	22.8
1961	7900	18.0	41.1	18.9
1971	10910	19.9	38.6	15.6
1981	15620	23.7	33.8	11.5

71. 在 1931 年至 1961 年間，該國最可能處於哪一「人口轉型」的階段？

- (A) 早期擴張階段 (B) 晚期擴張階段  
(C) 高穩定階段 (D) 低穩定階段

72. 該國的宗教信仰包括有：甲、基督教；乙、印度教；丙、佛教；丁、伊斯蘭教；其中該國宗教人口最多的兩個是？

- (A) 甲乙 (B) 甲丁  
(C) 乙丙 (D) 乙丁