

臺中區國立高級中學 102 學年度
大學入學第二次學科能力測驗聯合模擬考

社會考科

考試日期：102 年 12 月 23~24 日

—作答注意事項—

考試時間：100 分鐘

題型題數：

- 單選題：共 72 題

作答方式：

- 用 2B 鉛筆在「答案卡」上作答；更正時，應以橡皮擦擦拭，切勿使用修正液（帶）。
- 未依規定畫記答案卡，致機器掃描無法辨識答案者，其後果由考生自行承擔。

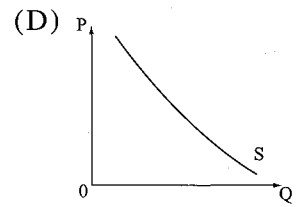
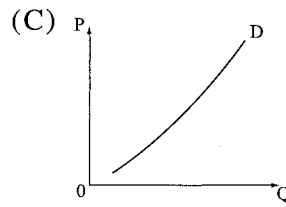
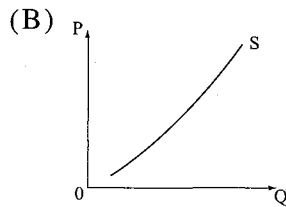
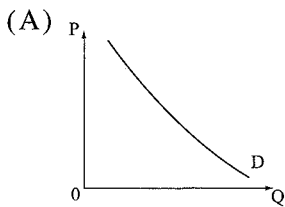
單選題(占 144 分)

說明：第 1 題至第 72 題皆計分。每題有 4 個選項，其中只有一個是正確或最適當的選項，請畫記在答案卡之「選擇題答案區」。各題答對者，得 2 分；答錯、未作答或畫記多於一個選項者，該題以零分計算。

1. 教育部在 2002 年所發表的《媒體素養教育政策白皮書》中提到公民有六種基本的傳播權利：知的權利、傳布消息的權利、討論時政的權利、保護個人隱私的權利、個人積極地接近與使用媒體的社會權利，以及接受媒體素養教育的權利。由此可見，媒體素養教育對公民社會的重要性。下列有關媒體素養的看法，何者正確？
(甲) 小林：人人都可以是記者，公民新聞平臺設立的主要目的為維護公民的媒體接近使用權
(乙) 老李：媒體為求消息的可靠與真實性，應做查證的工作，並明確標示消息提供者的身分，是做好守門人的功能
(丙) 小張：執政者進行施政績效的置入性行銷，將降低民眾對政府績效的獨立判斷能力
(丁) 老王：在資訊爆炸的現代生活，由媒體協助篩選資訊，有利於閱聽人的接收
(戊) 小郭：為維護新聞中立，遵守新聞專業倫理，故媒體不應有自己立場
(A) 甲、乙 (B) 甲、丙 (C) 乙、丙、丁 (D) 丙、丁、戊
2. 報載行政院發言人辦公室編列明年(2014)預算，人事費高達 6 千多萬元，引發外界批評，發言人鄭麗文 11 月 18 日表示，她上任後精實人力、遇缺不補，人力不斷下降，有一定程度調整。政院發言人室編制員額 73 人，9 職等以上高階文官 43 人，平均每人月薪超過 6 萬元；發言人室負責國內外新聞聯繫發布、輿情蒐集，但政院仍設有公共關係處，負責立法院、監察院聯繫、正副院長行程；外界批評任務疊床架屋，沒有落實組織改造。請問：就政府再造而言請判斷下列選項何者正確？
(A) 政府再造避免疊床架屋，宜採中央集權，在中央設立業務「單一窗口」統籌辦理，提升績效
(B) 政府再造希望能擴充政府組織規模，提升政府效能，成為為民謀福利的萬能政府
(C) 政府再造的精神主要是要引進現代企業的經營理念，重新定位政府的角色，強調顧客導向的服務管理
(D) 去任務化是指將部分業務交由民間來執行，不僅可降低人事成本，更可鼓勵民間投資
3. 轟動社會的八里雙屍命案於 2013 年 10 月 29 宣判，士林地院合議庭認定謝依涵依強盜殺人等罪判死刑、褫奪公權終身。但死者家屬認為謝女不可能獨力完成全案，質疑其男友是共犯，並已提告由士林地檢署偵辦；另媽媽嘴咖啡店負責人呂炳宏三人獲不起訴案。對於判決是否違反人權兩公約的精神？合議庭解釋，台灣尚未廢除死刑，法院無權決定廢死，謝依涵犯行已到了「最殘酷」程度，可以判死。對於被告人權的保障與被害人權的保障，下列敘述哪些正確？
(甲) 個人的犯罪前科不受隱私權保障以維護公益
(乙) 世界人權宣言將無罪推定原則列為人類重要的基本權利之一，此屬於被害人人權的保障
(丙) 在偵查過程中採取的「偵查不公開原則」，具有保障被害人及被告人權的作用
(丁) 依刑事訴訟法規定：「未經合法調查之證據，不得作為判斷之依據。」可說是《毒樹果實理論》，此也是保障被告人權
(戊) 性侵害犯罪案件，維護受害人的名譽，除非經被害人同意，否則審判不得公開，是為了保護被害人的人權
(A) 甲乙丙 (B) 甲丁戊 (C) 乙丙丁 (D) 丙丁戊

4. 國道將在 102 年底從計次收費走向計程收費，對民眾來說，在計次收費時可能誤闖 ETC 車道而受罰的問題，計程收費後不會再發生。根據交通部訂定的法規，現行誤闖 ETC 車道的車輛，採一站一罰，罰金是新台幣 600 元到 1200 元。高公局說，年底計程收費上路後，國道已進入全面電子計程收費，現行收費站全部取消，連非 ETC 車輛也可上路，事後再補繳通行費，不會再有誤闖問題。在其他條件不變，就「計程收費」政策影響下，請問下列敘述何者正確？
(甲) 短程行車者開車上高速公路的將會減少
(乙) 高速公路的平均車流量可能因此增加
(丙) 長途行車者上高速公路的人會減少
(丁) 高速公路平均行車速度可能因此提升
(A) 甲乙 (B) 甲丁 (C) 乙丙 (D) 丙丁
5. 報載任職醫院的周姓男子，因自認性別是女性，因此穿女裝上班、上女廁；後來被院方以擅離崗位為由將其開除，周男以院方違反性別平權為由，告上法院。請問下列敘述何者正確？
(A) 周男穿女裝上班是因其性傾向不同所致
(B) 醫院的作為是一種異性戀霸權的心態
(C) 醫院將周男開除是一種性別偏見
(D) 社會對成員性別角色的期待稱為社會性別
6. 大法官釋字第七一二號解釋，認為「兩岸人民關係條例第六十五條規定，有子女者不能收養中國配偶在中國的子女」違憲，牴觸憲法第二十二條「人民基本權利條款」及第二十三條「比例原則」，自公佈日起失效。請問：下列敘述何者正確？
(A) 本案例中的法律違反憲法概括保障的基本人權
(B) 法律或命令牴觸憲法的審查，皆由大法官會議審查
(C) 聲請釋憲必須等三審定讞才能提出
(D) 所有違憲的法律經大法官解釋後，一律自公佈日起失效
7. 我國將於 2014 年舉行七合一選舉，包括直轄市長、直轄市議員、縣市長、縣市議員、鄉鎮長、鄉鎮民代表和村里長選舉。有關上述選舉依照我國選舉相關規定，下列敘述何者正確？
(A) 七種選舉均採單記不可轉讓投票(SNTV)制度
(B) 七種選舉均採複數選區相對多數投票制
(C) 直轄市、縣市、鄉鎮市及村里均為我國地方自治團體
(D) 直轄市長選舉採單一選區兩票制
8. 天龍國以盛產柚子聞名，每年中秋節民眾習慣買柚子過節應景，今年因為颱風侵襲，導致柚子減產，市場價格上漲，民眾改買較便宜的芭樂取代柚子。請問：針對上述，下列敘述何者正確？
(A) 政府為保障消費者權益，可以訂定價格下限干預
(B) 國內柚子減產會導致供給線左移
(C) 若開放外國柚子進口，則消費者剩餘會減少
(D) 消費者改買芭樂取代柚子，則芭樂的需求量會增加
9. 智慧型手機雖帶來行動上網等變革，但有許多家長們異口同聲地表示孩子自從買了手機後，學習成績開始下滑，視力也開始下降了。家長不讓孩子用時，孩子不僅鬧脾氣，甚至要離家出走！對於家長的不滿，青少年則表示自己已經長大了，爸媽要他們自主，卻又不斷地要求與限制，讓他們無所適從。試綜合上述並從艾瑞克森「社會心理發展」理論來判斷青少年應屬哪一發展階段？
(A) 主動 vs. 罪惡感 (B) 勤勉 vs. 自卑 (C) 親密 vs. 疏離 (D) 認同 vs. 角色混淆

10. 2013年1月中，臺中市因區域顏姓立委遭註銷立委資格而進行補選。這個被視作總統大選前哨戰的立委補選，各政黨無不使出渾身解數！最後由代父出征的A黨籍顏××當選。B黨代表候選人則向隅再待機會了。請問：下列敘述何者正確？
- (A) 此次立委補選因動員全臺中市人民，因此屬大選區範疇
(B) 此次立委補選係補足34席中不足的1個席次，任期3年
(C) 此次立委補選屬單一選區兩票制中的「區域立委」(即分區立委)
(D) 此次立委補選採屬人主義，凡居住於臺中市者皆可投票
11. 2013年1月初，立法院社福及衛環委員會初審通過《醫糾法》部分條文修正草案，未來，當醫療糾紛發生時，民眾可到醫療糾紛發生地、住居所在地或雙方同意的縣市調解會進行調解，調解時程限期3個月內完成，必要時可再延長3個月。請問：下列何者正確？
- (A) 經調委會調解成功之結論，調解雙方不可有異議，務必遵從結果
(B) 若欲聲請調解者，逕自向各地警察局內的調解委員會為之即可
(C) 兩造若經調解委員會調解後，其等同於法院之判決，具強制執行力
(D) 調解委員會僅受理醫療糾紛事件，其餘案件須直接提請訴訟
12. 一般而言，發放社福救濟時「急難家庭開始都會先拿泡麵、衛生紙、洗髮精等民生用品」可知，弱勢家庭拿取產品時總以必需品為先，至於商品市價則可先置於腦後。拿取泡麵時，往往也無視於價位高低，高單價泡麵常在第一時間內搶購一空。試就題述判斷，弱勢家庭於搶購泡麵時的供需圖應為下列何者？



13-14 題為題組

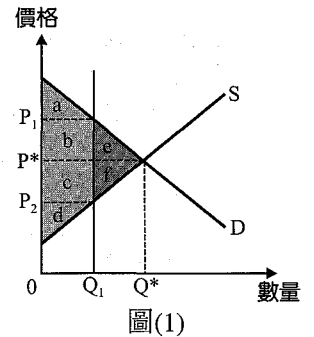
- ◎ 2013年9月，馬總統親自召開記者會指稱立法院長王金平涉及「司法關說」，並召開國民黨考紀會，考紀會以王院長違反黨紀為由開除王黨籍，另外，行政院長江院長也被在野黨指稱捲入政爭中，因此在野黨於立法院多次杯葛，拒絕江院長提出施政報告，行政、立法兩院為此僵持許久，後續甚至提出倒閣案。針對本事件請依序回答下列問題：
13. 某政論節目，也邀請各方名嘴針對本案提出自己的意見及看法，關於下列的說法何者正確：
- (A) 依據公職人員選罷法，我國立法委員一旦失去黨籍就喪失立委資格
(B) 總統不應介入立院人事，面對司法案件總統應該責承司法院介入調查
(C) 若行政、立法兩院繼續僵持，總統可以依據憲法介入協調院際紛爭
(D) 總統不尊重國會，我們在野黨計畫依公投法提出公民投票讓總統去職
14. 在野黨以行政院長不當捲入政治紛爭為由，提出倒閣案，關於下列的說法何者正確：
- (A) 若倒閣案通過，且行政院長選擇請總統解散國會，即不須下台
(B) 倒閣案是針對院長提出，因此若通過閣員不需下台
(C) 若行政院長要求解散國會等同將爭議訴諸民意
(D) 若國會改選後，總統應該到新國會提出國情報告並接受質詢

15-16 題為題組

- ◎ 人人紡織公司舉行高層會議，董事長提出兩則新聞，要求高層幹部提出對策及看法：
- 新聞一：台台國即將與他國簽訂貿易協定，台台國經貿官員指出簽訂貿易協定後，我國將逐步開放國內市場，因此政府近日內將取消部分產業的貿易保護政策，紡織、汽車…等。
- 新聞二：政府為維護勞工權益，政府決定自明年1/1開始，最低工資月薪從現行的1萬9047元拉高到1萬9273元，而時薪則從109元增加到115元。

15. 若過去政府對進口紡織品的貿易政策如圖(1)，下列針對圖(1)說明何者正確？

- (A) 政府針對「進口紡織品」的進口價格進行價格管制
- (B) 在管制下，「進口紡織品」實際的交易價格可能為 P_2
- (C) 貿易保護政策取消後，「進口紡織品」的黑市交易情況可望改善
- (D) 貿易保護政策取消後，新的社會福祉相較於圖形 abcd 應該會縮小



16. 會議中董事長發言表示，我們屬於勞力密集的產業，政府調高薪資我們應該快點提出對策，對此以下經理們的發言何者正確？

- (A) 邱經理：政府制訂「最低工資」，就是一種「價格上限」的管制
- (B) 吳經理：雖然公司成本會上升，但就社會整體而言社會福祉將會增加
- (C) 王經理：我認為弱勢者失業的情況將會更嚴重，公司是否要專案來晉用弱勢勞工
- (D) 陳經理：往好處想，提高薪資會鼓勵優秀人才投入職場，就業市場會「供不應求」

17. 日前美國因兩黨政治惡鬥導致聯邦政府關門 16 天，事件的主因在於，美國共和黨占多數的眾議院，把是否批准財政預算和歐巴馬的健保案捆綁在一起，加上舉債上限問題遲遲談不攏，不僅讓美國與全球股市動盪不安，諸多中小企業也飽受衝擊。據估計，聯邦政府局部關門，讓美國政府與民間至少損失 240 億美元(約台幣 7066 億元)。

小明、小花、小辛、小奇分別就此事件提出他們的看法：

小明：這事件充分暴露了總統制分權制衡下政治僵局的缺點，而英國內閣制的缺點則是分權不清導致責任不明

小花：聯邦政府關門後，數十萬公務員紛紛申請了失業救濟金，可緩和政府關門後所造成的 GDP 的衰退

小辛：共和黨反對健保案，主因在於健保的性質為社會保險，會使其多為資本家的支持者必須增加保費支出，而窮人則甚至必須國家為其負擔保費，顯然存在可觀的外部成本

小奇：歐巴馬政府在財政困難之下，仍欲通過健保案，並且強制已有其他保險保障的有錢人們亦須繳交保費，顯然是以「社會正義」為其公共利益之著眼點

以上四位之分析觀點，正確者應為：

- (A) 小明
- (B) 小花
- (C) 小辛
- (D) 小奇

18. 台灣食品安全問題層出不窮，在西方，類似議題也備受關注。美國有調查就顯示，市面上竟然有 7% 的食品，內容物與成分標示不合，幸好有 900 位志工專家協助檢驗，為食品安全把關。其實許多學者早已指出——「公民參與」是解決目前世界各國問題的最重要而有效的出路。請問下列哪些論述主張可以支持以上觀點？

- (甲) 熊彼得主張人人有投票權，並應保持與菁英間暢通的溝通管道
- (乙) 托克維爾提倡「結社」，認為有助於社會資本的累積
- (丙) 哈伯瑪斯提出了「審議式民主」的概念，主張政府在決策前應充分聽取民意，並以平等的發言機會，坦誠開放的辯論來得到共識
- (丁) 布爾迪厄認為「教育」有助於文化資本的累積，並且可以增進公民平等參與政治的實力
- (戊) 現代政府運作，強調「地方治理」的概念，可同時增進政府效能及滿足人民真正的需求

- (A) 甲乙丁戊
- (B) 乙丙丁戊
- (C) 乙丙戊
- (D) 甲丙丁

19. 社會名媛小倩，前後分別與紅頂商人大富及大貴交往之後，生下一女。然大富是有婦之夫，大貴後來另娶他人。之後小倩欲使女兒認祖歸宗，先指大富為女兒生父，但遭大富否認，後來又說大貴才是真正的父親，同樣遭到大貴配偶強力撻伐。由於當事人皆是名人，於是這一連串互相攻訐的認親大戲，頓時成為媒體焦點被大肆報導。下列有關此事件之分析，何者為是？
- (A) 小倩可提出民事之確認訴訟，要求以 DNA 鑑定來確認女兒生父，而原則上男方可拒絕鑑定
 - (B) 若是後來大貴承認小孩確實為其所生，則小倩之女即視為婚生子女，擁有繼承權
 - (C) 若是後來大貴與配偶離異，並娶小倩為妻，之後，才發現女兒非其親生，則此女仍視為婚生子女
 - (D) 在媒體上公開爭奪監護權或確認親子關係，可能會因有損兒童權益而受刑罰處分
20. 9 月 22 日德國舉行大選，總理梅克爾所屬的「基民黨」(CDU)繼續成為國會第一大黨，梅克爾順利連任，而下一步則是要找另一個政黨做執政聯盟拍檔。下列敘述何者正確？
- (甲) 德國政府體制應為議會內閣制
 - (乙) 德國總理與法國總理一樣擁有覆議權
 - (丙) 德國總統公布法律法令須總理副署，不具否決權
 - (丁) 德國的國會選舉方式會使大黨更大
 - (戊) 若國會通過對內閣之不信任案，則梅克爾將解散國會，重新舉行大選
- (A) 甲丙 (B) 乙丁 (C) 丙戊 (D) 甲戊

21-22 題為題組

軍院移交 33 案件完成清點 司法一元化

軍事審判法修正條文，台灣高等法院完成清點從高等軍事法院與最高軍事法院移交的 33 件案件，司法院刑事廳廳長林俊益表示，正式步入司法一元化。

因為軍事審判法生效，承平時期的軍人犯罪須回歸一般司法機關處理。眾所矚目的洪仲丘案件也將移至桃園地方法院，經過法院抽籤分案，由勤股法官丁俞尹等 3 名法官組成合議庭。司法院刑事廳廳長林俊益說：『洪案 18 個被告已經移送桃園地方法院，授命法官是丁俞尹法官，承案審判長是鄭吉雄法官、陪席法官是許菁樺等 3 人組，司法院各廳會全力配合。』

同時，司法院也在上午同步完成從高等軍事法院與最高軍事法院移交的 33 起案件。司法院在大禮堂內分別擺上證物區、卷證區、移交區，由高院人員按區清點。

21. 請問依照我國刑事訴訟法之規定，下列何者敘述始為正當之法律程序？
- (A) 法官、檢察官皆屬於廣義之司法官，皆負有客觀性義務
 - (B) 刑事訴訟中當事人有被告、檢察官、以及自訴程序中的訴訟代理人
 - (C) 檢察官、法官、司法警察知有犯罪嫌疑皆應依法啟動偵查，維持司法秩序
 - (D) 檢察官針對告訴乃論之罪應根據告訴權人之告訴進行偵查，至於非告訴乃論之罪則不得主動偵查
22. 依據上文對於法律的分類及其相關敘述，下列何者錯誤？
- (A) 刑法、陸海空軍刑法為實體法；少年事件處理法、軍事審判法為程序法
 - (B) 刑法為公法，如有爭訟應尋求公法途徑至高等行政法院刑事庭起訴
 - (C) 陸海空軍刑法相對刑法為特別法；軍事審判法相對刑事訴訟法為特別法
 - (D) 刑法、陸海空軍刑法皆為成文法，刑事犯罪論罪不得適用習慣法

23-24 題為題組

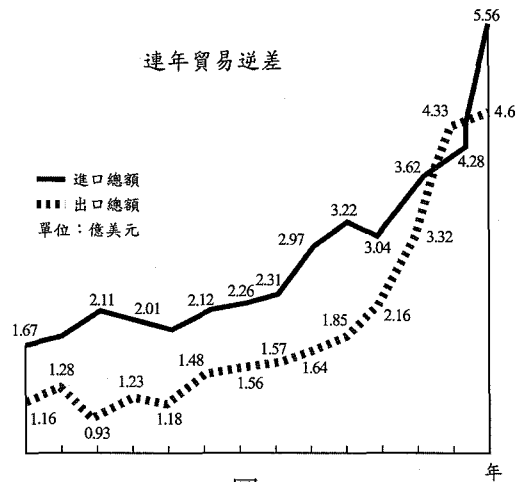
研究：異性戀者比同性戀者健康 作者：劉運 | 台灣醒報—2013 年 2 月 28 日下午 3:25
 【台灣醒報記者劉運綜合報導】異性戀者較同性戀者身心更健康！美國的最新研究顯示，同居的同性戀者健康狀況「普通」或「不佳」比例，比有異性婚姻的人高。研究員表示，同性戀在資源上的不足，以及心理上的壓力，可能是造成他們健康不佳的原因。研究也顯示，結婚的人普遍比不結婚的人存活率高。

23. 根據上文，請問下列解釋何者較為合理？
- (A) 性傾向是以自己情慾傾訴之對象，是否與自己社會性別之異同來判斷
 (B) 同性戀與異性戀甚或雙性戀，並非一種恆久不變的選擇，可能會變動
 (C) 文中同性戀資源不足與心理壓力之成因，可能來自於先天上生理基因的因素
 (D) 社會性別是建立在後天社會價值的期待上，而生物性別只有男性與女性兩種
24. 請問目前有關性別平權的立法何者正確？
- (A) 在校園裡產生性別歧視的事件，應依性騷擾防治法向性騷擾防治委員會處理
 (B) 同性同居戀人之間的暴力事件，亦可適用家庭暴力防治法，檢察官發布保護令
 (C) 工作場域中如禁婚、禁孕契約條款等，對女性不平等的保護，主要規定於民法債編各論之雇傭規定
 (D) 同性婚姻合法化是否違反憲法平等權一直存有爭議，若需保障同性婚姻得從修改民法親屬篇相關規定著手
25. 學者觀察中國財政問題說：長期而言，中國的財政狀況受到下列四項因素極大威脅：銀行體系的潛在債務(不良貸款及資本結構重組)、國有企業的負擔、中央與地方政府不均衡的財政關係以及龐大的債務負擔。如果政府企圖以發行貨幣的方式來解決財政上的困窘，這將很快造成嚴重的通貨膨脹。此刻，中央政府明顯地沒有足夠的財政資源來支付必須的經濟改革、社會改革與環境保護。如果無法有效解決，這將導致經濟成長停滯、高通貨膨脹與社會不穩定的惡性循環，進而影響政治的合法性。因此，如果無法有效解決嚴重的財政危機，中國隨時有可能爆發嚴重的經濟、社會、環境與政治上的危機。試問他觀察到的中國在哪個時代？
- (A) 大明王朝萬曆年間 (B) 大清王朝乾隆晚期
 (C) 國民政府抗戰後期 (D) 共產政權改革開放
26. 以下所引的一段敘述，取材自清代的筆記資料：「歲壬寅二月，忽有遷民之令，……令濱海民悉徙內地五十里，以絕接濟臺灣之患。……民既盡遷，於是毀屋廬以作長城，掘墳塋而為深塹。……民有闖出咫尺者，執而誅戮。」這段史料所敘述的時代應在何時？
- (A) 鄭氏占領臺灣做為反清基地時
 (B) 林爽文在臺灣樹旗叛亂時
 (C) 沈葆楨在臺灣進行開山撫番事業時
 (D) 荷蘭東印度公司占領臺灣時
27. 有一幅木刻的地圖，臺灣為橫擺的圖樣，上方為東，下方為西，左方為北，右方為南。圖上還附刻一座羅盤，並附上里程表。其中所附「前山」道里表載：「新竹縣城，北至鳳山崎十里。北至大湖口二十里。……北至桃仔園七十五里。北至龜崙嶺八十五里。北至臺北府城一百零七里。」；而「後山」道里表載：「又頭圍後山通艚，未闢小路，頭圍土地公坑，北至樟林十五里，轉東下嶺，由炭窯坑繞山西行……」。請問，這幅木刻臺灣圖最有可能繪製在下列哪一時期？
- (A) 荷據時期 (B) 清朝乾隆年間
 (C) 清朝光緒年間 (D) 日據大正年間

28. 一位從軍來臺士兵的日記記載：「8月28日，我方以機關砲、連發槍猛烈追擊，敵人乃爭先恐後，一向鹿港方面，另一向臺南方面撤退，或想撤退卻無路可逃，便進入彰化市區內，並偽裝為平民。下午2時進入彰化市區內，我們的中隊由東門進入，敵人的屍體充滿街道，無可計數。首先擇定宿舍而清掃，在市內尋找酒、砂糖、家禽，其他麻、木棉、紙等充為私用。」請問，這位士兵的身份應該是：
- (A) 1863年平定戴潮春事件的清兵 (B) 1874年攻打牡丹社的日軍
(C) 1884年參與中法戰爭的法軍 (D) 1895年乙未征臺之役的日軍

29. 有篇佈告：「如肯認台灣自主，公同衛助，所有台灣金礦、煤礦以及可墾田建屋之地，一概租與開闢，均霑利益。」請問此文告的時代背景為何？
- (A) 鄭經加強國際貿易，尋求台灣獨立
(B) 荷蘭人為反擊鄭成功，尋求國際認可
(C) 彭明敏台灣自救運動宣言，尋求獨立
(D) 馬關條約簽訂，台灣仕紳尋求列強干涉

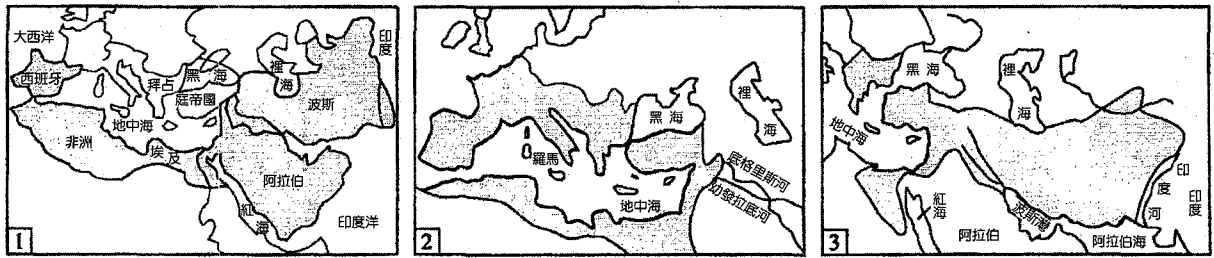
30. 圖(2)為臺灣在某連續十四年間的年貿易逆差圖，請參閱圖(2)回答問題：此十四年最有可能是下列何者？



圖(2)

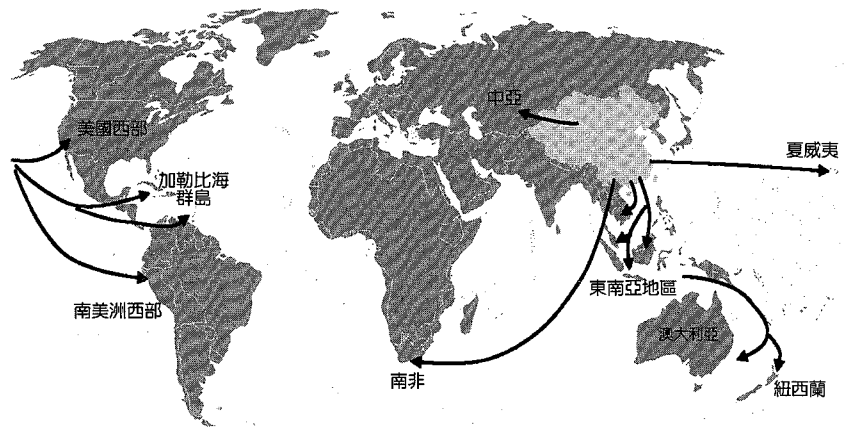
31. 在一本名為《文明之網：無國界的人類進化史》書中，作者提到：「當地球上幾個地區的小社群，開始以農牧方式為主生產食物的時候，人類與幾百種馴化動植物建立了全新的親密關係。因為相互依存，使得馴化動植物的數量因而大幅度成長。人類和這些牲畜需要較以往更賣力地工作，更積極地改造環境，因而遭致更大的風險，包括饑荒、疾病、衝突。」對於這段文字，我們應該下怎麼樣的標題最適合？
- (A) 國家的出現 (B) 城市革命 (C) 新石器革命 (D) 工業革命
32. 學者張光直認為：「從社會組織的特性和發達程度來看，夏、商、周似乎都具有一個基本的共同特點，即城邑式的宗族統治機構。夏朝是姒姓的王朝、商朝子姓、周朝姬姓，姓各不同，而以姓族治天下則是一樣的。」「三代之間不但在王制上相似，而且都有貴族分封治邑的制度，這種制度和中國古代城郭的起源是分不開的。」根據他的論點，在這個時代，社會階層呈現怎麼樣的特色？
- (A) 貴賤世襲 (B) 布衣卿相 (C) 君臣無常 (D) 貴族式微
33. 歷史學家任繼愈曾在其書《中國哲學發展史》中形容某一著作說：「在內容方面，首先它能夠以各階層以及客觀的態度來對待先秦文化遺產。公開地申明要採集諸家之長，超出學派門戶成見，將各家學說中在它看來有價值的成分組織在一起。它這樣做，反映了時代的要求。」請問此書最有可能為下列哪一本著作？
- (A) 《呂氏春秋》 (B) 《韓非子》 (C) 《孟子》 (D) 《論語》
34. 他到尼連禪河西岸的奴維拉村苦行，穿粗衣，臥荊棘，和腐爛的屍體睡在一起，把食物減到十分可憐的地步，甚至每天只吃一粒米。苦行六年毫無所獲，被折磨得瀕於死亡，於是決定放棄苦行，後來悟出「中道」乃人生追求的解脫之道。他是下列哪一宗教的代表人物？
- (A) 佛教 (B) 基督教 (C) 拜火教 (D) 伊斯蘭教

35. 圖(3)三圖均是歷史上跨三洲的大帝國，有亞歷山大帝國、羅馬帝國、阿拉伯帝國，若依時間先後排列，應是：



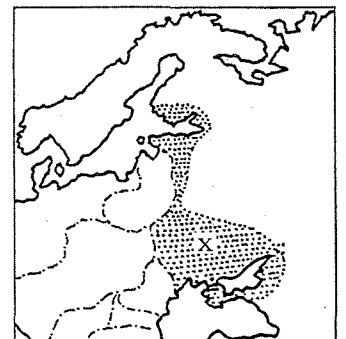
圖(3)

- (A) 1、2、3 (B) 2、1、3 (C) 3、2、1 (D) 1、3、2
36. 清末某地出現了印製的木板畫年曆叫「新出夷場十景」，它描繪了火車、輪船、跑馬、馬戲、電燈、花園、腳踏車、鍵球等，對當時的中國人來說都是新鮮事。根據上述資料，其所論之時間、地點應該是：
- (A) 1840 年，南京 (B) 1850 年，天津 (C) 1860 年，揚州 (D) 1865 年，上海
37. 有一場戰爭，德軍看到：「黝黑的塞內加爾黑人，法國人把他們的牛群趕進了屠宰場。數百雙鬥志旺盛的眼睛，專住、殺氣騰騰、視死如歸……他們過來時，像一堵堅實、翻滾的黑牆，忽升忽降，搖擺起伏，看起來不可穿透，無窮無盡……就在我們壕溝前面，一道鉛與鐵築成的牆突然猛力投擲到攻擊者與鐵絲網上……像一隻看不見的手，機關槍橫掃這些人，將他們扔在地上，把他們砍劈撕裂成碎片。」試問這場戰爭為何？
- (A) 三十年戰爭 (B) 普法戰爭 (C) 第一次世界大戰 (D) 第二次世界大戰
38. 承上題，這些視死如歸的黑人軍團，在政治地位的性質上比較像下列何者？



圖(4)

39. 圖(4)是中國人口遷徙的示意圖，請問發生在何時？
- (A) 十四世紀
(B) 十八世紀
(C) 十九世紀
(D) 二十一世紀
40. 圖(5)陰影的部分，與一份簽署於 1918 年 3 月的條約有關，關於地圖與條約，以下論述何者正確？
- (A) 這個條約涉及一次大戰的問題，陰影為俄國割讓予德國的土地
(B) 這個條約與俄國內戰相關，陰影的部分為反政府勢力控制的地區
(C) 這個條約簽署於一次大戰後，陰影為俄國所獲得的土地
(D) 這個條約與十月革命的後續發展有關，陰影為前臨時政府交出的領地



圖(5)

41. 幾位同學翻閱一本世界歷史的專書時，看到右邊這一張地圖(圖(6))，由於上面沒有任何文字資料，大家紛紛猜測圖上黑色的部分究竟有何意義。請問哪一位同學的說法最爲合理？



圖(6)

- (A) 是 16 世紀的航海圖，黑色部分表示基督教的傳教地區
- (B) 是 17 世紀華人移民海外圖，黑色部分表示華人聚居地
- (C) 是 18 世紀奴隸來源圖，黑色部分表示奴隸被掠捕之處
- (D) 是 19 世紀法國海外殖民國，黑色部分表示法國殖民地

42. 「我出生沒過多少太平日子，出生的那年碰到革命，此後每隔十數年，不是戰爭就是革命，國內政體由君主變共和又變帝制。現在快六十歲了，終得享受革命的果實，獲得了選舉權，實在是很高興。」試問以上所描述的，係指哪個國家？

- (A) 中國
- (B) 法國
- (C) 英國
- (D) 德國

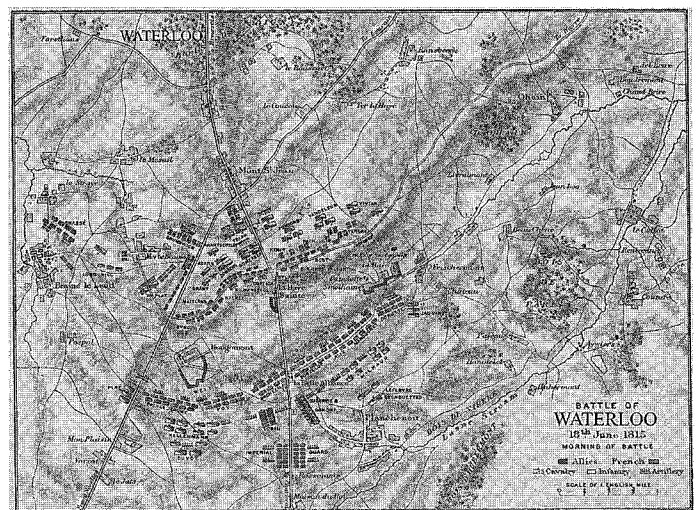
43. 在民族自信心確立後，有份政治主張說：
一、中西醫在政治上平等，政府提倡發揚中醫
二、中醫教育合法化
三、國家出資支持中醫事業
四、國家機關雇用中醫人員
試問以上主張的時代脈絡爲何？

- (A) 1842
- (B) 1860
- (C) 1895
- (D) 1946

44. 爲了紀念某戰役，有個墓碑上寫著：「過客啊，請把這話帶回給斯巴達人，說我們(三百名斯巴達人和七百名盟軍士兵)全都長眠於此，我們忠實履行了斯巴達人的準則。」試問以下有關這段話的詮釋，何者爲是？

- (A) 這次戰爭，雅典人靠著強盛的陸軍，大獲全勝
- (B) 這次戰役，所描述的是希臘內戰期間，斯巴達三百戰士英勇戰死的故事
- (C) 這次戰役，所描述的是波希戰爭期間，斯巴達三百戰士英勇戰死的故事
- (D) 這次戰役，亞歷山大展現過人的領導能力，以寡取眾

45. 試問圖(7)係描述哪一歷史事件的形勢圖？



圖(7)

- (A) 美國獨立戰爭
- (B) 拿破崙革命
- (C) 三十年戰爭
- (D) 克里米亞戰爭

46. 在那個世紀，歐洲帝國霸權控制了地球 10% 的土地，統治全球 16% 的人口。英格蘭平均壽命近印度的兩倍，也有較佳的飲食。不過，世界最大的城市是北京，人口約七十萬。當時世界前十大城市中只有一座在歐洲，即巴黎，人口還不到二十萬。試問這是哪個世紀？

- (A) 十二世紀
- (B) 十六世紀
- (C) 十八世紀
- (D) 十九世紀

47. 試問以下哪一觀念可以解釋，英國的帝國主義、法國的虛偽、荷蘭和比利時的殖民主義、德國的民族主義、俄國的極權主義、以及日本的軍國主義。或是解釋從十九世紀以降的專制占據、殖民壓榨、世界大戰、極權鎮壓、民族解放陣線以及國際恐怖行動的歷史？

- (A) 共產主義的發展 (B) 資本主義的擴張 (C) 新教倫理的擴散 (D) 社會達爾文主義

48. 1948~49 年：出現柏林危機，史達林封鎖西柏林，斷絕外界物資進入，西方陣營只得不斷空運物資，直到史達林放棄為止

1950~53 年：韓戰爆發，美國支持南韓，共產國家尤其是中國，支持北韓

1961 年：柏林圍牆一夕之間蓋好，成為資本主義和共產主義意識形態對立的象徵

1962 年：古巴危機

1950~89 年：非洲紛擾，發生了無數次戰爭。以安哥拉(Angola)為例，西方國家支持一邊，共產陣營支持另一邊，彼此血戰。這使得非洲國家幾十年來飽受內戰紛擾，幾無寧日

1965~73 年：越戰爆發

1979~89 年：蘇聯入侵阿富汗以保衛其共產政府

1980 年：西方國家抵制莫斯科奧運會

試問以上資料所關切共同主題為何？

- (A) 冷戰 (B) 環保
(C) 人權 (D) 經貿

49. 圖(8)為以臺灣為中心的某種投影地圖，圖中除了世界陸塊之外，另有數條經緯線分布。請問：此投影地圖具有下列何種特性？


- (A) 圖上任兩地點之間的方位均正確
(B) 同時具備等角、等積、等距等特性
(C) 臺灣與世界任一地點之間的直線距離均屬大圓線
(D) 低緯區長度比例正確，往高緯區無窮放大，極區無法呈現出來



圖(8)

50. 圖(9)為 GIS 空間資料儲存採用的兩種模式。請問：下列何種圖幅是採用甲模式？

- (A) 數位相片
(B) 衛星影像
(C) 汽車導航地圖
(D) 數值高程模型



(甲)

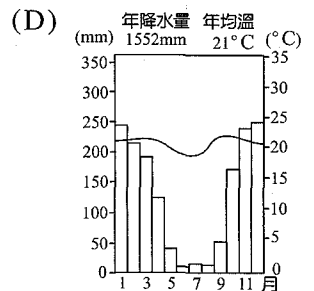
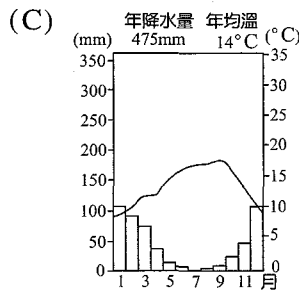
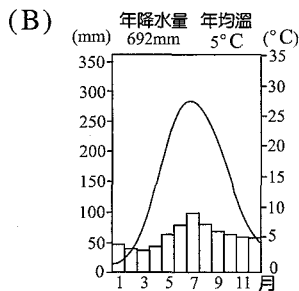
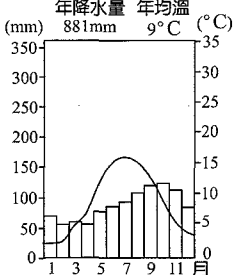


(乙)

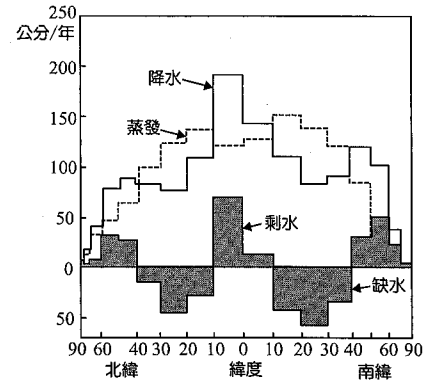
圖(9)

51. 下列為四種不同氣候區的氣候圖，請問：「乾季時水源枯竭，植物凋萎，地面乾裂，原居於此的動物群不得不遷離而去，待雨季來臨時水草豐美，動物群又遷徙回來；稀疏的樹叢成為草食性動物遮蔭所在，肉食動物則躲在高大草海中，等待出擊獵物的好時機。」以上敘述之景觀出現在何種氣候區中？

(A) 年降水量 881mm 年均溫 9°C (B) 年降水量 692mm 年均溫 5°C (C) 年降水量 475mm 年均溫 14°C (D) 年降水量 1552mm 年均溫 21°C

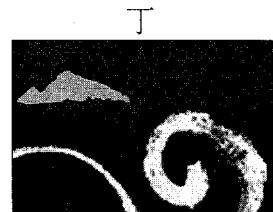
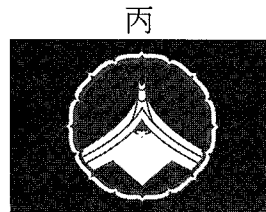

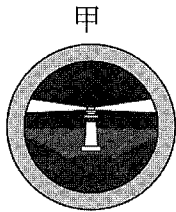


52. 圖(10)為各緯度帶的水平衡示意圖。請問：此圖是由數個不同資料的「統計圖」組合而成的，此統計圖是指下列何者？
- (A) 折線圖
(B) 柱狀圖
(C) 散布圖
(D) 線量圖



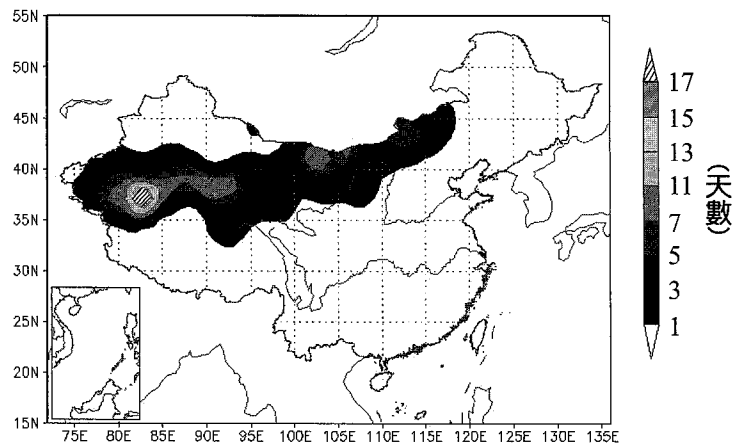
圖(10)

53. 台灣各縣市行政區都有各自的縣徽、縣樹、縣花，用來代表各地方的自然及人文風情特色，進一步彰顯其在地精神。以下為四個行政區的縣市徽：



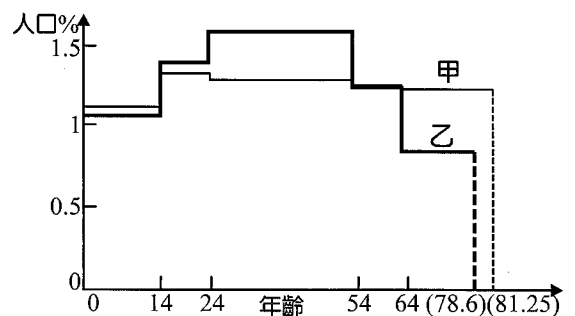
食尚玩家節目製作團隊，日前出外景到某觀光景點，透過 GPS 進行定位得到座標資料：(346328.96, 2748628.16)，請問這次節目外景的目的地最可能是哪一個縣市？

- (A) 甲 (B) 乙 (C) 丙 (D) 丁
54. 圖(11)為中國 2010~2011 年某種天氣狀況的統計資料，請問下列哪一則新聞的標題和該圖的內容最相關？
- (A) 「張北防護林大面積死亡，風沙威脅京津」
(B) 「浙江餘姚遭遇 1962 年來最強降雨，姚江水位創新高」
(C) 「新疆氣象台接連發布寒潮、霜凍、大風藍色預警」
(D) 「安徽乾旱導致紅辣椒延遲上市，價格超越豬肉」



圖(11)

55. 圖(12)為瑞典和台灣兩個國家的 2013 年人口年齡分布圖，請選出關於該圖正確的敘述：
- (A) 甲國可能是台灣，乙國可能是瑞典
(B) 甲國未來 10 年都處於人口紅利狀態
(C) 乙國性別比失衡，女性有偶率逐年下降
(D) 最理想的人口年齡分布曲線為一直線



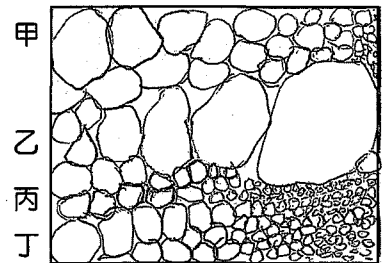
(註：甲國 0-14 歲人口比例 1.1% 為 0-14 歲各年歲人口比例的平均數)

圖(12)

56. 台灣高鐵自 2013 年 10 月份起將調整票價，引起社會輿論譁然和反彈，這是因為高鐵已經成為台灣不可或缺的長途交通運輸工具之一，在台灣西部的運輸版圖中，和台鐵以及長途客運三分天下。高鐵將台灣的運輸發展帶向另一個階段，也對於台灣的都市和區域發展造成影響，請問高鐵營運後對於台灣都市發展有何影響？
- (A) 帶動直轄市五都的郊區化發展
 - (B) 造成台北市和新北市的都市空間結構呈現多核心模式
 - (C) 使得沿線停靠都市的運輸業 LQ 數值明顯提升
 - (D) 驅動高鐵沿線停靠都市出現都市輻輳現象

57-58 題為題組

◎ 在野外實察中，嘉明一行人來到了一谷口沖積扇，在此區大家發現一處露出的地層剖面構造，嘉明一行人將此層理剖面繪製在記錄本中，如圖(13)，圖中甲、乙、丙、丁為四個層理的代號。請問：



圖(13)

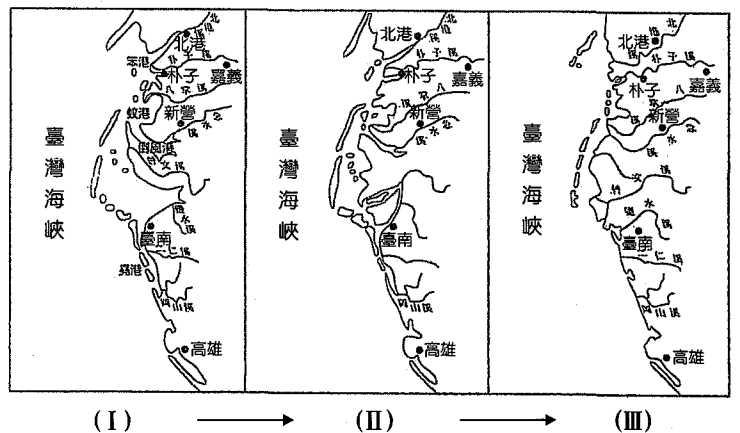
57. 甲、丙、丁三個層理的形成與河流作用有關，形成此三個層理的河流作用大小排序，正確者為何？
- (A) 甲>丙>丁
 - (B) 丙>丁>甲
 - (C) 甲>丁>丙
 - (D) 丁>丙>甲

58. 圖(13)中乙層理的顆粒粒徑大小分布受重力作用影響，請推判其出現與當地曾發生何種現象有關？
- (A) 山崩
 - (B) 潛移
 - (C) 土石流
 - (D) 冰河作用

59-60 題為題組

◎ 圖(14)為臺灣西南海岸在十八世紀初至二十世紀初的海岸變遷示意圖。請問：

59. 欲比較臺灣西南海岸今昔的變遷，可採 GIS 疊合分析功能，而利用疊合分析的前提是必須先統一這些地圖的那些要素？



圖(14)

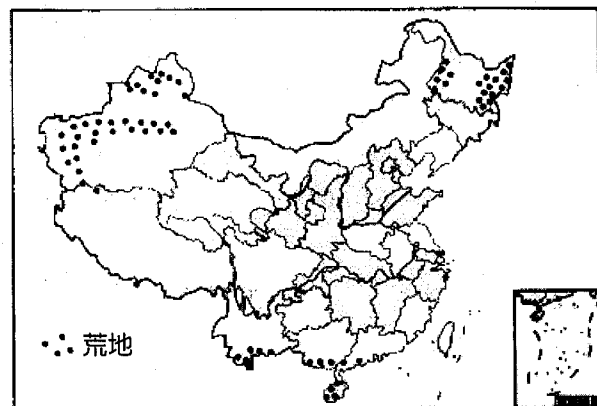
- (甲) 比例尺
 - (乙) 投影
 - (丙) 坐標系統
 - (丁) 圖幅大小
 - (戊) 圖例
- (A) 甲乙丙
 - (B) 甲乙丁
 - (C) 乙丙戊
 - (D) 丙丁戊

60. 由圖(14)可看出昔日臺南西北方的海域已成陸地，此海域的陸化其淤沙來源與何因素最具相關？
- (A) 冰河攜帶
 - (B) 河流搬運
 - (C) 生物堆積
 - (D) 風力堆積

61-62 題為題組


◎ 中國曾經有著名的三大荒：北大荒、西大荒、南大荒，如今北大荒變成糧倉；西大荒變成棉倉；南大荒變成熱帶經濟作物倉。圖(15)是三大荒的分布示意圖。請問：

61. 北大荒的開發建設，曾經吸引大量移民，請問有關移民的遷移活動，下列何者敘述正確？
- (A) 提高移入地的環境負載力
 - (B) 改變移出地的人口轉型理論階段
 - (C) 造成移入地的新東北現象
 - (D) 提高移入地的農產商品化程度



圖(15)

62. 圖(16)為四種植物景觀，依據氣候和地形判斷，何者最可能是南大荒地區產量最高的作物？



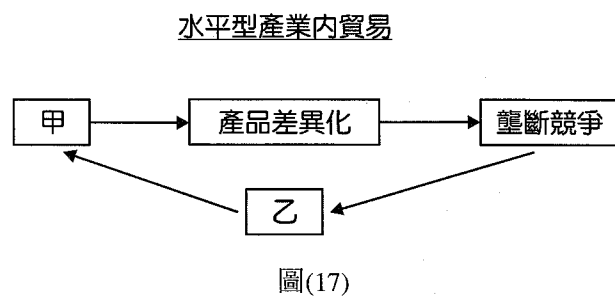
圖(16)

- (A) 甲 (B) 乙 (C) 丙 (D) 丁

63-64 題為題組

◎ 水平型產業內貿易(Horizontal Intra-Industry Trade; HIIT)，是指生產要素投入相似、質量相似、價格相似，在滿足消費者偏好方面相似的產品之間的產業內貿易。貿易活動主要發生在技術水平相似的國家之間，因為技術進步使得產品差異化程度提高，而產品差異化進而導致壟斷競爭。壟斷競爭會使其企業有動力和能力加大研發投入，這又會進一步促進技術創新，從而使一國經濟和貿易進入良性循環。圖(17)為水平型產業內貿易示意圖，請問：


63. 請問圖中的甲和乙，依序應該填入何種產業發展概念？
- (A) 產品生命週期；產業群聚
 - (B) 技術革新；規模經濟
 - (C) 生產線上專業化；聚集經濟
 - (D) 集貨成本；規模經濟



64. 請問下面哪一個案例最符合水平型產業內貿易(Horizontal Intra-Industry Trade；HIIT)的定義？
- (A) 桃園、新竹一帶，一向是台灣太陽能光電製造最集中的地域，隨著 2010 年太陽能光電製造大幅擴產，新產能的製造基地開始有向中南部轉移的趨勢
 - (B) 韓國大財團更加擴張勢力與領域，大小通吃。例如，韓國現代汽車投入養牛業；LG 集團做竹鹽牙膏等
 - (C) 台灣保來得用粉末冶金技術製造出微型馬達含油軸承，市佔率世界第一，高達 60% 用同樣的技術製作出來的燃料電池連結板，一片等於一顆燈泡的導電量，工研院和多所大學還在研究，保來得已經量產，成為該領域第一
 - (D) 一塊主機板中約有 15%~20%的購料成本是連接器，過去的主機板公司，多向鴻海採購連接器，是鴻海的客戶。後來鴻海挾連接器製造優勢進入主機板領域，迅速搶下 DELL、HP 的主機板 OEM 訂單


65-67 題為題組

◎ 小明在網路上看到有一款桌遊遊戲，其名稱爲卓爾金曆(Tzolk'in)如圖(18)，以「卓爾金曆(Tzolk'in)：260 天的曆法」爲設計藍本，版圖中央是由六個大小不同的齒輪所組合而成的一套連動系統(圖(19))。靠著中央擁有 26 個鋸齒的巨大齒輪「Tzolk'in」來運轉控制著其他五個功能各異的齒輪，當「Tzolk'in」轉完一圈代表時間過了兩年，遊戲便結束，另外配合該民族的生活方式來制定遊戲規則：在只有兩年時間的遊戲過程中，需將工人擺放在格子內，靠著收播穀物來餵養自己及族人，若想得到穀物，必須先砍伐上面的木頭才會露出下面的穀物，這個時候才可以拿取穀物，每一格穀物有限，當其中任一格穀物被拿光，任何人都無法從那一格土地中再獲得穀物了，呈現了該民族耕作方式容易導致的環境問題。




圖(18)

- 說明：1. 巨大齒輪「Tzolk'in」的每個鋸齒代表著卓爾金曆的一個月的 20 天，而卓爾金曆的一年爲 13 個月
2. 其他五個功能各異的齒輪代表了該文明中五個具有代表性的城市重鎮：帕倫克／耶朱地蘭／堤卡爾／烏斯馬爾／奇琴伊察



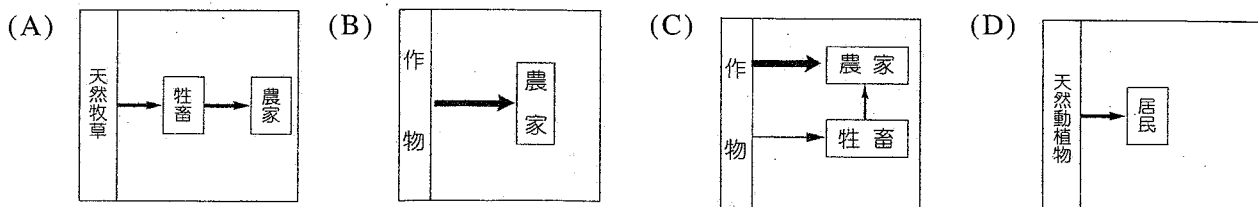
圖(19)



圖(20)

65. 卓爾金曆(Tzolk'in)爲美洲一個古老文明的智慧結晶，請依據圖(18)至圖(20)的特徵來判斷，最有可能爲下列哪一民族所發明的曆法？
- (A) 庫德
 - (B) 印加
 - (C) 馬雅
 - (D) 阿茲特克

66. 這些遊戲規則是在凸顯當地的區域特色：(甲) 以勞力投入為主 (乙) 環境負載力低 (丙) 伐林闢地 (丁) 耕作期短，請問其農業經營型式最有可能為下列哪一種？

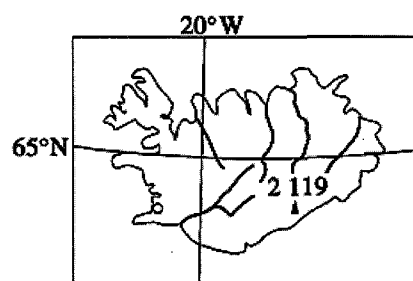


67. 該民族要努力砍樹才能獲取穀物，請問該民族主要賴以為生的穀物為何？
(A) 水稻 (B) 玉米 (C) 小麥 (D) 馬鈴薯

68-70 題為題組

- ◎ 圖(21)為冰島地理位置示意圖，2008 年冰島發生嚴重的金融危機，為度過金融危機，重新思考擁有的資源，當時冰島總理提出了「國民自行捕魚來節省糧食支出」的建議，請回答下列問題：

68. 捕漁船若從冰島出發沿著圖(21)中 20°W 向南，沿著大圓線航行繞地球一圈，在途中最不可能會遇到哪一洋流？



圖(21)

- (A) 親潮 (B) 西澳涼流 (C) 加那利涼流 (D) 北大西洋暖流
69. 歐盟鼓勵再生能源，供電歐盟似乎成為有利可圖的龐大商機，冰島想大舉開發(甲)發電資源，希望仿效中東，靠輸出能源賺大錢，目前冰島正與英國就進口電能事宜展開正式談判，但多個環保團體反對冰島過度開發此項資源。因為電廠會產生大量污水，釋放的氫硫化物氣體可引發氣喘等呼吸道疾病，根本不環保。根據上文敘述請問(甲)最有可能為下列哪一項？
(A) 甲烷 (B) 地熱 (C) 水力 (D) 太陽能
70. 除了供電歐盟外，冰島還希望利用廉價電力的優勢，吸引外國企業前來投資。請問下列哪一種類型的跨國企業最可能前來投資？
(A) 煉鋁 (B) 成衣 (C) 煉鋼 (D) 資訊

71-72 題為題組

- ◎ 土耳其最大城市(甲)也是世界上唯一地跨歐亞的大都會，被歐亞大陸分界所在的(乙)海峽，一分為二，海峽西岸屬歐洲，東岸屬亞洲，等了 150 年，土耳其終於圓夢，橫跨歐亞大陸、全球首座洲際海底鐵路隧道「馬爾馬鐵路隧道」(Marmaray Tunnel)，2013 年 10 月 29 日在(甲)城市舉行開通儀式，把土耳其的亞洲和歐洲海岸連接起來，該城有 1600 萬人口，每天約 200 萬人擠在海峽上兩座擁塞的橋梁通勤上下班，造成嚴重的交通擁堵，預計通車後從亞洲到歐洲只要 4 分鐘，每小時能疏運 15 萬人，每天可以載運 150 萬人次，將解決部分交通問題。

71. 依據上文回答，文中的(乙)海峽最有可能為下列哪一個？
(A) 直布羅陀海峽 (B) 曼達布海峽 (C) 博斯普魯斯海峽 (D) 達達尼爾海峽
72. 環保人士提醒這項工程最需要預防哪一項天災？
(A) 地震 (B) 颱風 (C) 海嘯 (D) 火山爆發