

全國公私立高級中學

103 學年度學科能力測驗第二次聯合模擬考試

考試日期：103 年 9 月 3~4 日

社會考科

— 作答注意事項 —

考試時間：100 分鐘

題型題數：

- 單選題共 72 題

作答方式：

- 用 2B 鉛筆在「答案卡」上作答；更正時，應以橡皮擦擦拭，切勿使用修正液(帶)。
- 未依規定畫記答案卡，致機器掃描無法辨識答案者，其後果由考生自行承擔。

單選題(占 144 分)

說明：第 1 題至第 72 題皆計分。每題有 4 個選項，其中只有一個是正確或最適當的選項，請畫記在答案卡之「選擇題答案區」。各題答對者，得 2 分；答錯、未作答或畫記多於一個選項者，該題以零分計算。

1-2 為題組

- ◎ 自 2011 年 3 月日本東北震災引發核安事件以來，國內反核團體每年都會在 3 月初舉辦各項反核活動，今年向政府提出立即停止興建核四、核廢料撤離蘭嶼、分階段全面終結核電等訴求。隨後又有林義雄先生展開無限期禁食，訴求停建核四；以及數日後，由全台 126 個團體組成的全國廢核行動平台，啟動「不核作」占領忠孝西路活動，發起「終結核電、還權於民」大遊行。請回答以下問題。
- 關於上述反核四運動的敘述，下列何者正確？
 - 「終結核電、還權於民」遊行屬於體制外公民參與
 - 發起「不核作」占領忠孝西路活動的組織乃為政黨
 - 林義雄先生的禁食手段乃效法甘地之公民不服從
 - 反核團體可以反映民眾意見，具有自主志願的特色
 - 林義雄表示，對於反核四運動努力了 20 多年，仍舊無法感動掌權者停止興建核四的念頭，他感到「相當慚愧」。他指出，「核安」根本是騙人的把戲、不可靠的事情，以美國三哩島事件、蘇聯車諾堡事件，以及日本福島核災為例，美蘇日都是比台灣更先進的高科技國家但還是發生不可彌補的後果。請問根據林義雄先生的說法，反核四運動最希望達到對社會的影響為下列何者？
 - 能為自己發聲，進而爭取弱勢權益
 - 對擁有權力者的挑戰，廢除專制爭取民主
 - 反映社會意見，促使政府體察民意改變政策
 - 發揮政黨影響力，教育大眾實現社會革命

3-4 為題組

- ◎ 美國影星梅莉史翠普自述自己在高中時為了扮演受歡迎的女孩，想像男生的喜好，以決定自己的髮型、唇膏、服裝，而且一天只吃一個蘋果；甚至連內在也要演成甜美、害羞，因為她認為男生非常吃這套。直到她上了大學，腦袋才清醒過來，發現真正愛你的人是完全接納真實的你，這體悟讓她「變得真實起來」。請回答下列問題。
- 梅莉史翠普在高中生活的做法最符合下列何種理論說法？
 - 概化他人
 - 鏡中自我
 - 社會化
 - 潛意識
 - 梅莉史翠普也曾在「越戰獵鹿人」成功扮演「琳達」，琳達美麗嫻靜，痴等男友返家，成為許多男人心中的典範情人。但卅年後，她發現男人開始喜歡她在「穿著 Prada 的惡魔」裡扮演的難搞雜誌總編輯米蘭達，楚楚可憐的琳達退位；獨立、盡責、投入工作，甚至頤指氣使的米蘭達，竟能贏得男性的認同：「啊，我理解她作為主管的那種壓力與孤獨感」。她於是結論：「這代女孩不必再裝可愛。」請問對於上文關於琳達到米蘭達角色轉變的敘述，下列何者最能說明其主旨？
 - 男女之間的差距已經完全消失
 - 女性在職場嶄露頭角高於男性
 - 男性對職業婦女角色已能接受
 - 職場表現強勢的女性大受歡迎

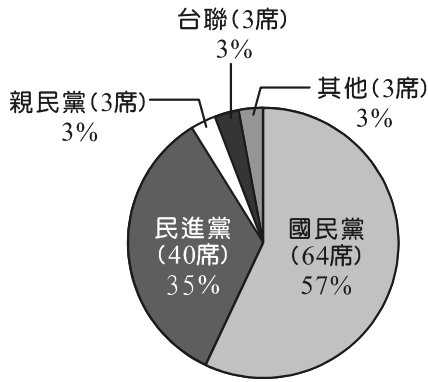
5. 某電視台評論節目，刻意放大參與太陽花學運的年輕女性穿著照片，並由出席來賓以猥褻的手勢、語氣及誇張的神情對照片品頭論足、極盡輕佻能事，該節目播出後，引發民眾不滿而向 NCC 檢舉該節目有物化女性與性騷擾等問題。最後該節目發表道歉聲明。請問下列哪些敘述最符合該事件對閱聽人的影響？
甲、置入性行銷；乙、複製刻板印象；丙、隱藏性歧視；
丁、偏向新聞化；戊、維護老闆立場
- (A) 甲乙 (B) 乙丙
(C) 丙丁 (D) 丙戊

6-7 為題組

- ◎ 根據報載，北市一名八歲女童經送醫不治，其體重只有八公斤，連一歲幼童的體重都不到，身高也只約與兩歲幼童相當，醫師表示「除非有特殊疾病，否則女童的狀況顯示她早已生長停滯」。對此，警方懷疑並非單純死亡，而懷疑女童是否受虐。另一方面，該名女童已屆入學年齡卻沒有入學，相關單位亦無發現與介入調查，教育局表示，將對失職人員祭出懲戒，承辦組長記申誡撤換，校長則是提交至成績考核委員會懲處。請回答下列問題。
6. 虐童情事在我國時有所聞，下列關於兒童人權敘述何者正確？
(A) 我國依聯合國兩公約原則制訂保護兒童的相關法律
(B) 受虐、營養不良等是屬於人權問題乃為第一代人權
(C) 兒童無法自救必須全然仰賴政府法令對其照顧保護
(D) 兒童及少年福利法中強調父母對兒童保護教養之責
7. 請問有關上文加底線文字之相關敘述下列何者正確？
(A) 北市教育局長乃為事務官，故應該負起行政責任
(B) 該國小校長、註冊組長為政務官，應辭職負責
(C) 若查明戶政單位確有疏失，可依法送懲戒委員會
(D) 該國小註冊組長屬於國家文官，依法為終身職
8. 2008 年馬英九總統當選後，政府的兩岸政策逐漸邁向和緩與開放，兩岸關係有所改善。請問下列何者為馬政府已落實之兩岸政策？
(A) 簽訂兩岸服貿協議與貨貿協議
(B) 開放兩岸直航、通郵與包機
(C) 提出不獨立、不更改國號、不統獨公投
(D) 簽訂兩岸和平協議
9. 著名廚師阿基師獲聘為某科大餐飲管理及廚藝學士學位學程講座教授，他在為該校新校舍剪綵活動時，親手烹調一道「高瞻遠矚，承先啓後」的「生日菜」，他說，料理方式可以「西餐為體、中餐為用」，並示範起司加上鱈魚，完成一道中西合併佳餚。請問：該道佳餚是下列哪一個概念的具體實踐？
(A) 文化差異 (B) 文化區隔
(C) 文化同化 (D) 文化涵化
10. 我國現行《公民投票法》，因門檻過高而被形容為「鳥籠公投」，飽受在野人士抨擊。請問：下列關於我國全國性公投程序之敘述，何者正確？
(A) 得由立法院提案，並由公投審議委員會審議後，交中央選舉委員會辦理
(B) 得由人民提案，連署人數須達最近一次總統選舉選舉人總數百分之五以上
(C) 得由總統交付，需在國家有主權變更之虞，並經立法院院會通過後交付公投
(D) 投票人數達投票權人總數二分之一以上或有效票達二分之一同意，即為通過

11. 圖(1)與表(1)為 2012 年我國立法委員選舉狀況，若依該圖各政黨所占國會席次的比率來看，請問下列敘述何者正確？

2012立委選舉 各政黨席次(總席數113)



圖(1)

(各黨席次百分比為四者五入後結果，其中親民黨、台聯、其他三者原百分比皆不足 3%)

表(1)

	區域	政黨(不分區)	
	席次	得票率	席次
國民黨	48	44.55%	16
民進黨	27	34.62%	13
親民黨	1	5.49%	2
台聯	0	8.96%	3
其他	3		

註：

1. 得票率小數點第二位以下四捨五入。
2. 「其他」為表列四黨及無黨籍聯盟以外政黨，政黨及無黨籍人士。

- (A) 親民黨與台聯兩黨已經完全泡沫化
 (B) 國民黨在立委選舉席次過半為一黨獨大
 (C) 區域立委選舉制度對國、民兩黨較有利
 (D) 我國立委選舉制度有利小黨
12. 2014 年 3 月 18 日我國發生太陽花學運，又稱 318 學運，該學運乃由大學學生和部分公民團體共同發起占領立法院的事件。主要是為抗議立委張慶忠草率宣布完成《海峽兩岸服務貿易協議》的委員會審查，學生趁著警員不備，而進入立法院內靜坐抗議，學生們認為自己的做法正是所謂的「公民不服從」，而其後亦有人走上街頭反「反服貿」，代表另一種聲音。請問下列關於該運動與「公民不服從」的敘述何者最正確？
 (A) 因是秉著良心進攻行政院，些許暴力行為仍屬「公民不服從」
 (B) 因為是代表所有公民的反抗行動，故屬於一種「公民不服從」
 (C) 大學生若以和平手段占據立法院雖違法，卻是「公民不服從」
 (D) 只要是為了抗議政府不公不義的活動，都屬於「公民不服從」
13. 近來政局動盪不安的烏克蘭，其國會選舉制度由原本的比例代表制改為「混合制」，並於 2012 年採用新制。新制中，225 名國會議員由政黨比例方式產生，另一半由烏克蘭各選區以單一票制選出，此外，政黨席次分配門檻也從 3% 提高到 5%。請問 2012 年該國的國會選舉制度具有下列何種特色？
 (A) 選舉結果多為「勝者全拿」
 (B) 比 2006 年舊制更利於大黨
 (C) 小黨能有更大的生存空間
 (D) 國會席次可完全反映各黨支持率
14. 近年來國人由於生活水平提升，在世界各國旅遊時展現出的準時觀念、道德感、禮儀等都獲得到當地人的肯定。儘管國人表現與陸客不同，但在國外時，卻常被誤認為是來自中國，必須對國外友人解釋而產生些許困擾。請問當前國際對兩岸關係的主張，下列敘述何者正確？
 (A) 美國：基於一個中國與和平原則，由《中美共同防禦條約》出售臺灣防禦性武器
 (B) 日本：基於區域和平穩定，《美日安保條約》中將臺海安全列入共同戰略目標
 (C) 東協：承認一個中國，但仍視臺灣為具有獨立關稅與主權區域的一個國家
 (D) 歐盟：承認一個中國，與臺灣建立關係必需經中國同意才能展開經濟合作

15-16 為題組

- ◎ 2014 年 11 月 29 日我國將聯合舉行九合一選舉，九合一選舉意指中華民國地方公職人員選舉，包含：甲、直轄市長；乙、直轄市議員；丙、縣市長；丁、縣市議員；戊、鄉鎮市長；己、鄉鎮市民代表；庚、村里長，而直轄市山地原住民區將首度選出辛、山地原住民區長及壬、山地原住民區民代表共九項選舉。為選舉史上首度九合一選舉，亦為地方自治史上規模最大的一次，中選會預估選舉花費約可省下 1 億元。請回答下列問題。
15. 請問上述選舉中屬於單一選區相對多數決的為下列何者？
 (A) 甲乙丙丁戊 (B) 甲丙戊庚辛
 (C) 甲乙丙戊庚 (D) 乙丁己辛壬
16. 根據我國的《地方制度法》規定，甲、直轄市；乙、縣市；丙、鄉鎮市；丁、村里；戊、直轄市山地原住民區；己、直轄市下的區；請問上述屬於地方自治團體為下列何者？
 (A) 甲乙丙丁戊己 (B) 甲乙丙丁戊
 (C) 甲乙丙戊 (D) 甲乙丙丁
17. 在野的民進黨與台聯黨曾於去年底聯袂對行政院長江宜樺提出不信任案，指責其不當干涉國會運作與人事，破壞民主憲政秩序，但該倒閣案最後並未成功。請問關於倒閣案的敘述下列何者正確？
 (A) 不信任案的設計是為了解決立法院權力不足問題
 (B) 依《立法委員職權行使法》規定，倒閣案至少需 57 席立委贊成
 (C) 不信任案若通過，總統不但要重新組閣還需解散立法院
 (D) 不信任案若不通過，立法院於 1 年內不得對同一行政院院長再提不信任案
18. 立法院於 103 年 5 月三讀修正《加值型及非加值型營業稅法》、《所得稅》部分條文，將金融保險業營業稅率由 2% 調回 5%，大股東可扣抵稅額減少，並增加年收入破千萬者所得稅門檻 45%，其中部分加稅所得，透過提高所得稅扣除額回饋民眾。請問這次修法符合哪些學派的觀點？
 甲、效益主義；乙、古典自由主義；丙、社群主義；丁、社會正義；戊、資本主義
 (A) 甲乙丙 (B) 丙丁戊
 (C) 甲丙丁 (D) 乙丁戊
19. 泰國政局不穩，軍方曾先後發動 12 次政變，當軍方宣布接掌政權，並拘禁朝野黨派領袖，暫停實施憲法，開始實施戒嚴法，還透過電視宣布軍方全面接管權力，並開始在全國各地實施夜間宵禁，請問上述這種作法以下列何項概念來描述最適切？
 (A) 軍方統治雖然不具備合法性，但卻得到民意支持取得政權
 (B) 軍方統治違憲不具備合法性，也未經選舉產生不具正當性
 (C) 軍方實施戒嚴法故具合法性，拘禁黨派領袖造成民意流失
 (D) 軍方透過電視宣布接管權力，即可取得正當性與合法性
20. 針對泰國政治內鬥助長了政治決策的散漫放任，有學者提出看法，認為政黨持續對立造成政治僵局，幾乎沒人願意坐下來規劃長期計畫，應由代表不同利益或階層的團體來互相競爭獲取人民認同，以獲得決策權力，讓民主政治繼續維持。請問該學者的觀點與下列何者理論最相符？
 (A) 古典民主理論 (B) 菁英民主理論
 (C) 多元民主理論 (D) 審議民主理論

21. 一對夫妻從中國大陸來港旅遊，因臨時找不到廁所而讓孩子當街脫褲撒尿拉屎；有港人看不過眼，用手機拍下照片，雙方為此爭執衝突，因此上了警察局，也上了國際媒體，陸人、港人不同的價值觀與生活習慣再度引起港媒報導，造成眾人關注與討論的焦點。關於上述事件，請問下列敘述何者正確？
- (A) 大眾傳播媒體可能強化價值標準以及文化位階
 - (B) 中國人在香港具有較高的文化位階與文化資本
 - (C) 個人生活風格受到環境與社會變遷的影響最少
 - (D) 文化習性將反映出文化品味但與文化歧視無關
22. 我國憲法第130條規定，我國國民行使選舉權需年滿20歲。近日有國民黨立委再度建議，希望將投票年齡降到18歲。立委認為現在全世界有215個國家或地區的投票門檻都是18歲以下，應提高青年參與政治的權利，請問下列關於我國修憲的程序，何者正確？
- (A) 立法院提案通過後，公民複決
 - (B) 行政院提案通過後，立法院複決
 - (C) 立法院提案通過後，憲法法庭複決
 - (D) 立法院提案通過後，大法官會議複決
23. 伊斯蘭極端組織「博科聖地」是奈及利亞土生土長的組織，其名稱原意是「禁止西式教育」，這個組織瞄準學校、教會、清真寺、政府建築和安全部隊下手，要根除西方的影響，該組織並發動一連串致命攻擊且在奈及利亞劫持三百名女學童。爾後聯合國安全理事會通過制裁博科聖地方案，制裁措施包括武器禁運和凍結財產。請問關於聯合國安全理事會的制裁行動，下列何者敘述正確？
- (A) 武器禁運將同時派遣維和部隊要求恐怖組織停火
 - (B) 制裁措施乃透過國際媒體良心喊話進行道德勸說
 - (C) 聯合國難民總署展開人道救援行動支持奈及利亞
 - (D) 先透過經濟制裁方式給予恐怖組織施加國際壓力
24. 中越兩國關係時有爭議，特別在領海爭議的處理上，不但出現漁民衝撞事件，還有南海主權爭端。越南若干地方日前發生排華暴動，卻殃及許多台商。台商在遭受嚴重損失後，也請求我國駐越南代表處及駐胡志明市辦事處外交官員幫忙處理，此事件使國人對我國外交困境有更深刻的認識。請問下列關於我國與越南關係何者正確？
- (A) 經濟發展優先將凌駕一切政治與安全因素
 - (B) 我國駐越南代表可以幫助台商向越南政府請求賠償
 - (C) 因我國政府與越南無邦交故無法使力，台商只能自求多福
 - (D) 既然越南視台商為中資企業，可循中國官方管道要求賠償
25. 某一位臺灣總督曾在會議時說：「義和團之亂已經是十幾年前清國的事情，為何今日臺灣還有此類的暴動？盲從暴動者至少也該知道，迷信是不能依賴的。」此事件後，總督府開始臺灣宗教調查，整飭臺灣民間信仰的問題。請問：文中指涉的是哪一抗日事件？
- (A) 後壁林—林少貓事件
 - (B) 噍吧哖—余清芳事件
 - (C) 苗栗—羅福星事件
 - (D) 霧社—莫那魯道事件

26. 網路流傳周杰倫以〈青花瓷〉曲調唱誦的〈清代後期之歌〉，以下是歌詞選段：
「……(甲) 日本漁民從琉球遇船難漂流 誤闖了番社部落 被番人滅口 日本向清廷要求 賠償沒結果 攻打牡丹社找兇手 報仇 清廷派沈葆楨 來臺加強防務 (乙) 北部增設臺北府 控制更穩固 限制來臺禁令廢除 (丙) 修築東西部越山道路 牡丹社事件後 建立恆春城 (丁) 首座西式砲臺 是億載金城……。」請問：上述歌詞中有哪一句與歷史事實不符合？
(A) 甲 (B) 乙 (C) 丙 (D) 丁
27. 參觀臺灣歷史博物館常態展覽館的戲劇導覽時，在日本殖民統治區，導覽者配合展覽景觀唱頌當時流傳的一首歌謠，其歌詞如下：
「我等都是亞細亞 黃色的人種 介在漢族一血脈 遠東的百姓
所以天降大使命 囑咱緊實行 發達文化振道德 造就此才能
欲謀東洋永和平 中日要親善 我等須當作連鎖 和睦此弟兄
糾合東亞諸民族 締結大同盟 啓發文化比西洋 兩兩得並行
可免黃白起戰爭 世界就和平 我等一舉天下利 豈可自暴棄
但願最後完使命 樂為世界人 世界人類萬萬歲 臺灣名譽馨」
請問：此歌詞與下列何者相關？
(A) 始政四十周年紀念臺灣博覽會
(B) 臺灣議會設置請願運動
(C) 臺灣市會及街庄協議會員選舉
(D) 臺灣文化協會
28. 十八世紀《臺灣府志》記載：「習紅毛字者曰『教冊』，用鵝毛管削尖，注墨汁於筒醮而橫書自左而右。登記符檄錢穀數目。暇則將鵝管插於頭上，或橫貯於腰間。」
文中「紅毛字」是指下列哪一種文字：
(A) 荷蘭傳教士以拉丁字母拼寫平埔族語
(B) 荷蘭東印度公司紀錄商業帳冊的荷蘭文
(C) 長老教會以羅馬字母拼寫臺灣(福佬)話
(D) 清朝統治時期簽訂土地買賣契約的漢文
29. 老師帶領學生進行「臺灣史蹟踏查」教學，介紹臺島最早的石碑，其碑記：
「臺灣遠在海表，昔皆土番、流民雜處，未有所屬。及明季時，紅彝始有築城，與內地私相貿易。……余恭承天討，澎湖一戰，僞軍全沒，勢逼請降。……天威遐播，遂入版圖。」請問：此石碑是下列何者豎立？
(A) 鄭成功
(B) 施琅
(C) 荷蘭東印度公司
(D) 西班牙駐臺長官
30. 圖(2)是一幅臺灣地圖，圖上標示著甲、乙、丙三區。請問：
這幅圖是反映清代統治後期臺灣的哪一項示意圖？
(A) 漳、粵、泉籍漢人族群分布圖
(B) 臺北、臺中、臺南府行政區劃圖
(C) 茶、樟腦、糖三大產業分布圖
(D) 瑠公、八堡、曹公圳灌溉面積圖



圖(2)

31. 朱一貴事件、林爽文事件、戴潮春事件有清代「臺灣三大民變」之稱，其共同的特點是：
- (A) 民軍都以攻陷府城為首要目標
 - (B) 平亂過程都利用分化族群策略
 - (C) 都借重臺灣鄉勇回臺協助平亂
 - (D) 事變平定後官府都調整行政區

32. 表(2)是1918年和1935年臺灣教育的學校數和學生數統計表。請問：從1918年至1935年的消長變化，反映總督府採行了哪一項治臺策略？

表(2)

學校別	年度 項目	1918年		1935年	
		校數	學生數	校數	學生數
大學		0	0	1	114
專門學校		1	252	4	976
中學校		4	1,843	24	12,241
師範學校		2	908	4	1,379
職業學校		3	393	46	5,552
小、公學校		541	128,436	917	407,449
其他學校		19	1,706	23	4,457

- (A) 後藤新平的生物學統治原則
- (B) 法律第三十一號的治臺方針
- (C) 漸進無方針主義的治臺理念
- (D) 文官總督採行日臺融合政策

33. 到國立科學工藝博物館參觀臺灣工業史蹟館，見識臺灣經濟發展的過程中，許多明星產業橫掃國際市場，創下多項「臺灣第一」的紀錄。館中展示出百年來臺灣出口的明星產業，如表(3)所示。

表(3)

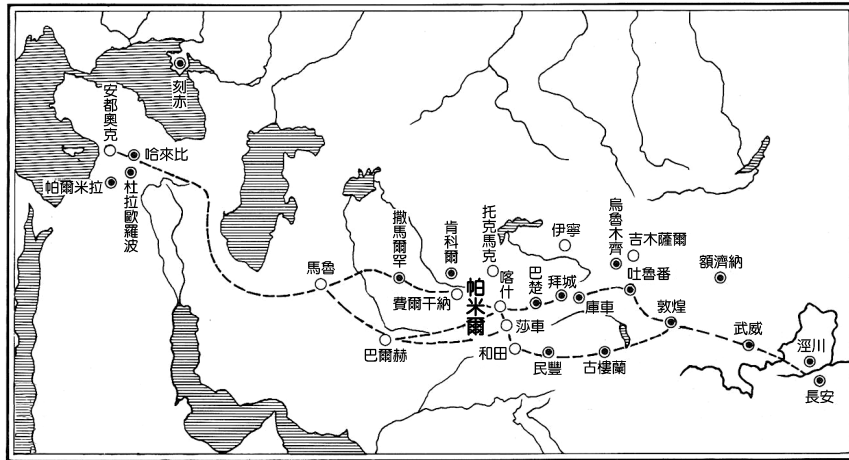
甲	資訊科技工業	個人電腦、主機板、光碟機
乙	電子產業	電視機、計算機、電子鐘錶
丙	紡織工業	成衣服飾、襪子、帽子
丁	食品工業	洋菇、鳳梨、蘆筍罐頭

請問：這些創造臺灣經濟奇蹟的出口產業，以成為明星產業的時間先後次序排列，應該是：

- (A) 甲乙丁丙
 - (B) 乙丁丙甲
 - (C) 丙丁甲乙
 - (D) 丁丙乙甲
34. 在一場「臺灣歷史文獻與田野紀錄」的讀書會，與會者討論親自到過臺灣，並耳聞目睹的記述臺灣風土民情之最早中文文獻。請問：讀書會的書目應該是：
- (A) 郁永河《裨海紀遊》
 - (B) 荷蘭東印度公司《熱蘭遮城日誌》
 - (C) 陳第《東番記》
 - (D) 巡臺御史六十七《番社采風圖》
35. 《鐵齒銅牙紀曉嵐》電視劇中，乾隆得意地說：「宋朝與士大夫共天下，明朝與□共天下，到了我大清，與讀書人共天下。」請問：依歷史事實推論，與明朝皇室共治天下的是：
- (A) 宦官
 - (B) 外戚
 - (C) 世族
 - (D) 后妃
36. 中國大陸曾流行著一首歌謠說：「要看中國的兩千年，請到西安；要看中國五百年，請到北京；要看中國的一百年，請到上海。」請問：要看中國的一千年應該到下列哪一個當時「首屈一指」的城市？
- (A) 洛陽
 - (B) 開封
 - (C) 廣州
 - (D) 南京

37-38 為題組

◎ 圖(3)是西亞、中亞與長安之間的路線圖，它見證了亞洲大陸的經濟、文化、社會發展與交流。



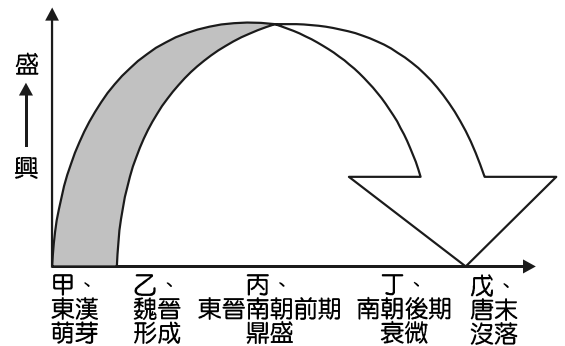
圖(3)

- 37. 由歷史知識省察，這條路線是：
 - (A) 陸上絲路路線圖
 - (B) 印刷術傳播路線圖
 - (C) 佛教北傳路線圖
 - (D) 造紙術傳播路線圖
- 38. 它主要見證了下列哪一段時間的中西文化交流史？
 - (A) 西元前 2 世紀~16 世紀
 - (B) 西元 2 世紀~13 世紀
 - (C) 西元 8 世紀~15 世紀
 - (D) 西元 13 世紀~19 世紀

39-40 為題組

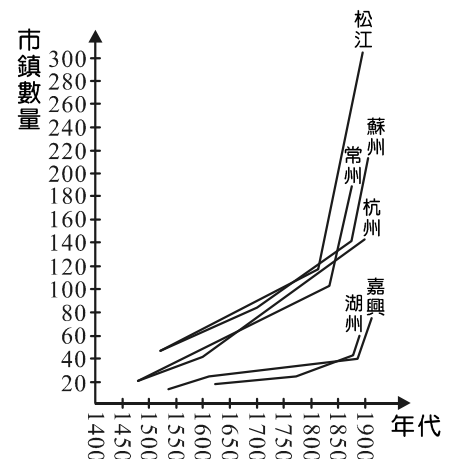
◎ 圖(4)是中國某一歷史現象發展歷程的示意圖，分甲、乙、丙、丁、戊等五個時程。請問：

- 39. 圖中指涉的歷史現象是：
 - (A) 華北經濟重心
 - (B) 世族門閥政治
 - (C) 中國府兵制度
 - (D) 中央三省制度
- 40. 促成此一現象演變的主要因素是：
 - (A) 中央集權政策
 - (B) 北方胡人入侵
 - (C) 選才任官制度
 - (D) 戰亂人口遷移



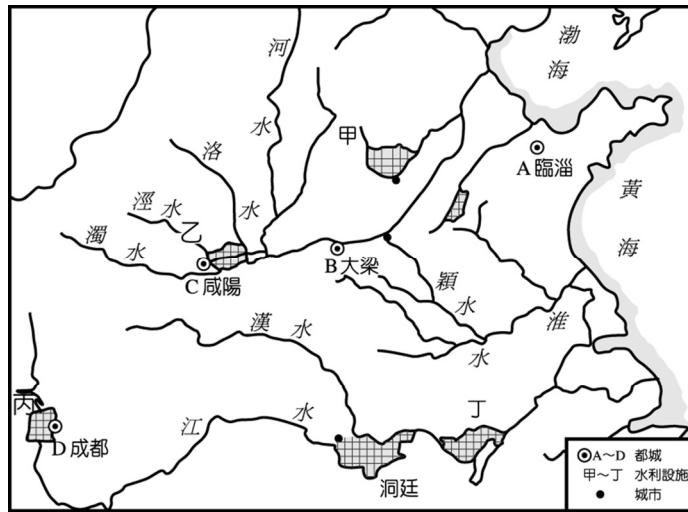
圖(4)

- 41. 圖(5)是明清時代江南市鎮數量變動的示意圖。請問：圖中市鎮的變化主要是受哪一項手工業的影響？
 - (A) 造紙印刷業
 - (B) 製盜業
 - (C) 紡織業
 - (D) 造船業



圖(5)

42. 圖(6)甲、乙、丙、丁是戰國時代興修的水利灌溉工程示意圖。



圖(6)

請問：促使秦國提高糧食產量，為發動戰爭提供充足糧食供應的水利工程是：

- (A) 甲乙
- (B) 乙丙
- (C) 乙丁
- (D) 丙丁

43. 史學名家陳寅恪在其著作中論道：

「李唐一族之所以崛興，蓋取塞外野蠻精悍之血，注入中原文化頹廢之軀，舊染既除，新機重啓，擴大恢張，遂能別創空前之世局。」

請問：作者認為唐朝開創盛世的主要理由是：

- (A) 承先啓後，制度優良
- (B) 重視武將，開疆拓土
- (C) 除舊布新，去除胡風
- (D) 種族融匯，文化整合

44. 國立故宮博物院舉辦《赫赫宗周一文化特展》，在「展覽概述」的介紹文中，應該是要後人緬懷「赫赫宗周」哪一處文明昌盛之地？

- (A) 河南洛陽
- (B) 山東齊魯
- (C) 陝西關中
- (D) 四川成都

45. 慈禧太后七十壽辰，滿朝文武官員獻壽聯祝賀，表達「一人有慶，萬壽無疆」，但是有一學者有感於國家蒙難，揮筆寫了一副頗具諷刺意味的對聯：

「今日到南苑，明日到北海，何時再到古長安，歎黎民膏血全枯，只為一人歌慶有。

五十割琉球，六十割臺灣，而今又割東三省，痛赤縣邦圻益蹙，全逢萬壽祝疆無。」

請問：當年發生了甚麼國家不幸的歷史事件？

- (A) 中法戰爭
- (B) 甲午戰爭
- (C) 八國聯軍
- (D) 日俄戰爭

46. 宋朝某位皇帝給某一邊族上了一道誓表，說道：「……今來畫疆，合以淮水中流為界，……既蒙恩造，許備藩方，世世子孫，謹守臣節。每年皇帝生辰並正旦，遣使稱賀不絕，歲貢銀絹，二十五萬兩、匹。自壬戌年為首，每春季差人搬送至泗州交納。有渝此盟，明神是殛，墜命亡氏，踏其國家。今臣既進誓表，伏望上國早降誓詔，庶使敝邑永有憑焉。」請問：這份誓表的彼此雙方是？

- (A) 宋仁宗—西夏
- (B) 宋真宗—契丹
- (C) 宋欽宗—女真
- (D) 宋高宗—女真

47. 中書省奏曰：「舉秀才的，經學、詞賦是兩等，經學是說修身、齊家、治國、平天下的勾當。自隋唐以來，取人專尚詞賦，人都學習的浮華了。……如今將律賦省題詩小義等都不用，……專立德行明經科。明經內四書五經，以程子、朱晦庵註解為主，是格物致知修己治人之學。」請問：這是哪一個朝代科舉取士的特點？
- (A) 宋 (B) 元
(C) 明 (D) 清

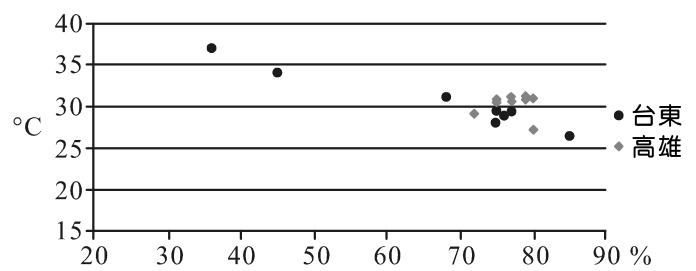
48. 圖(7)「各國聯合燈籠大會」是清末民初在中國流傳的一幅政治漫畫。請問：圖中指涉的政治現象最後導致下列哪一歷史事件的發生？
- (A) 甲午戰爭
(B) 戊戌變法
(C) 八國聯軍
(D) 辛亥革命



圖(7)

49. 山崩與地滑皆屬崩壞作用的地形，但外觀上差異頗大，兩者的不同點在於：
- (A) 降水量的多寡
(B) 人爲開發與否
(C) 下滑坡度的大小
(D) 滑動面的有無
50. 家樂福大賣場的哪一項資料，可以用來了解城鄉互動往來的頻繁程度？
- (A) 商品的來源地與比例
(B) 賣場中的商品價格
(C) 賣場中的空間設計
(D) 停車場的車輛數

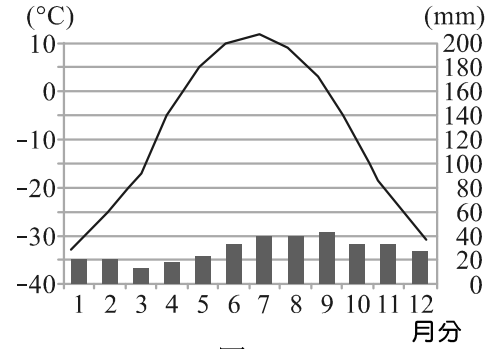
51. 圖(8)是今年高雄和台東自5月11日至5月18日，每日下午14點的氣溫與相對濕度關係圖。請問當時全台大氣狀態的正確敘述為何？
- (A) 南部受颱風外圍籠罩，吹東南風
(B) 北部受太平洋高壓籠罩，吹東北風
(C) 迎風背風的差異造成兩地天氣不同
(D) 西部平原寬廣使海陸風影響氣溫



圖(8)

52. 土壤中含硫酸根離子、鈉離子和氯離子等過量時，對植物的生長將會造成不良影響，其發生的原因有：過度施肥、氣溫太高、雨量太少、長期連作和溫網室設施。請問這些原因導致了哪一項災害？
- (A) 土壤汙染 (B) 土壤侵蝕
(C) 土壤鹽化 (D) 土壤液化

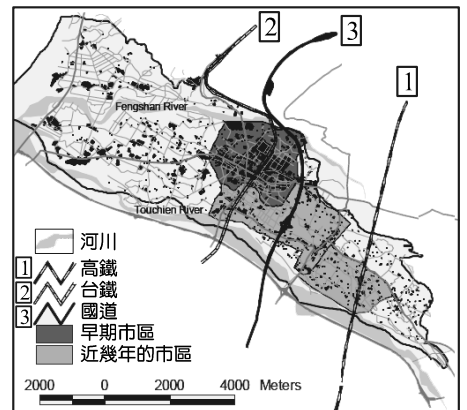
53. 圖(9)為某地的氣候資料，請問「飛越地球」團隊飛行在本區上空時，鏡頭上會看到哪一種自然景觀？
- (A) 樹冠成簇層次明顯，游耕焚林
 - (B) 常綠針葉樹的松杉，暖化嚴重
 - (C) 稀少灌木與短草，動物穴居
 - (D) 林相具季節變化，秋冬落葉



圖(9)

54. ING 安泰人壽與富邦人壽合併後，總保費收入躍為國內第二大。而富邦金控的全年稅後獲利逾 197 億元，創成立以來新高，總資產也站上全國第三大，僅次於台灣金和國泰金。這兩家公司的合併，可以獲得哪些優勢，正確的選項為？
- 甲、規模擴大、獲得利潤 乙、決定匯率、研發商品
丙、壟斷通路、提高市占率 丁、多樣化經營、降低風險
- (A) 甲乙
 - (B) 甲丙
 - (C) 乙丁
 - (D) 丙丁
55. 萊茵河口的沉積土壤，隨著潮汐的作用與風力方向，均勻的散布在河口區域而形成帶狀的沙丘，而沙丘的形成又常常阻塞原有的河口，這種頻繁的改道、氾濫以及堆積的沙丘，逐漸圍繞河口附近的海域成為沼澤，又從沼澤演變為平原，並因擠壓而成為鬆軟、濕潤的地質與地形結構。人們在此生活、開發，需要克服的環境限制是：
- (A) 日照少且西風強烈
 - (B) 不斷的排水與地層下陷
 - (C) 地勢平坦又缺乏水力
 - (D) 鹽分高而宜於花卉生長

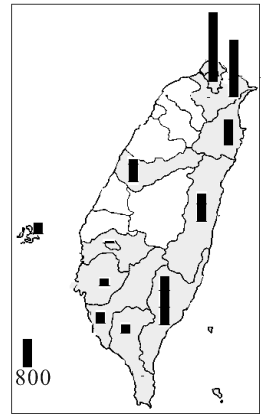
56. 圖(10)是新竹市不同時期的都市範圍，灰色帶狀是鳳山溪與頭前溪。從圖例可瞭解其範圍變遷與哪一項地理條件最為相關？
- (A) 河川的包圍
 - (B) 清朝城牆的限制
 - (C) 九降風的方向
 - (D) 交通設施的建造



圖(10)

57. 薪資低加上在東協市場居於樞紐的地緣位置，讓越南成為許多台商「南進」的首選。製造業轉向，金融業也跟著走。金管會等財經部會鼓勵業者積極開發新市場，有大型金控已將越南建為南向投資基地，旗下的銀行、產險、壽險公司全數進場，資本重押越南。金融業的這種區位分布與哪一因素關係密切？
- (A) 產業連鎖
 - (B) 工業慣性
 - (C) 區位移轉
 - (D) 規模經濟

58. 圖(11)是 2013 至 2017 年目前籌設觀光旅館的各縣市房間數統計地圖，白色區域是數量更少。從空間分布判斷：影響觀光硬體產業的區位因素為何？
- (A) 人口密度的高低
 - (B) 日照時數的多寡
 - (C) 觀光資源的品質
 - (D) 國民所得的高低



圖(11)

59. 照片(1)是拍攝於台南的某項零售業畫面，則其區位特色為何？
- (A) 交通最便利的市中心區
 - (B) 小範圍內密集設置分店
 - (C) 人口密集且空間大的廣場
 - (D) 快速道路出入口的郊區

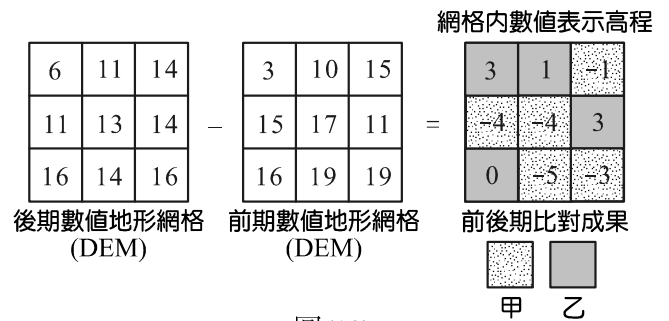


照片(1)

60-61 為題組

◎ GIS 是電腦化系統，針對空間及其屬性資料建立資料庫，並以輸入、處理、分析及輸出四項功能，來作為決策及管理規劃。

60. 圖(12)為某研究計畫中 DEM 的應用，可依此運算來了解研究區內哪一項環境的變化？
- (A) 集水區的輸砂概況
 - (B) 林地病蟲害的蔓延
 - (C) 觀景台的區位選址
 - (D) 藍腹鷗的棲地變遷



圖(12)

61. GIS 功能中也具有「如同光的直行性質，可判斷兩地之間有無受地形、地物阻擋，且展示出阻擋的範圍有多大」的分析能力，此分析常用來做出哪一項決策？
- (A) 找出微波或雷達的死角
 - (B) 預測交通流量最小的路線
 - (C) 評估越南經濟海域的範圍
 - (D) 預測新設家樂福的區位

62-63 為題組

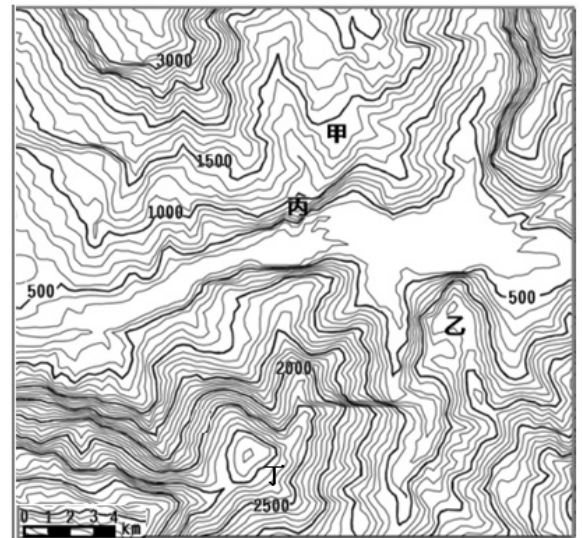
◎ 蘇鐵的天然族群主要分布在上游河谷兩岸、土壤發育不良的陡峭岩坡或保水力不良的碎石地，為典型乾性演替早期之陽性植物，與二葉松或楓香等先驅樹種形成稀疏的次生林。這種惡劣的棲地對喜好濕潤的常綠闊葉樹種較為不利，故演替進行極慢，上層闊葉大樹不易侵入，蘇鐵長期留存在此，如圖(13)。

62. 適合生長蘇鐵的地形位於何處？

- (A) 甲
- (B) 乙
- (C) 丙
- (D) 丁

63. 河川主流流向哪一方位？

- (A) 東南
- (B) 西南
- (C) 東北
- (D) 西北



圖(13)

64-65 為題組

◎ 沖積扇與三角洲雖同屬河川地形，但其出現的位置與育成因子卻有明顯差異。圖(14)中甲、乙、丙三張圖是台灣三條河川出海口的衛星影像，這三處山麓海岸沖積扇位於同一山脈，因谷口鄰近海岸，沖積扇最外緣又具有一些三角洲的特性。



圖(14)

64. 沖積扇與三角洲原是發生於不同的地理環境，但卻有哪一項共同的成因？

- (A) 流量減少
- (B) 負荷增加
- (C) 流幅加寬
- (D) 坡度急降

65. 甲、乙、丙三張圖的方位一致：圖上指北，則三者都位於哪一山脈的河川出海口？

- (A) 海岸山脈
- (B) 中央山脈
- (C) 玉山山脈
- (D) 雪山山脈

66-68 為題組

◎ TFT-LCD 產業供應鏈主要分為材料製造、LCD 面板製造及 LCD 模組、各類型資訊及電子等應用產品，如(圖(15))所示。圖(15)是面板商品的製造流程，一個方塊代表一家廠商。2007 年初觸控面板帶動更多消費電子產品的應用，例如：手機、NB、MP3、PDA、GPS 等。

66. 圖(15)的生產鏈屬於何種型式：

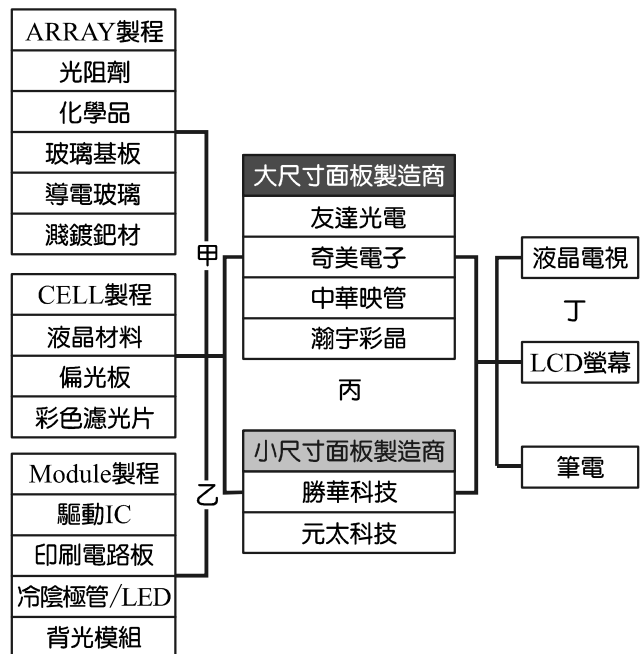
- (A) 水平分工
- (B) 垂直整合
- (C) 水平整合
- (D) 垂直分工

67. TFT-LCD 液晶面板、觸控面板、手機液晶面板，以及數位相機面板價格跌幅約在 1%上下，Notebook 面板價格跌幅約 10%左右。價格下跌，歸咎歐美景氣不明、新興市場消費不振等因素，而關鍵仍在面板產能供給太多，廠商為了搶單必須競價爭取。請問面板生產應處於產品生命週期的哪一階段？

- (A) 新創期
- (B) 成長期
- (C) 成熟期
- (D) 衰退期

68. 圖(15)中哪些階段是因技術較簡單、需要大量勞力而大多設廠於中國的：

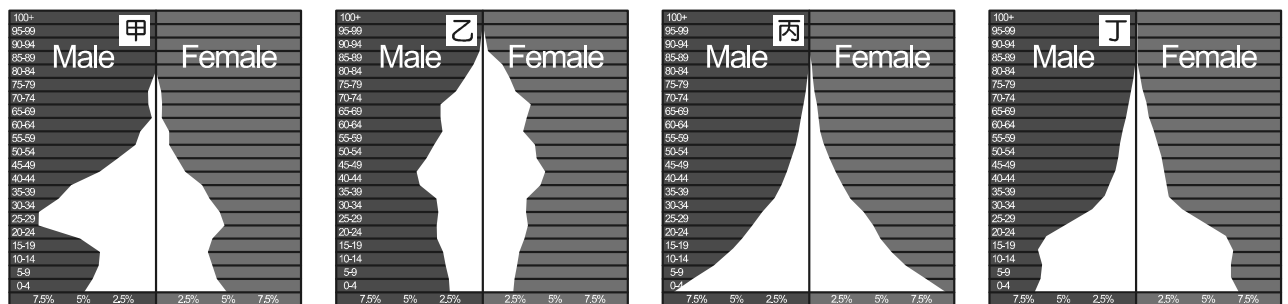
- (A) 甲丁
- (B) 乙丙
- (C) 甲丙
- (D) 乙丁



圖(15)

69-70 為題組

◎ 人口金字塔是顯示年齡和性別組成的圖表，可以提供：人力資源、人口老化程度、扶養比、生育年齡人口等資料，是各項人口發展或規劃的基礎。圖(16)為 2011 年某四個國家的圖形。



圖(16)

69. 若就出生率與死亡率的高低來判斷，屬於人口轉型「低穩定階段」的國家是哪一張圖形？

- (A) 甲
- (B) 乙
- (C) 丙
- (D) 丁

70. 「甲」圖形狀奇特，若解讀其人口資料則何項敘述正確？

- (A) 人口老化是現行的社會難題
- (B) 經濟成長快速導致少子化
- (C) 經濟發展遲緩使人口大量外移
- (D) 工作機會使得性別比大於 100

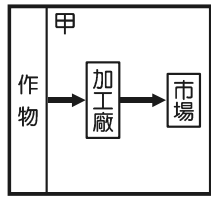
71-72 為題組

◎ 某農產公司總部設在新加坡，因新加坡海關嚴謹，不用擔心藥物殘留，且地處東南亞轉運中心運輸便利。與客戶買賣時，使用傳統磅秤提昇質感並詳加解說，員工都經過嚴格訓練，熟知對產品的料理與用品的生產履歷。台灣若能以國家、企業或協會帶頭，致力推廣，想必具有競爭力。此農產自日人引進至今的發展紀錄如表(4)，為季風亞洲特有作物，生長氣溫 13~32°C，霜少而多雨，霧露對生產頗有裨益，土壤不必肥沃，但需排水便利。今以印度最盛，錫蘭次之，兩國輸出占世界出口總額的三分之二。

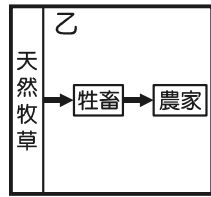
表(4) 農產發展階段

階段	第一階段	第二階段	第三階段	第四階段
產品	大量生產、外銷導向	大量生產、外銷導向	外銷萎縮、轉向與減產	安全有機、精緻化
時期	日治至二戰	戰後至 1970 年	1970 年至 1999 年	1999 年以後
生產系統	日本會社掌握技術與產銷系統	單一企業掌握產銷結構	供給(農民)與加工(工廠)生產鏈結重組	地方產業定位及產業再結構
特徵	殖民國主導，現代化、專業化生產以供應全球大眾市場	生產資本更趨集中；擴大規模持續外銷	全球市場競爭從生產優勢轉向劣勢	在地生產與消費；提高附加價值；綠色消費；多樣化商品

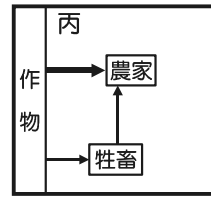
71. 就以上敘述，此農作的經營流程圖應該是何者？



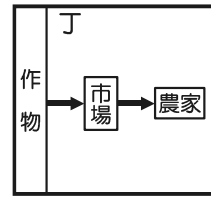
→主要流向 →次要流向



→主要流向 →次要流向



→主要流向 →次要流向



→主要流向 →次要流向

- (A) 甲
- (B) 乙
- (C) 丙
- (D) 丁

72. 表(4)第四階段最能提高附加價值的策略為何？

- (A) 減少成本降價出售
- (B) 全球化的品牌行銷
- (C) 產業外移或雇用外勞
- (D) 大面積開闢高山茶園