

臺北區 103 學年度第一學期
第二次學科能力測驗模擬考試

社會考科

—作答注意事項—

考試時間：100 分鐘

題型題數：

- 單選題：共 72 題

作答方式：

- 用 2B 鉛筆在「答案卡」上作答；更正時，應以橡皮擦擦拭，切勿使用修正液（帶）。
- 未依規定畫記答案卡，致機器掃描無法辨識答案者，其後果由考生自行承擔。

單選題 (占 144 分)

說明：第 1 題至第 72 題皆計分。每題有 4 個選項，其中只有一個是正確或最適當的選項，請畫記在答案卡之「選擇題答案區」。各題答對者，得 2 分；答錯、未作答或畫記多於一個選項者，該題以零分計算。

1. 澳洲男模安德烈·佩伊奇(Andrej Pejic)被《紐約雜誌》選為「世界上最美的男人」。日前他正式向外界宣告，已動了變性手術，讓自己成了一個女人。他說：「我一直都知道這就是我想要的，只有變成女生，才能讓我真正做自己。」佩伊奇的敘述最能反映出哪一種性別概念？
 - (A) 性傾向
 - (B) 生物性別
 - (C) 性別認同
 - (D) 性別主流化
2. 根據媒體報導，一位竹科工程師花了一年時間自行研發新口味「德國豆腐」，他以德國酸白菜取代泡菜來鋪滿臭豆腐上方，再搭配香腸和芥末醬，吃起來口感不油不臭反而清爽，使臭豆腐搖身一變成爲西式點心，並深獲消費者好評。請問上文關於「德國豆腐」的文化接觸現象最符合下列何種過程？
 - (A) 異化(alienation)
 - (B) 同化(assimilation)
 - (C) 涵化(acculturation)
 - (D) 社會化(socialization)
3. 隨著公民社會的成熟，人民往往透過組成非政府組織(NGOs)爭取權益，以追求社會公平正義的實現。以下對於非政府組織的敘述何者正確？
 - (A) 反核團體販賣印有標語的衣服跟徽章，有營利行爲，不屬於非政府組織
 - (B) 組織具有一定的理念與價值，如勞工團體會在勞動節時上街爭取勞動權
 - (C) 由相關領域的學者專家們領導組織，經常進行「由上而下」的社會運動
 - (D) 常使用公民不服從的行動模式迫使政府重視他們的訴求，例如示威遊行
4. 據報導，某校一名高二男學生排練校慶舞蹈時，以脫外褲露內褲吸睛搞怪，卻被女教官視爲性騷擾，經學校性別平等教育委員會調查決議構成性騷擾，要求男學生須上性別平等課程並向女教官道歉，家長和不少民眾都直呼「太小題大作」。請問下列有關「性騷擾」的敘述何者正確？
 - (A) 此是「以性要求作爲給予對方利益的交換條件」，稱爲交換利益之性騷擾
 - (B) 女教官在本案例中是受學生性騷擾，應適用《性別平等教育法》進行申訴
 - (C) 在本案例中，男同學露內褲吸睛搞怪的行爲，傷害了女教官的人身自由權
 - (D) 性騷擾是以行爲人的性騷擾意圖來判定，而非以受害人主觀感受認定爲主
5. 〈大法官釋字第 364 號解釋文〉之內容說明：以廣播及電視方式表達意見屬於憲法所保障之言論自由，所以國家對於人民平等「接近與使用傳播媒體」的權利，應予以尊重並加以保障。此被視爲是對於「媒體近用權」之重要詮釋，亦即一般民眾得依一定條件，要求傳播媒體提供版面或時間，行使表達意見之權利。請問下列敘述何者正確？
 - (A) 某企業以其集團名稱掛名並贊助某娛樂性談話性節目爲媒體接近權
 - (B) 有線電視系統商提供公共頻道播放社區自製公益節目爲媒體使用權
 - (C) 電視新聞臺向民眾徵求上傳自行拍攝的颱風實景影片爲媒體接近權
 - (D) 官員透過政論節目「當事人澄清專線」說明澄清意見爲媒體使用權

6. 高三學生孝信因為出身於法學世家，加上在校成績表現非常亮眼，因此，學校師生都很期待他考上最高學府的法律系為校爭光，也認為他未來應該往司法官的目標發展。但是孝信最想唸的其實是戲劇表演系。請問用學者們的自我概念理論來分析以下孝信的心聲，何者正確？
- (A) 顧里的鏡中自我(looking-glass self)：感覺最近導師對我非常冷漠，我想他一定是看到我週記中寫說想唸戲劇系而感到失望
- (B) 米德的重要他人(significant others)：為了符合大家的期待，為了不讓學校老師與同學們對我失望，我應該努力考上法律系
- (C) 佛洛伊德的超我(super ego)：可是，舞臺激發了我的潛能，表演滿足了我的慾望，我是如此渴望戲劇帶給我的自在與快樂
- (D) 艾瑞克森的親密孤獨(intimacy or isolation)：我的人生方向衝突又矛盾，到底我應該活在別人的期待中，還是選擇作自己？
7. 爭議已久的桃園航空城預計明年開始進行史上最大區段的徵收案，並採分期分區開發，這將迫使萬人遷離自己的家鄉，但是航空城計畫卻是被期許為帶動當地發展，且讓臺灣邁入國際化的踏板及產業轉型的契機。在公民課堂上，有四位同學發表其對該議題的看法。
- 小龍：民調顯示當地七成居民願意土地被徵收，計畫不僅為當地帶來大量就業機會，也可以幫臺灣多數人帶來希望，犧牲少數換取大多數利益就是公共利益。
- 阿一：但這表示有三成的居民並不願意搬離自己的家鄉，為了整套都市計畫機制，就要這些人犧牲生存與財產的基本人權，多數利益難道就代表公共利益嗎？
- 大翰：我認為政府應該要對拆遷戶做出最優的補償，提出先建後遷的計畫，讓當地居民保存文化傳統，以一村一安置的方式，提供拆遷戶優質的居住環境。
- 三妹：土地徵收應該遵守嚴謹的聽證程序，透過全面公開與民眾參與的方式，讓官員、民眾、專家學者互相對話，重新檢視開發案中的各種問題，以徵公信。
- 從上述四位同學的討論內容判斷，他們對公共利益的學理依據何者為對？
- (A) 小龍的想法主要偏向社群主義的觀點 (B) 阿一的說法比較符合效益主義的觀點
(C) 大翰的考量較傾向於社會正義的觀點 (D) 三妹在強調正當程序，無涉公共利益
8. 請根據表(1)我國家庭暴力事件被害人性別及案件類型的通報統計資料，選出正確的敘述。

表(1) 民國 96~102 年家庭暴力事件被害人性別與案件類型

| | 婚姻/離婚/同居 關係暴力 | | | 兒少保護 | | | 老人虐待 | | | 其他 | | | 總計 |
|------|------------------|--------|-------|--------|--------|-------|-------|-------|------|-------|--------|-------|---------|
| | 男 | 女 | 百分比 | 男 | 女 | 百分比 | 男 | 女 | 百分比 | 男 | 女 | 百分比 | |
| 96年 | 3,304 | 36,731 | 59.2% | 6,890 | 6,550 | 20.8% | 788 | 1,030 | 2.7% | 3,220 | 8,462 | 17.3% | 68,421 |
| 97年 | 3,604 | 38,950 | 57% | 8,370 | 7,706 | 22.5% | 876 | 1,267 | 3% | 3,658 | 9,353 | 17.5% | 75,438 |
| 98年 | 4,428 | 43,046 | 57.3% | 8,498 | 8,044 | 20.7% | 1,053 | 1,467 | 3% | 4,530 | 11,166 | 19% | 83,728 |
| 99年 | 5,287 | 49,163 | 55.6% | 10,679 | 10,234 | 22% | 1,215 | 1,868 | 3.2% | 5,818 | 12,850 | 19.2% | 98,720 |
| 100年 | 5,672 | 43,562 | 53% | 11,763 | 11,889 | 25.5% | 1,096 | 1,766 | 3.1% | 5,617 | 11,368 | 18.4% | 94,150 |
| 101年 | 6,512 | 43,492 | 51.4% | 13,877 | 13,605 | 28.4% | 1,169 | 1,871 | 3.2% | 5,860 | 10,575 | 17% | 98,399 |
| 102年 | 5,824 | 43,112 | 45.1% | 16,540 | 17,653 | 31.7% | 1,171 | 1,889 | 2.8% | 8,261 | 13,742 | 20.4% | 110,103 |

註：百分比係指該類型案件受暴人數占當年受暴總人數的比例。

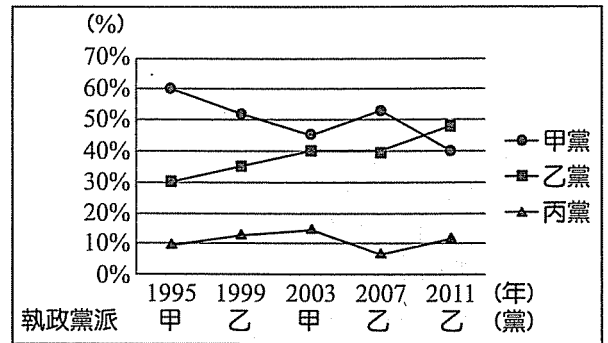
單位：人數

資料來源：行政院衛生福利部保護服務司

- (A) 通報家暴受害總人數有增加的趨勢，可以推知我國的實際家暴受害者也愈來愈多
- (B) 每年各種家暴類型的女性受害人數均高於男性，表示女性在家庭中仍為權力弱勢者
- (C) 「婚姻/離婚/同居關係」類型受害人數百分比逐年降低，顯示我國為性別平權的社會
- (D) 與往年相較，民國 102 年「其他」類型受害人數的年增率最高(例如子女對父母、婆媳間等)

9. 某高中校長在一場行政會報中強調：「我認為學校在做決策時應更加民主化，例如在有關畢業典禮舉辦方式上，除了學校行政單位的討論決議外，也應徵詢班聯會、畢聯會、社聯會、教師會、家長會的意見。」請問這種決策方式，最符合何種民主理論的精神？
- (A) 古典民主理論
 - (B) 修正民主理論
 - (C) 多元民主理論
 - (D) 審議民主理論
10. 德國於 2013 年 9 月國會大選，由梅克爾女士所領導的基民黨獲得多數席次，並獲得國會支持，而贏得第三個總理任期，將繼續執政四年。請問關於德國的政府體制，下列敘述何者正確？
- (A) 副署制度運作與英國相同
 - (B) 總理產生方式與我國相同
 - (C) 元首產生方式與日本相同
 - (D) 覆議權的行使與美國相同
11. 2014 年 11 月 29 日的九合一選舉，是我國首次將所有地方公職人員選舉合併辦理，應選出之公職人員人數、種類之多，規模之大，前所未有。請問有關這次選舉的相關敘述，何者正確？
- (A) 直轄市山地原住民區為地方自治團體，其區長與區民代表由區民選舉產生
 - (B) 桃園縣將升格直轄市，鄉鎮市長與鄉鎮市民代表雖然保留但改由市長指派
 - (C) 直轄市長、縣市長、鄉鎮市長及村里長每屆任期皆四年，連選得連任一屆
 - (D) 直轄市長、縣市長須提出副首長聯名登記參選，選制為小選區相對多數制
12. 國立故宮博物院的翠玉白菜等珍貴文物，2014 年 6 月出借給日本東京國立博物館展出，但因為日方宣傳品沒有將我們國立故宮博物院的「國立」兩個字標示出來，引起軒然大波，後經日本東博的道歉與修正，翠玉白菜等國寶如期展出，風波才告平息。請問以下同學對此新聞的闡述何者正確？
- (A) 小福：日本宣傳海報是否標示「國立」，主要牽涉到我們國家組成要素的領土爭議
 - (B) 小肯：這一次國寶的文宣風波險些就對於我國與日本之間的正式邦交關係有所損害
 - (C) 花花：故宮博物院隸屬於總統府，國寶出展對於國際之間的文化交流具有重大意義
 - (D) 巴布：將珍貴文物出借給東博進行展覽，其實就是一種與日本進行務實外交的方式
13. 「自由經濟示範區」為政府 2012 年提出的政策，在 2013 年初行政院經建會初步規劃成型，於 2013 年 12 月 26 日行政院院會通過〈自由經濟示範區特別條例草案〉。該草案現今仍在立法院審議中，其間行政院國發會與立法院舉辦多場公聽會，以溝通政策及聽取建言。但朝野各界對該條例草案有不同的看法，有人認為該條例立意雖好但缺失太多，環保團體則認為該條例對環評大鬆綁，無疑是對臺灣環境問題雪上加霜。下列關於文中「自由經濟示範區」政府決策過程之敘述，何者正確？
- (A) 行政院國發會舉辦了多場公聽會以溝通政策，為政策議題認定
 - (B) 立法院審議〈自由經濟示範區特別條例草案〉，為政策合法化
 - (C) 行政院院會通過〈自由經濟示範區特別條例草案〉，為政策合法化
 - (D) 環保團體批評〈自由經濟示範區特別條例草案〉的環評，為政策結果評估

14. 請根據圖(1)月亮國國內各政黨國會席次百分比的折線圖與執政黨派的資料，判斷下列敘述何者正確？
- (A) 月亮國的政府體制應該是屬於議會內閣制
 (B) 依圖中趨勢可知 2015 年將會是由乙黨執政
 (C) 1995 至 2007 年均呈現甲黨一黨獨大的情況
 (D) 丙黨在 2003 與 2011 年均為國會的關鍵少數



圖(1) 月亮國 1995~2011 年國內各政黨國會席次百分比與執政黨派

15. 我國《所得稅法》與《都市更新條例》皆有部分條文在前年與去年被宣告違憲並失效，而《集會遊行法》中「緊急、偶發的集會遊行採許可制」也在今年由〈大法官釋字第 718 號〉宣告違憲，並且即將在明年初失效，然而，目前這些違憲的法律條文亟待修法，但是卻都卡在立法院動彈不得。請問原則上立法院對於法律的修法程序，何者敘述正確？
- (A) 立法院一讀前，先交由程序委員會審定該法案在院會審議的優先順序
 (B) 立法院二讀後，爭議法案得進行黨團協商凝聚共識以利進入三讀程序
 (C) 立法院三讀時，於大會進行逐條討論並更改文字與內容後再逐條表決
 (D) 立法院三讀後，經大法官會議違憲審查後由總統公布與行政院長副署
16. 十二年國教今年正式上路，但其免試入學制度引起許多爭議，第一次免試放榜有許多學生會考成績高分但落榜，其中志願比序及作文比序引起最多反彈，因此有不少家長與考生要求教育部第二次免試取消志願序積分，避免二免再發生高分落榜情形。針對此要求，教育部回應表示，志願序的計分規定屬於地方自治事項，教育部無權要求其修正變更，但提醒地方考區若二次免試欲變更規則，應注意：(甲) 變更程序應依法規規定辦理，變更後必須符合法規所訂會考成績比序比重不得超過三分之一的規定；(乙) 一免既然已經放榜，變更規則應考量到一免學生的公平性以及權益。請問上述(甲)與(乙)依序各是指何項法律原則？
- (A) 法律保留原則、誠實信用原則
 (B) 法律優越原則、誠實信用原則
 (C) 法律優越原則、信賴保護原則
 (D) 法律保留原則、信賴保護原則
17. 今年 5 月臺北捷運發生鄭姓大學生持刀隨意砍殺乘客，造成 4 死 28 傷的喋血事件，新北市政府日前公開表揚當時 5 位見義勇為協助保護其他乘客、救護傷患或制伏鄭姓學生的民眾，另外有一林姓護理師認為自己只是盡本能與本分協助救人，沒什麼好表揚，低調的婉拒表揚。幾位同學看到此相關報導後，各自發表看法，下列對同學的意見所做的道德相關敘述，何者**錯誤**？
- (A) 甲同學：那位林姓護理師認為救護傷患只是盡其本分做該做的事，不為名譽，真令人欽佩——此符合康德(Kant)的義務論
 (B) 乙同學：如果我在場我也會見義勇為，這樣就可以公開接受表揚得到讚美了——此處於柯爾柏格(Kohlberg)道德認知論的相對工具主義階段
 (C) 丙同學：這些見義勇為的人是重視人權，尊重每個人的生命價值，緊急情況下沒考慮那麼多就去幫助他人——此為柯爾柏格(Kohlberg)道德認知論的成規後層次
 (D) 丁同學：我沒學過擒拿術，也沒救護知識，出手相助可能沒制伏兇嫌反被砍一刀，或使患者傷得更重，還是躲開才對——此為邊沁(Bentham)效益論的道德判斷

18. 一名女大生騎機車和另一輛機車於路口發生擦撞後倒地，對方騎士沒有下車察看竟然騎車離去，警方調閱監視器找到一名 19 歲的張姓男子到案說明。張男在市議員的陪同下至派出所製作筆錄，之後由該名市議員居中協調，張男也以三萬兩千元做為女大生的修車與醫藥費，女大生接受道歉且同意不對張男提告，但是警方仍然因為張男涉及肇事逃逸而將其移送法辦。請問關於上述所涉及的法律概念何者為是？
- (A) 此屬於訴訟外的和解，等同於民事契約，但是並不能夠免除張男肇逃的刑責
(B) 此屬於調解委員的調解，但肇事逃逸為公訴罪，不屬於民代可以調解的範圍
(C) 張男若不滿被警方函送法辦，可向地方法院的行政訴訟庭進行交通裁決訴訟
(D) 張男是限制責任能力人，必須與法定代理人連帶負刑事責任，但可減輕其刑
19. 新修正的《提審法》於今年 7 月正式上路，未來非因為犯罪嫌疑而遭到法院以外的行政機關逮捕或拘禁者，都可以聲請提審要求見到法官，以決定行政機關的過程是否違法。此修正法不僅增加提審的聲請人(無論本人或任何其他入)，甚至擴展提審聲請的適用範圍(除了原規定的刑事被告外，未來像是非法居留臺灣的外國人、接受悔過處分的軍人，或是被強制隔離住院的精神病患與傳染病患等人)，都可以在被拘禁逮捕後，要求法官出面審理行政機關是否該將當事人釋放或送回原執行機關。請問此次新修正的《提審法》帶給我們的法律意義為何？
- (A) 避免行政機關濫權，並將我國的羈押權正式回歸給法官
(B) 確保正當法律程序，提審將成為逮捕或拘禁的先行程序
(C) 增加人民司法受益權的訴訟審級，為人權保障確實把關
(D) 擴大人民緊急司法救濟之權，讓法院即時介入行政程序
20. 一位陳姓男子與友人涉及性侵酒醉的女子，陳姓男子及同案被告均表示陳姓男子早已離開現場並未參與性侵，但承審法官以被害女子衣物檢體的 DNA 鑑定，「不排除」混有陳姓男子的 DNA，判斷陳姓男子「可能」參與犯罪，因而判其有期徒刑四年定讞。四年後重啓審判，以較精密的 DNA 技術鑑定，確定排除陳姓男子 DNA，終於還其清白，改判無罪。協助陳姓男子的冤獄平反協會表示，若原案的法官當初能秉持法律原則，就不會造成冤獄，也不必啓動再審機制了。根據上文，請問冤獄平反協會批評當初原案法官沒有秉持法律原則，最主要是基於下列何種考量？
- (A) 法院以不精密的 DNA 鑑定為依據，就將陳姓男子定罪，未遵守證據排除法則
(B) 法院僅以「不排除」、「可能」的理由，就將陳姓男子定罪，有違無罪推定原則
(C) 法院以「有可能」發生的行為類推陳姓男子參與本案而定罪，未落實罪刑法定原則
(D) 法院因陳姓男子「有可能」的犯行就處四年有期徒刑，處罰過當，未符合比例原則

21-22 為題組

採用典型內閣制的星星國完成新一屆的國會議員選舉，480 席的國會議員將採用「單一選區兩票聯立制」，其中的 360 席為區域議席，其餘席次則依政黨比例代表制選出，而政黨席次的分配門檻為 5%。表(2)為該國各黨選後的得票比率與當選的區域席次。

表(2) 星星國國會議員選舉結果(各黨的政黨得票比率與當選的區域席次數)

| 政黨名稱 | 金星黨 | 木星黨 | 水星黨 | 火星黨 | 土星黨 | 合計 |
|-------------|-----|-----|-----|-----|-----|-----|
| 政黨得票率(%) | 35 | 46 | 10 | 4 | 5 | 100 |
| 當選的區域席次數(席) | 150 | 133 | 53 | 2 | 22 | 360 |

21. 從以上資料可以做以下何種推論？
- (A) 木星黨將是星星國的執政黨
(B) 金星黨成為國會中的最大黨
(C) 水星黨會造成國會超額席次
(D) 火星黨將因此喪失國會席位


22. 關於星星國的國會選舉制度，下列的分析敘述何者正確？
- (A) 當國會中區域與名單議席的最大黨分屬不同黨派，亦即「左右共治」的概念
 (B) 有利於大黨，因在小選區獲得多量席次代表後又可在名單議席獲得相當席次
 (C) 選舉制度不利於無黨派者，所以無黨派者將不可能會成為區域代表的候選人
 (D) 較有利於小黨生存，選民的特殊利益容易彰顯，接近比例代表制設計的初衷

23-24 為題組

阿美與凱強未至法院進行夫妻財產制的約定，婚後兩人育有一子二女。多年後阿美發現凱強外遇，且有一私生子，憤怒的阿美與凱強於是完成協議離婚程序，但兩人對子女的監護權爭執不下，因而對簿公堂。凱強欲依法律程序讓私生子認祖歸宗，未料尚未辦理此手續即發生意外死亡，留下 600 萬的財產與 150 萬的債務，以及一封遺書，表示其死後的遺產一切依法辦理，但絕對不留給阿美一分一毫遺產。

23. 根據我國法律規定，請選出文中有關婚姻家庭的正確敘述。
- (A) 凱強須辦理收養手續，其私生子才能在法律上視為婚生子女
 (B) 凱強外遇導致離婚，因此離婚時無過失的阿美即可有剩餘財產差額分配請求權
 (C) 協議離婚為阿美與凱強雙方同意終止婚姻的契約，但須至法院公證及登記才有效
 (D) 阿美與凱強爭執子女監護權，可由法官依子女最佳利益考量，裁判監護權的歸屬
24. 關於凱強死後其遺產的繼承與分配，何者正確？
- (A) 扣除債務後，凱強的三名婚生子女各可獲得遺產 150 萬
 (B) 阿美與其三名子女各得遺產的 $\frac{1}{4}$ ，私生子則無繼承權
 (C) 凱強的子女若想採限定繼承方式，必須於 3 個月內向法院登記
 (D) 雖然凱強的遺囑不讓阿美繼承遺產，阿美仍可得遺產 $\frac{1}{8}$ 的特留分
25. 地名可以被視為一地方歷史的「文化基圖」。課堂上，老師要求舉例說明臺灣的舊地名，並說明其蘊涵之歷史文化意義，何者看法正確？
- 甲：北投、艋舺源於平埔族語言音譯的沿用
 乙：王田、官田是荷據時期墾社制度遺留下來的地名
 丙：木柵、頭圍是漢人為防堵原住民等外力入侵的防禦工事而有的地名
 丁：新營、前鎮為沈葆楨開山撫番軍屯制度遺留下來的地名
 戊：高雄、清水為日治時期出現的地名
- (A) 甲乙丙
 (B) 乙丙戊
 (C) 甲丙戊
 (D) 丙丁戊
26. 2014 年臺灣第一齣原創百老匯音樂劇《重返熱蘭遮》盛大公演。若能穿越時空，重返該地，可以看到的景象是：
- 甲：是一個國際性城市，可見漢人、原住民、荷人、日人、還有來自非洲的黑奴
 乙：市集可以看到蓮霧、芒果、波羅蜜、釋迦、豌豆等蔬果
 丙：附近平埔族社學可見羅馬拼音文字的教學
 丁：英國為了商業發展在安平設立商館
- (A) 甲乙丙
 (B) 乙丙丁
 (C) 甲乙丁
 (D) 甲丙丁

27. 「2014年，考古團隊在臺灣的南部科學工業園區內進行遺址搶救發掘，出土了一件人獸形玉器。根據專家表示，這件玉器的年代距今約2500年，玉質是東部特產的軟玉。由於人獸形玉器在臺灣目前僅出土十餘件，且是臺南地區首次出現，因此意義重大。」根據上述，下列敘述何者正確？
- (A) 開挖的遺址應該屬於新石器時代早期的文化
(B) 當時島上東西部雖然有山脈阻隔但仍有交流
(C) 可以推知此文化已經有相當成熟的製玉技術
(D) 這類玉器在臺不多見應自中國大陸貿易而來
28. 阿西在地方上頗具影響力，這分影響力多半奠基在其經濟實力上。他的幾個兒子就是因為向政府捐獻而獲得不錯的頭銜和職務。他們的收入主要依靠土地，雖然這些土地在名義上並不是他的，但他依然能放租收取租金。根據上文，阿西最有可能是臺灣哪個時代的人？
- (A) 荷治時期
(B) 清領時期
(C) 日治時期
(D) 中華民國時期
29. 西螺大橋是一座橫跨臺灣濁水溪的鐵橋，1950年代初期完工，是東亞地區第一大橋，也是僅次於美國金門大橋的世界第二大橋。橋身鑄有「中美合作」的印記，是當時臺灣歷史發展的一個註腳。新橋通車之際，下列敘述何者正確？
- (A) 臺灣的經濟發展階段正值出口擴張的時期
(B) 美國以經濟援助換取臺灣對美國與中共建交的認同
(C) 臺灣的文化在當時的情勢下，以反共懷鄉文學為主
(D) 美國以《臺灣關係法》將臺灣納入圍堵共產勢力的防線
30. 電影《KANO》所描述的是1930年代，一支來自臺灣的棒球隊進軍日本夏季甲子園大會的故事。電影有一幕是球員在河邊跑步訓練，遇到了正在搭船巡視水利工程的日本技師，該人也對球員豎起大拇指鼓勵。未久，工程竣工，使得臺灣的經濟發展也邁入了新的里程碑。依據上述這一項工程應該所指下列何者？
- (A) 桃園大圳
(B) 八堡圳
(C) 石門水庫
(D) 嘉南大圳
31. 圖(2)是桃園縣一間經過重新整修後的歷史建築物的招牌。根據史書的記載，在清代劉銘傳經營臺灣時期，為了開發資源，設置隘勇線而與當地原住民發生戰爭。到了日治初期，日本人至此控制該地區的資源。文中「開發資源」應指下列何者？
- (A) 茶葉
(B) 樟腦
(C) 糖
(D) 鹽
32. 《漢書》記載：「郡舉賢良，對策百餘人，武帝善助對，由是獨擢助為中大夫。後得朱買臣、吾丘壽王、司馬相如……等，並在左右。……屢舉賢良文學之士。公孫弘起徒步(平民)，數年至丞相。開東閣，延賢人與謀議，朝覲奏事，因言國家便宜。」前述反應漢武帝時期的何種現象？
- (A) 削弱相權
(B) 重農抑商
(C) 察舉制度
(D) 獨尊儒術






圖(2)

33. 學者分析某史事的背景原因：

- (一) 軍事方面：疆域南向擴展以達淮水流域，鞏固了南方的統治。
 - (二) 政治方面：君主有統一中國之志，必須仰賴漢制以收長治久安之效。
 - (三) 文化方面：以形勢而論，洛陽似不如鄴；然以教化而論，則洛陽遠勝於鄴。
- 以上敘述可得知某史事最可能是：

- (A) 前秦苻堅發動肥水之戰
- (B) 忽必烈行二元統治
- (C) 北宋末靖康之禍
- (D) 北魏孝文帝推行改革


34. 十九世紀末，中國爆發某場事件，時人記載：「若紙煙，若小眼鏡，甚至洋傘、洋襪，用者輒置極刑。曾有學生六人倉皇避亂，因身邊隨帶鉛筆一支，洋紙一張，途遇團匪搜出，亂刀並下，皆死非命。羅稷臣星使之弟熙祿，自河南赴津，有洋書兩箱，不忍割愛，途次被匪繫於樹下，過者輒斫，匪刀極鈍，宛轉不死，仰天大號，顧以為樂；一僕自言相從多年，主人並非二毛，亦為所殺，獨一馬夫倖免。其痛恨洋物如此。」這場事件與下列選項中哪一幅圖有關？



35. 學者對清朝一場戰事的描述如下：「……1800年下半年起，清軍堅壁清野、寨堡團練的戰術取得了明顯效果。川、楚、陝農民起義軍遭清軍多次打擊，力量逐漸衰弱，……戰爭前後延續了九年，數十萬起義軍遭到殺戮。清政府為了鎮壓起義，調動了十六省數十萬軍隊，消耗軍費銀二億兩。」根據描述，這場戰事結束後對清朝造成何種影響？

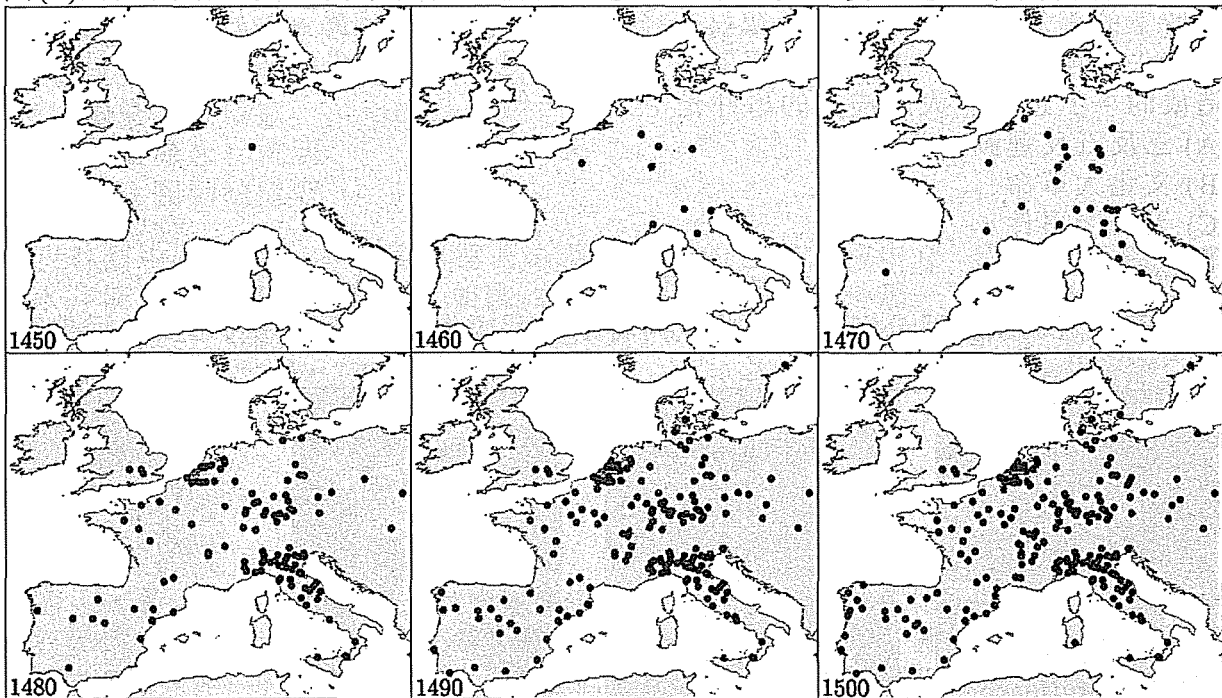
- (A) 結束地方割據勢力，極權中央，皇權自此奠基
- (B) 造成清廷府庫空虛，財政拮据，國勢從此中衰
- (C) 加強地方督撫權力，實施釐金，地方因此安定
- (D) 導致社會動盪不安，革命紛起，武昌起義成功

36. 阿坤在大陸旅遊時，看到一尊名叫「定遼大將軍」的佛朗機火炮，由吳三桂捐錢鑄造，此砲經歷過許多戰役。下列哪一場戰役最可能看到它的身影？
(A) 豐臣秀吉入侵朝鮮
(B) 戚繼光勦滅倭寇
(C) 努爾哈赤起兵抗明
(D) 清軍入關勦滅流寇
37. 小明看到中國明代一本名為《遠西奇器圖說》的古書，書中介紹水井使用絞盤打水的原理，如圖(3)所示。這最有可能是那一個組織的人士所編輯的書籍？
(A) 英國國教會
(B) 英國長老教會
(C) 天主教耶穌會
(D) 天主教道明會
38. 阿德看到書上記載一個故事：「天寶九年某日，有一位名叫鄭六的人，晚上跟朋友一起去新昌坊的酒館喝酒。途中，鄭六臨時有事去升平坊，路上巧遇一位絕色女子任氏，兩人一見鍾情，於是共度春宵。天亮之前，鄭六離開任氏的家來到坊門附近，坊門還沒有開，但是門旁有胡人的餅子鋪還在點燈賣餅。鄭六便跟餅子鋪主人閒聊，當問起昨夜的絕色女子是哪家小姐時，怎知該女子竟是一個狐仙……。」前述故事的背景最可能發生在什麼時代？
(A) 唐朝
(B) 宋朝
(C) 元朝
(D) 明朝
39. 小說《水滸傳》裡對林冲英武形象的形容：「原為東京八十萬禁軍槍棒教頭，生得豹頭環眼，燕頰虎鬚，身長八尺，人稱『豹子頭』，又喚『小張飛』。善使槍棒，有萬夫不當之勇。」宋代禁軍駐守京師，人數達百萬，裝備精良，是國家的重要武裝力量。宋代禁軍形成的主因為何？
(A) 皇帝命宦官統率
(B) 朝廷強幹弱枝
(C) 重文輕武國策
(D) 進行軍事屯墾
40. 毛澤東某次訪問蘇聯後，於回國感想中提到：「害得我三年不能吃雞蛋，不能吃雞湯，因蘇聯有篇文章說不能吃雞蛋和雞湯，後來又說能吃。不管文章正確不正確，中國人都聽了，都奉行了。總之，是蘇聯第一。」文句中透露出對於蘇聯的不滿。當時毛澤東是跟哪一位蘇聯領導人產生歧見？
(A) 赫魯雪夫
(B) 史達林
(C) 列寧
(D) 戈巴契夫
41. 自1948年以色列建國以來衝突不斷，至2014年，以色列與加薩走廊的哈瑪斯組織又爆發嚴重的武裝衝突，雙方死傷慘重，中東局勢再次陷入混亂的局面。前述該地上古時代，哪一個政權間接使得猶太人重新回到巴勒斯坦地區建立家園？
(A) 羅馬
(B) 迦太基
(C) 埃及
(D) 波斯



圖(3)

47. 圖(4)為歐洲某歷史事實半世紀的發展示意。「某歷史事實」應為下列何者？



圖(4)

- (A) 黑死疫情的擴散
(B) 中古大學的設立
(C) 新教改革的據點
(D) 印刷技術的分布

48. 新約聖經的編定，大抵始於西元 325 年尼西亞大公會議的決議，是基督宗教發展過程中第一次的世界性主教會議，確立了羅馬帝國以政領教的傳統，也確定了基督教教義正統與異端的裁定。請問，這件事發生於哪位皇帝在位時期？

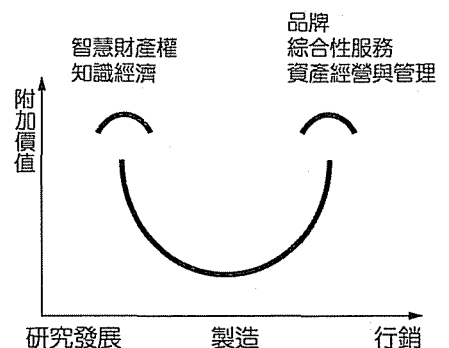
- (A) 屋大維 (B) 君士坦丁 (C) 狄奧多西 (D) 查士丁尼

49-50 為題組

◎ 每天，有三十萬人造訪「韓國時尚的矽谷」——東大門，年產值四千四百億臺幣，相當於臺灣紡織業一年產值，方圓不到三平方公里的東大門商圈，完整保留了從設計、品牌、製造到銷售通路的完整產業鏈，擁有高達一萬名設計師，平均一個店家一星期出二十款新設計，最多在架上兩週(摘錄自天下雜誌 546 期，東大門逆轉全球化的奇蹟)。

49. 圖(5)是高科技產業的微笑型附加價值曲線，東大門的服飾產業已使傳統的紡織業改頭換面，請問東大門成衣產業的最主要成功的因素為何？

- (A) 東大門提供了大量的工作機會，讓勞力成本降低，而使製造成本降低
(B) 東大門因為擁有大量消費者，所以可以達到規模經濟，讓行銷成本降低
(C) 東大門的眾多設計師，使成衣設計能夠時時創新，提升附加價值
(D) 東大門所聚集的完整產業鏈，縮短了運輸成本，因此集貨費及分配費大量降低，節省成本



圖(5)

50. 依據本文中所提的東大門成衣產業生產相關內容顯示符合何種現象？

- (A) 全球分工 (B) 產業聚集
(C) 產業升級 (D) 產業轉移

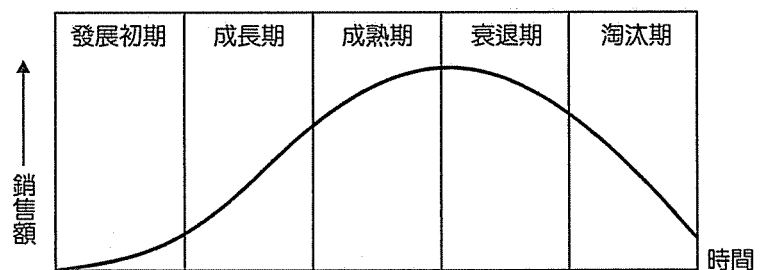
51-52 為題組

- ◎ 日本企業告別九〇年代派遣風潮，開始大規模地將約聘人員轉為「有條件限制」的正職——區域限定員工。「區域限定員工」也算是正式員工的一種，但工作內容比一般正職員工單純，薪水只有他們的八、九成，但不必加班，也不會被要求調到外縣市，擁有正式員工的頭銜和福利，又享受非正職的彈性，在這段日本景氣復甦之前的過渡時期，因為區域限定員工的薪資較低，成為日本企業人事管理的第三選項(摘錄自天下雜誌 546 期，約聘扶正 日本就業見起色?)
51. 依據本文所提的「區域限定員工」，下列特色何者為非？
- (A) 對於已婚未就業女性是一項契機
(B) 降低離職率
(C) 工作據點結束營業可能成為「拋棄式員工」
(D) 工作績效不如正職員工高，才成為區域限定員工
52. 日本企業給予「區域限定員工」的工作彈性大，主要是協助解決這些員工有許多的「非工作因素」(如家庭、小孩等)顧慮，請問如果套用「推拉理論」來解釋這種現象，那這些「非工作因素」可稱之為何？
- (A) 推力
(B) 拉力
(C) 中間障礙
(D) 交互作用

53-54 為題組

◎ 根據智慧型手機平均生命週期，在高階機種部分現在已經縮短到三個季度就推出一款新手機；至於中低階手機部分，幾乎每一個季度就推出一款新手機(摘錄自財訊雙週刊 449 期，p.181)。

53. 圖(6)為產品生命週期簡圖，假設每一期的時間大致相當，依據本文所提高階機種與中低階機種的生命週期比例而言，請問兩款機種同時發售，當中低階機種走到衰退期時，高階機種的生命週期約走到哪一個階段？



圖(6)

- (A) 發展初期
(B) 成長期
(C) 成熟期
(D) 衰退期
54. 臺灣無線網路發展即將邁入新里程，4G 行動上網的頻寬是現行 3.5G 的 10 倍之多。若我們將 3G 或 ADSL 比喻成四線道的省道，4G 行動上網就如同十線道的高速公路，使用者將可享受真正寬頻行動上網的便利，請問這在知識經濟領域中屬於哪一項？
- (A) 知識密集傳統產業
(B) 知識密集新興產業
(C) 知識密集服務產業
(D) 教育文化業

55-56 為題組

◎ 亞洲是世界七大洲中面積最大、人口最多的一洲。

55. 關於亞洲的地形，下列敘述何者正確？
- (A) 亞洲的地勢西高東低
(B) 亞洲平均海拔九百五十公尺，是世界上地勢最高的大洲
(C) 西伯利亞屬於古老結晶岩地塊
(D) 西亞的地形以乾燥的臺地為主體

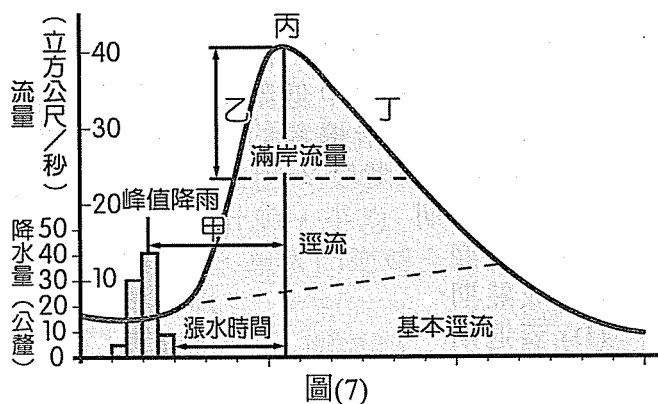
56. 關於亞洲的特色，下列敘述何者正確？
- (A) 整個亞洲均位在北半球
 - (B) 亞洲缺乏溫帶海洋性氣候
 - (C) 受到地形的限制，亞洲的河川大致呈現格子狀
 - (D) 最近國內不安寧的烏克蘭全境也屬於亞洲的一分子

57-58 為題組

◎ 陸地隆起或是海平面下降稱之為離水，反之稱之為沉水，離水與沉水會造成許多特別的地形，讓世界更加的多彩。

57. 下列哪一種地形，可以證明曾經發生過離水現象？
- (A) 海階
 - (B) 鼓丘
 - (C) 襲奪河
 - (D) 沖積扇
58. 下列哪一種地形，可以證明曾經發生過沉水現象？
- (A) 三角江
 - (B) 河蝕壺穴
 - (C) 海蝕平臺
 - (D) 濱外沙洲
59. 邱念農業區位論和韋伯工業區位論，都是利用何項要素來詮釋地表的空間變化？
- (A) 地價高低
 - (B) 交通易達性
 - (C) 政策友善度
 - (D) 距離
60. 曾經有人發現高屏溪是個溺谷，因此另外有人推論臺灣山上必定有很多的冰河地形，請問這樣的推論是依據何種邏輯？
- (A) 年雨量暴增，山洪頻發
 - (B) 陸地隆起導致過去的山脈比較高
 - (C) 海平面下降、山脈較高、氣溫較低
 - (D) 全球暖化

61. 根據報載，連日來，重慶到三峽庫區水域降暴雨。9月2日2時~8時，2014年以來最大洪水抵達三峽水庫，洪峰流量達每秒49000立方公尺，三峽樞紐發揮攔洪削峰作用，50%洪水攔蓄於水庫內……。圖(7)為水文歷線圖。請問：上文中所說的「洪水」、「洪峰流量」分別是圖中哪些代號？

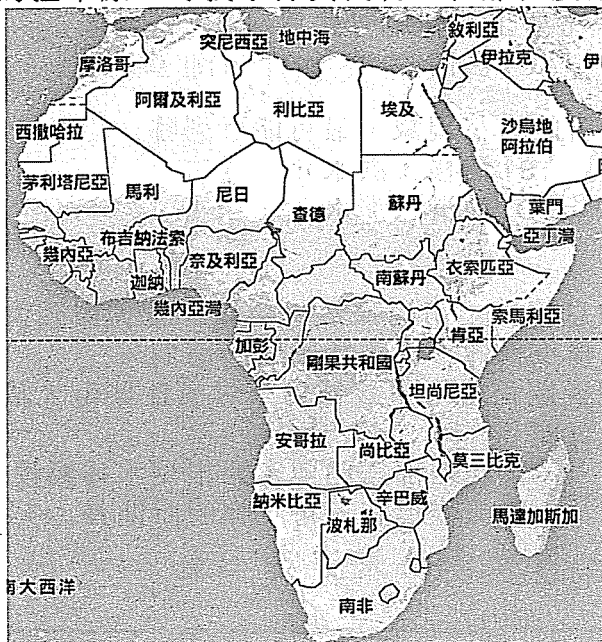


- (A) 甲乙
 - (B) 乙丙
 - (C) 甲丙
 - (D) 乙丁
62. 中國葉培建院士曾經分析，若要利用衛星「搜尋」失聯的客機，飛機必須有電子信號，且衛星具有足夠的解析度。所謂足夠的解析度是指飛機正在移動，正好有衛星掃過，同時，衛星必須能夠呈現出飛機的大小，失聯的客機才有機會被找到……。請問：上文中指的是下列哪兩種解析度特性？
- (甲) 空間解析度：影像記錄現象的可辨識程度
 - (乙) 時間解析度：衛星通過同一地區的週期
 - (丙) 光譜解析度：衛星感測器能偵測的電磁波光譜範圍
 - (丁) 輻射解析度：地表反射的輻射進入感測器的能量大小
- (A) 甲乙
 - (B) 乙丙
 - (C) 丙丁
 - (D) 甲丁

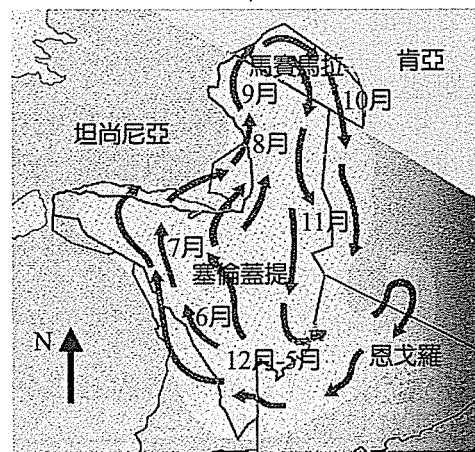
63. 該國長年為軍政府控制，開發緩慢；近年，隨著軍政府的開放，外國資金不斷的流入。尤其是中國為了突破「麻六甲咽喉」的控制，建立可直通印度洋的連線，更重視與該國的合作，請問哪一特色符合該國之敘述？
- (A) 亞洲四小虎之一 (B) 恆河三角洲為該國的精華區
(C) 吳哥窟為該國之重要觀光景點 (D) 為避免受海上的侵擾，近年遷都
64. 中東的大小紛爭不斷，導致多國難民湧現，若某阿拉伯國家的穆斯林欲逃離故鄉紛亂，到歐盟國家避難，但不經過海路的話，欲走最短距離至歐盟國家一定得經過以下哪一個國家？
- (A) 伊朗 (B) 土庫曼 (C) 土耳其 (D) 喬治亞

65-66 為題組

- ◎ 在自然界裡，動物遷徙是偉大的壯舉。每年五、六月，坦桑尼亞進入乾季，八、九月間，糧草將盡，賽倫蓋提(Serengeti)一百萬頭以上的黑尾牛羚，往北移動到肯亞的馬賽馬拉草原，尋找水源與食物，在那裡度過一、兩個月後，又返回南部。



圖(8)



圖(9)

65. 上文中，動物發生大規模遷移，主要與下列哪一個風帶季節移動有密切關係？
- (A) 極地氣旋帶
(B) 西風帶
(C) 東風帶
(D) 間熱帶輻合帶
66. 上述地區所屬的自然景觀帶，具有下列哪兩項特色？
- (甲) 動物垂直分層覓食
(乙) 有機質豐富，土壤呈現中性
(丙) 植物的皮厚、根深
(丁) 降水量大於五百毫米以上
- (A) 甲乙
(B) 甲丁
(C) 乙丙
(D) 丙丁

67-68 為題組

◎ 2009 年 8 月 8 日，太麻里流域遭受颱風侵襲，上游發生塊體崩壞，其中一處形成天然堰塞湖，下游地區的交通設施與房舍則受損嚴重。請根據圖(10)、圖(11)回答下列問題：



圖(10) 2007 年



圖(11) 2009 年

67. 請根據影像圖判釋，2007 年，河流左岸主要土地利用方式為何？
(A) 魚塢 (B) 泥地 (C) 農田 (D) 墓地
68. 根據影像圖判釋，導致下游地區發生災害的自然現象，最可能下列哪一組？
(A) 山崩、洪水 (B) 潛移、洪水
(C) 土石流、洪水 (D) 地滑、洪水

69-70 為題組

◎ 2013 年 7 月美國底特律宣布破產，消息傳出，市場嘩然。該城曾是美國五大城市之一，擁有許多美國第一的紀錄，如今風華不再，令人不勝唏噓。請問：

69. 底特律的發展成今日狀況，與其都市機能關係密切，該城為一專業性城市，請問以下哪一條件與該城市之最重要機能的發展有關？
(A) 五大湖區水運便捷 (B) 中西部鐵路與密西根湖水運輻輳點
(C) 緊鄰阿帕拉契山脈南部煤產區 (D) 氣候溫和，可工作的時間長
70. 衝擊底特律該專業性城市的發展的因素包括：
(甲) 原料日益枯竭
(乙) 石油危機
(丙) 交通革新的發展
(丁) 人口老化日益嚴重
正確的有哪些？
(A) 甲乙 (B) 乙丙 (C) 丙丁 (D) 甲丁

71-72 為題組

◎ 2014 年 9 月，蘇格蘭進行獨立公投，此公投事件備受歐盟國家矚目，若蘇格蘭獨立後仍可留在歐盟，此對許多歐盟國家或地區，將產生相當大的影響，尤其是許多存在地方分離主義之區域，均在觀察歐盟如何處理蘇格蘭此個案。請問：

71. 以下哪一歐盟國家曾因種族與宗教等問題，出現分離主義而紛爭不斷？
(A) 芬蘭 (B) 土耳其 (C) 匈牙利 (D) 賽普勒斯
72. 蘇格蘭欲獨立除了民族因素外，經濟亦為重要原因。金融危機後，蘇格蘭從英國政府獲得利益相對減少，若獨立，蘇格蘭的許多經濟優勢足以支持其成為一個國家。請問蘇格蘭若獨立，最可能從何項產業發展獲利大增？
(A) 石油 (B) 金融 (C) 觀光 (D) 高科技產業