

臺北區 103 學年度第一學期
第三次學科能力測驗模擬考試

社會考科

—作答注意事項—

考試時間：100 分鐘

題型題數：

- 單選題：共 72 題

作答方式：

- 用 2B 鉛筆在「答案卡」上作答；更正時，應以橡皮擦擦拭，切勿使用修正液（帶）。
- 未依規定畫記答案卡，致機器掃描無法辨識答案者，其後果由考生自行承擔。

單選題 (占 144 分)

說明：第 1 題至第 72 題皆計分。每題有 4 個選項，其中只有一個是正確或最適當的選項，請畫記在答案卡之「選擇題答案區」。各題答對者，得 2 分；答錯、未作答或畫記多於一個選項者，該題以零分計算。

- 香港泛民主派人士為爭取香港特首實質普選，於 2014 年 9 月 28 日發起「讓愛與和平占領中環」(簡稱占中運動)，結果上萬香港民眾癱瘓中環，香港警方多次使用催淚彈，驅散示威堵路人潮。下列關於此事件之敘述，何者正確？
(A) 占中運動主要訴求特首「真普選」，此屬於第二代新興人權內涵
(B) 根據國家構成要素，香港因為缺乏「主權」，故性質上不屬於國家
(C) 占中運動與強調理性、合法、非暴力之「公民不服從」理念相符合
(D) 香港旅遊業認為活動影響大陸「十一」長假商機，此可謂占中運動之外部效益
- 「麥當勞」、「肯德基」是西洋速食文化的代表商家，在臺灣各地都可見到它們，表面看似已被美式文化攻占，事實上卻保有臺灣文化的內涵，「米漢堡」「生菜燒餅」就是結合臺灣文化的最好例子，以西式漢堡結合東方飲食習慣，創造出全新產品。這一事例，給我們什麼啓示？
甲、全球化和本土化，彼此間可以兼容並蓄
乙、歐美文化是主流文化，將消滅在地文化
丙、文化應依循物競天擇、適者生存的法則
丁、文化的發展應該是異中求同、同中存異
(A) 甲乙 (B) 甲丁
(C) 乙丙 (D) 丙丁
- 「第三部門」獨立於公部門和私部門之外，社會學界普遍認為「第三部門」的興起有助於公民社會的運作，請問下列何者具有第三部門的性質？
(A) 鴻海科技集團 (B) 經濟部工業局
(C) 富邦金控集團 (D) 消費者文教基金會
- 升學考試在即，高中生甄上進複習公民課本，關於推動「公共利益」時，常遭遇到的三種難題，整理筆記如表(1)，請問：表中之(甲)(乙)(丙)依序為何？

表(1)

(甲)	1. 產生原因—人們所嫌惡之公共設施 2. 解決方式—完善評估，衝突雙方能溝通，尋求共識
(乙)	1. 產生原因—人們不勞而獲之期望心理 2. 解決方式—透過討論，訂定大家遵守法律或規範
(丙)	1. 產生原因—人們濫用大自然資源 2. 解決方式—政府或國際組織，訂定政策，避免汙染浪費

- (A) 搭便車→迎毗效應→草原悲劇 (B) 迎毗效應→搭便車→草原悲劇
(C) 共有財悲歌→搭便車→鄰避效應 (D) 鄰避效應→搭便車→共有財悲歌
- 旺旺中時媒體集團於 2011 年，向 (甲) 提出併購有線電視系統業者中嘉網路，此「旺中案」被學者質疑造成媒體集中壟斷。2012 年 901 記者節當日，民眾走上街頭抗議，主要訴求「反媒體壟斷」和保護 (乙)。2013 年 2 月 (甲) 認定「旺中案」三項條件未實現，此購併案不予通過。請問文中(甲)(乙)依序為？
(A) 行政院新聞局，人身自由 (B) 公平交易委員會，集會自由
(C) 國家通訊傳播委員會，言論自由 (D) 國家金融管理委員會，結社自由

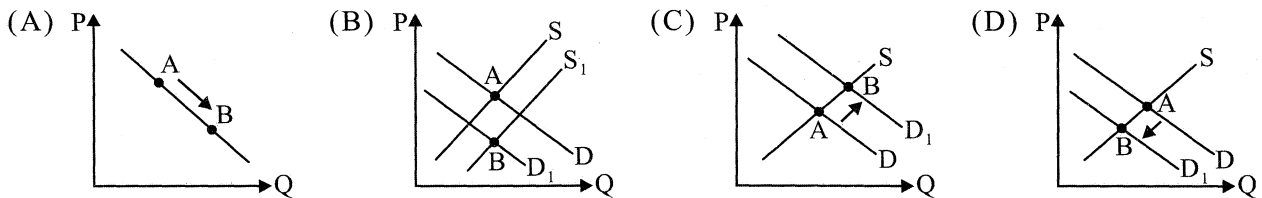
6. 下列敘述中的行政處分，在經當事人申訴或訴願失敗後，當事人不服結果，哪些可以提起「行政訴訟」？
- 甲、高中生二光學期成績和操行均不及格，遭退學處分
乙、高中生小超期中考時作弊，依校規將其記二支小過
丙、高中生阿暎上公民課睡覺，且期末考不及格，以致公民科被當
丁、大學生團神申請成立新社團，校方以程序不符規定，拒絕其申請
戊、大學生俏克曠課時數過多，教授將其扣考，不允許其參加期末考試
- (A) 甲乙丙 (B) 乙丙丁 (C) 甲丙戊 (D) 甲丁戊
7. 部分國人為讓孩子取得美國籍，會特別赴美生產。且孕婦只要有繳健保費，在診斷書上有說明屬於不可預期傷病，回臺後申請核退部分生產醫療費，我國政府大多會核准退費。杜凱琪和傅子杰均為我國國民，他們選擇到美國生下小孩，從我國與美國國籍法來看，其子最有可能取得的國籍為下列何者？
- (A) 無法取得我國國籍，但取得美國國籍 (B) 取得我國國籍，但無法取得美國國籍
(C) 取得我國國籍且取得美國國籍 (D) 無法取得我國國籍，且未取得美國國籍
8. 我國某省轄市公民欲提出增設「市立殯儀館」的公民投票案。若該市總人口為 100 萬人，最近一次選舉市長時的選舉人總數為 80 萬人。依據我國公民投票法的規定，該公民投票案通過之條件為何？
- (A) 40 萬人以上投票，有效票中同意票為 50% 以上
(B) 50 萬人以上投票，有效票中同意票為 50% 以上
(C) 10 萬人以上投票，有效票中同意票為 75% 以上
(D) 40 萬人以上投票，有效票中同意票為 75% 以上
9. 美國總統歐巴馬在 2014 年 4 月 24 日以國賓身份出訪日本，預計展開美日高峰會談，討論 TPP(跨太平洋戰略經濟夥伴關係協議)、美軍基地與釣魚臺等議題。如將「日本」：「美國」政府體制做比較，請選出正確的配對？
- 甲、虛位元首：實權元首
乙、具副署制度：不具副署制度
丙、行政立法連結：行政立法分立
丁、國會可彈劾元首：國會不可彈劾元首
戊、閣員不可兼任議員：閣員可兼任議員
- (A) 甲乙丁 (B) 乙丙戊 (C) 甲乙丙 (D) 甲丁戊
10. 父母雙亡且未婚的大林有一兄二姊，兄(大光)育有一子，長年無音訊；兩位姊姊經常照顧大林生活起居，長姊(大英)為養女。近日大林因車禍身故，留下遺產 900 萬元。大光妻攜子前來，表示大光去世多年，大林遺產應由具血緣關係之林家後代處理，主張大英無權繼承。下列關於大林遺產繼承權之敘述，何者正確？
- (A) 大光雖然已經離世，其妻仍對大林之遺產擁有繼承權
(B) 大英如果想拋棄繼承，必須先指定其應繼分由誰承接
(C) 大林的姊姊們是因為善盡照顧大林的責任，才享有繼承權
(D) 收養為擬制血親，大林之嫂主張大英無權繼承，於法無據
11. 以下是好友四人看完電影中法庭精彩對話後的感想，何者敘述正確？
- 阿沁：檢察官好威風喔！可以超然獨立運作，不受任何人的指揮
嘉妮：法官依據法律審判，並要指揮訴訟程序的進行，令人佩服
偉德：擔任律師能協助民眾進行訴訟，亦能給予專業的法律意見
芮芮：我要當公設辯護人，主動調查犯罪集團，將他們繩之以法
- (A) 阿沁、嘉妮 (B) 偉德、芮芮 (C) 阿沁、芮芮 (D) 嘉妮、偉德

12. 政府每年花近 12 億元經費，砸重金設立公共托嬰中心或補助公設民營托嬰中心，少數抽中的托育者，可獲得相當於 9 萬 7 千多元補助，而其他 98.8% 的家庭卻無法享有此項福利；目前全國 55 間公共托嬰中心，有 26 間在新北市、12 間在臺北市，造成社福資源集中在都會地區，反而拉大城鄉差距。關於設置「公共托育中心」敘述，下列何者正確？

- 甲、提高整體社會資源使用效率
- 乙、投資效率需經成本效益評估
- 丙、符合公共財無法排他的特性
- 丁、會造成民眾「搭便車」現象
- 戊、容易造成政府支出規模擴大

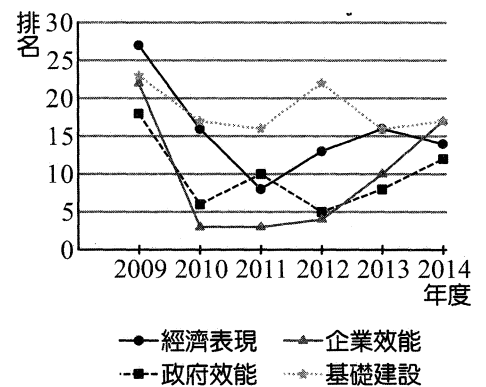
- (A) 甲丁 (B) 乙戊 (C) 乙丙 (D) 丙戊

13. 2014 年的中秋節前夕爆發「餓水油」事件，讓全臺再次陷入食安危機，許多糕餅老店的中秋月餅，民眾不敢買也不敢吃。根據上述內容，可用下列哪一個圖形表示今年中秋節月餅市場的供需情況？



14. 一個高度競爭力的國家，除了能有效率地促進經濟發展外，在遭遇經濟危機或重大災害時，也能彈性的處理負面衝擊。圖(1)為瑞士洛桑管理學院所做之 2009~2014 臺灣的世界競爭力評比報告，根據年報圖表資料判斷，臺灣 2014 年哪一個向度最具競爭力？

- (A) 政府效能
- (B) 經濟表現
- (C) 企業效能
- (D) 基礎建設



圖(1)

15-16 為題組

◎ 以下為「風光明媚逍遙自在王國」國會議員選舉結果，此次選舉採行單一選區兩票制，共計選出 200 名國會議員，其中單一選區相對多數的席次是 100 席。請根據表(2)資料回答以下問題：

表(2)

政黨	風光黨	明媚黨	逍遙黨	自在黨	總計
區域已當選人數	30 席	40 席	25 席	5 席	100 席
政黨得票率	38%	46%	12%	4%	100%

15. 若該國選舉採行「並立制」且當選門檻設為 5%，則「自在黨」總共可在國會中獲得幾席？

- (A) 9 席 (B) 5 席 (C) 4 席 (D) 0 席

16. 若該王國採「聯立制」的選舉制度，則「逍遙黨」在國會中，將擁有多少席次？

- (A) 24 席 (B) 25 席
(C) 49 席 (D) 50 席

17-18 為題組

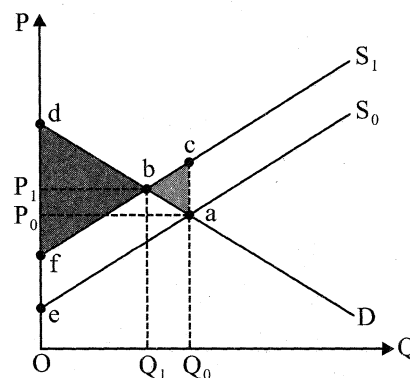
◎ 高雄氣爆事故(又稱高雄石化氣爆事件)，2014年7月發生在臺灣高雄市前鎮區與苓雅區的多起石化氣爆炸，目前已知有32人死亡、308人受傷，經初步調查，應為丙烯爆炸所致。傷亡者中包括接受民眾報案疑似有瓦斯洩漏而前往援助、調查的消防隊員和環保署毒災應變隊員，並造成高雄多條重要道路嚴重損壞。高雄市政府、工務局長、捷運局長與水利局長，隨即請辭獲准。

17. 上述這幾位地方官員的請辭，體現了民主政治的何種基本原則？

- (A) 政黨政治 (B) 民意政治 (C) 責任政治 (D) 法治政治

18. 高雄發生嚴重氣爆，導致許多人喪失了生命和家園，長榮化工的疏忽卻造成高雄人民必須共同承擔家園巨變。 S_0 ：為私人成本線； S_1 ：為社會成本線，原均衡點為a點。請問：氣爆所產生的外部成本，應是圖中的哪一部分面積？

- (A) bdf
(B) abfe
(C) ade
(D) acfe



圖(2)

19-20 為題組

◎ 在媒體報導某店家使用對人體有害的材質製作內衣褲販賣後，許多民眾不約而同聚集該店家門前抗議，但店家拉下鐵門拒不回應。民眾為表達不滿，排隊繞行店家周圍並呼口號，要求店家具體回應。抗議行列中因有民眾隸屬於某消費者保護團體，遂在抗議繞行結束後，自發地與在場民眾分享如何保障消費者權益。

19. 上述排隊繞行店家周圍並呼口號的行為，是在行使憲法所保障的何種基本權利？

- (A) 受益權 (B) 參政權 (C) 自由權 (D) 請願權

20. 上文中民眾的聚集，因未得事前許可，恐有違法。然日前大法官解釋，認為有其他侵害更小的方式可規範此類聚集，而宣告須得到事前許可的規定違憲。對於前述的聚集型態，現行規定違反下列哪項法治國的基本原則？

- (A) 平等原則 (B) 比例原則 (C) 法律保留原則 (D) 行政中立原則

21-22 為題組

◎ 以下是我國刑法關於擄人勒贖行為的部分修正前後條文對照表，本次修法是依據公民與政治權利國際公約規定，凡未廢除死刑的國家，若不是犯情節重大之罪，不得科處死刑。

修正條文	原有條文
第三百四十七條 意圖勒贖而擄人者，處無期徒刑或七年以上有期徒刑。 因而致人於死者，處死刑、無期徒刑或十二年以上有期徒刑；致重傷者，處無期徒刑或十年以上有期徒刑。	第三百四十七條 意圖勒贖而擄人者，處死刑、無期徒刑或七年以上有期徒刑。 因而致人於死者，處死刑、無期徒刑或十二年以上有期徒刑；致重傷者，處死刑、無期徒刑或十年以上有期徒刑。

21. 根據上文所述，下列何者較符合本次修法的理由？

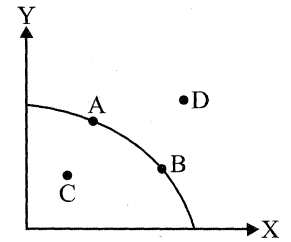
- (A) 未導致喪命的綁架，並未剝奪被害人生命，非屬可判死刑的情節重大之罪
(B) 公民與政治權利國際公約雖不具國內法律效力，但屬國際公約，仍應遵守
(C) 我國社會對於廢除死刑已有共識，故將逐年修改現行刑法關於死刑的規定
(D) 修正後之刑法條文，較能夠符合罪刑法定主義中的禁止絕對不定期刑原則

22. 原有條文以嚇阻潛在的犯罪行為人為目的，此係基於以下何種理論來思考刑罰目的？
(A) 綜合理論 (B) 應報理論 (C) 一般預防理論 (D) 特別預防理論

23-24 為題組

◎ 伊波拉病毒死亡事件，重創西非地區。其中，獅子山的農業活動深受打擊。獅子山農業部長 Joseph Sam Sesay 在接受《BBC》採訪時表示，該國經濟活動已因伊波拉下降了 30%，其中農業所受影響最劇，因為獅子山約有 66% 人口都是農民。目前正值栽種季節，但農業活動被中斷，可以預見未來必定會有糧食短缺與食品漲價的問題。

23. 假設 X 與 Y 為獅子山國的兩種重要農作物，圖(3)表示生產 X、Y 之生產可能線，比較圖(3)中各點的資源使用效率，下列敘述何者正確？



圖(3)

- (A) $A > B > C > D$
(B) $A = B = C = D$
(C) $A = B > C$
(D) $A = B = D > C$
24. 根據上述內容，在勞動人口無法移動的短期下，該國的農業生產點，目前落在圖(3)中的哪一個位置？
(A) A 點移至 D 點，表示超越現有資源使用
(B) A 點移至 B 點，表示增加 X 財貨生產
(C) A 點移至 C 點，表示有資源閒置的現象
(D) 維持 A 點組合表示現有資源的充分運用
25. 有學者在論及中國某項制度時，提出如此看法：「在君主與宰相之間存在著一些具有特殊功能的秘書、諮詢機構……(君主)蟄居深宮之中最後決策，與遠在宮城外的宰相相互接近和議政越少，秘書、諮詢機構的存在與發展也就越有必要性……它們可以不同程度地，有時甚至是極大程度地影響君主最後決策。」請問，這位學者所探討的可能是下列何者？
(A) 三公的設立 (B) 內朝的發展 (C) 宦官的干政 (D) 內閣的形成
26. 英國博物學家羅伯特·斯文豪(Robert Swinhoe)曾多次來臺灣進行探險，在臺灣的動植物發現、命名史上占有重要地位，如藍腹鸚不僅在學名中冠以 Swinhoe 之名，在西方更被稱為「斯文豪的雉雞」。這位博物學者曾在英法聯軍中擔任隨軍翻譯，後來成為首任英國駐打狗領事，並協助處理樟腦糾紛，在清代的外交檔案中則被稱為「郇和」、「史溫侯」。根據你對臺灣歷史的瞭解，斯文豪在臺灣活動的時間應該是在何時？
(A) 1800 年代 (B) 1840 年代 (C) 1860 年代 (D) 1900 年代
27. 文藝復興和啓蒙運動皆對西方思想有重要的影響，兩者皆奠定了近代歐洲思想的基礎，關於二者的共同點敘述正確的是：
(A) 反對開明專制，強調三權分立 (B) 反對民族國家，強調封建體制
(C) 反對教會迷信，推崇人的價值 (D) 反對宗教藝術，主張生活寫實
28. 每年六月七日，是大陸高中生升大學舉行高考的日子。其實，在中國建國初期，也曾舉行過高考，但到了一九六六年，中共中央和國務院發出通知，決定一九六六年高等學校招收新生工作推遲半年進行。同年六月十八日，人民日報社論「徹底搞好文化革命徹底改革教育制度」，文中要求廢除高考制度。從此，中國的大學十多年無法正常招生，而在校的中小學生也失去了繼續就學的必要。請問，當時廢除高考的背景是：
(A) 中共認為無產階級專政，工農階級子弟以工作為主，也不准讓資產階級子弟就學
(B) 文化大革命開始，紅衛兵於此時壯大，毛澤東乃廢除高考，讓紅衛兵到處革命
(C) 中共認為現有的教育內容，仍屬封建思想，因此廢除高考，以新學制取代
(D) 因應「計劃經濟」人才的需求，中共鼓勵學生至蘇聯留學

29. 有一套歷史記錄片，是介紹西元 1500 年後所出現的幾個世界性大國，其中 5 片不小心掉在地上，影片的順序亂掉了，這五片分別是：①荷蘭—小國大業、②蘇聯—風雲新途(共產革命)、③日本—百年維新、④葡萄牙和西班牙—海洋時代、⑤英國—工業先聲，請你幫忙排好先後順序，以方便播放，正確的順序是？
- (A) ④①⑤③② (B) ④①③②⑤
(C) ①②⑤③④ (D) ①④③②⑤
30. 史料記載，臺灣在某個時期有大批的人被迫遷徙，因而出現了「人去業荒」、「強有力者歸故土，所留者瑣尾殘黎耳」的現象，請問這可能是發生在什麼時期？
- (A) 郭懷一事件後的臺灣社會
(B) 鄭克塽降清後的臺灣社會
(C) 馬關條約簽訂後的臺灣社會
(D) 二二八事件後的臺灣社會
31. 一位熱衷各種宗教探索的背包客，想藉由各地宗教古蹟的探尋來連結宗教文明的精采，請問下列的整理中哪一項是有出差錯的？
- (A) 親訪今日土耳其伊斯坦堡阿亞索菲拉博物館(聖索菲亞大教堂)，體會到純正希臘正教的莊嚴
(B) 深入柬埔寨吳哥窟欣賞建築藝術群的雄偉，感受印度教毗濕奴神的震撼
(C) 拜訪印度北部泰姬瑪哈陵深受感動，體會到穆斯林藝術與印度傳統的浪漫
(D) 遠征祕魯天空之城——馬丘比丘遺址，感受印加文明太陽神廟的傳奇
32. 在〇〇時，戈特利布·戴姆勒製成了第一臺汽油機，並於次年造出第一輛用汽油機驅動的汽車。魯道夫·狄塞爾在〇〇時也製成了一臺四衝程發動機，即世界首臺柴油機。空氣在壓縮行程中被活塞劇烈壓縮而產生高溫，之後燃料被噴入氣缸，隨即發生自燃。通過大幅高壓縮比的方法，使得效率接近了 27%。從此石油逐漸成為推動工業革命新的能源。請問〇〇內的時間應是指？
- (A) 十八世紀中葉 (B) 十九世紀初
(C) 十九世紀末 (D) 二十世紀中葉
33. 美國思想史家洛夫喬伊(Lovejoy)認為「□□」思潮具有多種意義，是一種進步總結、復古精神和基督教精神的復甦，又是自然主義的人道主義，並受到中國道家文化的影響。請問「□□」思潮最有可能是下列何者？
- (A) 啓蒙運動 (B) 浪漫主義 (C) 實證主義 (D) 存在主義
34. 在臺灣歷史上，曾發生一次政府逮捕許多知識份子的事件，然而其結果卻是「塑造出一個個臺灣英雄，出獄之時，不僅同志熱烈相迎，也受到民眾的景仰與支持。」當時的官方也認為「下獄者反成為志士，名重一方，普遍受到青年學生的景仰，聲譽鵲起，對運動反呈推波助瀾之勢。」事件發展，有如東漢末年的黨錮之禍。請問這應該是指哪一個事件？
- (A) 治警事件 (B) 二林事件
(C) 二二八事件 (D) 美麗島事件
35. 某個戰爭起因是爭奪巴勒斯坦宗教「聖地」管轄權。這些地方當時是在鄂圖曼土耳其的統治下，俄國提出在「聖地」建立俄國保護地的要求，但被土耳其拒絕後，俄國便採取軍事活動，於是土耳其對俄國宣戰。英、法不願俄國獨霸從黑海到地中海的通道，因而幫助土耳其。請問這個戰爭為？
- (A) 克里米亞戰爭(1853-1856) (B) 第一次世界大戰(1914-1918)
(C) 第二次世界大戰(1939-1945) (D) 以阿戰爭(1973)

36. 有一學者在其著作中提到：「隨著士大夫主體意識的逐步覺醒，某朝中期出現了士大夫與天子『共治天下』的政治思潮和政治局面……由於儒學的復興，士大夫們認識到在天子之上還有一個儒家的『聖人之道』。要治理好國家，天子的言行必須合於『聖人之道』。而這個『道』往往掌握在宗經學古的士大夫手中。士大夫有責任，也有能力與天子『共治天下』。」請問文中的某朝指的應該是什麼時代？
(A) 漢代 (B) 東晉 (C) 唐代 (D) 北宋


37. 圖(4)為英國肥皂商(Pear's Soap)製作的廣告，廣告內容將肥皂賦予「讓野蠻人變得文明」的任務。請問關於這個廣告出現的歷史背景，下列敘述何者正確？



圖(4)

- (A) 是 14 世紀末的廣告，為避免黑死病而推廣肥皂的使用
(B) 是 18 世紀中的廣告，顯示啓蒙運動為求啓迪蒙昧，透過肥皂廣告使文化教育的思想深植人心
(C) 是 19 世紀末的廣告，受到達爾文主義影響，反映白種人自認優越的現象
(D) 是 20 世紀初的廣告，反映大眾消費文化的一種趨勢
38. 有位學者在其著作中提及某時期東西方兩大帝國的相似性，指出兩者後期皆出現宦官指揮禁衛軍的現象，並且在帝國內皆有跋扈的軍閥，「軍人權力之擴張，以致不可制」。此外，在文化方面，「這兩大帝國都有強大的動能，活潑的開創性，以開放的胸襟吸納外來文化的精華。」根據你的判斷，此東西方兩大帝國應該是何者？
(A) 漢帝國與羅馬帝國 (B) 唐帝國與伊斯蘭帝國
(C) 蒙古帝國與神聖羅馬帝國 (D) 清帝國與法蘭西帝國
39. 美國與歐洲在某個時期興起一波「反主流文化運動」。運動的參與者多是年輕人，他們以獨特、非正常的方式反對西方傳統文化和傳統價值觀，高喊：「不要相信三十歲以上的人」。關於這個運動，班上「四朵花」的討論何者正確？
(A) 艾蓮花：「中國學生響應歐美學運，引發文化大革命。」
(B) 黃菊花：「美國年輕人多數支持繼續派兵攻打越南。」
(C) 宋妮花：「美國黑人亦在此時期，推動民權法案，結束黑白種族隔離政策。」
(D) 伍月花：「捷克學運要求改革，可惜捷克當局推行『具有人性面孔的社會主義』，慘遭蘇聯鎮壓。」
40. 西元前二千年左右，雅利安人從中亞烏拉山附近大舉南下進入印度，產生非常成熟的青銅器文化，但一直都是部落林立，並未出現大型帝國。直到西元前三百年左右，某王朝成立，勢力強大到讓揮兵東征的亞歷山大望之卻步，並且積極與羅馬帝國發展貿易，請問這一王朝是：
(A) 孔雀王朝 (B) 貴霜王朝 (C) 笈多王朝 (D) 戒日王朝
41. 「時勢造英雄；時局創天下」，新政權崛起興盛的時機，一定與當時周遭情勢有密切相關，下列的敘述何者正確？
(A) 回教帝國尚未崛起，西歐文明處於相對落後狀態下，成就了東羅馬帝國查理曼時期的巔峰
(B) 東羅馬帝國與波斯薩桑王朝長期對抗，兩敗俱傷，給予回教帝國的崛起與擴張機會
(C) 歐洲苦於英法百年戰爭與黑死病的威脅，因此給予塞爾柱土耳其崛起擴張的時機
(D) 東羅馬帝國滅亡，南宋處於積弱不振狀態，給予蒙古帝國西征南侵的機會

42. 民國初年軍閥操弄政局，在混亂政局中又以袁世凱為最，主導許多政治手段與事件，但因資料混亂，論述中易出差錯，請將有誤導的部分挑選出來？
- (A) 不願接受革命黨擺布，以北京發生兵變為由，拒絕南下就職
 (B) 向列強善後大借款，引發國會抗議與對立，埋下宋教仁被暗殺的可能原因
 (C) 國民黨號召討袁，發動「二次革命」，但行動失敗，反讓袁藉機解散國民黨
 (D) 修改大總統選舉法，將任期由五年改成十年，得連選連任且無次數限制
43. 2002 年 SARS(非典型肺炎)爆發帶來世界性的恐懼，2009H1N1 大肆流行，2014 年伊波拉病毒席捲西非，疫情持續擴張中。瘟疫的橫行往往會帶來許多的衝擊與影響，如 14 世紀中起黑死病百年的影響，對中古歐洲政經與社會結構曾產生極大的動搖與改變，下列敘述何者為真？
- (A) 政治：領主經濟實力削弱，但因無助的農民投靠增加，使封建制度更加緊實
 (B) 宗教：深信瘟疫是上帝懲罰人們墮落的手段，因而對苦修更虔誠，以求神的諒解
 (C) 社會：農工階級因禍得福，薪資高漲，更有能力贖回人身自由
 (D) 文學：薄伽丘的《十日談》，以拉丁文學深刻描述人心的惶恐與解放
44. 周截輪在書中看到某個歷史事件的插圖，請問下列關於此事件的描述，何者正確：



圖(5)

- (A) 這場恐慌衝擊各國，法西斯主義、共產主義勢力因此衰退
 (B) 美國總統小羅斯福推動新政，推動公共工程與農業計畫來恢復經濟
 (C) 第二次世界大戰對美國經濟的破壞，美國推動馬歇爾計畫刺激生產
 (D) 這是 1973 年以阿戰爭引發的全球性石油與經濟危機，臺灣推動十大建設度過難關
45. 喬巴的爺爺回憶某個時期的臺灣，描述這樣的景象：「一場在亞洲的戰爭……讓載滿美軍到臺灣休假的美國軍艦停泊在基隆港邊，許多人開始學習英語，熱誠招待美軍，以賺取外匯……好不熱鬧……但好景不常，美國為對抗蘇聯反拉攏對岸的中國，臺灣的政府在國際上反而愈來愈艱辛……」。請問：喬巴的爺爺所描述的景象應為下列哪一個時期？
- (A) 國共內戰時期
 (B) 韓戰爆發時期
 (C) 太平洋戰爭時期
 (D) 越戰時期
46. 基督宗教文明在西方歷史的發展過程中，占有特殊而重要的地位，影響著西方政治、文化、社會的發展，乃至基本價值觀念的奠定。有關基督宗教文明發展的描述，何者正確？
- (A) 聖彼得的貢獻在於教義闡釋及向外邦傳教，將基督教提升為世界性普世宗教
 (B) 君士坦丁頒〈米蘭詔書〉承認基督教合法地位，狄奧多西更立為羅馬國教
 (C) 教宗對法蘭克王國鄂圖一世加冕為神聖羅馬帝國皇帝，開啓政教合作先例
 (D) 中古時期東、西方教會和修道院均致力以拉丁文抄寫聖經及古書，為文藝復興奠定重要的基礎

47. 喜歡收集老照片的阿龍無意間看到圖(6)三幅照片，內部的文字分別為：(一)「斗六街協議會員選舉會場」及選民排隊等候投票情形、(二)「南屯庄協議會員立候補者(候選人)廖朝樹」、(三)「二十二日發自內心的一票」，似乎都在描述同一件歷史事件。請問該事件可能為下列何者？



(一) (二) (三)

圖(6)

- (A) 1898 年保甲長選舉
(B) 1935 年第一次地方(市、街、庄)議員選舉
(C) 1977 年五項地方選舉
(D) 1996 年第一次民選總統
48. 伊拉克遜尼派穆斯林極端武裝「伊拉克和黎凡特伊斯蘭國」(ISIS)崛起，宣稱執行「聖戰」，對世界人權與秩序造成嚴峻的考驗。請問下列對回教教義與發展的認識，何者符合事實？
- (A) 透過聖戰推廣嚴格的伊斯蘭一神信仰，故對征服地區強迫改信伊斯蘭教
(B) 遜尼派較激進，獨尊古蘭經，認為繼承人須由穆罕默德親屬擔任，信徒較多
(C) 奧瑪雅王朝後代向外擴張，占領今日法國南部、北非，稱為「白衣大食」
(D) 阿拔斯王朝為帝國文化黃金期，推動「百年翻譯運動」，保存了古希臘經典
49. (甲) 邱念農業區位理論；(乙) 韋伯工業區位理論；(丙) 克氏中地理論；(丁) 都市內部結構的同心圓模式。請問上述四個地理學理論中，哪幾個將「均質平原」列為基本假設？
- (A) 甲乙丙 (B) 甲乙丁
(C) 乙丙丁 (D) 甲丙丁
50. 「詹姆斯·庫克，為 18 世紀英國皇家海軍軍官及航海家，人稱庫克船長。他曾三次奉命出海前往太平洋，帶領船員登陸澳洲東岸，也創下首次有船環繞紐西蘭航行的記錄。」請問庫克船長在紐澳探險時，在表(3)所遇見的人事物，那些是正確的？

表(3)

	(甲) 氣候	(乙) 盛行風	(丙) 洋流	(丁) 地形	(戊) 原住民	(己) 動物
澳洲東岸	溫暖潮濕 夏天雨量較多	西風	暖流	珊瑚礁地形	黑皮膚 原住民	奇異鳥、 黃眼企鵝
紐西蘭	潮濕多雨 秋冬雨量較多	東南信風	涼流	火山地形、 冰河地形	毛利人	袋鼠、 無尾熊

- (A) 甲丙丁 (B) 甲丁戊
(C) 乙丙己 (D) 乙戊己
51. 「2011 年 12 月 3 日，美國總統歐巴馬宣布伊拉克戰爭結束，5 天後美軍全數撤出伊拉克。而 2014 年 6 月，遜尼派穆斯林極端武裝組織『伊斯蘭國』，開始在伊拉克攻城略地，進逼首都巴格達，執政的什葉派政府情勢緊急，目前歐巴馬已派遣 200 多名的美軍進入伊拉克。」請問以下對於伊拉克的環境敘述，何者正確？
- (A) 南部所瀕臨的波斯灣，為西亞的「五海」之一
(B) 所在地氣候屬於溫帶沙漠氣候，長期為副熱帶高壓所籠罩
(C) 位於伊朗高原及阿拉伯高原之間的美索不達米亞平原
(D) 盛產石油及煤、鐵礦

52. 2014 年 1 月，北極低壓「極地渦旋」的冷冽空氣長驅直入美國中南部，美國各地低溫打破近 20 年來紀錄，造成美國各地災情嚴重。北極低壓「極地渦旋」的冷冽空氣之所以能輕易長驅直入美國中南部，造成美國各地災情嚴重。此與下列哪一項地理特徵最有關係？
- (A) 冰河曾入侵至美國北部，「極地渦旋」順著冰河時期的路徑入侵
(B) 地形平坦及山脈南北走向
(C) 北部多冰蝕湖牽引「極地渦旋」南下
(D) 美國大峽谷成爲引道，順利南下

53. 王先生很喜歡網路購物，有天他的雷射印表機的碳粉匣用完了，他在網路上購買同一廠牌同一型號的碳粉匣，雖然王先生沒有親自試用，但是他一點也不擔心買來的碳粉匣無法使用。原因是這項產品有現代工業的哪一項生產特徵？
- (A) 標準化
(B) 規格化
(C) 自動化
(D) 泰勒化

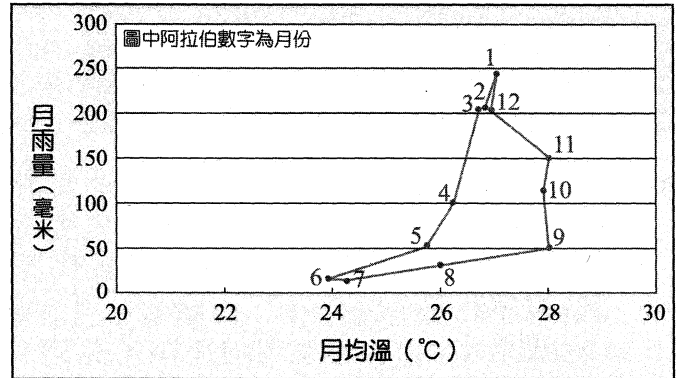
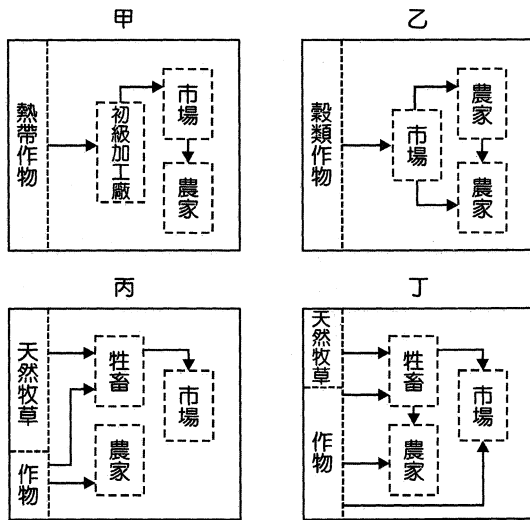
54. 2014 世界盃足球賽在巴西舉行，國際足總共授權 83 塊場地，作爲世界盃期間的官方訓練基地，供 32 支國家隊伍在世界盃期間休整和訓練之用。但大多數球隊選擇巴西東南地區作爲大本營，只有八支球隊選擇其他地區：五支球隊(克羅埃西亞、德國、迦納、希臘和瑞士)選擇了巴西東北地區，三支球隊(厄瓜多、韓國和西班牙)選擇待在巴西南部地區。沒有球隊選擇巴西北部地區或巴西中西地區。(請參考圖(7))。請問下列何者是大多數球隊選擇巴西東南部作爲大本營的主因？
- (A) 交通方便，氣候較舒適，生活機能佳
(B) 有海景，海灘可做沙灘足球的訓練
(C) 該地居民熱情，有人情味
(D) 都市設施完善，治安良好



圖(7)

55. 資料一：「每年西曆 4 月 13~15 日是寮國的佛曆新年，也就是俗稱的潑水節或松克朗節，這也是寮國、泰國、柬埔寨及緬甸等國共同的節日。在潑水節第一天的清晨，人們要到寺廟參拜祈求平安，並用清水相潑，被潑到的水越多，得到的祝福和快樂也越多。」
- 資料二：「寮國的男性佛教徒，無論是國王還是平民，一生都必須到寺廟出家剃度當一次和尚，少則數日，多則不限。社會上對入寺爲僧極爲重視，人們常會把是否出家爲僧作爲評判一個人人品的重要標準。」
- 參考以上文章內容，請判斷以下說明何者正確？
- (A) 寮國、泰國、柬埔寨及緬甸位於中南半島，屬於南亞文化區
(B) 中南半島在氣候上屬於熱帶季風氣候，潑水節於熱季時期舉行
(C) 寮國、泰國、柬埔寨及緬甸四國信仰小乘佛教，種姓制度深植人心
(D) 泰國、緬甸爲英國殖民地，寮國、柬埔寨爲法國殖民地

56. 圖(8)為某地長期平均降水量及月均溫點散布圖，請從下列甲乙丙丁四個市場指向農業的生產流程圖中，選出該地最適宜發展的農業活動，並且由表(4)戊己庚辛中，選出發展該農業所需具備的人文條件？



圖(8)

表(4)

地點	戊	己	庚	辛
人文條件	國內市場廣大 勞工充足	鐵公路經過 地廣人稀	大量資金投入 地廣人稀	陸運直通港口 勞工充足

- (A) 甲辛
- (B) 乙己
- (C) 丙庚
- (D) 丁戊

57. 「新聞：2014年7月11日是『7-ELEVEN DAY』，便利商店龍頭統一超商 7-11 選在今天正式於高雄內門里開設全臺第 5000 家門市，成為名副其實的『臺灣通路巨人』。」請問下列哪幾項是便利商店 7-11 不斷展店的目的？

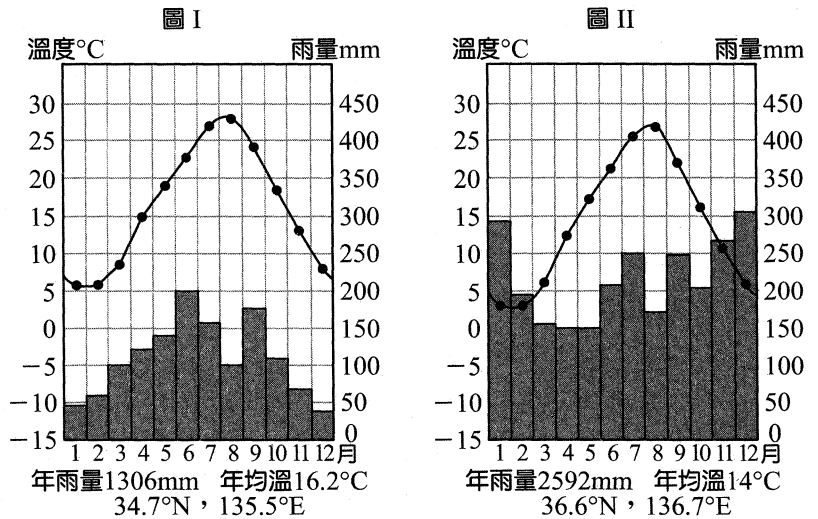
- (甲) 產生聚集經濟；(乙) 減少運輸成本；(丙) 達到規模經濟；(丁) 提高市場占有率
- (A) 甲乙丙
- (B) 乙丙丁
- (C) 甲丙丁
- (D) 甲乙丁

58. 「中國一胎化生育政策於 2013 年走入歷史，試行單獨二胎，只要夫妻雙方一人為獨生子女，即可生二胎。經官方調查有九千萬對夫妻，想生兩胎，如開放『全面兩胎』，人口將遽增近一億人，故何時開放所有夫妻都能生兩胎，沒有時間表。」下列有關中國近 50 年來的人口政策及現象，哪兩項正確？

- (甲) 中國如開放全面兩胎，將延長「人口紅利」現象
- (乙) 中國近 50 年來的人口政策固然控制了人口增加的速度，也衍生了人口老化及扶養比快速上升的問題
- (丙) 中國能快速達到人口轉型，一胎化政策是主因
- (丁) 一胎化政策在鄉村地區遠比都市地區容易實踐
- (A) 甲乙
- (B) 甲丙
- (C) 丙丁
- (D) 乙丙

59. 圖(9) I 及 II 為日本本州島某兩地的氣候圖，請根據兩圖中的氣溫雨量資料，判斷下列述敘那兩項是正確的？

- (甲) 造成圖 II 全年有雨的原因是 I.T.C.Z 的終年影響
- (乙) 圖 I 位於本州島東岸，圖 II 位於本州島西岸
- (丙) 根據冬季一月均溫判斷，圖 I 圖 II 兩地皆為副熱帶季風氣候
- (丁) 世界龔產合掌村分布地的氣候，類似圖 I 所在地



圖(9)

- (A) 甲乙
- (B) 乙丙
- (C) 丙丁
- (D) 乙丁

60. 野柳女王頭是臺灣北部引以為傲的天然奇景，去年更榮獲臺灣十大地景評選第 1 名，但相關單位發現，女王頭目前的頸圍僅有 126 公分，經過北觀處的民調後，決議使用現代奈米科技使她「不斷頭」，補強後的模擬分析，已可抵擋 17 級強颶及 7 級的強震。下列有關野柳女王頭所處的自然環境敘述，哪兩項正確？

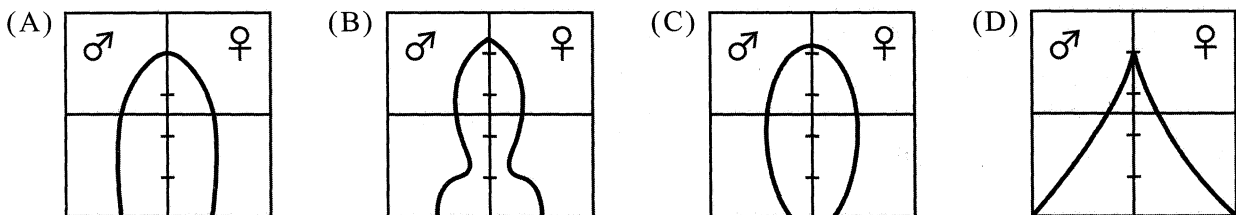
- (甲) 女王頭的物理風化作用比化學風化作用強烈
- (乙) 強風、多砂、硬岩、裸地的環境塑造女王頭此種風稜石
- (丙) 女王頭位於野柳岬角，當地多岬灣海岸
- (丁) 強盛的東北風也是女王頭受蝕的原因之一

- (A) 甲乙
- (B) 甲丙
- (C) 丙丁
- (D) 乙丁

61-62 為題組

◎ 自十五世紀起歷時 400 年的大西洋三角貿易，歐人從中獲取暴利，卻漠視黑人的生命尊嚴，無情的迫害導致非洲某些地區人口大量流失，生產力衰退。十九世紀該區紛紛淪為列強殖民地，逐漸發展成依賴式經濟。請回答 61、62 題。

61. 歐人在非洲從事黑人擄掠、販售，使非洲當地的人口金字塔呈下列何種型態？



62. 以下敘述為非洲與中南美洲受西方殖民的影響。

- (甲) 均有糧食不足的問題
 - (乙) 國界界線均以經緯線劃分，未考慮民族分布界線，導致政局不穩
 - (丙) 都市規模多為首要型，區域發展不均
 - (丁) 種族均以混血民族為主
 - (戊) 經濟結構失衡，均有嚴重的貿易逆差
- 請問哪幾項是正確的？

- (A) 甲乙丙
- (B) 乙丙丁
- (C) 丙丁戊
- (D) 甲丙戊

63-64 為題組

◎ 澎湖花嶼是臺灣地區最西端的一個島嶼，成功大學能源研究中心在島上花嶼國小設置 5 套太陽能熱水器，已於民國 103 年 6 月 12 日啓用，是花嶼首批進駐的再生能源設備。近年來政府在澎湖、金門、小琉球、綠島等 4 個外島地區推動低碳島設置專案計畫，舉凡光電、光熱、風力、植栽及電動機車等低碳措施，已在澎湖各島逐步展開。請回答 63、64 題。

63. 澎湖花嶼能發展太陽能與下列哪一項自然環境特徵有關？
(A) 地形平坦 (B) 副熱帶高氣壓籠罩
(C) 空氣稀薄，紫外線強烈 (D) 地處大範圍海陸交界帶

64. 文中 4 個推動「低碳島設置專案計畫」的島嶼中，何者因當地多珊瑚礁地形(如照片(1))，並且洞穴地形遍佈，如烏鬼洞、美人洞、仙人洞、蝙蝠洞等，均已成爲著名的觀光景點？

- (A) 澎湖花嶼
(B) 金門島
(C) 小琉球
(D) 綠島



照片(1)

65-66 為題組


◎ 表(5)爲 2013 年的西班牙、法國、波蘭、德國、挪威五國的統計資料，請根據表格資料判斷並回答 65、66 題。

表(5)

國家	面積 (萬 km ²)	人口 (萬人)	GDP (百萬美元)	人均 GDP (美元)	HDI (2014 年)
甲	31.27	3,853	517,542	13,432	0.834
乙	35.71	8,062	3,634,822	45,085	0.911
丙	38.7	500	512,580	100,819	0.944
丁	50.6	4,665	1,358,262	29,118	0.869
戊	55.16	6,603	2,734,949	41,421	0.884

65. 下列關於此五國的敘述，那兩項正確？
(甲) 爲波蘭，是東歐人口最多的國家，計畫經濟時期工業以民生工業爲主，近年經濟成長快速
(乙) 爲德國，歐洲經濟最發達與人口最多的國家
(丙) 爲挪威，以社會福利聞名，近年來石油產業快速發展
(丁) 爲法國，是西歐最大的農業國，且觀光業盛行
(戊) 爲西班牙，近年經濟成長率低且有南北失衡的狀況
(A) 甲乙 (B) 乙丙 (C) 乙丁 (D) 丁戊

66. 王先生計劃到有以下風景的國家度假，請問他該選擇到何國去？



(A) 甲



(C) 丙

(B) 乙

(D) 丁

67-68 為題組

◎ 表(6)為一年 24 節氣的日期，請根據表中資料，回答 67、68 題。

表(6)

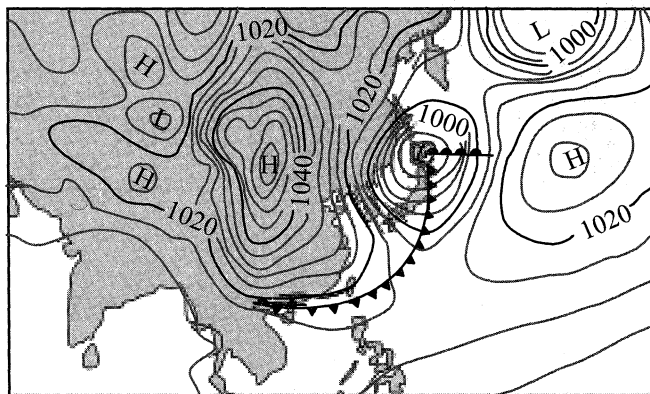
節氣	立春	雨水	驚蟄	春分	清明	穀雨	立夏	小滿	芒種	夏至	小暑	大暑
日期	2月4/5日	2月18/19日	3月5/6日	3月20/21日	4月4/5日	4月19/20日	5月5/6日	5月20/21日	6月5/6日	6月21/22日	7月7/8日	7月22/23日
節氣	立秋	處暑	白露	秋分	寒露	霜降	立冬	小雪	大雪	冬至	小寒	大寒
日期	8月7/8日	8月23/24日	9月7/8日	9月22/23日	10月8/9日	10月23/24日	11月7/8日	11月22/23日	12月7/8日	12月21/22日	1月5/6日	1月20/21日

67. 以下相關於節氣的敘述，何者正確？

- (A) 於立春時節，太陽直射赤道，是一年的開始
- (B) 立夏、小滿時節，太陽光線直射北半球，臺灣地區受暖鋒面影響
- (C) 立秋為秋天的開始，此時太陽光線已直射南半球
- (D) 冬至時，南迴歸線以南中午有一年中最短的影子

68. 圖(10)是東亞某日天氣圖，圖中等值線為等壓線，數值單位為百帕(hPa)。請問該圖最可能是下列那些節氣前後某日的天氣圖？

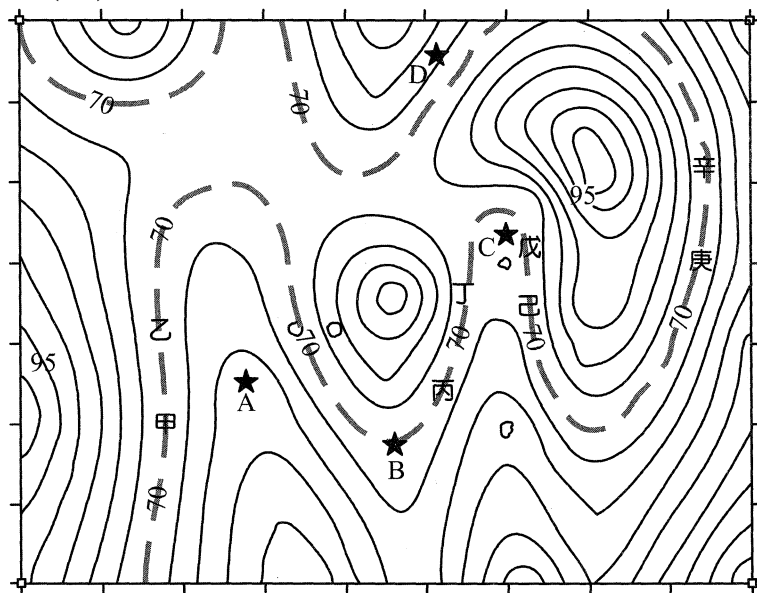
- (A) 小寒~立春
- (B) 穀雨~小滿
- (C) 小暑~立秋
- (D) 白露~寒露



圖(10)

69-70 為題組

◎ 圖(11)為北臺灣某地之等高線地形圖，本區沿等高線 70 公尺處修築登山步道，以虛線方式表示，請依圖(11)回答 69、70 題。




圖(11)

69. 若沿著步道行走，步行於哪兩點之間，向東緊臨山壁，無良好視線？
(A) 甲乙 (B) 丙丁
(C) 戊己 (D) 庚辛
70. 本區有四棟度假別墅(以★標記)，若不考慮植被狀態，哪一棟度假別墅的採光最好？
(A) A (B) B
(C) C (D) D

71-72 為題組

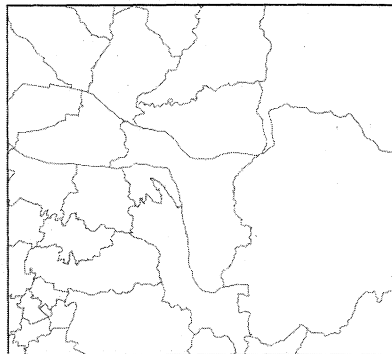
◎ 某高中學生進行專題研究，研究過程使用 GIS 進行分析，該研究使用下列三種圖資：甲圖為地形資料，乙圖為臺灣縣市界資料，丙圖為新北市路燈分布圖，請回答 71、72 題。

地形分層設色圖



甲圖

行政區圖



乙圖

路燈分布圖



丙圖

圖(12)

71. 甲圖及乙圖其空間資訊的儲存分別較適合使用何種模式？
(A) 皆使用向量模式
(B) 向量模式、網格模式
(C) 網格模式、向量模式
(D) 皆使用網格模式
72. 表(7)為丙圖中部分路燈的 TM 二度分帶定位座標資料，哪一盞路燈位在 2 號路燈的 150°方位角上？

表(7)

編號	X 座標	Y 座標
1	300651	2766183
2	299646	2764597
3	301894	2760295
4	297798	2766072
5	298714	2763111

- (A) 1 號
(B) 3 號
(C) 4 號
(D) 5 號