

臺中區國立高級中學 104 學年度  
大學入學第二次學科能力測驗聯合模擬考

## 社會考科

—作答注意事項—

考試範圍：第一～四冊

考試時間：100 分鐘

題型題數：

- 單選題共 72 題

作答方式：

- 用 2B 鉛筆在「答案卡」上作答；更正時，應以橡皮擦擦拭，切勿使用修正液（帶）。
- 未依規定畫記答案卡，致機器掃描無法辨識答案者，其後果由考生自行承擔。

祝考試順利



版權所有·翻印必究

◆單選題（占 144 分）

說明：第 1 題至第 72 題皆計分。每題有 4 個選項，其中只有一個是正確或最適當的選項，請畫記在答案卡之「選擇題答案區」。各題答對者，得 2 分；答錯、未作答或畫記多於一個選項者，該題以零分計算。

- 2015 年暑期上檔的動畫片《腦筋急轉彎》（*Inside Out*），生動地描繪出人腦當中的各種情緒與反應，不只影響人際互動，也顯示人格養成過程中的各種因素，試問有關認識自我形成與外在環境互動的理論中，下列敘述何者正確？
  - 米德：自我分成主我、客我，兩者是不斷對抗拉扯的狀態，不受重要他人影響
  - 顧里：透過概括化他人，開始從別人的角度看自己，想像對自己的評價
  - 佛洛伊德：特別重視青少年時期的心理發展，以及成年後的各個階段
  - 艾瑞克森：人格發展在每個階段的任務不同，若某個階段不適應將產生發展危機
- 近來，歐洲面臨難民危機，許多地區反移民的情緒高漲，冰島政府表示，今年僅能收容 50 名敘利亞難民。冰島女作家伯格凡斯多提兒（Bryndis Bjorgvinsdottir）在臉書上鼓勵同胞發起支援需要協助的難民，一天內就吸引許多冰島人表示願意提供住家給難民，迫使該國政府表態願意收容更多難民。根據上述，下列何者最為正確？
  - 女作家透過臉書挑戰政府既有政策，其行為屬於公民不服從
  - 女作家僅在個人平臺發表文章，仍符合媒體形成輿論之功能
  - 許多冰島人民的支持聲浪，已撼動冰島政府的法理統治權威
  - 難民的生存權，應是屬於〈世界人權宣言〉中的第二代人權
- 為了反映紐西蘭已脫離英國殖民統治的現況，總理凱伊（John Key）宣布啟動公投，要讓全民一起選出新國旗。在一萬多份投稿中，陸續選出五件作品皆採用相同的元素，毛利人最神聖的植物——銀蕨的圖樣，象徵新生、和平與力量以及位於南半球才能看到的南十字星符號，象徵獨立和希望。根據上述，下列何者最為正確？
  - 啟動公民投票也就是實踐直接民主，比較接近修正民主理論
  - 象徵符號的大量曝光，乃法蘭克福學派所批判的過度商業化
  - 紐西蘭國家代表隊出賽前的毛利人戰舞，顯示文化的獨特性
  - 只要飛機掛上紐西蘭國旗，就是紐西蘭的延伸領土與管轄權範圍
- 臺南市市長賴清德雖在地方首長人氣票選高居第一，也因議長李全教涉及賄選與當選無效一案拒絕進議會備詢引起高度爭論，監察院通過監委仇桂美與包宗和的提案，認定其違失事證明確，情節重大，以 7 票贊成，2 票反對通過這項彈劾案。根據上述，下列何者最為正確？
  - 監察院通過彈劾後，應將該案移送司法院公務員懲戒委員會議決懲戒處分
  - 面對臺南市的自治爭議，應由行政院出面協調或作成有拘束力的監督行為
  - 監察院行使調查權的對象限行政院各機關，不含司法、考試、監察院人員
  - 依《公職人員選舉罷免法》規定，議長當選無效的訴訟應由行政法院審理

5. 近年來，臺灣教育改革的問題，包括 12 年國教、偏鄉小學師資不足、弱勢兒童的教育資源不足等。以「經濟發展要素」的角度來看待以下的教育議題，下列敘述何者正確？
- (A) 12 年國教的推動是希望提高「人造資本」，提升知識經濟的水準
  - (B) 新學期開始有些迷你小學不見，同時也有兩百多間學校開學招不到老師來上課，顯示供需失衡，須透過「企業才能」加以解決
  - (C) 近年民間社會有許多號召假日到偏鄉學校來進行課輔的活動，這是「政府效能」整合的成果
  - (D) 鄰近工廠的國中、國小設置空汙檢測器，超標即達停課標準，這是因為「自然資本」受到損害
6. 因應智慧型手機的普遍，近來不少國中、高中也討論起是否需要訂定「校內手機使用辦法」，請問依照《憲法》中有關保障人權的概念，與下列各校情況的配對何者正確？
- (A) 樂樂高中原定要經過校務會議的開會程序討論表決，但遇到緊急事件而未能開會，校長可以指定相關處室討論後逕行公告施行，並不違背正當程序原則
  - (B) 驚驚中學基於學習與維持秩序的目的，要求學生到校後將手機交由幹部收集統一保管整天，此舉影響學生下課自由使用的權利，因此可能會牴觸比例原則
  - (C) 悠悠中學開學日發下家長通知書，學生需提出申請經審核通過才能攜帶手機到校，若未經申請經查獲一律記警告一支，該規定有代理人同意符合公開原則
  - (D) 怒怒高中未能依照教育部公布所強調的合理限制、親師生共同議決等原則下，訂定手機保管規範，已經違反信賴保護原則
7. 英國 BBC 新聞臺為了讓觀眾更能體會敘利亞難民問題的艱難選擇，設計一連串情境互動選擇題，請問依照經濟學的概念來判斷，下列敘述何者最為正確？
- (A) 難民有兩種選擇，一是花 5,000 美金渡海抵達希臘，二是花 7,500 美金跨越陸地邊界進入希臘，若選擇渡海，則 7,500 美金就是其「機會成本」
  - (B) 陸地邊界有條寬 50 公尺的河流阻擋，揹客只帶一艘充氣艇，由於搭載的偷渡客人數眾多，導致充氣艇翻覆，表示超過「生產可能線」(PPC) 能負荷的量
  - (C) 歐洲各國面對人數眾多的難民潮，東歐四國表示評估國內經濟現況，僅開放百人以內的庇護，顯示政府擔心其財政會發生「供過於求」的情形
  - (D) 部分具有專業技術的難民，若能進入到底護國的就業市場，此時其他條件不變，相關領域的從業人員供給增加，均衡薪資可能降低
8. 因為軍中管教不當，導致基層士兵訓練過度致死，引發許多社運團體號召公民走上街頭抗議，並且要求政府修法。因此立法院三讀通過修法，將有關軍人的刑事案件，除特殊案例之外，由軍事審判移至一般法院審理。上述法律的修訂，這是彰顯出下列哪一種民主理論的內涵？
- (A) 多元民主
  - (B) 審議民主
  - (C) 菁英民主
  - (D) 直接民主

9. 以下有(甲)(乙)(丙)(丁) 4 種道德議題。

- (甲)立陶宛 (Lithuania) 的新創行銷機構為了市區中的小動物們，設計出注意馬路號誌與動物標誌，提醒用路人注意
- (乙)祖父母節當日由創世基金會安排學童陪獨居老人同歡，讓他們一起參觀臺灣味噌釀造文化館，體驗親手製作味噌的樂趣
- (丙)餐旅學校由新生代表向教師奉上肉乾 (敬獻束脩)、紅豆 (心量大)、蓮子 (苦心教)、芹菜 (勤奮)、紅棗 (早高中) 與桂圓 (圓滿) 等束脩六禮，而老師代表也回贈新生一人一份刀具組
- (丁)通訊軟體 LINE 多為現代人聯絡通訊的平臺，卻也存在個資安全的疑慮，甚至不時傳出被詐騙或盜用帳號的問題

下列有關(甲)(乙)(丙)(丁)的敘述，何者正確？

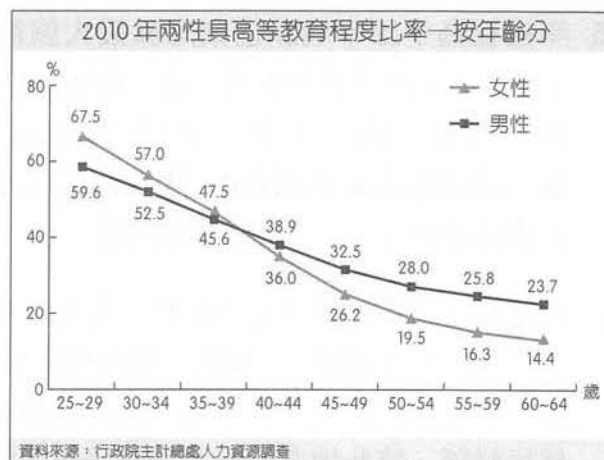
- (A)(甲)符合維護動物權
  - (B)(乙)為恢復家庭倫理之措施
  - (C)(丙)顯示新生已養成專業倫理
  - (D)(丁)導因於專業人員未遵守資訊倫理
10. 關於臺北市政府徵收人民土地興建捷運並開發美河市，遭大法官作出釋字 732 號宣告《大眾捷運法》第 7 條等相關規定違憲。大法官認為國家以公益的目的徵收人民土地有其正當性，但若非為公益之必要，徵收非交通事業所必須的土地，將造成土地所有權人遭受特別損失。即使政府欲透過徵收土地促進地方發展並取得建設經費，有其公益之目的，但依然可以透過與土地所有權人進行聯合或共同開發，或使土地所有權人於土地重新整理後仍得分配土地等方法，達成公共利益的目的。然該法允許主管機關可以為土地開發之目的，依法報請徵收非交通事業所必須之土地，與《憲法》保障人民財產權與居住自由意旨有違。根據上述，下列何者為大法官宣告市政府徵收地主土地違憲之理由？
- (A)違反法律保留
  - (B)違反公益性目的
  - (C)違反比例原則
  - (D)違反法律優位原則
11. 下列關於經濟學的基本原理，何者正確？
- (A)菠蘿麵包的原料成本不高，但麵包往往要價數十元，一般由成本決定價格，因此該定價是商家對顧客的剝削
  - (B)咖啡店向第三世界咖啡小農購買原豆，一公斤原豆的價格等同於咖啡店一杯咖啡的價格，因此屬於咖啡店對下游生產者的剝削
  - (C)三菱集團創辦人認為對於賣方而言只有價值三文錢的東西，如果買方願意付出五文錢，買賣雙方同意交易，各有所得，此為互惠的交易
  - (D)都會地區的房價過高，導致大部分的人民負擔不起時，政府應該介入管制房市，制訂房價的上限，因為「住者有其屋」是基本人權

12. 政府組織應受法律規範，才能避免侵害人權。下列關於臺灣的政府體制與相關權限的敘述，何者正確？(甲)立法院監督制衡行政院，因而擁有法案權、預算權與充分調查權(乙)監察院對於違法失職的公務員可以提出糾舉、彈劾，以及調查行政院不當、違法之處(丙)考試院設有公務員懲戒委員會，負責議處、獎懲公務員的年度績效或失職處分(丁)行政院設有中選會、公平交易委員會以及國家通訊傳播委員會，均屬獨立機關(戊)總統有權經行政院會議決議發布緊急命令
- (A)甲(乙)(丁) (B)乙(丙)(戊)  
(C)甲(丙)(戊) (D)乙(丁)(戊)
13. 反基因改造紀錄片《OMG GMO》，該片導演記錄一位法國科學家對大鼠作實驗，餵養大鼠吃基改作物，並宣稱 3 個月後大鼠罹患癌症，遂將其結果投稿於科學期刊。不過該名科學家並未揭露對照組的大鼠，即使沒有餵養基改作物，罹癌的機率仍遠大於實驗組的大鼠，因此後來科學社群決議將該篇論文撤下。但該片上映後，仍有許多反對基改作物的人士紛紛以此反對基改。請問身為媒體之一的該名導演，並未善盡媒體的下列哪一項責任？
- (A)議題設定 (B)報導真實  
(C)促進討論 (D)監督政府
14. 2015 年徐○強案被臺灣高等法院判決無罪，該案起因於 1995 年臺北某建商遭到擄人勒索撕票，嫌犯供述徐○強為共犯，但除了嫌犯的口供之外，並無直接證據可以證明其涉案。徐○強一度被判決死刑定讞，因此律師團聲請大法官釋憲。大法官作出釋字 528 號認為「共同被告的自白必須經過證人詰問對質程序，且不能將自白當成有罪認定的唯一證據。」請問大法官認為若僅由共同被告的自白做為定罪的唯一證據，將會侵犯被告的哪種權益？
- (A)參政權 (B)救濟權  
(C)工作權 (D)平等權
15. 關於「代理孕母是否應該合法化」的辯論中，正方認為「合法化之後可以讓想要擁有血緣後代的父母獲得子嗣，同時可以讓想要成為代理孕母的女性獲得金錢報酬，雙方互蒙其利，有何不可？」請問正方的論點屬於下列哪種道德理論？
- (A)義務論 (B)效益論  
(C)因果論 (D)德行論
16. 電影《不能沒有你》中，丁女（小女孩）的生母甲女，原來與乙男有婚姻關係，但是離家與丙男同居以後生下丁女。關於上述的情形，從《民法·親屬編》的法條中，下列敘述何者正確？
- (A)法律上，丁女的父親是丙男  
(B)法律上，甲女與丙男沒有婚姻關係，所以丁女也與甲女沒有親子關係，必須透過認領確認  
(C)甲女和丙男都可以提出「婚生否認之訴」，否認丁女是甲女與乙男的婚生子女  
(D)確認丁女與乙男沒有血緣關係之後，丙男才可以提出認領丁女

17. 一個社會為了讓條件上處於弱勢的族群有比較好的起跑點，可能實施「優惠性差別待遇」政策，關於此項政策的敘述，下列何者不正確？
- (A)通常給予弱勢族群在入學、語言、工作與政治等相關權利的優惠待遇
  - (B)集體特殊權利的主張是屬於第二代人權的範疇
  - (C)優惠性差別待遇容易引發二度歧視的爭議
  - (D)優惠性差別待遇可能讓一般人有不公平待遇之感，如入學政策讓有色人種入學有較好的保障，卻可能導致相同成績的非有色人種之名額遭到排擠
18. 日治時期臺灣有一種甜點叫「摩那卡 (monaka)」，它的日語原文為「最中餅」，在日本有「和果子餅王」之稱。做法是先將麻糬烤到酥香脆口，再包入甜而不膩的紅豆餡，以花朵為造型，十分復古典雅。當時這種甜點直接送入總督府，臺灣人根本沒機會吃到，直到光復後才能嚐鮮。臺灣第一代師傅李德眉師承日本師傅，目前這家老店已經傳至第三代，依舊堅持古法製作，就連日本遊客也慕名而來。根據上文，下列敘述何者正確？
- (A)隨著時空變遷，品嚐摩那卡這種甜點已從精緻文化發展為大眾文化
  - (B)日治時期只有總督府才能品嚐摩那卡，代表該甜點當時是主流文化
  - (C)遊客從日本慕名來臺灣品嚐摩那卡，可稱為另類全球化運動之表現
  - (D)這家老店已經傳至第三代，顯示摩那卡已經成為甜點界的流行文化
19. 中國大陸法律規定，單身女性要使用冷凍卵子時，必須具有國家核發的三項證件：身分證、結婚證、准生證。在計畫生育政策的種種限制下，未婚女性不僅不能冷凍卵子以保留未來生育的機會和權利，即使將孩子生下來，未婚媽媽在為非婚生子女申報戶口時也必須面對「社會撫養費」的罰款，以及各種繁瑣的手續和歧視，因此引發諸多爭議。根據上述，下列分析何者正確？
- (A)此規定旨在保障未婚媽媽或單親媽媽的權利
  - (B)此法律主要爭議在於未能保障胎兒的生命權
  - (C)該法律是違反聯合國性別主流化之公共政策
  - (D)由此可見中國單身女性存在玻璃天花板現象
20. 高一的新生梅君剛滿 16 歲，在校成績表現優異。隔壁的王太太家裡有個讀書尚未開竅的國中生小暉，於是詢問附近的家教中心代為尋覓適合人選。經過媒合後，王太太選擇梅君擔任小暉的家教老師，約定家教時間為 1 年。請問下列敘述何者不正確？
- (A)家教打工屬於僱傭關係，須符合《勞動基準法》之規定
  - (B)家教時間可依照契約自由原則由王太太和梅君協議訂定
  - (C)由於梅君尚未成年，因此擔任家教必須獲得父母的同意
  - (D)若小暉的成績毫無進展，王太太可以逕自提前終止家教

21. 圖一為行政院主計總處調查 2010 年我國 25～64 歲兩性具高等教育程度之比率圖，根據圖一資料判斷，下列敘述何者正確？

- (A) 女性年齡愈大，文盲比率愈高  
 (B) 女性受高等教育程度的比率逐年增加，性別平等觀念逐漸在教育層面落實  
 (C) 35～39 歲受高等教育的女性人數多於同年齡之男性  
 (D) 隨著年紀增長，求學意願遞減，故年輕者具高等教育程度者較多



圖一

22. 某學校進行國際交流活動時，老師要求來自不同國家的幾位國際學生，在課堂上討論自己國家如何落實責任政治的現況。請問下列何人的說法有誤？

- (A) 英國學生：「在我國，國會可以用不信任投票來監督政府，以追究內閣的集體責任與閣員的個人政治責任。」  
 (B) 美國學生：「在我國，國會可對總統行使彈劾權，不然，只能等下次總統改選。」  
 (C) 法國學生：「我國是以定期改選總統來監督政府，國會不會以彈劾權監督總統。」  
 (D) 瑞士學生：「我國負責執行政策的委員會要完全服從議會的政策，否則議會將解散執行委員會。」

### 23、24 題為題組

◎ 據報載，2012 年我國飲料市場吹起一股檸檬茶飲風，吸引果農紛紛搶種，主要產地屏東的種植面積，從 1,240 公頃擴張到 1,603 公頃，產量提高將近 30%。但後來受到茶安風暴的影響，檸檬茶飲逐漸退燒。

23. 根據上述，茶安風暴帶來市場上檸檬價格之變化，下列敘述何者最正確？

- (A) 檸檬供給量增加，均衡點改變，造成檸檬價格下跌  
 (B) 檸檬需求曲線向右移，均衡點改變，造成檸檬價格下跌  
 (C) 農委會若介入制訂檸檬的最低價格，可抬升檸檬行情，增加經濟效率  
 (D) 儘管檸檬市價下跌，但自由市場形成的均衡價格仍可達到最大的經濟效率

24. 為減少檸檬市場價格慘跌對農民生計造成的衝擊，某飲料店推出檸檬季活動，透過招牌茶飲翡翠檸檬、冬瓜檸檬等各種相關飲品來協助檸檬價格回穩，但該店使用的杯子卻是環境不易分解的塑膠杯。在其他條件不變的情況下，根據上文判斷，下列敘述何者最正確？

- (A) 檸檬價格下跌，廠商賣出的飲料愈多，則外部成本不變，利潤愈高  
 (B) 若考量檸檬飲料的外部成本，社會福利最大時的產量應該小於均衡數量  
 (C) 檸檬飲料賣出愈多造成社會成本愈高的原因是政府失靈的結果  
 (D) 衡量真實的社會成本後，增產並降價才可以使社會福利極大化

25. 岸裡社為中部平埔族巴則海族最大族群。該年（1715 年），岸裡社由「生番」歸化為「番」，岸裡社頭目阿穆（第一代總土官）因屢建奇功，該地縣令周鍾瑄給岸裡社阿穆「信牌」（開墾執照），第二年，岸裡社頭目阿穆請墾貓霧揀（臺中），並獲得縣令周鍾瑄答應。請問此位縣令周鍾瑄，應為何地方長官？  
(A) 諸羅縣縣令            (B) 嘉義縣縣令            (C) 彰化縣縣令            (D) 臺灣縣縣令
26. 花蓮縣吉安鄉的前身為吉野村，當地的開村紀念碑已有上百年的歷史。碑文提到「……卜（選擇）花蓮港廳下荳蘭地，設置移民指導所，招致內地移民……為本島官營移民嚆矢（開端）。」由於內地人口過剩、耕地與糧食不足，當時的官方積極鼓勵移民臺灣東部，建立移民村落。這些地方被更名為移民原鄉的地名，移民的後代因為在臺灣出生，被稱為「灣生」。即便後來因為政治因素集體離開臺灣，許多「灣生」仍對臺灣懷有特殊的情感。請問花蓮「灣生」的父母親移民來臺的背景為何？  
(A) 清朝平臺後，施琅招徠漳泉人民  
(B) 牡丹社事件後，沈葆楨招徠閩粵人民  
(C) 日本殖民臺灣後，總督府招徠日本人民  
(D) 二次大戰後，中華民國政府招徠大陸人民
27. 甲學者曾經表示，「他」讓哲學改變了方向，從對外在自然的研究，轉而研究人類的目的、以及社會中人類行為的各種目的。乙學者也說，「他」之前的哲學是自然學，因為「他」的出現，才使得哲學首次轉向倫理的思考。請問兩位學者談論的「他」是  
(A) 泰利斯            (B) 蘇格拉底            (C) 柏拉圖            (D) 亞里斯多德
28. 1929 年春，四川省廣漢縣南興鎮真武村村民燕道誠在自宅旁挖水溝時，發現一個長方形的坑道，坑內放滿了精美的玉石器。燕道誠隨後與家人把坑內 400 多件玉器搬回家，藏於各個角落。一年後，為將玉器出手，他將一塊玉瑗送給當時駐廣漢縣的一位旅長陶宗伯，陶宗伯以軍事訓練為名，大肆開挖。成都著名金石學家龔熙臺從燕家購買了 4 塊玉器，並寫作一篇《古玉考》發表在成都東方美術專科學校校刊的創刊號上，隨即消息傳出，古董商蜂擁而至。當時的廣漢縣縣長羅雨蒼認為古物出土應歸國家所有，隨即下令禁止私人挖掘。此堆玉器遺址緊接著出土大量精美的青銅器。請問此遺址的年代約與中國哪一個朝代同時？  
(A) 商朝            (B) 戰國時期  
(C) 漢朝初年            (D) 盛唐時期
29. 政府提出尊稱孫中山為國父的三項原則：「一、在政府機關民眾團體一律改稱國父。二在黨內稱國父或總理均可。三、民間已印就之圖書文字，不必強令改易。」至此，「孫中山＝總理＝中華民國國父」的論述公式，終告底成。而「中華民國國父」這個頭銜和孫中山畫上等號，被視為「約定俗成的事實」。請問這是哪一時期的政府命令？  
(A) 1920 年代的北洋政府            (B) 1940 年代的國民政府  
(C) 1950 年代的北京政府            (D) 1960 年代的臺北政府



30. 圖二深色的部分，是某次戰爭或長期對峙中，參加同一陣營的歐洲國家。請問此次戰爭或衝突是
- (A)第一次世界大戰  
(B)第二次世界大戰  
(C)冷戰  
(D)波斯灣戰爭



圖二

31. 一群來自大陸的知識分子藉由辦雜誌宣揚自由，另一群臺灣本地的社會菁英則透過地方選舉實踐民主，這兩股力量皆強烈呼籲，臺灣必須要有強而有力、能夠制衡執政黨的真正反對黨。他們在某年的選舉後宣稱即將成立新的政黨，結果主要領導人被以叛亂罪逮捕，雜誌亦遭停刊。以上所述應是哪一個政黨的籌組？
- (A) 1927 年的臺灣民眾黨  
(B) 1928 年的臺灣共產黨  
(C) 1960 年的中國民主黨  
(D) 1986 年的民主進步黨
32. 一部電影描述某個家族歷經來臺拓荒、墾田擴張、捐官從政、立功封爵的長久經營，奠定大家族的基礎。乙未割臺後，家族的兩個支系或留在臺灣發展文教，透過地方聲望和平的向日本爭取自治權；或內渡中國，尋求經濟或軍政方面的發展。二次大戰後，在臺的族長雖一度積極參政，但旋即因為二二八事件而對政府失望，乃移居日本，終老異鄉。電影所描述的應是哪一家族？
- (A)霧峰林家（林獻堂）  
(B)鹿港辜家（辜顯榮）  
(C)大稻埕李家（李春生）  
(D)臺南連家（連雅堂）
33. 一份中立國的報紙曾如此評論當時的戰後和約：「加諸德國的和約是如此地嚴酷、羞辱，以至於對『公平和約』仍有些微期待的人無可避免感到極度失望。……整個德國將被剝奪自由……財政的負擔是如此沉重，就算說德國將受經濟的奴役也毫不誇張。德國人必須不斷為外國主子辛勤工作，不但個人終將無所得，德國也沒有重獲自由或經濟獨立的指望。」請問這份報紙譴責的是哪一場戰爭的和約？
- (A)三十年戰爭  
(B)普法戰爭  
(C)第一次世界大戰  
(D)第二次世界大戰
34. 資料一：「某一軍隊前往屯墾，就地取糧，與中部的大肚王國發生衝突。後來沙轆社的反抗遭到強力進剿，屠殺至僅剩六人，幾乎滅族。」  
資料二：「某一政權聯合新港、目加溜灣、蕭壠等社的原住民，迫使麻豆社歸順其統治。大體控制了西南部平原地區後，開始在各社設立學校，加強傳教。」  
關於這兩則資料的解讀，下列何者最適當？
- (A)兩則資料發生在同一政權統治臺灣時期  
(B)資料一屬於該政權初期的武力征服，資料二屬於後期的推展教化  
(C)資料一發生在清治時期，資料二發生在荷蘭時期  
(D)兩則資料都呈現外來政權對平埔族群的衝擊

35. 歷史老師在黑板上畫出某一時期的臺灣行政區圖，如圖三；請同學在圖中標出該時期主要的貿易港口。請問下列哪位同學所標註的港口最符合當時的狀況？

- (A)庭禮：安平、鹿港、八里坌
- (B)寶珍：安平、打狗、淡水、雞籠
- (C)心蘋：基隆、高雄
- (D)韻璇：高雄、基隆、臺中、蘇澳



36. 「當時的中國陷入孤立，外有貿易制裁，內有這場全國性動亂的餘波。除了朝鮮、古巴、越南，世界其他國家的共產主義者都處於崩潰過程之中。中國著名的『持不同政見者』紛紛逃往國外，或尋求避難，獲得了同情和組織活動的自由。」請問上文中的「全國性動亂」是指什麼？

- (A)國共內戰
- (B)大躍進運動
- (C)文化大革命
- (D)六四天安門事件

37. 他從上海來到北京，為刊物籌措資金，蔡元培便親自來到他的住處拜訪，並聘其到北大教書，他對朋友說：「我從未在大學教過書，又沒有甚麼學位頭銜，能否勝任，不得而知，我試幹三個月，如勝任即繼續幹下去，如不勝任即返滬。」請問文中的「他」是誰？

- (A)胡適
- (B)陳獨秀
- (C)李大釗
- (D)魯迅

38. 《智慧宮：被掩蓋的阿拉伯知識史》：「成千上萬的珍貴手抄本布滿牆面，在這些紙頁之間，蘊藏著阿拉伯數字的原型與宇宙的奧祕。來自各地的飽學之士沉浸在書香中，翻譯、保存古老的典籍，更竭力突破人類所知的界限，互相激盪新的思想。這裡是伊斯蘭政權的翻譯與學術中心『智慧宮』。它是伊斯蘭黃金年代最璀璨的花朵，在掌權者的支持下，學者專家們從希臘、波斯、印度等古典學問手上，接下科學發展的火炬，用阿拉伯文寫下人類文明盛世。」請問這所「智慧宮」創於何時何地？

- (A) 7 世紀的麥加
- (B) 8 世紀的巴格達
- (C) 12 世紀的開羅
- (D) 15 世紀的伊斯坦堡

39. 「甲」時期的作者在頌揚自己再現古代文明輝煌的時候，總是極力貶低自己的上一代人，在他們的影響下，中世紀在很長一段時間內被認為是一個文化和經濟停滯發展的時代。事實上，中世紀的歐洲有過繁榮的技術創新和經濟活力，其影響力一直波及近代。請問「甲」時期作者所處的年代應是哪一時期？

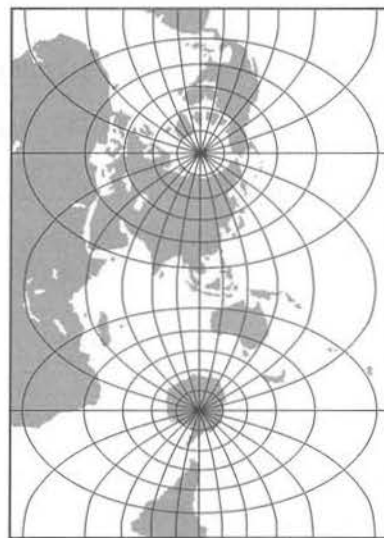
- (A)文藝復興
- (B)科學革命
- (C)啟蒙運動
- (D)浪漫主義運動

40. 這個時期的歐洲各國，一方面致力破除國內工業的障礙，廢除中古以來的行會規定和重商主義措施，加快私有企業的發展；另一方面降低關稅，鼓勵國際自由貿易。在新興的鐵路、汽船和電報等交通工具的幫助下，資本主義經濟的地理範圍隨著其商業交易的增加，突然成倍擴大，世界一體化逐漸成為現實。請問這個時期是

- (A) 16 世紀中期
- (B) 18 世紀初期
- (C) 19 世紀中期
- (D) 20 世紀晚期

41. 某一時期開始，社會上對商人的觀感改變，商人本身「亦儒亦賈」，雅好詩文，贊助文士畫家，成為一種風尚，或強調以儒道經商，不為奸利，講究商業道德。請問這個時期應是  
(A)西漢中期 (B)唐朝中葉 (C)南宋初年 (D)明朝後期
42. 在某個殖民地的獨立運動中，「他」扮演推波助瀾的角色。他以自然權利、主權在民的思想為核心，控訴君主的暴政；以現實利益說服眾人，「獨立」是避免捲入宗主國和他國紛爭的最好辦法；鼓勵殖民地人民要透過武裝鬥爭宣布獨立，達成為人類捍衛自由的神聖使命。請問他是  
(A) 1760 年代，北美十三州殖民地的湯馬斯·潘恩 (Thomas Paine)  
(B) 1930 年代，英屬印度的甘地 (Mahatma Gandhi)  
(C) 1940 年代，法屬印度支那的胡志明  
(D) 1960 年代，馬來西亞聯邦的李光耀
43. 一位大臣對其君主提出建言：南方政權為中國正統，且經濟豐厚，難以征服，而北方當前需要的是穩定政治，謀求種族調和，消弭未能順服的心腹大患。但後來君主未能聽從大臣的勸告，大舉出兵，終招致戰敗，並引發內部動亂而亡國。請問這位君主最可能是  
(A)曹操 (B)苻堅 (C)金世宗 (D)蒙哥汗
44. 一位政治團體相信由資本主義到社會主義的實現，是一個漸進而必然的轉變過程。他們反對躁進的變革，鼓吹階級合作、社會和平，主張通過民主選舉建立地方自治市政機關，逐步掌握煤氣、電力、自來水等公共事業所有權，漸進地一點一滴改良既有制度，實現社會主義。這個團體應該是  
(A) 1880 年代的英國費邊社 (B) 1910 年代的俄國共產黨  
(C) 1930 年代的德國納粹黨 (D) 1930 年代的美國民主黨
45. 某一時期，認為一個好的官員除了學識以外，人格、品貌也很重要，所以不僅要考核應試者的學問，還要看其舉止、談吐、書法及公文寫作的的能力，以選拔優秀的人才。請問這個朝代應是  
(A)漢朝 (B)西晉 (C)唐朝 (D)宋朝
46. 某場戰爭，雙方在今天俄國南部進行了一場為期 872 天的圍城戰，由於戰爭破壞了公共設施、食水供給系統、能源及糧食供應，導致該地區空前的大饑荒，造成最多 150 萬人死亡，140 萬名以上的平民及士兵撤離，其中很多在撤離時死於轟炸及饑荒。該地區其中一個墓地就埋葬了 50 萬名圍城戰的遇難者。經濟上的破壞及人命損失超過了長崎市原子彈爆炸。該圍城戰被列入世界歷史上最血腥的戰役，一些歷史學家更稱圍城行動為種族滅絕。該歷史事件應是指  
(A) 5 世紀中葉，北匈奴與羅馬帝國的戰爭  
(B) 13 世紀蒙古人西征時，與基輔公國的戰爭  
(C) 15 世紀鄂圖曼帝國往歐洲發展時，在該地所爆發的惡戰  
(D) 二次大戰時，納粹德國攻打俄國，在史達林格勒所爆發的戰事

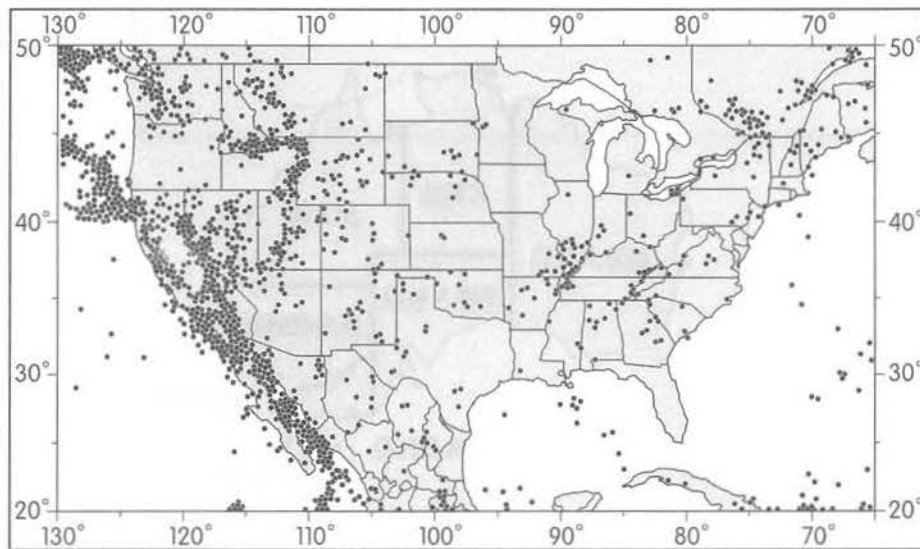
47. 一位學者以「從村落到國家」為題，探討中國上古時代的政治、經濟發展。下列何者可能會成為他文中討論此時「國家」形成的內涵？
- (A)青銅禮器的製作 (B)郡縣制度的實行  
(C)禪讓政治的確立 (D)稻麥農業的興盛
48. 魏晉南北朝，政治社會局勢動盪不安，人民流徙，南方與北方政權為增加稅收，都曾與士族爭奪「民戶」，其結果反映中央力量的強化，有助日後隋唐一統帝國的建立。當時哪些制度的實施，即與此事有關？
- (A)土斷制、均田制 (B)占田法、代田法  
(C)均田制、戶計制 (D)占田法、戶計制
49. 以下為關於海洋現象的相關研究，請問哪些項目較可能歸類為地理學三大傳統研究主題？
- 甲、整合漁業與海洋環境因子劃設海洋保護區  
乙、廖鴻基海洋文學作品研究  
丙、海巡署執行海洋污染查核機制  
丁、墾丁地區發展海洋生態旅遊之研究
- (A)甲乙 (B)乙丙  
(C)甲丁 (D)乙丁
50. 圖四為橫麥卡托投影法投射出來的地圖，相切在  $90^{\circ}\text{E}$  與  $90^{\circ}\text{W}$  組成的經圈。圖中放大變形最多的陸塊，最有可能是哪個地區？



圖四

- (A)南美洲 (B)南極洲  
(C)非洲 (D)北美洲

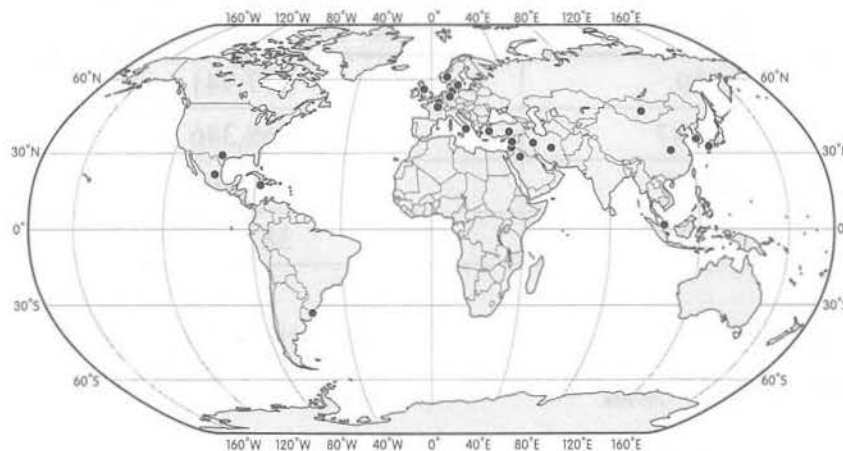
51. 圖五為依照美國某天然災害繪製而成的統計地圖，該種現象最可能是下列何者？



圖五

- (A) 龍捲風形成分布
- (B) 地震震央分布
- (C) 颶風影響分布
- (D) 暴風雪侵襲分布

52. 2015 年第 39 屆的世界遺產委員會會議在德國波恩舉行，本次會議決議新增「綜合遺產」1 項、「文化遺產」23 項。其中包括日本軍艦島、中國大陸土司遺址、新加坡植物園等，皆正式通過審議被列入《世界遺產名錄》中。圖六為 2015 年 24 個被列為世界遺產所在的國家分布圖。其中分布數量最多的是在哪一個文化區？



圖六

- (A) 東亞文化區
- (B) 西亞—北非文化區
- (C) 西方文化區
- (D) 東南亞文化區

53. 「狗花椒」是臺灣乾旱環境有利樹種的代表，全臺僅剩不到一千株。據調查，其生長空間分布於鐵砧山、大肚台地、八卦山等面海淺山鵝卵石台地。狗花椒於臺灣的生存空間主要介於哪兩條河流域之間？

- (A) 後龍溪、大肚溪
- (B) 大安溪、大肚溪
- (C) 大安溪、濁水溪
- (D) 烏溪、濁水溪

54. 澳洲的農牧業分布主要受氣候影響，圖七為澳洲七個省的行政區圖，依據各省的自然環境判斷，下列哪兩個行政區可同時出現粗放的牧羊業和商業性穀物農業？



圖七

- (A)西澳大利亞、南澳大利亞  
(B)昆士蘭、新南威爾斯  
(C)新南威爾斯、維多利亞  
(D)南澳大利亞、新南威爾斯
55. 表一為東南亞四國（泰國、新加坡、越南、印尼）2013 年的相關資料，由甲～丁依序是哪個國家的經濟、社會發展資料？

表一

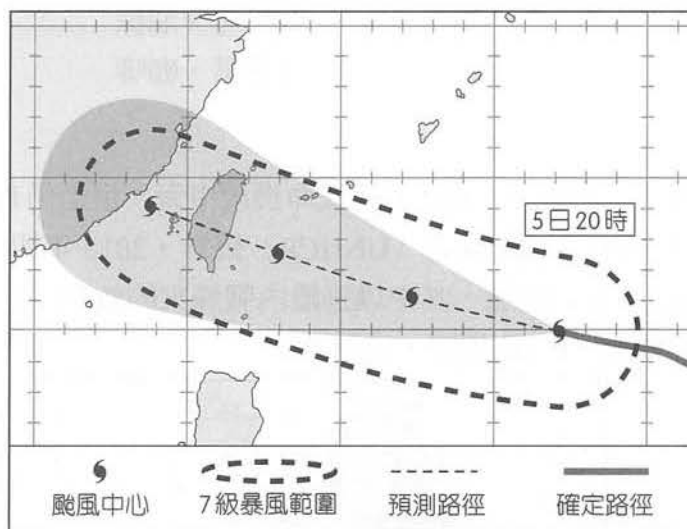
國家	人口數（萬人）	各國國內生產總值（百萬美元）	HDI
甲	539	297,941	0.901
乙	24,987	868,346	0.684
丙	8,970	171,390	0.638
丁	6,701	387,252	0.722

資料來源：世界銀行、UNDP。

- (A)泰國、新加坡、越南、印尼  
(B)新加坡、泰國、越南、印尼  
(C)新加坡、越南、印尼、泰國  
(D)新加坡、印尼、越南、泰國
56. 「南水北調」為中國為解決華北與西北地區用水不足問題而實施的工程建設，分為東線、中線、西線三大調水路線，繼東線後，2014 年底中線開始正式通水提供華北平原地區用水。中線工程的實施可能對地理環境產生哪些影響？
- 甲、沿線移民安置的問題  
乙、需穿越巴顏喀喇山  
丙、引發蘇北地區土壤鹽鹼化  
丁、可能導致血吸蟲病向北擴散
- (A)甲乙  
(B)乙丙  
(C)丙丁  
(D)甲丁

57、58題為題組

◎ 圖八為 2015 年蘇迪勒襲臺時，氣象局於 8 月 5 日 20 時公布的颱風路徑預測圖。圖中網格刻度為 1° 經緯度。請問：

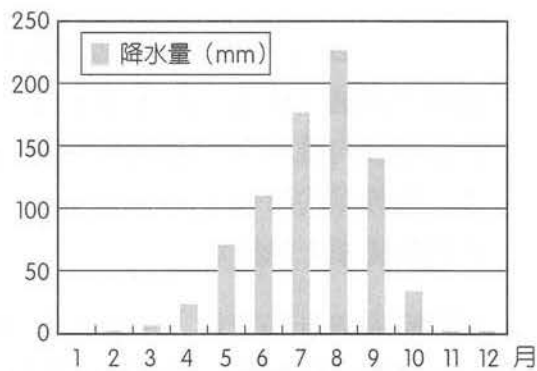


圖八

57. 8 月 5 日 20 時，颱風的中心位置最有可能是下列何者？  
 (A) 132°E, 10°N      (B) 132°E, 20°N      (C) 123°E, 15°N      (D) 123°E, 20°N
58. 颱風七級風以上地區稱之為暴風圈。請問蘇迪勒颱風 5 日 20 時暴風圈半徑約為多少公里？  
 (A) 180      (B) 250      (C) 400      (D) 500

59、60題為題組

◎ 「2014 年 10 月，位於西非的內陸國布吉納法索發生政變，總統流亡鄰國象牙海岸，軍方成立過渡政府，2015 年 9 月該國又發生政變。最後透過塞內加爾總統，與貝南總統共同前往該國進行多方協商，終於達成協議，恢復過渡政府。」非洲許多國家都有類似的政治情況。圖九是布吉納法索首都瓦加杜古的多年平均降水量各月分布圖。請問：



圖九

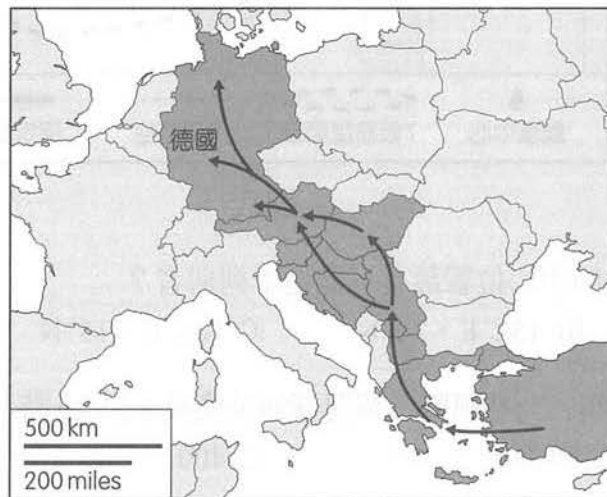
59. 瓦加杜古降水量集中 5 ~ 9 月分的特性，主要的影響原因為何？
- 甲、位於東北信風帶的迎風面      乙、赤道低壓帶北移，氣流上升  
 丙、西南季風從海上帶來水氣      丁、馬緯度無風帶南移，氣流輻合活動增強
- (A) 甲乙      (B) 乙丙  
 (C) 丙丁      (D) 甲丁

60. 布吉納法索是我國在西非的唯一邦交國，與其鄰國馬利、尼日、查德等國家，近年來為提升經濟成長，致力發展外銷導向的農業，鼓勵農民種植商業性作物，請問該國農民種植的商業性作物，最可能為下列何者？

- (A)棉花、花生  
(B)可可、油棕  
(C)甘蔗、玉米  
(D)茶葉、咖啡

61、62題為題組

◎ 至 2015 年 8 月底為止，有超過 2,600 名難民命喪地中海，但是仍有不少難民前仆後繼逃往德國等歐盟國家。根據聯合國難民署（UNHCR）統計，2015 年初以來，有超過 30 萬移民冒著生命危險橫渡地中海到歐洲，其中以逃離內戰烽火的敘利亞人最多。圖十是敘利亞難民前往主要目的地德國的遷移路線圖，請問：



圖十

61. 敘利亞自 2011 年 3 月內戰爆發後，讓這個鄰近地中海的國家陷入分裂危機，尤其是武裝團體伊斯蘭國（ISIS）2014 年 6 月在敘利亞邊境建政後，更多敘利亞民眾逃離家園。請問敘利亞爆發內戰與下列哪項因素關係最密切？

- (A)宗教教派的紛爭  
(B)水資源的爭奪  
(C)與鄰國領土的紛爭  
(D)石油資源的爭奪

62. 根據歐盟統計局資料，2014 年至 2015 年 7 月以來，難民申請前往歐盟庇護人數超過 35 萬人。請問這將對下列現行歐盟政策中的哪個項目影響最深？

- (A)馬斯垂克條約  
(B)申根公約  
(C)統一貨幣政策  
(D)關稅同盟政策





66. 根據表中資料可知四國的人口特性為何？


- (A) ①國人口高齡化最嚴重
- (B) ②國的勞動力短缺
- (C) ③國人口自然增加率最大
- (D) ④國人口增加數量最多

67、68題為題組

◎ 圖十二為 iPhone 6 PLUS 產業供應鏈與利潤分解圖。請問：



圖十二



圖十三

67. iPhone 6 PLUS 零配件的生產來自世界各地，主要原因為何？

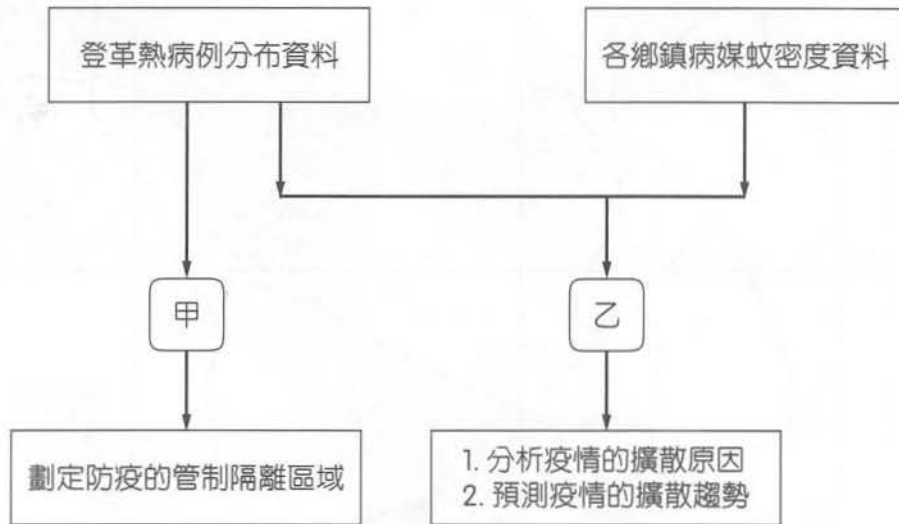
- (A) 獲得規模效益
- (B) 降低運輸成本
- (C) 獲得最佳區位優勢
- (D) 擴大市場占有率

68. 圖十三為 iPhone 的利潤分解圖，最適合用哪一個概念來說明？

- (A) 區位擴散
- (B) 空間移轉
- (C) 微笑曲線
- (D) 產品生命週期

69、70題為題組

◎ 2015 年 8 月臺灣地區爆發了登革熱的大流行，病例數突破歷年同期的紀錄，某位學生希望利用地理資訊系統來進行此次登革熱疫情的研究，他收集了登革熱病例分布資料和各鄉鎮病媒蚊密度資料，並進行了分析流程（圖十四）。請問：

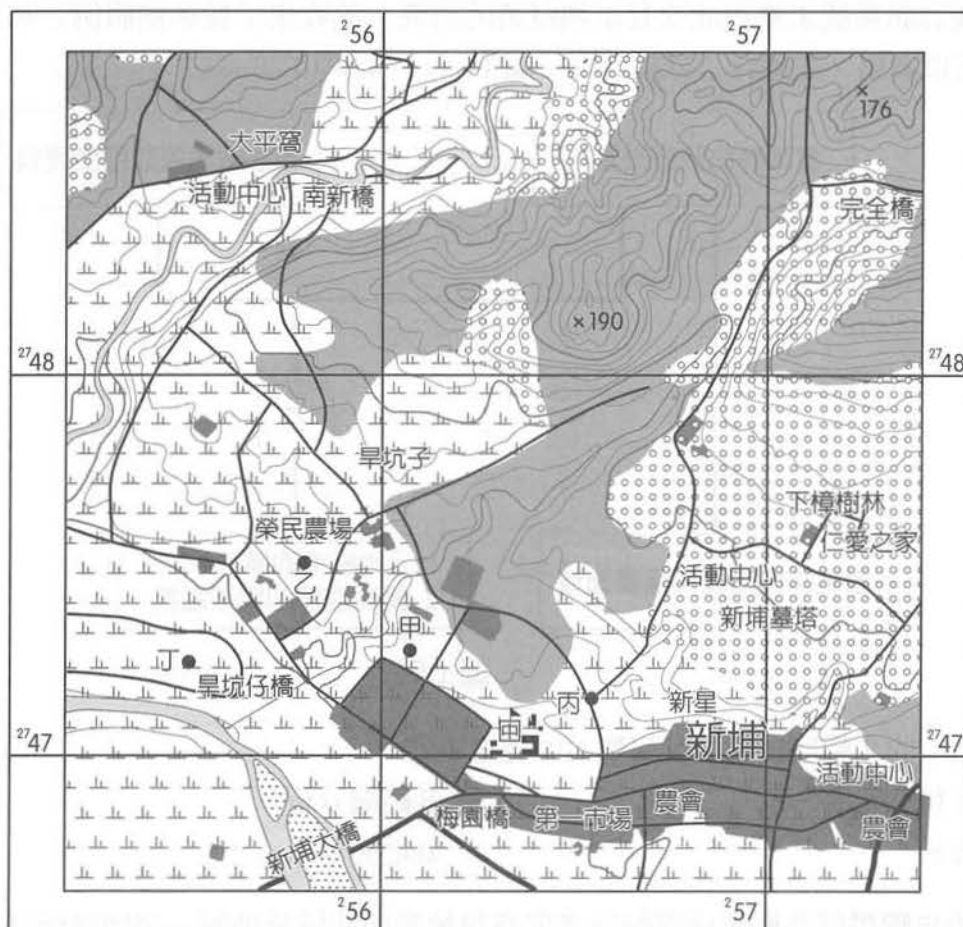


圖十四

69. 請問圖中甲的步驟應該是進行何種 GIS 處理流程？
- (A)環域分析 (B)路網分析  
(C)疊圖分析 (D)地勢分析
70. 圖中乙的步驟需要各鄉鎮病媒蚊的密度資料繪製成的統計地圖，請問該統計地圖應選用何種統計地圖，又乙應為何種 GIS 分析方式？
- (A)點子圖、環域分析  
(B)等值線圖、路網分析  
(C)面量圖、疊圖分析  
(D)線量圖、地勢分析

71、72題為題組

◎ 圖十五為二萬五千分之一的經建版地形圖。請問：



圖十五

71. 由圖上的等高線判斷 (257000, 2747300) 該處的地形為何？
- (A)沖積扇 (B)河階  
(C)山谷 (D)懸崖
72. 甲、乙、丙、丁四位同學同時以羅盤傾斜計測量老師的位置，得到的結果如下：老師位在甲的方位角  $130^\circ$ ；老師位在乙的方位角  $130^\circ$ ；老師位在丙的方位角  $245^\circ$ ；老師位在丁的方位角  $103^\circ$ ，請問老師的位置應在圖上的何處？
- (A) (255800, 2746600) (B) (256600, 2746800)  
(C) (255800, 2747600) (D) (256300, 2747050)