

臺北區 105 學年度第一學期  
第二次學科能力測驗模擬考試

社會考科

—作答注意事項—

考試範圍：第一～四冊

考試時間：100 分鐘

題型題數：

- 單選題共 72 題

作答方式：

- 用 2B 鉛筆在「答案卡」上作答；更正時，應以橡皮擦擦拭，切勿使用修正液（帶）。
- 未依規定畫記答案卡，致機器掃描無法辨識答案者，其後果由考生自行承擔。



99363205-25

◆單選題（占 144 分）

說明：第 1 題至第 72 題皆計分。每題有 4 個選項，其中只有一個是正確或最適當的選項，請畫記在答案卡之「選擇題答案區」。各題答對者，得 2 分；答錯、未作答或畫記多於一個選項者，該題以零分計算。

1. 某韓劇中的男主角不服從上級命令，選擇保護女主角所屬的醫療團隊而面臨懲處。男主角坦然受罰，並對女主角說明：「初任特種部隊小隊長的那天，有位前輩說穿上軍裝就得有穿著壽衣的覺悟。無論大事小事，我做的所有決定都包含戰友們的名譽、榮耀和使命感，我從不後悔我的決定，但這並不表示可抵消違反命令的事實。」上述的情況，依據相關理論，下列敘述何者正確？
  - (A)以米德的看法來分析，前輩應是男主角的「概括化他人」
  - (B)軍中戰友們對於男主角而言，屬於米德理論中的「客我」
  - (C)男主角坦然受罰，屬於柯爾伯格所謂「道德成規層次」的表現
  - (D)男主角選擇抗命，符合佛洛伊德理論中超我為人格調節器的觀點
2. 為了解全球女性與男性在職場上的發展，以及女性爭取職場平等的進展，美國人力資源公司（Mercer）以 42 個國家、近 600 個機構和 320 萬名員工為對象，進行調查，得到表一的統計結果。就表格中的數據判斷，下列相關敘述何者正確？

表一

職位	女性	男性
EXECUTIVES（最高管理階層）	20 %	80 %
SENIOR MANAGERS（高階管理階層）	26 %	74 %
MANAGERS（管理階層）	33 %	67 %
PROFESSIONALS（專業人士）	38 %	62 %
SUPPORT STAFF（基層人員）	49 %	51 %

資料來源：美國人力資源公司（www.whenwomenthrive.com）

- (A)女性勞動者較少，導致管理階層者亦較少
  - (B)現今職場發展，仍存有玻璃天花板之現象
  - (C)男性競爭力較女性強，因而導致此一結果
  - (D)男女管理職務比例差異，呈現性別職業區隔
3. 手機遊戲「寶可夢」（Pokémon GO）抓寶風潮襲捲全球，2016 年 8 月在臺灣開放下載，臺灣玩家人數最高曾達 790 萬，帶來大量商機。臺灣知名燒鴨店與遊戲開發商合作，於商店附近施放亞洲限定神奇寶貝大蔥鴨，推銷臺灣燒鴨。新北市政府也趁勢推出新北市風景區攻略地圖，鼓勵民眾抓寶，以推動觀光發展。根據上述，該遊戲所涉及的文化形式，下列敘述何者正確？
    - (A)寶可夢遊戲風靡全球，已經成為現今社會的主流文化
    - (B)臺灣寶可夢遊戲玩家眾多，已成為臺灣社會的大眾文化
    - (C)知名燒鴨店藉該遊戲行銷臺灣燒鴨，是全球在地化的表現
    - (D)政府藉該遊戲推廣觀光，是民間文化轉化為官方文化的表現

4. 依據研究結果，有 95 % 民眾認為臺灣社會充滿偏見，在電視或新聞媒體上常發現「原住民一定很會唱歌喝酒、外籍配偶學歷一定很低……」的觀點。而民眾產生上述觀念的可能原因為何？
- (A) 媒體在公共領域扮演重要的角色，可以提供真實的內容給閱聽人  
 (B) 媒體報導內容具有我族中心主義的色彩，可展現臺灣的民族認同  
 (C) 由於媒體所提供閱聽人的資訊，容易形成對特定族群的刻板印象  
 (D) 民眾普遍抱持文化相對論之觀點，因而易造成對特定族群的偏見
5. 依據不同時代背景的演進，西方民主理論依序被提出的有古典民主理論、經驗民主理論、多元民主理論、審議民主理論，下列哪一位學生的舉例說明符合「經驗民主理論」的觀點？
- (A) 花花：「立法院審查通過年度中央政府總預算案」  
 (B) 喜兒：「環保團體發起反對渡假村開發案之抗議遊行」  
 (C) 小一：「年金改革應廣納各方代表意見，以尋求共識為原則」  
 (D) 阿福：「藉由公民投票，複決是否降低國中小班級人數一案」
6. 某民主國家舉行國會大選後，由於獲得較多席位的數個政黨陷入僵持不下的政治困局，一直無法產生新的政府，國家元首因而簽署詔令，解散該國的國會，並另擇期舉行大選。若比較該國與我國的政府體制相同之處，下列何者正確？
- (A) 元首有權公布法律，並且行政首長也有副署權  
 (B) 兩國元首有法案覆議權，且行使方式完全相同  
 (C) 行政首長由國會議員兼任，經國會同意後任命  
 (D) 國會無不信任投票權，但元首皆有權解散國會
7. 現有四項公民投票案，其議題、選舉權人投票率與有效同意票比例分別如表二所示。若依據我國相關法律的規定，哪一項公民投票案將能順利通過？

表二

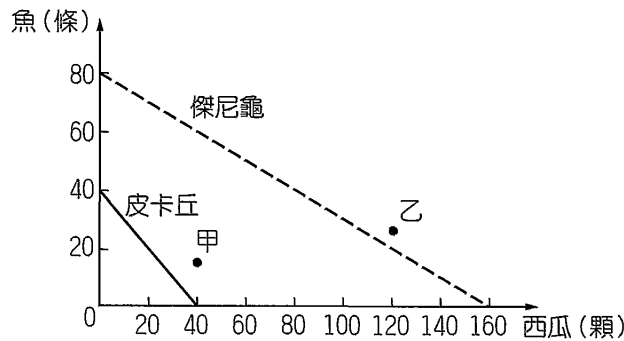
選項	公民投票議題	投票率	有效同意票比例
(A)	修正投票年齡案	42 %	87 %
(B)	地方設立性產業交易專區	60 %	48 %
(C)	離島地區設置觀光賭場案	30 %	67 %
(D)	核能電廠停用案	49 %	54 %

8. 大法官釋字第 734 號解釋指出，臺南市政府訂定之公告，不問設置廣告物是否有礙環境衛生與國民健康，及是否已達與《廢棄物清理法》所定行為類型汙染環境相當之程度，即認該設置行為汙染環境，概予禁止並處罰，已逾越母法授權之範圍，因此宣布該公告自解釋公布之日起，至遲於屆滿三個月時失其效力。依據釋憲文判斷，該公告違反何項法律原則？
- (A) 比例原則  
 (B) 明確性原則  
 (C) 信賴保護原則  
 (D) 法律保留原則

9. 大師兄與小師弟進行比武，二人簽下生死狀，同意比武規定「躺著的人輸、站著的人贏」，不論傷害多嚴重，都應自己負責。最後大師兄被小師弟打成重傷昏迷不醒。依據上文判斷，下列何者符合我國法律相關規定？
- (A) 契約有效，因二人已簽字同意
  - (B) 契約無效，因已違反公序良俗
  - (C) 受害者不能提起訴訟，因契約上已表示自己負責
  - (D) 受害者可以提起訴訟，因此事件屬告訴乃論案件
10. 16 歲的胖虎常偷拿室友大雄的水果，大雄多次勸告均無效，便裝置攝影機錄下胖虎拿水果的畫面，並上網搜尋相關法律規定後，發現該行為屬於非告訴乃論的竊盜罪。若大雄決定提起訴訟，下列何者是進行司法救濟後，可能發生的法律程序？
- (A) 法官念胖虎造成損害極小，給予緩起訴處分，命其對大雄道歉賠償
  - (B) 胖虎在緩起訴期間表現良好，期滿後刑之宣告即失效力，不再處罰
  - (C) 如果檢警知悉胖虎的行為則須介入調查，且大雄不得主張撤回告訴
  - (D) 胖虎尚未成年，可以心智不成熟做為阻卻違法事由，減輕刑事責任
11. 某私立高中發生老師體罰學生事件，引發大眾討論。部分人士主張私立學校並非公立學校，入學時家長和學生均須簽署「管教辦法同意書」（輔導管教辦法），願接受學校一切管教；人權團體則主張《教育基本法》已明定禁止體罰，政府應依法提供學生或家長救濟管道。文中對體罰的不同看法，下列敘述何者符合相關法律的規定？
- (A) 家長簽署校方的同意書屬私法契約，若達成合意即可實施
  - (B) 家長依法可向上級主管機關提出訴願，進行權利救濟程序
  - (C) 人權團體之主張，突顯該校之管教辦法，違反法律優越原則
  - (D) 管教辦法屬不成文法，《教育基本法》為立法院制定之成文法
12. 老年喪偶的杜先生，過世後留下 20 多億的遺產，遺囑中要求 5 個子女共同繼承遺產，且長子分得遺產的  $15/55$ ，其他四個子女各得  $10/55$ ，但定居美國的三子、四子認為分配不公，於是返臺打爭產官司。關於此訴訟，下列何者符合我國法律的規定？
- (A) 杜先生的子女返國後，可直接向該管地方法院提起訴訟
  - (B) 此遺產糾紛提起訴訟前，應先經由強制調解程序來解決
  - (C) 此遺產案金額較高，程序上應以高等法院為第一審法院
  - (D) 除長子外，其他子女可依法主張侵害特留分，提出訴訟
13. 知名線上遊戲某玩家怒嗆隊友是垃圾、腦殘，讓對方覺得被侮辱，憤而提告公然侮辱、妨害名譽，罵人的玩家因此被判拘役 30 天。下列關於此訴訟的敘述，何者符合我國法律的規定？
- (A) 妨害名譽屬於侵害社會法益的罪，檢察官應主動偵查
  - (B) 被罵的玩家可透過告訴的方式，請檢調單位介入偵查
  - (C) 被罵的玩家可自行到法院，對罵人的玩家提出公訴
  - (D) 拘役是要求犯罪者強制工作，為保安處分的一種方式

14. 某咖啡店不定期推出優惠活動，最近公告「只要持有與門市所在地相同縣市之身分證件到門市點購飲料，就可享有中杯升級大杯、大杯升級特大杯的優惠」。關於上述促銷活動，從經濟與法律的角度來分析，何者敘述正確？
- (A)生產者的生產成本會因而提高，故不符合經濟效率
  - (B)優惠活動會使得消費者剩餘增加，生產者剩餘減少
  - (C)飲料中杯升級大杯的優惠，將增加消費者的需求量
  - (D)所有門市聯合促銷，違反《公平交易法》相關規定
15. 在經濟全球化的時代，一件產品可能是由許多國家分工生產製造、合力完成，並透過國際貿易互通有無。關於全球化現象，下列敘述何者正確？
- (A)經濟全球化專指商品、技術的跨國性移動現象
  - (B)全球分工有助於出口國，增加就業並提升技術
  - (C)進口國國內產業會因此喪失競爭力，不利其發展
  - (D)已開發國家會將具比較利益產業，移至國外生產
16. M 牌汽車公司爆發部分車款油耗（每公升燃料行駛公里數）數據造假事件。造假原因，是因為(甲)在市場上與 S 牌汽車公司同款車競爭激烈；(乙)且因購買環保車可減稅，(丙)以及消費者對燃料效率頗為重視所致。政府主管機關研擬將對該公司懲處，(丁) M 牌公司亦準備給予消費者補償。依據上述畫線之處，下列推論何項正確？
- (A)(甲)顯示兩種汽車品牌間的關係為互補品
  - (B)(乙)是政府以課稅方式減少外部成本
  - (C)(丙)可以增加消費者的私人效益
  - (D)(丁)的做法可增加該國的 GDP
17. 台積電公司的願景為重視道德、堅守法治、永續經營，成為社會向上提升的力量。該公司每年提供實習機會給在學學生，並將學生分派至與所學領域相關的部門中學習，結合公司資源與同仁自發性的志工服務，協助偏鄉弱勢學子，取得多元學習機會。該公司的做法，以經濟發展的要素分析，下列哪些敘述正確？
- (甲)有助於人力資本的提升
  - (乙)可提升我國的政府效能
  - (丙)提高人造資本生產效率
  - (丁)可促進社會資本的形成
- (A)(甲)(乙)
  - (B)(甲)(丁)
  - (C)(乙)(丙)
  - (D)(丙)(丁)

18. 皮卡丘和傑尼龜漂流到公民島上，為求生採集西瓜和捕魚。圖一為兩人的生產可能線圖，甲、乙兩點分別為皮卡丘與傑尼龜分工交換後擁有物品的數量，請依據此圖判斷下列敘述何者正確？



圖一

- (A)以兩者採集西瓜的機會成本而言，傑尼龜較皮卡丘多一倍
- (B)不論是捕魚或是採集西瓜的生產活動，傑尼龜均具有比較利益
- (C)甲、乙兩點均在各自的生產可能線外，代表兩者投入資源增加
- (D)傑尼龜採集一顆西瓜，可與皮卡丘交換的魚介於 0.5 ~ 1 條之間

19、20題為題組

- ◎ 某航空公司與空服員因工作時間、休假天數等問題發生勞資爭議，空服員走上街頭爭取權益，該工會依法與資方針對爭議事項調解破局，發起罷工投票，並達法定標準後進行罷工。反對空服員罷工的民眾認為，此舉導致數十個航班停飛，使旅客行程受阻，因而痛批空服員不應妨礙多數旅客權益；也有部分旅客支持空服員，認為其罷工行動才可迫使航空公司妥協。
19. 依據空服員爭取其工作權益的行動歷程，下列何者敘述正確？
- (A)空服員爭取的工作權益屬於積極人權
  - (B)空服員依法組成的團體屬於初級團體
  - (C)空服員走上街頭是由上而下的社會運動
  - (D)空服員罷工為公開違法的公民不服從行動
20. 有關空服員罷工行動的影響，依據旅客的不同看法，判斷其符合公共利益的何項概念？
- (A)反對罷工的旅客較符合「效益主義」
  - (B)支持罷工的旅客較符合「功利主義」
  - (C)反對罷工的旅客較符合「社會正義論」
  - (D)支持罷工的旅客較符合「古典自由主義」

21、22 題為題組

- ◎ 我國前總統對於我國漁船遭日本扣押，繳交保證金才獲釋的事件，主張「沖之鳥是礁，不是島」，其附近海域屬公海，我國漁船有權捕魚，指示海巡署強力護漁、並由海軍護巡。而新政府上任後強調「沖之鳥是島還是礁，待國際組織決定」，並表示「以對話、合作取代衝突、爭端，是政府處理國際事務的原則，也符合各方利益」。
21. 針對上文中的爭議，下列敘述何者最適切？  
 (A)此爭議牽涉的只有國家主權之爭，不涉及領土爭議  
 (B)文中顯示國際政治中行為者為國家，無關國際組織  
 (C)此爭端之發生，是因兩國皆以本國經濟利益為考量  
 (D)新政府欲採取的互動模式，屬於國際間的正式外交
22. 對於此事件涉及的相關概念，下列敘述何者正確？  
 (A)公海中的漁資源成為爭奪標的，因其性質為準公共財  
 (B)各國漁民爭相捕魚的心態，是因財產權不完整所造成  
 (C)依據寇斯定理，漁權之爭透過資訊公開制度即可解決  
 (D)文中新政府所提出的國際組織，指的是世界貿易組織

23、24 題為題組

- ◎ 臺北市市政府對於高房價問題，提出了各項解決方案，在可複選的情況下，民眾的態度趨向，依據《聯合報》2016 年 3 月所做之民調，部分結果如表三。
- 而臺北市市政府提出的解決方案之一，是提供 570 戶的公共住宅，凡符合規定者，如設籍臺北市的就學、就業青年，無自用住宅之家庭，或低收入戶、身心障礙戶、受家庭暴力之家庭者，均可申請，其租金價格則約為市價之七折。

資料來源：聯合報 2016 / 3 / 28

表三

	方式	%
甲	提供優惠低利房貸	79
乙	鼓勵釋出空屋做為社會住宅	74
丙	興建社會住宅	67
丁	提供房屋租金補貼	62

23. 有關「甲」的性質，與下列何種政府財政支出類型相同？  
 (A)興建桃園機場第四航廈  
 (B)編列老人免費乘車經費  
 (C)採購新型阿帕契直升機  
 (D)提供公立學校教師薪資
24. 從政策決策的過程分析，臺北市市政府的做法，與下列何項屬相同階段的作為？  
 (A)對於大巨蛋應否續建相關事宜徵詢專家意見  
 (B)交通部研擬取消連假期間國道夜間免費政策  
 (C)修改《勞基法》將工時訂定為每週四十小時  
 (D)為解決東部交通問題而進行蘇花公路之改善

25. 某生計畫撰寫一篇小論文，他到圖書館借閱了《東番記》、《裨海紀遊》、《臺灣島志略》、《番社采風圖》四本書，詳加閱讀。請問這位學生想要研究的主題，最可能是下列何者？
- (A)大航海時代東亞海域的貿易  
(B)荷治時期宣教士傳教的狀況  
(C)鄭氏時期臺灣漢人社會形成  
(D)明末清初平埔族的社會變遷
26. 「歐洲某王室於 1620 年代初期，因為財產外流，加上軍費龐大，且白銀大量流入中國，出現有關侵略亞洲土地的討論。會議中有教士提議應該積極尋找更有商業利益的殖民地，這項建議深刻地影響了當時最重要的東亞殖民地總督，遂侵略其統治土地北方的海島。」請問上文的敘述是指下列何事的發生？
- (A)西班牙人入據菲律賓  
(B)荷蘭人入據澎湖  
(C)西班牙人入據北臺灣  
(D)荷蘭人入據南臺灣
27. 有一西方思潮「在 1980 年代盛行，強調維護西方民主傳統價值；在國際外交事務上，主張保持軍事優勢、對抗共產主義，在冷戰與國際反恐上扮演要角，對東歐共產瓦解、蘇聯解體有推波助瀾的功效。」請問這是哪一思潮？
- (A)新保守主義  
(B)麥卡錫主義  
(C)新自由主義  
(D)後現代主義
28. 春秋時期齊、晉、秦、楚四國崛起於邊陲，與它們為鄰的多是些文化低落的部族，因此可以自由地開拓領土，國力也不斷的增強。它們各據一方，而以中原弱小的國家做為爭奪的對象，這種爭奪便是所謂的「爭盟」或「爭霸」；能為中原多數國家所親附擁戴的便是霸主，請問下列敘述中何者屬於「春秋時期」的現象？
- (A)國際間已無信義，條約已失去約束力，戰爭的主要目的就是消滅敵國  
(B)各國在名義上都承認周天子為天下的共主，但是周天子的實權卻早已消失  
(C)各國為應付攸關存亡的戰爭，多厲行軍政改革，實施全民皆兵，大幅改變過去的舊體制  
(D)各國無視封建與宗法的規範，政權易主的現象不斷發生，如三家分晉、田氏篡齊，周天子也只能被迫承認或視而不見
29. 歷史老師發下五張古蹟建築的照片，分別為：(甲)「金廣福」公館；(乙)億載金城；(丙)「全臺首學」——臺南孔廟；(丁)打狗英國領事館；(戊)安平古堡。如果依照修築時間的先後次序予以排列，正確的選項是：
- (A)(戊)(丙)(甲)(丁)(乙)  
(B)(戊)(甲)(丙)(乙)(丁)  
(C)(戊)(乙)(丁)(丙)(甲)  
(D)(戊)(丁)(乙)(甲)(丙)
30. 周武王在牧野一戰大敗商紂，但周人只是推翻了商朝的中央政府，對於商朝的廣土眾民和舊有的諸侯國，並沒有直接加以征服。因此在克殷初期，對商人採取懷柔政策，賦予商人高度的自治權，並封紂王之子武庚於殷，同時設立三監（管叔、蔡叔、霍叔）就近監督。不料克殷不久武王即崩，此為周朝建國初期一個相當嚴重的政治難題，請問周人如何解決此一問題？
- (A)周公立孺子（成王）為君，而自居攝政之位  
(B)成王雖年幼，但聰慧過人，足以獨當一面，處理國家危難  
(C)管叔、蔡叔與霍叔認為成王沒有能力支撐大局，極力支持周公繼位  
(D)周朝初期君位傳承即有立賢之跡象，武王之後，由周公即天子之位，乃大勢所趨



31. 學者檢討某一政權敗亡的原因為：「自混一以來，大抵皆內北國而外中國，內北人而外南人，以致深閉固拒，曲為防護，自以為得親疏之道，是以王澤之施，少及於南，滲漉之恩，悉歸於北，迄今天祿之遷，盡歸於南，於此可見乘除勝負之理也」，指的是哪一王朝採行哪一政策而招致亡國？  
(A)北魏，遷都漢化 (B)遼朝，南北面官 (C)元朝，種族差別 (D)清朝，滿漢並置
32. 公元前 141 年劉徹即天子位，是為漢武帝。在他五十多年漫長的執政期間，曾做過多方面的改革，使漢朝成為一個名符其實的新朝代。請問下列處置，哪些是武帝時期的作為？  
(甲)建立年號，稱建元元年，這是中國帝王建立年號的開始  
(乙)採用董仲舒的建議，罷黜百家，獨尊儒術  
(丙)派遣張騫出使西域，欲聯結大月氏及西域諸國，共同夾擊匈奴  
(丁)將鹽、鐵、酒的經營權收歸國有，由官方統一掌控，這是政府國營事業專賣的開始  
(戊)認為過去用「王」來稱呼統治者，不足以襯托他的偉大與尊貴，乃兼採「三皇」、「五帝」之尊號，以「皇帝」做為帝王的稱號  
(己)大封劉氏子弟為王，立下「非劉氏不得為王」的分封政策  
(A)(甲)(乙)(丙)(丁) (B)(乙)(丙)(丁)(己) (C)(甲)(丙)(戊)(己) (D)(甲)(丙)(丁)(戊)
33. 魏晉南北朝時期的人口流動，非常的劇烈，除了兩晉時期漢族與胡族的大遷移外，南北朝時期的遷移，幾乎都與戰爭有關。如戰爭時俘掠對方的軍民，再遷於自己境內；或是為了充實都邑、形勢之地，而進行移民；再者是因為某地過度殘破，而將當地人民遷往他處。這些人口遷移的現象，從未長時間停止過。請問這些時期的統治者，曾使用過何種方法，成功化解因遷移所造成的衝突與矛盾？  
(A)東晉南朝實施「九品官人法」，利用政府選用官吏的機會，平衡各地人才的任用，進而化解「僑姓」與「吳姓」的衝突  
(B)東魏、北齊實施「府兵制」，將鮮卑人及大量漢人納入這種軍事組織，使其成為專司戰鬥的集團，成功地化解北方長久存在的胡漢衝突問題  
(C)東晉實施「土斷」，使南渡移民就地編列戶籍，同時負擔納稅與服役的義務，解決了僑民與江南百姓之間的矛盾，也增加了政府的財稅收入  
(D)北魏孝文帝實施「漢化」，禁胡服、斷北語、通婚姻、改姓氏等措施，將北方胡人與漢人之間的隔閡徹底解決，這是後來北魏統一北方的主要原因
34. 春秋戰國時期國君為能富國強兵，在人才的選擇與任用上，往往不拘形式，也不在意身分或是國籍，可說是「用人唯才」的時代。可是當大一統的時代出現後，人才的選任就不能沒有制度化的考量與長遠性的規劃，請問下列哪一個時期的人才選用制度，最能從社會中廣泛而且比較公平的挑選出優秀的人才，為國家效力？  
(A)隋唐以來採用科舉考試的方式，自民間吸納人才  
(B)漢代自武帝以後實施的「孝廉制」，每年由地方選拔孝子、廉吏推薦給中央任用  
(C)漢武帝設立太學，置五經博士，為其選擇弟子，經過一年的考核，通經者可以為官  
(D)魏晉時期的「九品官人法」，將士人依其家世的顯赫程度分等級，再依此做為任用官員高下的依據

35. 關於清朝統治後期的臺灣，受外力衝擊下的影響，何者敘述正確？  
(A)鴉片戰爭——臺灣開港通商  
(B)牡丹社事件——清廷派丁日昌來臺，積極治理  
(C)中法戰爭——臺灣建省，以劉永福為首任巡撫  
(D)甲午戰爭——臺灣成為日本的第一個殖民地
36. 雙英行腳臺灣，走進鄉間某一祠堂，看見祖源碑記上鐫刻著「明末清初年間，時值世局動盪不安之際，百姓諸多流離失所，為了生活離鄉背井，在特殊因緣下，於永曆二十四年，歲次庚戌（公元 1670 年），開臺先祖隨著人潮自福建詔安來到臺灣，當時年十有三，迷途孩童，舉目無親」，以雙英對兩岸歷史的了解，此一先祖的來臺應與何事有關？  
(A)倭寇侵擾東南沿海  
(B)流寇劫掠閩粵地區  
(C)清廷實施海禁遷界  
(D)三藩舉兵對抗清廷
37. 資料一：上海杭州女子穿著短衫長裙，衫是天青色，裙是玄色，不太擦粉，出落得自自然然的。  
資料二：崔真吾是寧波章村人，因反對媒妁婚姻脫離了家庭。某年她回家鄉，幫助種貝母的農民反對一位豪紳的壟斷，官司打了幾年，又發動農民焚香遞呈，向當局請願，才得到勝利。  
上述資料，反映著哪一時代？  
(A)資料一為南宋，資料二為明朝晚期  
(B)資料一為東晉，資料二為清朝末年  
(C)資料一、資料二均為中共文化大革命時期  
(D)資料一、資料二均為民初新文化運動時期
38. 奧林匹克運動會最早起源於兩三千年前的古希臘，因為舉辦地在奧林匹亞（Olympia）而得名，後來因為古希臘沒落，奧運從此停辦了近 1500 年。直到近代，約 19 世紀末才由法國的皮埃爾·德·顧拜旦男爵創立了有真正奧運精神的現代奧林匹克運動會，而第三十一屆奧林匹克運動會也順利於今年（2016 年）8 月盛大舉行。下列對奧林匹克運動會的相關敘述，何者正確？  
(A)今年開創了由南半球主辦奧運的先例  
(B)今年的賽事是第一次由西班牙語系國家負責舉辦  
(C)古希臘時代，各城邦常發生戰爭，但奧林匹克運動會舉辦期間，各城邦會暫時停戰  
(D)古奧林匹克運動會後來被羅馬皇帝尼祿以違反基督教教旨，是「異教徒的活動」，而宣布廢除
39. 著名民謠創作歌手巴布·狄倫（Bob Dylan，1941～），1964 年時發表〈時代在變〉（*The Times They Are a-Changin'*）一曲，歌詞提到「國會的參議員眾議員，請留心這呼喚……門外將有一場戰鬥，憤怒將擊碎你的大窗，撞倒你的高牆，因為時代正在轉變。」請問歌詞中的「戰鬥」是在訴求什麼？  
(A)鼓勵年輕人加入韓戰戰場  
(B)爭取民權與支持反越戰  
(C)鼓勵年輕人投入越戰戰場  
(D)對抗蘇聯的「冷戰」

40. 在「中國南海發展史」研討會上，有位學者發表看法：「……此時，西北陸路往來並不暢通，而回教盛行於中東，亟欲向外發展，穆斯林挾其精良的造船術和航海技術來到南洋及中國貿易，而中國政府對外實行開放政策，設置市舶司，從明州、泉州、到廣州都製造精良的海船且使用磁針羅盤於遠洋航海，與中國有通商往來者多達五十餘國，遍及海南，遠至非洲東岸，進出口貨物在 500 種以上。」學者指的是中國何時海上貿易的盛況？

- (A)唐代
- (B)宋代
- (C)元代
- (D)明代

表四

年代	白銀 (兩)	銅錢 (文)
1722	1	780
1735	1	840
1765	1	890
1695	1	1,150
1820	1	1,226
1839	1	1,679
1856	1	1,810

41. 表四為 18 ~ 19 世紀中葉，中國白銀與銅錢的價格兌換表，此一時期「銀愈貴錢愈賤」，對中國經濟民生產生衝擊，造成此一現象的原因為何？

- (A)內外戰事頻繁，政府因應軍需大量鑄造銅錢
- (B)和珅當道吏治腐化，民間私鑄銅錢以應需索
- (C)鴉片走私進口不斷增加，大量白銀漏往海外
- (D)不平等條約陸續簽訂，白銀因賠款日漸流失

42. C. Warren Hollister 的《西洋中古史》對歐洲中古全盛期有這樣的描寫：「11 世紀末，歐洲蓬勃的商業、熱鬧的城市、文化的生氣、政治的創意、軍事的擴張、宗教熱忱的提升，使人毫不懷疑：重大的活力正在運作——西方基督教世界終於成為一個重要的文明了。」這段時期，歐洲出現了兩大商業中心，後來逐漸建立廣泛的貿易路線，發展歐洲的內陸貿易。此兩大商業中心：一個在南方，以造船業聞名；另一個在北方，以紡織業發跡，請問在北方的是指哪一商業中心？

- (A)威尼斯
- (B)法蘭克福
- (C)佛羅倫斯
- (D)法蘭德斯

43. 陳某為臺灣的蔗農，但是他所栽種的甘蔗卻無法任意買賣，因為政府規定只能賣給某家糖廠進行加工。因此，他每年的收成都被這家糖廠刻意壓低價格，一家子的生活僅能勉強溫飽。請問陳某應該是何時何地之人？

- (A) 1650 年，大員
- (B) 1890 年，臺南
- (C) 1920 年，嘉義
- (D) 1950 年，臺南

44. 「藉此會議我們共同考量及決定了我們同盟三國對德國的最後進攻計畫……我們相信，經過本會議三大領導密切的協議溝通，戰爭將會很快結束。……我們共同擬定了基本方針與計畫，務使納粹德軍抵抗勢力全部瓦解後無條件投降。……在此共同擬定的計畫基礎上，同盟三國的軍隊將分別占領的一部分領土，由總部設於柏林、結合三國最高指揮官所組成的中央控制委員會統一管理與控制。」請問上述是第二次世界大戰期間同盟國召開的哪一次會議的協議內容？

- (A)德黑蘭會議
- (B)開羅會議
- (C)雅爾達會議
- (D)波茨坦會議

45. 以下是擷取自某份文件的重要內容：

甲、羅馬教會只是由上帝建立的。

乙、只有羅馬教皇能任免主教。

丙、教皇可以廢黜皇帝。

丁、臣民在取得教皇的訓諭和許可後，可以指控他們的領主。

戊、羅馬教皇一經正式任職，根據聖彼得的功績，無疑是神聖的。

請從上述內容判斷此份文件最有可能出現於何時？

(A) 公元 4 世紀《米蘭詔令》頒布時

(B) 公元 11 世紀政教衝突時

(C) 公元 16 世紀宗教改革時

(D) 公元 19 世紀浪漫主義流行時

46. 中古後期，由於歐洲傳統價值鬆動，再加上希臘、阿拉伯的書籍譯成拉丁文，使西方思想頓時浪花四起，原有教會學校已不能滿足知識分子，遂有大學紛紛興起。有關中古歐洲大學發展的特色，何者為是？

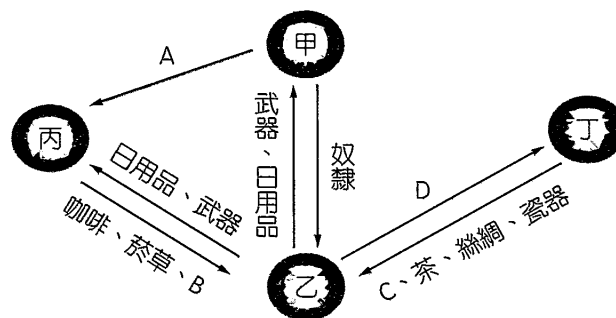
(A) 中古歐洲的第一所大學是巴黎大學

(B) 中古大學因文藝復興時期提倡人文主義而興起

(C) 中古大學由教會學校演變而來，因此對授課地點、書籍等，皆維持嚴格管制

(D) 大學拉丁文為 Universitas，原意有「大家」、「社團」之意，早期的大學是一種學人基爾特 (guild)

47. 圖二是 17 世紀初全球貿易的商品交換示意圖，圖中的 C 最有可能代表什麼物產？



圖二

(A) 白銀

(B) 香料

(C) 可可

(D) 鴉片

48. 某史書寫道：「農民被趕出農村，城市僅剩下廢墟，道路難民充斥，瘟疫與饑荒流行。此時已經掌權的布爾什維克份子，卻無視數百萬人餓死，頻頻透過戰爭，忙著鞏固自己的權力。」上述情景的時空背景為何？

(A) 中產階級發動大革命，結束沙俄帝制

(B) 沙皇加入一戰戰局，徵召民眾赴戰場

(C) 列寧發動內戰，剷除國內反革命分子

(D) 史達林鎮壓異議分子，落實集體農場

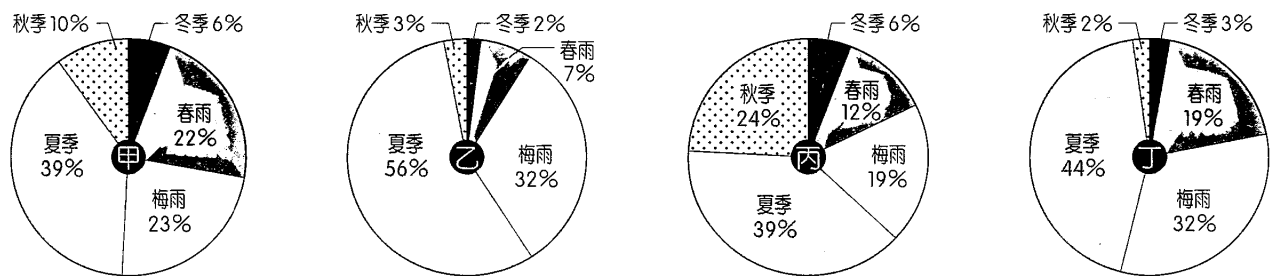
49. 臺灣墾丁的「風吹砂」因地層為紅土及沙的混合物，經雨水和風力長期的侵蝕而成為沙的來源。雨季時窪地雨水匯集，沙子順著地形流向海洋而為沙河，白沙由台地邊緣垂直滑瀉約 70 公尺至海岸而形成沙瀑。在乾季盛行風吹起時，會將沙沿崖坡吹送至崖頂，如此兩種逆向搬運作用，造成風吹砂之特殊地形景觀。請問題幹中所謂的「盛行風」指的應該是哪一種風？

- (A)東北季風
- (B)東南信風
- (C)西南季風
- (D)盛行西風

50. 「屏東縣潮州鎮民長年抽取地下水使用，導致地下水位降低，有 20 餘年地下水不再自然湧出，直到 2 個月前因大潮州人工湖『補水有成』復見昔日光景，街坊見狀一陣欣喜，但某處卻因而積水不退，潮州里長鍾文哲憂成病媒蚊溫床，趕緊通報鎮公所處理。」由上述報導可以推論，潮州鎮最有可能位於沖積扇的哪一種地形上？

- (A)扇頂
- (B)扇面
- (C)扇央
- (D)扇端

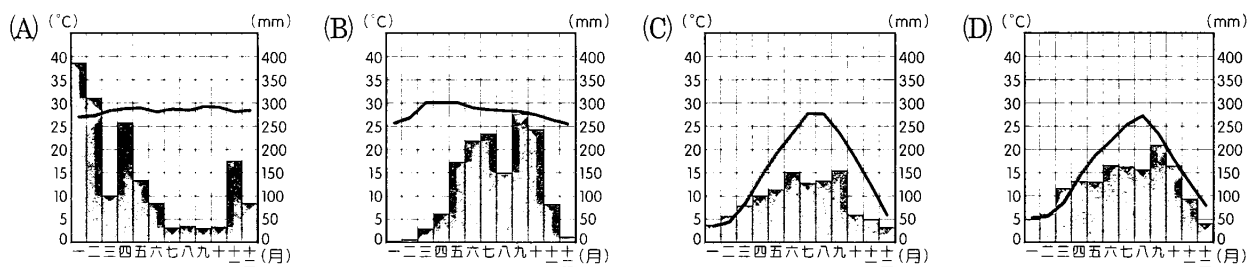
51. 臺灣因中央山脈的阻隔，各區域降水量有不同的季節特徵。根據臺灣降水量的氣候特徵，可將全年分為冬季（12 月～隔年 1 月）、春雨（2～4 月）、梅雨（5～6 月）、夏季（7～9 月）及秋季（10～11 月）5 個時期。圖三為臺灣某 4 個都市不同季節降水量占全年累計降水量比例圖。下列何者最有可能為東部區域的都市？



圖三

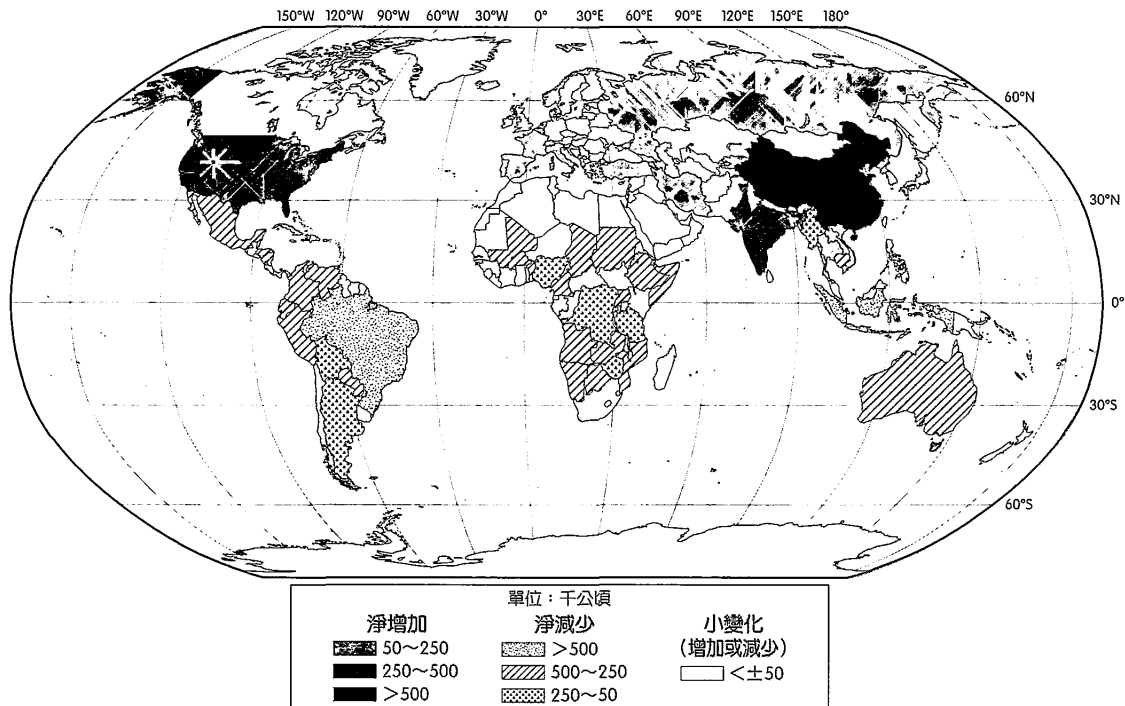
- (A)甲
- (B)乙
- (C)丙
- (D)丁

52. 元朝周達觀曾著作《真臘風土記》，其中記載：「真臘四時常如五六月天，不識霜雪，半年有雨，半年絕無」。依上文判斷，當地氣候圖最有可能是下列哪一幅？



53. 東協經濟共同體（AEC）在 2015 年的最後一天正式上路，東南亞 6 億多人口已經正式迎接新世界，成為商品、服務、資本與技術性勞力自由流動的單一市場。東協共同體為亞洲第三大經濟體，與中國大陸和日本相比，東協共同體更具有哪一項優勢？
- (A) 人口扶養比更低
  - (B) 產業技術層次更高
  - (C) 人口年齡組成更年輕
  - (D) 中產階級的購買力更好

54. 保護森林是近年來各國政府皆非常重視的環境政策，圖四為聯合國糧食暨農業組織公告的 1990～2015 年世界森林面積增減率分布圖。下列關於各國森林增減的原因，何者較正確？

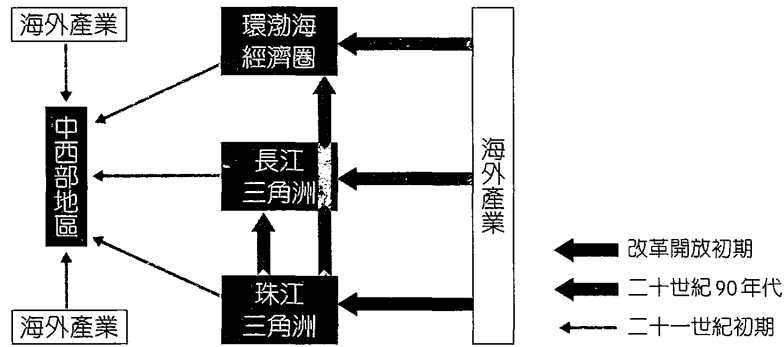


圖四

- (A) 印尼森林面積減少的主要原因，是因為開採柴薪及擴展牧場
  - (B) 中國大陸森林面積大幅增加的主要原因，是因為政府環境政策，擴大植林面積
  - (C) 西非撒赫爾地區森林面積減少的主要原因，是乾旱年使得沙漠化現象更加顯著
  - (D) 巴西森林面積減少的主要原因，是為了發展生質能而大量砍伐熱帶林轉為甘蔗田
55. 下列關於各國產業優勢的敘述，哪些正確？
- 甲、俄羅斯成為世界重要能源供應國，是因為研發出新開採技術
  - 乙、印度成為世界重要的後勤服務部門，主要原因是通訊技術的革新，使國際通訊成本大幅降低
  - 丙、澳洲為重要的農、牧、礦業輸出國，第二、三級產業的產值比例低於第一級產業
  - 丁、印尼與越南能逐漸取代中國大陸而成為重要的紡織、成衣及製鞋業所在地，是因為土地及勞力等成本都比中國大陸更低
- (A) 甲乙
  - (B) 乙丙
  - (C) 乙丁
  - (D) 甲丁



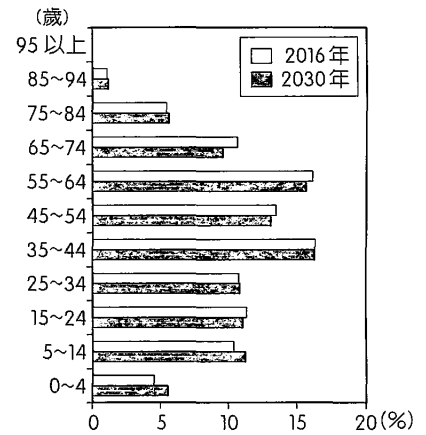
59. 圖七是中國大陸產業轉移路線示意圖。下列有關中國大陸產業轉移的敘述，何者正確？



圖七

- (A) 技術密集產業向中、西部地區轉移
- (B) 產業的轉移造成珠江三角洲的產業空洞化
- (C) 二十一世紀初的產業轉移以原料、勞力區位為主要考量
- (D) 海外產業向中國大陸轉移，最初主要集中在長江三角洲地區

60. 2016 年 1 月 1 日起，中國大陸開始實施「全面二孩」政策，這意味著長達 30 多年的一胎化政策正式結束。圖八為全面開放二孩的人口年齡結構預估圖，由此圖可得知哪些訊息？



圖八

- 甲、扶養比提升
- 乙、性別比例可望平衡
- 丙、人口高齡化問題能得到解決
- 丁、仍應加強發展老人安養產業

- (A) 甲乙
- (B) 丙丁
- (C) 乙丙
- (D) 甲丁

61. 圖九為美國某區的景觀，請依此圖判斷該地區最有可能會遭受到哪些天然災害？



圖九

- (A) 暴風雪、龍捲風、地震
- (B) 暴風雪、龍捲風、乾旱
- (C) 龍捲風、颶風、乾旱
- (D) 暴風雪、龍捲風、颶風



62、63題為題組

◎ 圖十為中國大陸長江、黃河、松花江、珠江四大流域 1961 ~ 2010 年水平衡圖。請問：

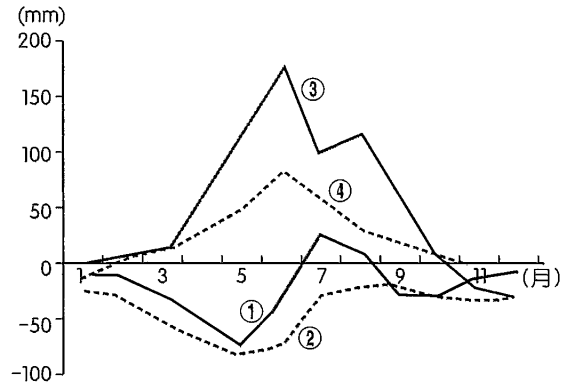
62. 1970 年代以來，圖中②流域有哪些環境問題？

- 甲、水資源汙染
- 乙、沙塵暴加劇
- 丙、土壤鹽鹼化
- 丁、洪患頻率增加

- (A)甲乙丙
- (B)甲丙丁
- (C)乙丙丁
- (D)甲乙丁

63. 下列關於圖十的推論，何者正確？

- (A)南水北調為③流域的水調往②流域
- (B)③流域為中國大陸航運最發達的河川
- (C)導致②流域缺水嚴重的原因是位處乾燥氣候區
- (D)導致①流域 3 ~ 5 月缺水的主要原因是降水量減少



圖十

64、65題為題組

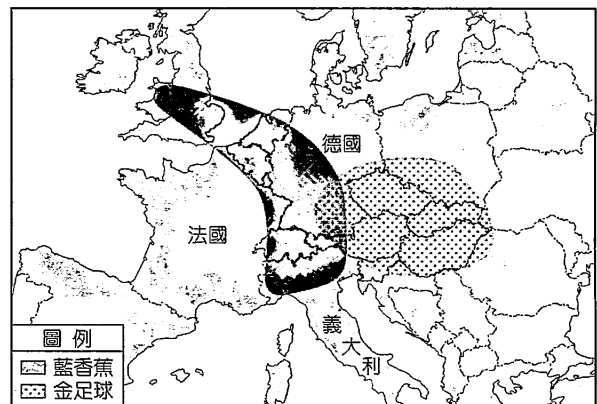
◎ 1989 年，從英國曼徹斯特到義大利米蘭的歐洲工業中心一度被稱為「藍香蕉」。25 年後，歐洲的工業地帶已經往東遷移，以德國南部為中心，向波蘭、匈牙利、捷克、羅馬尼亞延伸的「金足球」地帶（如圖十一），這些國家已成為德國工業的延長生產線。德國也因此建立了其在歐洲經濟中的主導地位。請問：

64. 當歐洲的製造業轉移至「金足球」地帶後，位處於「藍香蕉」的國家會出現什麼變化？

- (A)製造業就業占整體就業的比例上升
- (B)技術移轉後，研發中心也向東移動
- (C)經濟蕭條不振導致許多工業都市有倒閉危機
- (D)部分國家產業轉型為以金融業或服務業為主

65. 2016 年 6 月，藍香蕉區重要國家，也是歐盟的第二大經濟體——英國，公投退出歐盟。退歐程序已在 10 月正式啟動，預計在 2019 年春季，英國將會正式退出歐盟。請問英國在 2019 年退出歐盟後，最可能會出現下列哪一種改變？

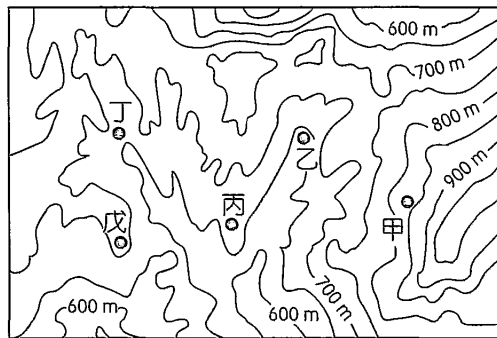
- (A)持有申根簽證將不能進入英國
- (B)持有歐元將無法在英國購買任何商品
- (C)歐盟貨物進入英國將會被課高額的關稅
- (D)歐盟公民將無法自由進出英國居住與工作



圖十一

66、67.題為題組

◎ 精靈寶可夢 (Pokémon GO) 是一款行動平臺擴增實境遊戲，臺灣於 2016 年 7 月開始提供免費下載。玩家透過實際的移動，可以進行「孵化」與「捕獲」精靈寶可夢。此外，在遊戲中還會針對不同區域提供不同的精靈寶可夢，比如在靠近水 (湖泊、海岸、河灘) 的區域，水系的精靈寶可夢出現的機率會比其他地方的還要高。請問：

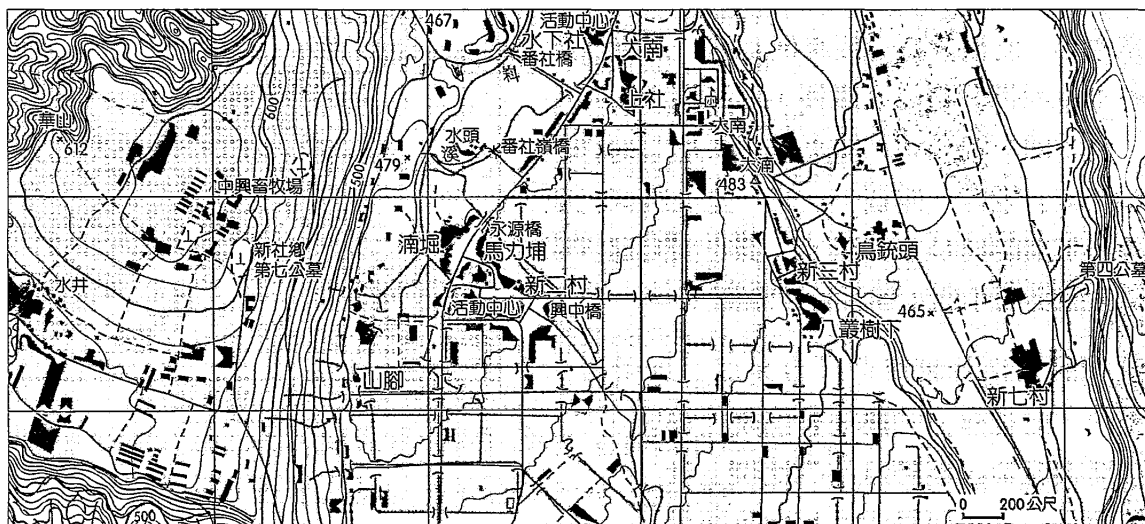


圖十二

66. 玩家在圖十二中哪些地方比較容易找到水系精靈寶可夢？  
(A)甲乙 (B)乙丁 (C)丙戊 (D)甲丙
67. 今天玩家帶著手機坐在北投公園的椅子上捕捉寶可夢。在 10 分鐘內，雖然人並未移動，但畫面中的人偶卻開始起身走動變換在圖中的位置。會呈現出這樣的結果，最有可能的原因是什麼？  
(A)經緯坐標轉換位移 (B)玩家不斷搖晃手機  
(C)手機出現零件故障 (D) GPS 衛星定位誤差

68 ~ 70.題為題組

◎ 圖十三為臺灣某地的等高線地形圖，某高中地理老師計畫帶領學生進行野外實察，並和學生們約在中興畜牧場集合，先俯瞰整個地形後再進行實察活動。請問：



圖十三

68. 圖十三原本的比例尺為 1 : 25,000，但因為截圖的過程中不慎變更了本圖的比例尺。請問該圖目前的比例尺為何？  
(A) 1 : 5,000 (B) 1 : 25,000 (C) 1 : 40,000 (D) 1 : 50,000
69. 來到本區進行地形實察，最主要應該是要觀察哪一種地形？  
(A)沖積扇 (B)三角洲 (C)河階 (D)氾濫平原
70. 承上題，下列有關集合地點的敘述，何者正確？  
(A)位於台地面上 (B)位於最高河階面上  
(C)屬於三角洲的出口處 (D)位於沖積扇的扇頂位置

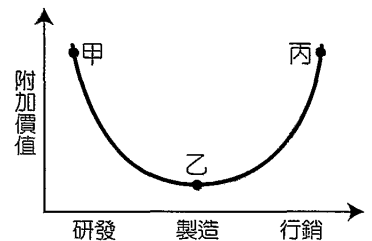
71、72題為題組

◎ 「奧運奪金，臺灣製造。」臺灣雖然在 2016 年里約奧運並沒有特別突出的運動成績，但臺灣的相關產業卻已經先「打進奧運」，創造近 5,000 億元新臺幣產值。表六為臺灣各產業在運動用品上具有「冠軍」地位的說明。請問：

表六

	產業冠軍地位
勝利體育	1. 在臺灣成立研發與行銷總部，大膽挑戰高端市場 2. 本屆里約奧運，韓國、馬來西亞國家隊以及其他國家，超過 20 位球員持 VICTOR 球拍，市占世界第二
欣展工業	1. 2014 年，世界盃足球賽冠軍賽球隊穿臺灣製鞋底 2. 2008 年，北京奧運百米金牌鞋底由臺灣企業製造 3. 全球 10 大運動專業鞋品牌，有 9 個有用到臺灣製造
龍偉實業	1. 美國職棒大聯盟、美國職業籃球賽護具都由臺灣企業製造 2. 護具使用碳纖維材質，強度高、重量輕
豐泰企業	1. 過去運動鞋的鞋面，是以多塊鞋材拼貼而成，而 Flyknit 編織運動鞋可省下 1/3 用料，減少廢棄物，更為環保 2. 臺灣是全球最大專業籃球鞋製造國家、從 NIKE 到 UA 都找臺灣代工，臺灣正轉型成這些品牌的代工研發設計中心
遠東新世紀	1. 2014 年世界盃，巴西、美國、葡萄牙等 5 國足球國家隊戰袍，都穿臺灣製、回收寶特瓶製造的足球衣 2. 每屆世足賽約有 1/3 球隊穿臺灣製造的球衣（含非寶特瓶回收衣）

71. 由表六中資料可以看出，除了勝利體育之外，其餘的業者都努力調整發展方向。這樣的「調整發展方向」，若在微笑曲線中（圖十四），其移動方向應為下列何者？



圖十四

- (A) 丙→乙
- (B) 乙→甲
- (C) 乙→丙
- (D) 甲→乙

72. 下列有關表中呈現的產業發展情況，哪一句話最足以呈現出臺灣產業的發展脈絡？

- (A) 產業多元化，出口多元化
- (B) 以農業培養工業，以工業帶動農業
- (C) 製造業服務化、服務業國際化及科技化
- (D) 本身有生產製造基礎，才有能力發展研發