

臺中市立高級中等學校

106 學年度學科能力測驗第一次聯合複習考試

考試日期：106 年 11 月 2~3 日

社會考科

—作答注意事項—

考試時間：100 分鐘

題型題數：

- 單選題共 72 題

作答方式：

- 用 2B 鉛筆在「答案卡」上作答；更正時，應以橡皮擦擦拭，切勿使用修正液(帶)。
- 未依規定畫記答案卡，致機器掃描無法辨識答案者，其後果由考生自行承擔。

單選題 (占 144 分)

說明：第 1 題至第 72 題皆計分。每題有 4 個選項，其中只有一個是正確或最適當的選項，請畫記在答案卡之「選擇題答案區」。各題答對者，得 2 分；答錯、未作答或畫記多於一個選項者，該題以零分計算。

- 在描述自我概念如何形成的理論上，關於顧里／米德／佛洛伊德三位學者的觀點，以下敘述何者正確？
 - 顧里跟米德都強調社會互動對自我概念形成的影響，佛洛伊德視社會化為個人將社會價值觀內化的結果
 - 米德和佛洛伊德都強調原始慾望、避罰求樂對自我形成的影響
 - 佛洛伊德強調個人「本我(id)」跟「超我(superego)」的不斷對話而形成「自我(ego)」
 - 米德主張自我是介於「主我」與「客我」之間的協調者，讓個人在現實生活中得以適應
- 關於多元性別概念的敘述，請問以下何者正確？
 - 性別角色會透過性別社會化形成，因此必然具有二元化的特性
 - 性別認同與性傾向都是一種性別社會化的結果
 - 性別氣質與社會性別相衝突的人可經由適當的輔導加以矯正
 - 性騷擾的發生原因主要反映出社會文化中性別權力不對等所導致
- 緬甸若開邦武裝衝突已導致近 38 萬羅興亞難民逃往鄰國孟加拉國，聯合國秘書長指責緬甸當局迫害羅興亞人可能涉及反人類罪，要求緬甸終止暴力，給予若開邦穆斯林國民身份。此衝突源於英國在 19 世紀末英緬戰爭中最後將緬甸納為殖民地，並大量引入穆斯林移民，協助英人進行統治。英人在殖民地以兩手政策對於緬族地區(佛教徒)採取直接統治，而少數民族地區(如若開邦)則給予較大的自治權。在緬甸獨立後，羅興亞領袖一直要求建立穆斯林自治邦，遭到政府拒絕，而引發了日後的武裝衝突。請問：根據瓦薩克的學說，上述羅興亞人追求的是哪一種人權？
 - 第一代人權
 - 第二代人權
 - 第三代人權
 - 新興人權
- 公民課時，老師帶領著大家從公共利益的角度來思考「廢死」的議題：
 - 乙霈：「死刑的存在可以使多數人的利益得以受到保障」。
 - 于甯：「死刑可以使社會成員的集體利益維持，即使有誤判的可能，也要承受這樣的代價」。
 - 碩芬：「根據統計多數被判死刑的人都是低社經背景的，可見社會的資源分配不均等也是造成他們犯罪的原因之一」。
 - 宣渝：「所以國家應該對弱勢的社會階級有更積極的照顧，譬如在教育、就業上，以降低重大犯罪的可能性」。請問，以下敘述何者正確？
 - 甲為社群主義的觀點
 - 乙為效益主義的觀點
 - 丙為正義論的「均等原則」
 - 丁為社會主義的「差異原則」
- 王董是揪感心集團的董事長，平日努力經營，替公司攢得了很多利潤。假日則到臺中市無家者協會去擔任志工，協助照顧失依無家者。以下關於王董的揪感心集團與他所參與的臺中市無家者協會的比較，何者是正確的？
 - 兩者若無登記為人民團體則為非正式組織
 - 兩者均可依民法登記為人民團體及法人
 - 前者是財團法人，後者若有向法院登記則是社團法人
 - 前者是社團法人，後者若有向社會局登記則為社會性團體

6. 財團法人的經費來源不可能有以下何者？
 (A) 政府捐助 (B) 會員捐助 (C) 社會團體捐助 (D) 舉辦義賣活動收入
7. 下列哪個新聞事件的標題最不符合新聞媒體再現應有的專業表現？
 (A) 「阿羅哈客運 6 死，罹難者都沒繫安全帶」
 (B) 「強冠董座重判 22 年定讞，食安刑罰最高紀錄」
 (C) 「蔡政府『一例一休』政策失當，應盡速廢除」
 (D) 「迎戰明年縣市長選舉，民進黨通過『柯文哲條款』」
8. 爵士樂(Jazz)是一種起源於西非傳統音樂，隨著歐洲的賣奴傳到歐洲結合白人的福音歌曲，再傳到美國，結合南方紐奧良的黑人藍調音樂所形成的美國獨特的音樂形式。請問：爵士樂反映了哪一種文化的變遷？
 (A) 文化涵化 (B) 文化雜異化 (C) 文化採借 (D) 文化在地化
9. 新加坡的「集選區制度」，是在 1 個選區內，假設應選出 5 席議員，則政黨就必須各提名 5 個人(同額)「綁在一起選」，由 5 人總得票數高的政黨「贏者全拿」5 席。因此，只要有 1 位候選人是「吸票機」，這 5 人就一起當選。此外，所有新加坡公民，凡有投票權者，一定要去投票，你可以投廢票，但不能不投票。如果你不投票，你的名字就會在選舉人名冊中被刪除，下一次的選舉，你將喪失投票權，也不能成為候選人，除非去申請「恢復」。請問從民主政治的基本原則來看，違反了哪一項原則？
 (A) 民意政治 (B) 法治政治 (C) 責任政治 (D) 政治責任
10. 若以英美兩國為例，關於內閣制與總統制兩者的差異，下列敘述何者正確？
 (甲)內閣制者因權力融合的關係通常會要求閣揆、多數政務官須由國會議員兼任；總統制者因為權力分立的關係，總統、政務官均不能兼任國會議員。
 (乙)內閣制是虛位元首；總統制是實權元首。
 (丙)總統制是由國會多數黨組閣，內閣制是由總統直接組閣。
 (丁)內閣制的國會可以用質詢、立法、預算、調查等權來監督內閣；總統制下各部會的官員直接對國會負責。
 (戊)內閣制的國會得以不信任投票，迫使內閣妥協；總統制沒有不信任投票制度及解散制度。
 (A) (甲)(乙)(丙) (B) (甲)(乙)(戊) (C) (乙)(丁)(戊) (D) (丙)(丁)(戊)

11-12 為題組

- ◎ 2017 年 7 月美國猶他州發生車禍，駕駛人重傷昏迷被送到醫院。警員欲為這名駕駛人抽血採集血液樣本，但護士表示法律規定病患如果昏迷不醒，不得擅自抽血採集血液樣本，除非患者已經遭到逮捕，或者法院已發布允許抽血的授權令，因此無法配合。警員向該護士表示如果阻止警方抽取血液樣本，就要以妨礙警方犯罪調查的罪嫌，將她移送法辦。隨後果真將她逮捕銬上手銬，推上警車。過程中該護士高喊：「救命！救命！拜託誰來救救我！住手！住手！我又沒做錯事！」。事後護士表示，自己的工作保護病人安全，血液是個人財產，「當一個病人危殆時，血液是極為重要的，我不會隨便看待」。
11. 從道德議題的衝突角度來看，關於上述事件，下列敘述何者正確？
 (A) 警方強制採血的行為已違反生命倫理
 (B) 警方的強制執法的行為符合專業倫理
 (C) 護士拒絕配合警方的行為遵守了專業倫理
 (D) 警方強制抽血的行為符合資訊倫理的使用權(accessibility)

12. 若該事件發生在我國(我國無禁止對昏迷者抽血之法律規定)，依我國憲法對人權保障的相關規範，以下敘述何者正確？
- (A) 警方只要是基於維護社會秩序的理由，理當可以強制抽血
 - (B) 警方依妨害公務罪上銬護士屬於侵害人身自由，需要得到法官同意
 - (C) 血液是身體組織的一部分，不能算是隱私權，所以沒有侵害個資的問題
 - (D) 護士若覺得警方未依法定程序進行逮捕，可以對該警員提出刑事告訴及民事求償
13. 某縣市政府主張為提升教師人員專業形象及品德，特別訂定「某市政府教職人員服儀及品德管理辦法」，辦法中規定教職人員上班時必須穿著整齊制服，並且必須以「弟兄姊妹」等具宗教習慣的口吻相互稱呼，若違反者將記過處分。針對該規定的說明，下列何者正確？
- (A) 該規定在法律性質上屬於「法規命令」
 - (B) 遭記過的教師可提起刑事訴訟，請求撤銷處分
 - (C) 承審法官若認為該規定違憲，得審查該規定並拒絕適用
 - (D) 若由大法官審查，可能會以違反「平等權」裁定違憲

14-15 為題組

- ◎ 日前一名年輕女作家尋短身亡，家人傷痛之餘爆料指出該作家生前所創作名為「房小姐語錄」的書籍，書內所描述的學生遭狼師性侵情節真有其事，該新聞一出引發社會譁然，請回答 14-15 題。
14. 針對家屬的說法，南部某立委立即召開記者會表示，已掌握該狼師身分將向南部某地檢署提出(甲)，惟經過該地檢署多日偵查後，地檢署檢察官以證據不足對當事人(該名狼師)做出(乙)，家屬得知之後十分氣憤，決定委託律師提出(丙)，下列甲、乙、丙的配對何者正確？
- (A) 告訴、緩起訴、再議
 - (B) 告發、不起訴處分、再議
 - (C) 告訴、緩刑、再審
 - (D) 告發、緩起訴、大法官釋憲
15. 中部地區某立委也在質詢中針對現行「補習及進修教育法」著手要求修法，希望能朝向「實名制」(指教師須登錄真實姓名)方向修法，針對該修法方向，下列說明何者正確？
- (A) 立委必須督促教育部提出修法草案，才能進行後續修法
 - (B) 也可由「全國補教協會」提出修法草案，並向立院提案
 - (C) 因屬社會矚目案件，可經程序委員會決議排入「優先法案」
 - (D) 教育委員通過後，必須送交「黨團協商」後才能進入二讀
16. 2017 年 9 月民進黨召開全國黨代表大會，蔡主席(蔡總統兼任黨主席)提出憲改計畫，計畫推動修憲修改投票年齡及相關制度，目標要將「投票年齡下調至 18 歲」。關於本事件的敘述，下列何者正確？(假設全國有投票權人為 1800 萬人)
- (A) 依法須先經由立法院提出憲法修正案，再依選舉罷免法交由公民複決
 - (B) 修憲案通過門檻為，投票率高於 50%且贊成人數超過 450 萬人
 - (C) 假設新增選民多數支持民進黨，未來該黨於各地縣市議員選舉當選席次必然會增加
 - (D) 依據現行「選罷法」規範我國國民年滿 20 歲始能投票，因此修憲後「選罷法」需搭配修改
17. 針對 2017 年 9 月民進黨蔡主席(蔡總統兼任黨主席)所提出的憲改計畫，陳前總統提出公開信表示，我國現行憲政體制有許多制度缺陷，並具體建議應修改成「內閣制」，下列對我國現行憲政體制的敘述何者正確？
- (A) 當傾向內閣制時，總統有權主動解散國會
 - (B) 總統兼任黨主席違反政治中立，形同擴權
 - (C) 當傾向總統制時，總統可能把持內政外交權力於一身「有權卻無責」
 - (D) 「左右共治」已屬憲政慣例，可避免立院杯葛政院造成的政治僵局

18. 考選部日前公告律師考試規則修正草案，主張「現行律師考試第二試係以錄取各該選試科目全程到考人數 33%為及格標準，但未訂定最低錄取分數門檻，為提升律師專業水準…」，擬提高律師考試及格門檻，若考選部主張修法後立即適用於當年度考生，可能違反何項行政法原則？
(A) 比例原則 (B) 信賴保護原則 (C) 明確性原則 (D) 禁止不當聯結原則
19. 臺北市晚間發生一起姪兒殺害嗜賭叔叔的人倫悲劇，起因於死者平時好賭成性，賭輸後即返家向哥哥(王嫌父親)要錢，並屢生口角，當晚死者又來家中要錢，爭執中姪兒(王嫌)失手殺死叔叔，過程均遭騎樓監視器拍攝到，事發後王嫌立即向警方報案，並交出監視器內容。關於本事件的說明，下列何者正確？
(A) 王嫌犯案後立即向警方報案，符合「投案」規定，法官得減輕其刑
(B) 王嫌到案時間已屬晚間，因此警方須取得王嫌同意後才能夜間訊問
(C) 王嫌到案後詳述犯罪過程並有監視器為證，因此例外不適用無罪推定原則
(D) 警方應於 24 小時內將王嫌移送地檢署，若須收押則由法官裁定
20. 2015 年高雄某私立醫學院發生一起學生情殺事件，起因於黃姓兇手與劉姓死者同時愛上同一女子，雙方因感情問題相約談判，過程中黃嫌先下藥迷昏劉姓死者，並將劉男殺害後焚屍，手段十分駭人。若校方於事發後將黃嫌開除學籍，關於黃嫌權利救濟的敘述，下列何者正確？
(A) 依程序黃嫌應先於校內提出訴願，若對結果不服再提出行政訴訟
(B) 依大法官解釋大學生的訴訟權已受完整的保障，因此黃嫌可提起「行政救濟」
(C) 因黃嫌就讀私立大學，因此退學處分非屬「行政處分」，故不得提起行政救濟
(D) 若黃嫌畏罪自殺，被害家屬即不得就民事及刑事部分提出訴訟
21. 近日來國內連續發生兩起律師遭被告攻擊致死案件，也引發了社會各界對於律師辯護制度及律師在法庭中應扮演何種角色的討論，某大學法律系也以此為題舉辦了一場辯論活動，以下為同學所準備論點。下列何項論點較符合「現行法律規範」？
(A) 刑事案件須經由檢察官審慎偵查後才會向法院提起訴訟，因此事證均十分明確，故並無律師辯護的必要性
(B) 且檢察官代表國家追訴犯罪，其在職權上公正獨立不受任何干預，依法捍衛正義
(C) 現行刑事訴訟採職權主義，因此法官於必要時亦可主動調查證據，與檢察官共同發現真相
(D) 依現行刑事訴訟法，對於被告並未採取「強制律師辯護制度」，有些案件被告可以自己辯護
22. 阿文為了幫兒子阿國慶祝生日，特別口頭商請退休多年的鄰居陳師傅製作過去拿手的「棒球手套」作為兒子的生日禮物，未料兩週後兒子阿國拆封棒球手套使用時發現皮革已龜裂破損。關於該事件的說明，下列何者「最適當」？
(A) 因已超過 7 天解除權期限，因此無法退貨
(B) 因雙方並未訂立書面契約，因此無法退貨
(C) 因陳師傅並非以此為業，故該交易行為不適用消保法
(D) 因已超過 7 天解除權期限，阿文無法主張瑕疵擔保責任
23. 2017 臺灣舉辦有史以來最大規模的國際體育賽事，臺灣代表團的出席名稱也引發各界討論，有團體主張應該以中華民國或臺灣名稱參賽，而非「中華臺北」，該事件也凸顯了我國在國際間所面臨的困境。下列關於我國兩岸關係及外交現況的說明何者正確？
(A) 因中國的國際壓力，我國無法加入 WTO 及其所屬的相關機構
(B) 蔡總統上任後積極推動「新南向政策」，促使我國順利加入東協
(C) 國際奧林匹克委員會為我國目前唯一加入的聯合國相關國際組織
(D) 蔡政府與中國間對於「九二會談」是否有建立所謂「一中各表」共識，雙方尚存歧見

24. 工程師阿文與會計小咪結婚多年始終未能順利懷孕，兩人遂與小咪的母親莉莉協議收養小咪年幼的妹妹小乖，不久後小咪懷孕生下一子阿國，未料生產過程中小咪難產過世，阿文獨自扶養小乖與阿國，阿國在小學時參加生物科展，檢驗血型時意外發現自己與父親阿文並無血緣關係。下列關於本案的敘述何者正確？
- (A) 小咪過世時阿國的應繼分與阿文相同
(B) 小咪過世時繼承人共四人，分別為阿文、小乖、阿國、母親莉莉
(C) 若未來阿文過世時繼承人共有二人，分別為小乖、阿國
(D) 因阿文與阿國無血緣關係，因此阿國不得繼承阿文的財產
25. 史家討論陳橋兵變時，有不同看法：
- 甲：《舊五代史》記載：「癸卯，發京師，是夕宿於陳橋驛。未曙，軍變，將士大噪呼萬歲，擐甲將刃，推戴今上升大位，扶策升馬，擁迫南行。」
- 乙：《宋史紀事本末》記載：「太后定州安喜人，治家嚴而有法……陳橋之變，後聞之曰：『吾兒素有大志，今果然矣。』」
- 關於上述兩者對宋太祖是否被迫登基有不同的看法，下列敘述何者正確？
- (A) 甲是正史，所以比乙更值得相信
(B) 乙為明代所作，較甲著作時間更晚，較不可信
(C) 甲、乙均認為陳橋兵變乃因將士鼓噪，趙匡胤被迫黃袍加身
(D) 乙記載陳橋兵變後，太后的表現，說明這可能是預謀的軍事政變
26. 胡適曾為某位歷史人物翻案，認為他是中國第一位社會主義者，並認同他所提出的土地國有、均產、廢奴三個大政策。還指出這樣一個勤勤懇懇，生性「不能無為」，要「均眾庶，抑並兼」的人，到末了竟死在斬臺上，……沒有人替他說句公平的話。試問某位歷史人物為何？
- (A) 王莽 (B) 王安石 (C) 張居正 (D) 洪秀全
27. 某大臣上書清帝，內容提到從英夷焚毀圓明園後，已歷經二十餘年。現今外敵環伺，內政敗壞，已經無法應付當前局勢，所以希望能夠說服朝廷再次變法，但不被接受。直到數年後，他的抱負才得以實現。下列關於此大臣變法的敘述何者正確？
- (A) 新變法的內容主要是從「器物」層面為主進行改革
(B) 變法最後因為太后與守舊派的反對，導致功敗垂成
(C) 變法內容有廢除科舉制度、於各地設立學堂等政策
(D) 為了有效推動變法，還設立資政院與諮議局等機構
28. 某學者提出：「大凡讀書，須是熟讀。熟讀了，自精熟；精熟後，理自見得。如喫果子一般，劈頭方咬開，未見滋味，便喫了。須是細嚼教爛，則滋味自出，方始識得這個是甜是苦，是甘是辛，始為知味。」他的學說影響深遠，連日本幕府都將它視為官學，大加推廣。試問某位學者是誰？
- (A) 朱熹 (B) 王陽明
(C) 顧炎武 (D) 戴震
29. 中古世紀，歐洲某地區因為沼澤遍佈，不利農耕，所以當地人大多以畜牧業為生，並出口羊毛為大宗，但卻因與其他國家商貿關係太過親密，引起宗主國不滿，進而引發國際之間的戰爭。這個城市最有可能是下列何者？
- (A) 八世紀的哥多華
(B) 十世紀的法蘭克福
(C) 十二世紀的威尼斯
(D) 十四世紀的法蘭德斯

30. 今年 67 歲的上海居民董羅顏曾在 16 歲那年，響應政府動員知青的政策，奔赴新疆從事農業生產，直至去年才又重回新疆，在享受完當地名菜「大盤雞」，不禁遙想當年的辛苦。請問她當年前往新疆的原因最可能為何？
- (A) 受「整風運動」的影響，前往新疆支持國家建設
(B) 受「三面紅旗」的影響，前往新疆參加人民公社
(C) 受「新生活運動」的鼓舞，前往新疆推動平民教育
(D) 受「文化大革命」的影響，前往新疆學習集體勞動
31. 清代臺灣中南部曾經盛行一種慈善活動，名為「義渡」，透過眾人集資，購買田地收取租金，作為經營渡口的費用，有其相關碑文上寫著：「有房裡溪者，一望沙石，幾無鳥道之通；十里煙波，難作虹腰之藉，天雨驟至，溪漲異常；既徒涉而不能，將臨河而必返，乘輿可濟，小惠無庸；苦海多波，大慈誰捨？是非設義渡濟行人則不可也。」請問下列何者最可能是義渡形成的原因？
- (A) 政府治臺採消極態度，對臺灣建設不聞不問
(B) 渡臺禁令影響導致臺灣人口稀少，無力造橋
(C) 臺灣的河流呈現荒溪型，導致南北交通不便
(D) 清代臺灣時常發生民變，毀壞橋梁對抗政府
32. 臺灣著名餐點「小籠包」，相傳是因為某次戰亂導致人民遷徙的緣故，從河南開封的「灌湯包」，傳播到杭州轉型成「小籠包」，再輾轉傳播到臺灣來。請問某次戰亂最可能為何？
- (A) 西晉末年的「永嘉之禍」導致大量的士人與平民南遷，推動江南的開發
(B) 唐中葉的「安史之亂」使華北經濟與農業受到嚴重打擊，大量人民南遷
(C) 北宋末年的「靖康之禍」使中國北方淪為外族統治，人民因戰亂而南遷
(D) 明代末年吳三桂引東北清兵進入山海關，人民為了躲避清兵蹂躪而南遷
33. 一位經濟學家提出宗教思想與經濟行為息息相關，以某宗教教義為例，認為人們不可虛度光陰，辜負上帝恩德，並要勤奮工作，以能獲利最大化為目標。請問此位經濟學家所提到的宗教應是下列何者？
- (A) 天主教派 (B) 馬丁路德教派 (C) 喀爾文教派 (D) 英國國教派
34. 因為當朝皇帝喜歡鬥雞娛樂，所以人民常常前往東市購買金距(裝於足上鐵爪)、狸膏(狐狸油膏)、芥羽(羽毛撒上芥粉)，攤位前經常大排長龍，因此總有居民因違背宵禁而被懲罰。請問上述現象可能發生在哪個朝代？
- (A) 唐代 (B) 宋代 (C) 元代 (D) 明代
35. 紋妤閱讀臺灣詩集，文中寫道：「黃金斗大印繫組，直將總統呼巡撫，今日之政民為主。臺南臺北固吾圉，不許雷池越一步。」下列相關敘述何者正確？
- (A) 文中強調今日之政民為主，所以是透過民主選舉方式，選出大總統
(B) 臺南臺北固吾圉，是指為了防日軍入侵，修建億載金城與海門天險
(C) 雖說不許雷池越一步，實則日軍從澳底登陸，在臺北舉辦始政典禮
(D) 因為領導人相繼內渡中國，所以日軍沒有遭遇義軍大規模抗日活動
36. 透過諺語可以幫助我們更加生動理解臺灣歷史，「西皮倚官，福祿走入山」這句諺語描述的即是清代臺灣某件動亂，請問下列相關敘述何者正確？
- (A) 因為漢番衝突，導致動亂發生，最後西皮派倒向官府，得到勝利
(B) 西皮與福祿均透過神明的信仰，凝聚向心力，形成團體相互對抗
(C) 事件發生的地點可能在西部，因當時臺灣的人口大多聚集在西部
(D) 西皮與福祿是不同地緣組織，因早期漢人多藉地緣組織相互對抗

37. 這裡的學校學生們，正激烈的討論宗教與希臘哲學融合問題，學校外的市場則是有「基爾特」(Guild)成員也在討論著如何脫離領主的控制，到底是利用金錢賄賂或是招募更多軍隊對抗，而彼此喋喋不休。上述現象最有可能出現在何時何地？
(A) 十世紀的巴格達 (B) 十三世紀的佛羅倫斯
(C) 十四世紀的拜占庭 (D) 十六世紀的巴黎
38. 某個時期人民爲了響應政府的貨幣政策，將自己家中的黃金首飾兌換成大量的新貨幣，但不久之後卻爆發了嚴重的通貨膨脹，導致人民對政府失去信心。這最可能是何時何地的情況？
(A) 1850，南京 (B) 1900，天津 (C) 1948，重慶 (D) 1966，北京
39. 這個國家最令人印象深刻就是首都的圖書館，除了內部藏書非常豐富以外，還有刻有戰士們在戰車上揮舞武器的巨大浮雕，這種尚武好戰的精神，也爲他們的首都博得「血腥的獅穴」的稱號。試問這應該是哪個古文明的首都？
(A) 亞述文明 (B) 埃及文明
(C) 波斯文明 (D) 邁錫尼文明
40. 西歐某時期的一處村落，村裡有共用的烤爐與磨坊供村民使用。每天早上村民第一件事情，就是到公共林地砍伐樹木，生火煮飯。請問他們最可能經歷哪件事？
(A) 外地的商人經常來向當地的行會購買羊毛到他地販售
(B) 村莊居民因人口眾多，糧食不足而自行協議遷移他處
(C) 村民將土地分成三大區，分別種植小麥、玉米與休耕
(D) 受到教宗的感召，參與往東方征伐異教徒的軍事活動
41. 某時期政府發行大量的實物債券，並非以貨幣數量作爲單位，而是分爲「稻穀債券」與「甘藷債券」，兩者面額差異不大，大致上是 100 公斤、500 公斤、1,000 公斤、5,000 公斤、10,000 公斤。請問發行此債券的原因爲何？
(A) 日治時期，臺灣總督府爲了因應太平洋戰爭
(B) 國共內戰時期，國民政府爲了籌湊軍事費用
(C) 國民政府來臺後，爲了施行耕者有其田政策
(D) 國民政府因應石油危機，推動十大建設工程
42. 品秖想了解臺灣史上不同時期的原住民政政策，發現詩集中有一段史料記載：「屬地奚容負固頑(倚恃險阻而頑抗)，王師震動等平蠻。五年妙算無遺策，千社投誠不格姦(不至于奸惡)。李嶮宣威揚奏凱，花蓮探險奮登山，來春魯閣同歸附。」請問詩詞中描述的是臺灣哪一時期的原住民政政策？
(A) 荷據時期
(B) 鄭氏時期
(C) 清領時期
(D) 日治時期
43. 表(1)爲臺灣某個時期一座港口中各國船隻進出口比例統計表。請問表中內容最符合下列何者的狀況？
(A) 1664，安平
(B) 1785，鹿港
(C) 1875，淡水
(D) 1930，基隆

表(1)

國家	比例
英國	65%
德國	16%
中國	11%
美國	3%
其他(日、俄、荷)	3%
法國	1%
丹麥	1%

44. 某場戰爭爆發後，美國外交人員表示這是一場有苦難言的戰爭，杜魯門總統卻認為必須援助「遠東的希臘」，決定出兵援助交戰國，打一場有限度的戰爭。關於這場戰爭的敘述何者正確？
- (A) 美國期望藉此次戰爭控制該地區的能源利益與政局
 (B) 美國爲了援助被困居民，曾長期空投物資進入該地
 (C) 美國將日本視爲軍事補給地，使戰後經濟開始復甦
 (D) 美國因此次戰爭，導致國內爆發大規模的反戰運動

45. 資料一《左傳》：「冬，十二月，狄人伐衛，衛懿公好鶴，鶴有乘軒者(衛懿公讓鶴乘坐大夫坐的車子)，將戰，國人受甲者，皆曰使鶴。」

資料二《東周列國志》：「時衛懿公正欲載鶴出遊，諜報：『狄人入寇。』懿公大驚，即時歛兵授甲，爲戰守計。百姓皆逃避村野，不肯即戎。懿公使司徒拘執之。須臾，擒百餘人來，問其逃避之故。眾人曰：『君用一物，足以禦狄，安用我等？』懿公問：『何物？』眾人曰：『鶴。』懿公曰：『鶴何能禦狄耶？』眾人曰：『鶴既不能戰，是無用之物，君敝有用以養無用，百姓所以不服也！』」

上述兩則資料中提及此一時期的兵制，下列相關敘述何者正確？

- (A) 從資料一的「國人受甲者」推測，國人指該國人民，當時行全面徵兵，人人從軍
 (B) 從資料二的「眾人」字眼推測，當時國君長期強擄人民作戰，採強迫從軍的方式
 (C) 從資料一的「國人受甲者」推測，國人應是指接受軍事訓練的人，並非人人皆兵
 (D) 從資料二的「眾人」字眼推測，東周應採行募兵制，只要有意願，人人皆可當兵
46. 某個時期士人們互相競比財富，每天過著奢侈的生活，享受著政治上的特權，卻談論一些音樂有無喜怒哀樂等與政治無關的議題。除此之外還特別重視自身的面貌，對於朝政非常的怠惰，但是大家反而對這種風氣都習以爲常。請問這最有可能是下列哪個時代的特色？
- (A) 春秋戰國養士之風盛行，士人都重視外貌，希望能得到國君或貴族的賞識
 (B) 魏晉南北朝受社會風氣的影響，士人們重視俊俏的外型，無心於國家大事
 (C) 宋朝的政府給予文人非常高的待遇，所以士人們無心於朝政，只重視容貌
 (D) 明代受奢侈風氣影響，士人們每天相競添購華服，互相較勁，不重視朝政

47-48 爲題組

◎ 一份臺灣文獻記載：「公首招商股，購二輪以擴商務，而以官購兵商大小輪十艘助之。又設電報達閩疆，嚴水陸巡防，清匪盜。復謀鐵道，闢番途，開港口，以振農商之氣。免船金，招墾佃，以廣耕藝之謀。開海禁，製樟腦、硫磺，以博官民之利。」


47. 請問文獻所載是何人推動的措施？

- (A) 沈葆楨
 (B) 丁日昌
 (C) 劉銘傳
 (D) 後藤新平

48. 文中提及購輪船以擴商務等措施，主要目的爲何？

- (A) 爲了避免日軍侵臺，所以加強建設
 (B) 爲了支援內地財政，所以努力建設
 (C) 盼財政獨立，避免向中央索求經費
 (D) 將臺灣打造成前進南洋的重要基地

49. 圖(1)為某種風化作用形成的地形，如果不考慮其他因素，在北半球中、高緯度地區該風化作用最強的坡向應是下列何者？
(A) 東北坡
(B) 西北坡
(C) 東南坡
(D) 西南坡

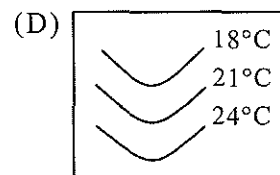
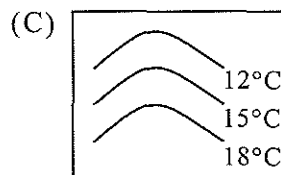
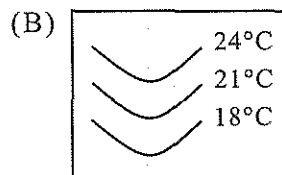
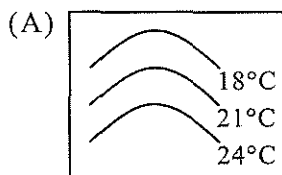


圖(1)

50. 福爾摩沙衛星五號(英語：FORMOSAT-5，簡稱福衛五號或福五)是臺灣的太陽同步軌道衛星，亦為首個由臺灣完全自主研發的光學遙測衛星及第四個自主擁有的人造衛星。2017年8月25日，衛星從美國加州范登堡空軍基地發射升空，其對地解析度：黑白影像2公尺，彩色影像4公尺，繞行地球南北向走一週時間約99分鐘。相較於福衛二號的解析度：黑白影像2公尺，彩色影像8公尺，繞行地球一週時間約103分鐘。請問同樣拍攝臺中市某高中校園長方形操場(面積40000平方公尺)，下列何者正確？

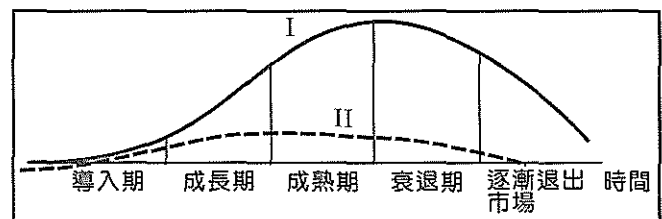
	(A)資料儲存方式	(B)黑白影像所需像元	(C)彩色影像資料量	(D)時間解析度
福衛五號	向量模式	10000	4倍	較低
福衛二號	網格模式	1000	1倍	較高

51. 下列何者最適合用來表示墨西哥西岸的表層海水等溫線？



52-53 為題組

- ◎ 產品生命週期(product life cycle，簡稱PLC)，是產品的市場壽命，即一種新產品從開始進入市場到被市場淘汰的過程，如圖(2)所示。請問：



圖(2)

52. 圖中的兩條曲線(I、II)依序分別代表下列何者？
(A) 銷售量、利潤
(B) 利潤、銷售量
(C) 利潤、投入成本
(D) 銷售量、投入成本

53. 表(2)是產品生命週期不同階段的需求要素，甲、乙分別為何種要素？

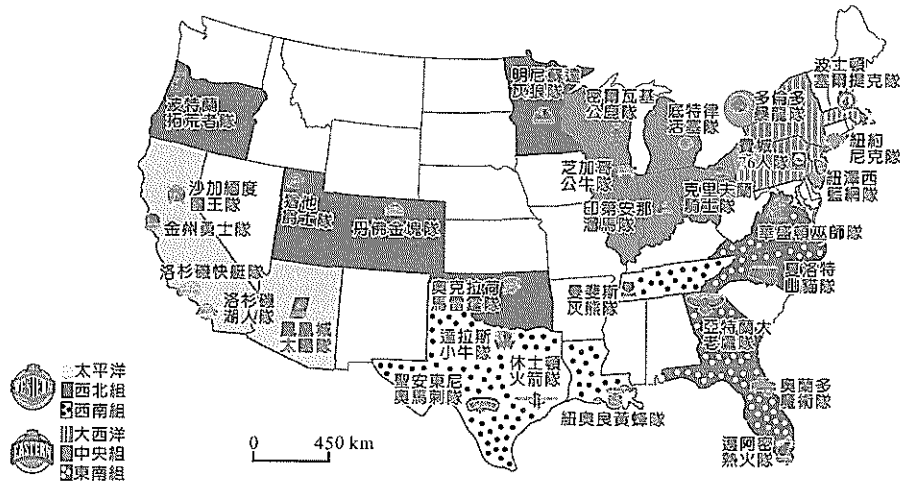
表(2)

產品生命週期階段 需求要素	導入期	成長期	成熟期
甲	最強	中等	最弱
乙	最弱	中等	最強

- (A) 知識創新、非技術勞力
(B) 資本資金、技術勞力
(C) 非技術勞力、科學技術
(D) 經營管理、技術勞力

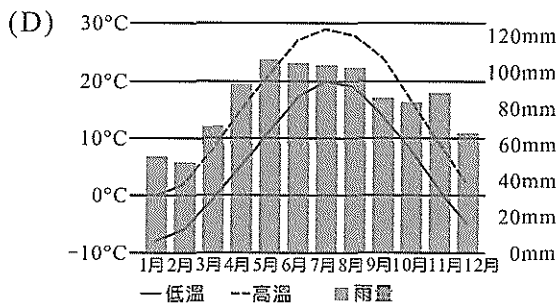
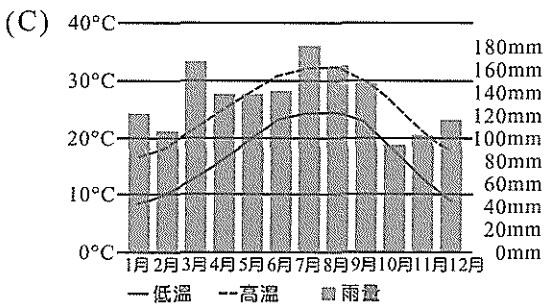
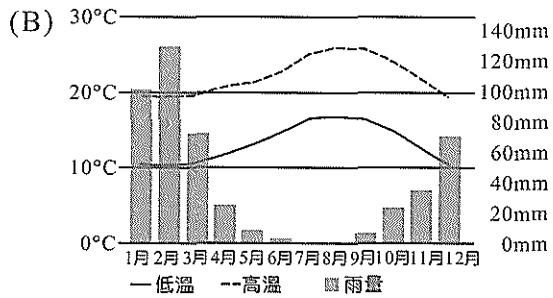
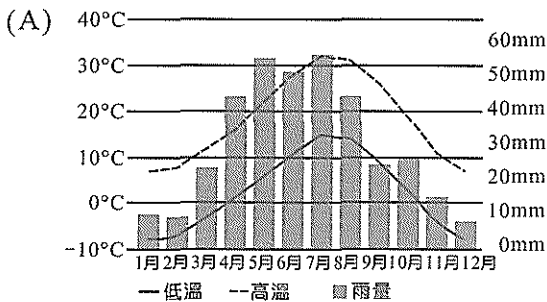
54-56 為題組

◎ 圖(3)為美國職業籃球協會(NBA)的球隊分布示意圖，請問：



圖(3)

54. 下列何者最可能是「西南組」球隊所在都市的氣候圖？



55. 下列各組球隊名稱由來，何者成因有誤？

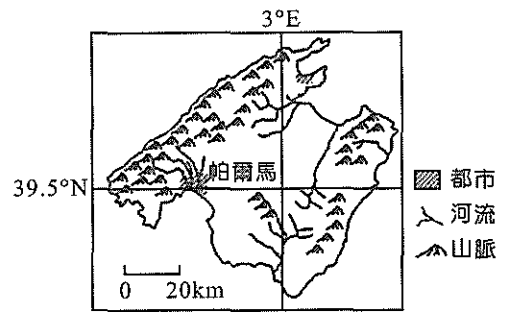
- (A) 邁阿密熱火隊，鳳凰城太陽隊—氣候特徵
- (B) 底特律活塞隊，休士頓火箭隊—特色產業
- (C) 費城七六人隊，波士頓塞爾提克隊—歷史背景
- (D) 夏洛特山貓隊，聖安東尼奧馬刺隊—自然景觀

56. 有球員要從紐約(74.02°W)到邁阿密(80.18°W)比賽，假設飛機飛行時速為900公里，若兩地之間以直線距離計算，則飛行時間約幾小時？

- (A) 4
- (B) 3
- (C) 2
- (D) 1

57-58 為題組

◎ 馬約卡島(加泰隆尼亞語：Mallorca)是世界著名的旅遊避暑勝地，最高處馬佐爾峰海拔 1445 公尺。島上常住人口約 85 萬，大約一半居住在首府帕爾馬如圖(4)所示，2009 年接待遊客多達 2120 萬。馬約卡島年降水量約 400 mm，島上地下岩層具有很強的滲透性，岩層孔隙儲水豐富。近年來，馬約卡島受到水資源日漸短缺的威脅。請問：



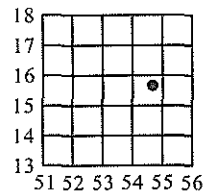
圖(4)

57. 下列何者最可能是馬約卡島上的都市用水來源？
- (A) 河湖水 (B) 雨水
(C) 高山融雪 (D) 地下水
58. 馬約卡島都市用水最吃緊的季節為何？
- (A) 春季 (B) 夏季
(C) 秋季 (D) 冬季

59-60 為題組

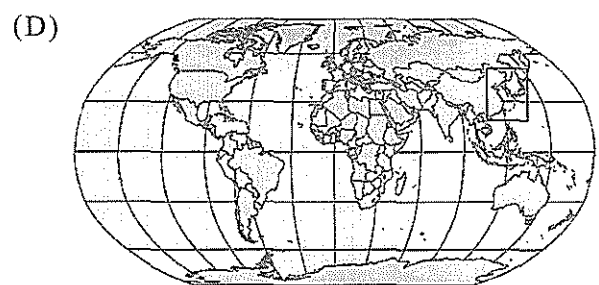
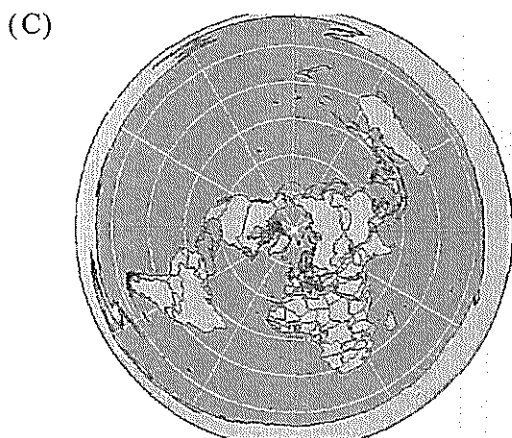
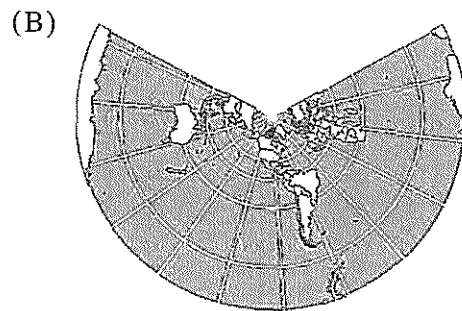
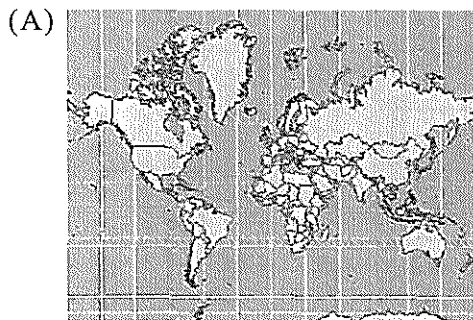
◎ 北韓 2017 年 9 月 15 日清晨再度發射彈道飛彈，飛越日本北海道上空，飛行距離約 3700 公里，為迄今距離最長的一次。北韓的目的應該在於驗證已有能力朝關島射擊。亞洲局勢陷入緊張……。

59. 若北韓想以飛彈攻擊關島如圖(5)中黑點處，請問下列哪一組坐標最有可能是關島？



圖(5)

- (A) 1655 (B) 156547
(C) 5515 (D) 548157
60. 下列何種投影方式，最適合用來表示北韓發射飛彈對世界的威脅程度？



61-63 為題組

◎ 以下是三則 2017 年 9 月分關於難民的新聞報導

報導一：塞浦路斯警察逮捕一名 36 歲的男子，他涉嫌駕船運送 305 名非法入境的敘利亞難民到塞浦路斯的西北海岸；這是塞浦路斯單日最多難民抵達的人數紀錄。(2017 年 9 月 10 日)

報導二：緬甸軍政府近日驅逐羅興雅族人(Rohingya people)，導致超過 1000 人喪生，近 27 萬名羅興雅人流離失所，冒險越界逃難到鄰國孟加拉。聯合國 8 日宣布，計畫在今年底前幫助 30 萬名羅興雅族難民逃離緬甸，並提供他們糧食、飲水、臨時住所、醫療及其他服務。(2017 年 9 月 9 日)

報導三：葉門內戰持續兩年多，一直未引起國際關注，直到 5 歲女童曼蘇爾的悲慘遭遇曝光，才讓這場慘烈的內戰再度獲得世人的關注。葉門目前有近 7 百萬人身陷饑荒邊緣，霍亂爆發更造成 500 人死亡，聯合國預估接下來的 6 個月將造成 15 萬人喪命。(2017 年 9 月 9 日)

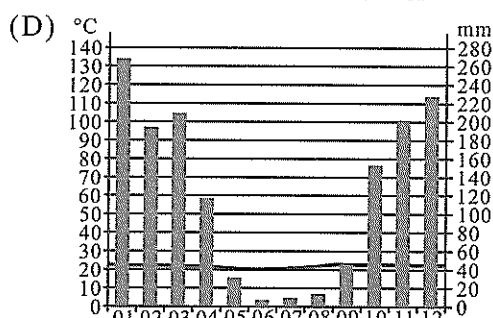
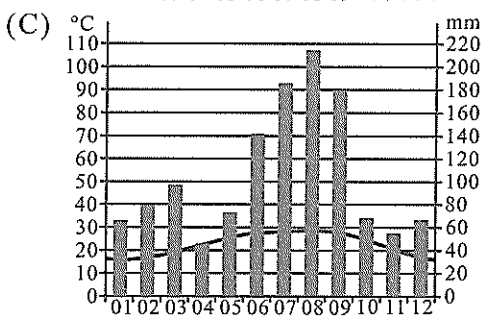
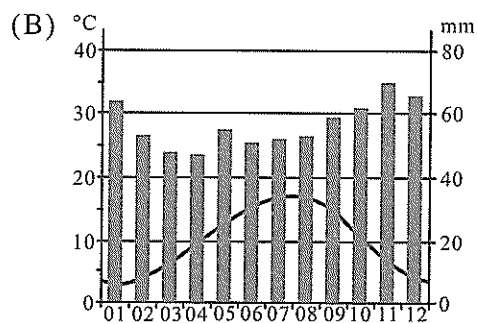
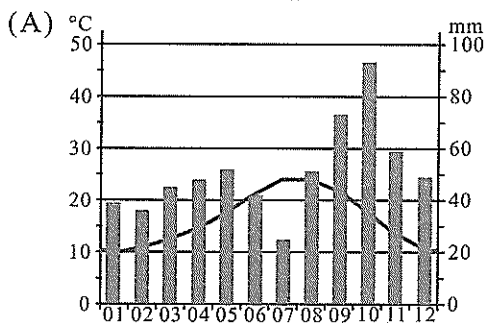
請問：

61. 這三則新聞中的難民共同的特徵為何？
 (A) 宗教信仰皆為伊斯蘭教 (B) 皆分布於西亞北非文化區
 (C) 皆受到種姓制度的制約 (D) 皆分布在熱帶乾燥氣候區
62. 葉門位於哪一海峽旁，交通戰略位置重要？
 (A) 波斯普魯斯海峽 (B) 曼達布海峽
 (C) 荷莫茲海峽 (D) 麻六甲海峽
63. 下列哪一位置(經緯度坐標)最有可能是報導一中敘利亞難民的登陸地點？
 (A) 35°03'N, 32°24'E (B) 48°51'N, 2°21'E
 (C) 21°26'N, 86°57'W (D) 12°42'N, 43°36'E

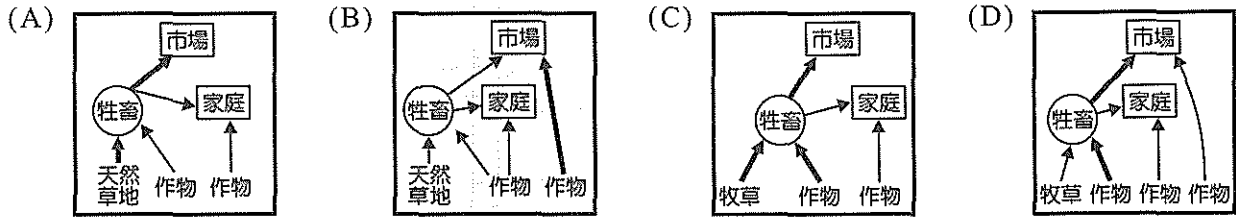
64-66 為題組

◎ 西班牙觀光大城巴塞隆納(41°23'N, 2°11'E)以豐富的歷史建築與優美的海岸著稱，2017 年 8 月 17 日下午 5 點左右在市區的觀光中心「蘭布拉大道」(La Rambla)與濱海度假勝地坎布里爾斯(Cambriils)爆發連環恐攻事件，造成十多人死亡，近百人受傷，ISIS 透過網路承認犯行。請問：

64. 下列何者是巴塞隆納的氣候圖？



65. 巴塞隆納所在地區盛行的農業活動可以用下列哪一張經營流程圖表示之？



66. 1940 年佛朗哥將軍將西班牙的時區往前調了一個小時，以便與納粹德國同步，導致西班牙 70 年來皆採用歐洲中部時間，再加上夏季時該國與中歐同步實施夏令節約時間，所以該爆炸案發生時，臺灣當時應是幾點？

- (A) 8 月 17 日 10 點
- (B) 8 月 17 日 11 點
- (C) 8 月 17 日 23 點
- (D) 8 月 18 日 24 點

67-68 為題組

◎ 圖(6)是某國在 2000 年與 2010 年兩次大型的人口普查後的人口年齡結構圖，表(3)則是該國歷年的都市人數統計表，請問：

表(3)

年份	1978	1980	1990	1995	2000	2005	2010	2015
都市人口數(億人)	1.72	1.91	3.02	3.52	4.59	5.62	6.66	7.71
都市人口比例(%)	17.92	19.39	26.41	29.04	36.22	42.99	49.68	56.10

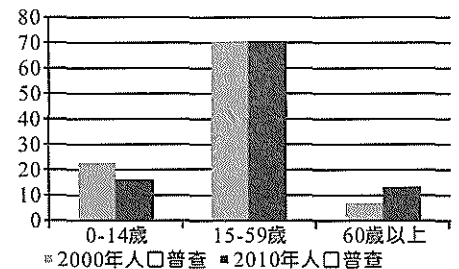
67. 該國最有可能是？

- (A) 中國
- (B) 印度
- (C) 印尼
- (D) 巴西

68. 由圖(6)與表(2)可以推測該國在 2000 年與 2010 年的人口與都市發展狀況正確的是：

- (甲)老化指數有升高的趨勢。
- (乙)人口出現負成長狀況。
- (丙)都市化程度處於加速階段。
- (丁)人口扶養比呈升高的趨勢。
- (戊)出生率降低導致老年人口比率增加。

- (A) (甲)(乙)(丙)
- (B) (甲)(乙)(丁)
- (C) (甲)(丙)(戊)
- (D) (乙)(丁)(戊)



圖(6)

69-70 為題組

◎ 日本已連續 3 年成爲最多國人赴海外旅遊的國家，今年 1~6 月赴日旅遊人數多達 232 萬。請問：



照片(1)

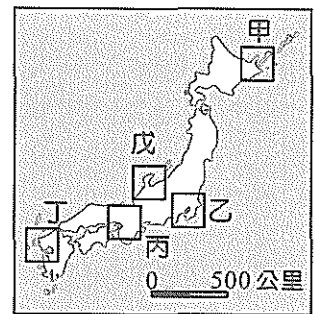


照片(2)



照片(3)

69. 知床半島因保留自然原貌，完全無人為開發而有「日本最後秘境」之稱，已列入世界自然遺產名錄，照片(1)是知床八景中的知床五湖，五湖的水源來自知床山脈山上融雪流入地下的地下水，後方的山脈為火山。請問該照片應該在圖(7)中的哪一地區拍攝？
- (A) 甲
(B) 乙
(C) 丙
(D) 丁

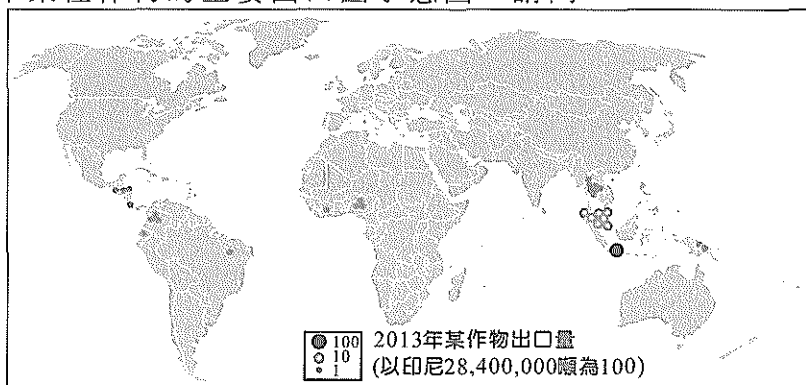


圖(7)

70. 照片(2)的京都金閣寺與照片(3)有「冬日的童話村」的合掌村皆為日本知名的世界文化遺產，兩地分別位於圖(7)的何處？
- (A) 乙甲
(B) 丙戊
(C) 乙戊
(D) 丙丁

71-72 為題組

◎ 圖(8)為 2103 年某種作物的主要出口國示意圖，請問：



圖(8)

71. 該作物為何？
- (A) 咖啡
(B) 油棕
(C) 水稻
(D) 可可
72. 印尼是該作物最大出口國，該國種植此項作物可能會造成以下哪些影響？
- (甲)山區因雨量增加，土石流發生機率大增。
(乙)焚林取得耕地的同時，造成星馬等地一月發生嚴重霾害。
(丙)雨林面積急遽縮減，珍稀動物棲地減少。
(丁)帶動相關製造產業的發展，為食品、加工產業提供原料。
- (A) (甲)(乙)
(B) (乙)(丁)
(C) (乙)(丙)
(D) (丙)(丁)