

單選題(144 分)

說明：第 1 至 72 題皆計分。第 1 至 72 題皆是單選題，請選出一個最適當的選項標示在答案卡之「選擇題答案區」。每題答對得 2 分，答錯不倒扣。

1. 素有「神明銀行」之稱的南投縣竹山紫南宮，信眾向神明求「發財金」，希望能求得好運勢，還願時多加倍償還。廟方也秉持「取之於社會，用之於社會」的態度，積極回饋地方，提供學子各項學雜費與國中小午餐費的補助，一年花在公益活動上的金額，約兩千五百萬元。該寺廟所從事之活動，顯現的是下列那一項特色？
- (A) 居民志願參與公益營造社區意識 (B) 自由競爭市場機制下的自然調節
(C) 公民社會中社會力的展現與活躍 (D) 利用宗教力量促進各地區域合作

2. 下表為我國 2008 年 15 歲以上人口的教育程度統計表，透過此表我們可以獲得下列何項推論？

◎ 2008 年 15 歲以上人口的教育程度統計表 單位%

年齡別	大專以上		高中(職)		國中		國小		不識字	
	男	女	男	女	男	女	男	女	男	女
總計	36.61	33.21	34.42	31.41	15.31	13.31	12.84	17.63	0.55	3.9
15~19 歲	17.15	18.41	68.04	67.60	14.14	13.27	0.67	0.72	0.00	0.01
20~24 歲	59.73	66.38	32.81	27.45	7.15	5.11	0.29	1.02	0.02	0.03
30~34 歲	37.43	33.45	38.28	40.84	21.92	20.31	2.27	5.18	0.08	0.17
40~44 歲	36.92	32.56	39.53	43.63	21.87	20.20	1.60	3.46	0.07	0.11
50~54 歲	27.94	17.51	32.71	29.86	23.32	22.95	15.89	28.36	0.18	1.12
60~64 歲	21.37	9.95	20.64	12.94	15.91	13.12	41.28	56.89	0.62	6.15

資料來源：內政部戶政司

- (A) 男性整體的識字率高於女性，是因為男性的學習動機高於女性
(B) 年輕女性就讀大專比例超越男性，肇因於女性人口增加速度較快
(C) 近年來女性教育程度與男性十分接近，可見我國兩性逐漸邁向平權
(D) 我國國民義務教育十分普及，表示十二年國教政策實施效果非常顯著
3. 流浪街頭的街友和社工合作成立《漂泊新聞網》，拍攝並播放自己製作的網路影音新聞，闡述以報紙禦寒的生活、提出對政治的觀察和看法等。這種主觀揭露、局內人觀點，讓我們看到長期被忽略、漠視、難以觸及的文化和草根聲音。根據上述內容，街頭遊民自製新聞網的原因應為下列何者？
- (A) 邊緣文化長期不受到主流文化的重視
(B) 遊民團體要求成立專屬公共電視頻道
(C) 學習利用網路媒體藉以融入主流社會
(D) 提供長期失業者能有其他的生涯規劃
4. 《家庭暴力防治法》實施至今已超過 10 年，近來驚傳催生該法的前立委，遭受同為高學歷的先生施以家暴。根據內政部統計，今年 1 到 8 月，全台婚姻暴力的報案數，已經超過三萬件。而家暴受害者，通常被施暴超過 10 次以上，平均隱忍 7 年之久。現代婦女基金會也指出家暴案件通報量 10 年間增加 7.6 倍，但是保護令聲請及核發率逐年下降，約只佔通報案量的三成以下，基金會表示聲請率下降原因，可能與婦女維持婚姻家庭完整的觀念有關。根據上文敘述，下列何者符合家暴問題的相關論點？
- (A) 家暴案件的增加來自於女性家庭觀念較男性為強
(B) 保護令須經法院開庭審理核發，所以核發率下降
(C) 高學歷者遭受家庭暴力屬於特例，並非普遍現象
(D) 家暴案件的發生可以視為性別權力不平等的結果

5. 行政院於 2009 年實施「大專畢業生至非營利組織職場實習方案實施計畫」，以政府的經費支援，引進大專畢業青年人力投入非營利組織，提供人力薪資補助，並藉助其創意與活力的注入，促進非營利組織活化。下表為提案單位與參與青年的資格說明，下列敘述何者符合此一政策的相關內容？

提案單位	依法登記立案且加入勞工保險及就業保險之財團法人與人民團體。
參與青年	教育部認可之國內 95 至 97 學年度各大專畢業(不含研究所)非在學之待(失)業青年。

- (A) 非營利組織不接受政府經費補助，此為政府為協助其營運之變通方式
 (B) 非營利組織不能有營利行為，所以無力負擔組織部門工作人員的薪資
 (C) 近期學校校園中增加許多位教學助理，即屬於此一方案所聘任之人員
 (D) 國際性非營利組織須依我國《人民團體法》登記後，始得參加此方案
6. 大方喪偶多年，育有 25 歲的兒子小宇及 19 歲的女兒小莉。近日大方不幸身亡，留下遺產 50 萬元，負債 70 萬元。債權人得知消息後，紛紛上門請求長子小宇清償父親的債務。依據現行《民法》規定，小宇和小莉繼承其父親遺產及債務的效力為何？
 (A) 基於「父債子還」原則，小宇身為長子須繼承所有債務，因此要負責清償 70 萬元負債
 (B) 小宇和小莉對於父親留下的 70 萬元債務，只須在 50 萬元遺產的範圍內負責清償即可
 (C) 對於未成年的小莉，法律規定她僅須限定繼承；而成年的小宇須概括繼承遺產及債務
 (D) 小宇若不願繼承父親債務，必須在 3 個月之內，以書面向當地稅務機關表示拋棄繼承
7. 右文為美雅在報紙上看到的一篇報導，根據此報導，檢方予以不起訴處分是符合「罪刑法定主義」中的哪一項原則？
 (A) 禁止不定期刑
 (B) 不得溯及既往
 (C) 禁止類推適用
 (D) 禁止習慣法適用
- 〈本報訊〉台灣銀行於 2008 年間招考新台幣檢券員，爆發喧騰一時的電子舞弊案。當時檢察官欲以《刑法》第 137 條妨害考試罪將涉案考生提起公訴。但因《刑法》該條文所規範的對象僅包括公務人員考試和專門職業及技術人員考試，故國營事業及公股民營事業招考不屬於國家考試，舞弊也無法依該條文論處。該測驗主管機關最後依簡章之相關規定，將涉案考生的測驗成績不予計分，並取消當次測驗資格，而檢方只能對槍手及作弊考生予以不起訴處分。
8. 大明與兩位弟弟合開豆漿店，因產權糾紛，時有爭執。大明主張他擁有 2/3 產權，弟弟們則主張三人產權各為 1/3。為了解決兄弟紛爭，甲、大明邀弟弟們協商，表示願意退讓為擁有 1/2 產權，弟弟們認為大明缺乏誠意，談判因而破裂，大明一怒告上法院。乙、開庭時，兄弟三人分別向委員們說明當初合夥開店與分工經營的情形。最後在委員們協商建議下，大明終於和弟弟們達成共識。在甲、乙敘述中，分別使用了何種途徑解決問題？
 (A) 和解、調解
 (B) 仲裁、調解
 (C) 和解、公證
 (D) 調解、和解
9. 小英與小芳是同班同學，兩人感情不睦，時有爭吵。一日，小英用手機傳簡訊給小芳，說小芳「可憐沒人愛」，小芳因此在自己的部落格上寫文章批評小英有「公主病」、是「肖查某」等。兩人遂向檢方互控妨害名譽，數日後小芳被檢察官依據《刑法》妨害名譽罪起訴，小芳深感委屈，認為小英才是罪魁禍首。檢察官起訴小芳卻未起訴小英的原因為何？
 (A) 小英用手機傳簡訊辱罵小芳，並沒有散布眾人及公然侮辱的事實
 (B) 依據「自由心證」原則，檢察官可以自行裁量要起訴小英或小芳
 (C) 妨害名譽是屬侵害社會法益的罪，檢察官應以司法權全力捍衛之
 (D) 「公主病」、「肖查某」的批評，較「沒人愛」更易破壞人際關係

10. 我國外籍配偶向外交部提出來台簽證申請，結果被外交部駁回。監察院以外交部的作法侵害當事人的訴訟基本權為由，認為外交部既未以書面載明拒絕核發簽證的理由，又沒有告知當事人不服時可以如何救濟，因此對外交部提出糾正，並要求改善。監察院對外交部提出糾正的主要原因是什麼？
- (A) 不利外交邦誼建立
 - (B) 不符族群平等原則
 - (C) 違反正當法律程序
 - (D) 削弱政府績效表現
11. 以我國公務人員的職務與性質而言，包括政務官與事務官兩種。兩者在任用資格、權責、保障等不盡相同。下列哪些同學的說法，最符合「政務官」的性質？
- 丁丁：教育部部長的任用資格應有學經歷的認證
波波：直轄市的副市長必須隨著政黨輪替而去職
搖搖：行政院長退休保障適用《公務人員退休法》
花花：教育局局長因政策失當而向該縣縣長請辭
- (A) 波波、花花
 - (B) 花花、丁丁
 - (C) 搖搖、丁丁
 - (D) 搖搖、波波
12. 1959 年西藏反對中華人民共和國統治的武力運動失敗後，流亡政府在印度的達蘭薩拉成立總部。西藏流亡政府自稱是代表西藏的合法政府，並尊崇第十四世達賴喇嘛(丹增嘉措)為精神領袖。2001 年，西藏流亡政府以直接選舉形式產生首位民選的首席噶倫(首席部長)，並由其提名其他部長，經民選之人民議會同意後，組成政府。另設有最高法院。下列關於西藏問題的敘述，何者符合事實？
- (A) 丹增嘉措能成為政治與精神領袖，是屬領袖魅力型權威
 - (B) 達蘭薩拉的政府領袖噶倫由直選產生，屬於法理型權威
 - (C) 達賴喇嘛已獲得美國支持，流亡政府的統治具有正當性
 - (D) 達賴身兼國家領袖與行政首長，其政府體制屬於總統制
13. 在 2004 年所舉行的「青年國是會議」共包含 48 場的公民小組會議，是針對青年人票選出的八大議題進行討論。與會的代表，是由 1200 多位符合資格者，以公開抽籤的方式選出 640 位。代表們涵蓋各個領域，除了青年學生外，還包括大專及中小學老師、醫師、軍人、警察、美容師等，他們必須先研閱專家學者所撰寫的會前資料，才能參與討論。這場國是會議的性質，較類似下列何種民主理論的實現？
- (A) 審議民主論
 - (B) 菁英民主論
 - (C) 經驗民主論
 - (D) 古典民主論
14. 選舉過程中為使己方候選人獲勝，會採取「分散選票」的策略，就是盡可能極小化對方票源的有效使用，將對方陣營的鐵票區域劃分成數個選區，以達到稀釋對方鐵票的作用。此一策略的運用，是由於選舉採用下列何種制度？
- (A) 比例代表制
 - (B) 限制連記法
 - (C) 單一選區制
 - (D) 兩輪投票制

15. 政府部門相關首長聚會討論，大洋洲的甲國提出要與我國建交的條件是，我國必須提供該國高達數億美元貸款與投資。但除了「拓展外交」的政策外，我國可以有其他的考量，例如：將數億美元用在國內建設，會對人民產生更多的福祉。如果你是決策官員，運用經濟概念進行理性思考，會做出下列哪一最佳選擇？
- (A) 官員必須思考，在拓展外交或國內建設之間，以何者具有「絕對利益」作為選擇標準
(B) 以「機會成本」來衡量，選擇拓展外交必須放棄國內建設的代價，以做出明智的決策
(C) 根據「市場均衡」，不管選擇拓展外交或國內建設，都會達到對國家整體有利的結果
(D) 從「供需法則」角度思考，甲國可能在取得資金後與我國斷交，還不如用於國內建設
16. 計程車司機康先生，工作時嚴格要求自己的行為舉止和服裝儀容，特別用心蒐集報章雜誌裡各地方的旅遊路線和軼聞趣事，記錄三百多筆客人電話、職業與愛好等資料，並且到乘客家門口等著幫忙將行李搬上車，還為乘客準備好早餐，這種經營方式，讓他在景氣低迷的當下，生意卻愈做愈大，每月收入高出同行許多。根據上文，康先生成功打造具有口碑品牌的關鍵應是下列何者？
- 甲、透過獨特的行銷手法來累積客源，提高每個月的載客率
乙、運用多角化經營的方式降低成本，充分展現企業家才能
丙、提供旅遊路線資訊，協助各區域發展地方特色觀光事業
丁、提升自我人力素質，加強為客人量身打造的專業化服務
- (A) 甲乙
(B) 丙丁
(C) 乙丙
(D) 甲丁
17. 四位我國國籍的青年，生涯上面臨了不同的發展。下列何者的薪資或產出應計入我國的 GDP 中？
- 小夫：購買大樂透彩券幸運地中了頭獎
靜香：在美國在台協會工作以賺取薪資
大雄：迷戀特技表演，參加太陽馬戲團去歐洲巡迴表演維生
胖虎：專門靠網路拍賣出售家中的二手用品來獲取微薄的生活費
- (A) 小夫
(B) 靜香
(C) 大雄
(D) 胖虎
18. 某家知名的日本料理店，來店客數一天多達千人，但因餐廳排煙風管太吵而遭鄰居黃先生提告，法院判決店家要付給黃先生 25 萬元作為精神賠償。下列哪一敘述，符合經濟學的觀點？
- (A) 店家行為產生外部效益，所以應該給予店家補償金
(B) 店家行為產生外部成本，所以政府對其課徵噪音稅
(C) 黃先生行為產生搭便車效應，鄰居們可分到賠償費
(D) 因為安寧環境是公共財，所以鄰居可要求店家停業

第 19-20 題為題組

日本最大在野黨民主黨於 2009 年 8 月 30 日在第四十五屆眾議院大選中，贏得歷史性的狂勝，推翻自民黨主導超過半世紀的政權，改寫了日本政治史。民主黨在眾議院的 480 席中，取下逾 300 席的席次，成為有實權的第一大黨。而自民黨從原本的 300 席跌到 119 席(請參考下表)。民主黨黨魁鳩山由紀夫表示：「選舉結果足以感受到國民想改變政治的熱切期盼，這不是民主黨的勝利，而是國民的勝利！」9 月 16 日開始的特別國會，選出民主黨黨魁鳩山由紀夫出任新任首相，並宣佈民主黨將延續自民黨從 1993 年起，與其他政黨共組政府的方式，推動國家大政。

政黨	民主黨	自民黨	公明黨	共產黨	社民黨	國民新黨	其他
席位	308	119	21	9	7	3	13
總計	480						

19. 從上文的敘述中關於日本政府體制的特色，何者是正確的？
- (A) 日本有兩位行政首長：天皇與首相，因此屬於雙首長制
 - (B) 其內閣屬於聯合政府，可判斷其政府體制應屬於委員制
 - (C) 首相由眾議院多數黨黨魁擔任，此即內閣制的重要特色
 - (D) 擔任首相須經由天皇任命之程序，因此必須向天皇負責
20. 從上文之敘述，可以判斷日本政黨體制的變化情形？
- (A) 出現五十年以來的政黨輪替，足見日本屬於兩黨制
 - (B) 自民黨已執政超過半個世紀，可知屬於一黨獨大制
 - (C) 自民黨從二戰以來執政至今，一直是採一黨專政制
 - (D) 新首相組成聯合政府，政黨體制運作仍偏向多黨制

第 21-22 題為題組

《少年事件處理法》規定，關於經常逃學逃家之少年，依其性格及環境，而有觸犯刑罰法律之虞者(以下簡稱虞犯少年)，由少年法院處理之。少年法院於必要時，對於少年得裁定收容於少年觀護所。針對以上規定是否違憲，大法官日前作成釋字第 664 號解釋，認為這些規定的涵蓋範圍過廣、不明確，而且與憲法第 23 條比例原則不符，應自解釋文公布日起，至遲於屆滿 1 個月時，失其效力。

21. 根據上文，大法官認為少年事件處理法中相關規定，並不符合憲法第 23 條比例原則，其意涵是指下列何者？
- (A) 若只為了暫時保護虞犯少年的安全、並導正其偏差行為，而將少年收容於少年觀護所，目的並不正當
 - (B) 將虞犯少年收容於少年觀護所，並非保護少年安全及提供教育輔導的唯一手段，尚有其他方式可選擇
 - (C) 為了維持社會秩序及整體利益，對於經常逃學逃家的虞犯少年進行收容處置，其利益與損害並未失衡
 - (D) 經常逃學逃家的虞犯少年，因尚未成年，又沒有真正觸犯刑法，法院不應對其進行任何保護處置措施
22. 上文中劃線部分之相關規定，大法官認為會嚴重影響虞犯少年受憲法保障的基本人權。此項人權應為下列何者？
- (A) 人身自由的權利，屬於消極人權
 - (B) 求學受教的權利，屬於積極人權
 - (C) 選擇住居的權利，屬於新興人權
 - (D) 少年族群的權利，屬於集體人權

第 23-24 題為題組

莫拉克颱風重創我國著名的阿里山茶區，受創面積超過 200 公頃，冬茶的產量銳減 1 成，而最受歡迎的冬茶，預估價格漲幅將會達到 2 成，使得用量最多的現調茶飲店大呼受不了(冬茶是製作現調茶飲的原料)，漲價的壓力浮現。有的現調茶飲店積極研發果汁新產品替換，有的甚至以便宜的進口越南茶來代替冬茶；而消費者表示，現調茶飲店若價格上漲，將不再購買現調茶飲，完全轉而選擇便利商店的瓶裝茶。

23. 文中所提到消費者的選擇，符合下列哪一觀點？
- (A) 瓶裝茶和現調茶飲是「互補品」，當冬茶價格上漲，會使「瓶裝茶」的需求增加
 - (B) 冬茶與瓶裝茶是「互補品」，當冬茶的價格上漲，會使得「瓶裝茶」的需求下降
 - (C) 冬茶與現調茶飲是「替代品」，當冬茶價格上漲，會使「現調茶飲」的需求下降
 - (D) 瓶裝茶和現調茶飲是「替代品」，現調茶飲價格上漲，會使「瓶裝茶」需求增加
24. 經濟學假設人是理性的，理性的個人在做決策時會蒐集資訊、衡量成本與報酬，最後選擇有利自己的決策。下列哪些是符合在理性決策下的選擇？
- (A) 消費者以瓶裝茶取代現調茶飲，可以節省支出，且喝茶的需求量也減少
 - (B) 現調茶飲店研發果汁新產品來取代現調茶飲，其目的在於簡化生產流程
 - (C) 現調茶飲店使用進口越南茶取代阿里山冬茶，目的是為了確保品質不變
 - (D) 由於冬茶的價格上漲，現調茶飲店提高現調茶飲售價是反應成本的做法
25. 歷史上的某一群人大多與文官集團互通聲氣，或本身就是當中的一份子。在土地交易頻繁的狀況下，他們是國家的中地主或大地主。就扮演的角色而言，他們既是朝廷的執事人物也是鄉村的地方領袖，因而成為高層機構和低層機構之間的聯繫者。上述短文中的某一群人最可能是以下何者？
- (A) 西周的貴族
 - (B) 兩晉的士族
 - (C) 明清的士紳
 - (D) 清末的行商
26. 某位學者認為：真正的學術研究必須是考百王之典、綜當代之務、修己治人之實學。因此他對中央政權與地方行政的關係、宦官現象、田賦、學校、邊塞、風俗都進行專門的研究，透過歸納得到一千多條結論。請問這位學者主張的學風應該是：
- (A) 兩漢時代的經學
 - (B) 魏晉南北朝的玄學
 - (C) 宋代的程朱理學
 - (D) 清初經世致用之學
27. 這些新一代的作者為了避過政府的檢查，處處避免正面評議當前社會政治的問題，轉向個人內心的探索。因為魯迅、茅盾及其他左翼作家的作品全遭封禁，他們未能承受上一代的文學遺產，反而深受西方文學寫作技巧的影響。請問上述資料是探討何種文學潮流出現的背景？
- (A) 懷鄉文學
 - (B) 現代文學
 - (C) 鄉土文學
 - (D) 後現代文學
28. 某一時期的統治者為了能有效管理台灣，曾展開包括種族、鴉片吸食特許者、纏足有無、常用語等調查；其中，種族的內涵包括內地人、本島人、生番、外國人等。這項調查最可能於何時開始進行？
- (A) 十七世紀初
 - (B) 十八世紀初
 - (C) 十九世紀初
 - (D) 二十世紀初

29. 這個年代以法文作為學者的國際溝通媒介，認為新知識以及知識的完備豐滿，都在自己的掌握之中，所有事物終將為人所悉，圈入人類的知識領域，藉此可以獲得思想的解放，建構一個理想世界。不過為了實現這個理想世界，還得好好清場，除去眾多路障，尤其是基督信仰中神學、教會、儀式、祈禱。以上敘述最可能是哪一時期的特色？
(A) 文藝復興 (B) 宗教改革 (C) 科學革命 (D) 啓蒙運動
30. 「這場戰爭是古希臘歷史上的一個轉折點，希臘的城邦國家走向不穩定的關係，原本獨立自主型態宣告結束，且波斯是戰爭最大的得利者。」上述資料乃某本書籍對發生於西元前五世紀後期戰爭的描述，下列敘述何者正確？
(A) 上述書籍記載錯誤，此戰爭最終讓雅典稱霸
(B) 此書描述正確，因內戰導致海外殖民地淪陷
(C) 書籍記載錯誤，因布匿克戰爭獲利者是羅馬
(D) 此書描述敏銳，因此戰爭終導致西克索入侵
31. 這種藝術風格純屬精神面的自動作用，不但跳脫時空限制，不受理性操縱，也沒有任何道德或美學考量，發抒表達了思想的真正功能。以上藝術風格最可能為何者？
(A) 古典主義 (B) 浪漫主義
(C) 自然主義 (D) 超現實主義
32. 某本歷史小說內容提到：異端思想在十一、十二世紀快速發展，在教皇領導之下，正統教會組織研討會，遊說知識分子遠離異端，否則將驅逐出境，甚至將他們燒死，以孤立異端在社會上的作用。關於上述資料，下列解讀何者最合理？
(A) 當時商業貿易蕭條，故人們仰賴異端求財
(B) 十字軍東征時，教皇威權大增故排斥異端
(C) 十一世紀大學興起，不可能出現異端思想
(D) 上述資料出自小說內容，故毫無參考價值
33. 甲學者：《周禮》、《爾雅》等先秦文獻中，反映當時黃河中下游普遍種植水稻、竹子等亞熱帶植物，但今天黃河中下游已不多見了，多集中在長江以南，這是氣候乾寒所造成的。
乙學者：經過實地考察證明，今天在黃河中、下游仍有水稻與竹子的種植，尤以水稻分布更廣，幾乎遍及華北、西北等地。
上述資料分別由二十世紀不同學者所提出，對這兩段資料的解讀，下列何者最合理？
(A) 乙學者反駁甲學者，認為古今氣候的變遷，無法單從黃河水稻分布來證明
(B) 甲學者的理論足以證明今日氣候較古代乾燥寒冷，乙學者的說法顯然有誤
(C) 兩段資料皆言之成理，都足以證明水稻為新石器時代中國北方的原生物種
(D) 兩段資料皆不足以採信，因為南稻北麥的格局，早在新石器時期就已決定
34. 下面是四種學術流派的主要特色：
甲：無善無惡心之體，有善有惡意之動，知善知惡是良知，為善去惡是格物
乙：吸取道家的清靜無為學說，也雜揉法家駕御臣下之術，以及陰陽家思想
丙：考據名物訓詁而復興漢學，一物不知，以為深恥，遭人而問，少有寧日
丁：天子有德則天降祥瑞，天子失德則災異並生，須向天下索求賢人以讓位
依其出現的時代先後次序，下列何者排列最為妥當？
(A) 丁乙丙甲 (B) 丁丙乙甲
(C) 乙甲丁丙 (D) 乙丁甲丙

35. 學者在評論鄭成功與施琅的作為時指出：他們兩人雖然處於敵對的位置，但從他們對臺灣的認識來說，「施琅不是鄭成功的叛徒，而是他的繼承者。」請問：這樣的評價，最有可能基於以下何種看法？
- (A) 臺灣具戰略與海防地位
(B) 臺人是反清復明的支柱
(C) 臺灣是獨立自主的國家
(D) 臺灣是漢文化的處女地
36. 1586 年，馬尼拉總督上書給當時的國王菲利浦二世，建議盡速派兵占領菲律賓群島較偏遠的島嶼艾爾摩莎(Isla Hermosa)，否則落入日本或荷蘭之手，會對馬尼拉的貿易與安全造成極大威脅。但當時國王並未接受，而是到了十七世紀前期才到艾爾摩莎建立據點。請問：他們十七世紀在艾爾摩莎所建立的據點，位於今日何處？
- (A) 基隆 (B) 臺南
(C) 澎湖 (D) 澳門
37. 某段資料提到：通過對外貿易，我們可以保證英國每年有二十萬英鎊的盈餘。由於我們出口貨物的利潤不是以貨物的形式流回，而是把金銀帶回本國，因此金銀的流入必然增加國家的盈餘。掌握對外貿易的真正的價值表現在：國王的巨大收入、國家的榮譽、商人的高尚職業、我國的財力、我國的軍備，並且能使敵人膽顫心驚。請問上述內容反映何種主題？
- (A) 中古後期城市復甦
(B) 重商主義的盛行
(C) 工業革命的興起
(D) 新帝國主義的昂揚
38. 這個帝國民族複雜，語言眾多，它除了兩個最大民族之外，還統治捷克人、各式各樣的斯拉夫人，它從未形成單一民族國家，而各民族間又有對立的問題，最終在一次大戰後瓦解。請問這個帝國是：
- (A) 奧匈帝國 (B) 德意志帝國
(C) 俄羅斯帝國 (D) 鄂圖曼土耳其
39. 某封書信內容如下：你清楚的知道，我最崇拜、最愛戴的是西塞羅。我並不擔心自己被宣傳為一名西塞羅的仰慕者，或被看作為一個拙劣的基督徒。在我看來，西塞羅從未寫過一個與基督教義相悖的字，基督是我的上帝，西塞羅是我仿效的語言大師，我否認它們是相互衝突的。西塞羅關於人的語言、人的品德和人的智慧寫了許多內容，這些都是正確的，因而也必然為上帝所接受。請問上述內容最可能是誰所撰寫的？
- (A) 凱撒 (B) 喀爾文
(C) 馬丁路德 (D) 佩脫拉克
40. 資料一：改良文學之聲，已起於國中，贊成反對者，各居其半。……獨自改良中國文學，當以白話文學正宗之說，其是非甚明，必不容反對者有討論之餘地。
- 資料二：歐美式議會制度根本就是金力主義，由擁有巨貲的資本家在背後暗中操縱，在這種民主制度之中，貧苦大眾永遠是被剝削和壓制的一群。真正的民主只存在於沒有階級的社會，當私有財產制度全面廢止，金力主義無所依附，才能人人平等，一人一票也才有真實的意義。
- 上述兩段資料是同一人的見解，他最有可能是何人？
- (A) 陳獨秀 (B) 胡適之
(C) 梁啟超 (D) 康有為

41. 甲：國家設有專官，收集各大家族世系、官位等資料，當做任官的主要依據。
乙：宗廟是決定國家大事的地方，只有宗子才有主祭權，其餘諸子只能陪祭。
丙：雖然有人寫了《家禮》，但只有官員才能立家廟，平民仍無權設立家廟。
依據三段資料的先後順序，其最合理的排列方式為：
(A) 甲乙丙 (B) 甲丙乙 (C) 乙甲丙 (D) 乙丙甲
42. 資料一：西漢初年某人上書皇帝：現在天下大勢，就像一個人身上得了大腫症，小腿腫得像腰，手指腫得像大腿，平時已無法屈伸，再不狠心治療，一旦危害心臟，就算扁鵲這樣的神醫復生，也莫可奈何了。
資料二：明初有位大臣以指病為喻：天下之事，常發於至微，而終為大患；始以為不足治，而終至於不可為，得位者當以此為誠啊。
考察兩人的時代背景，藉著文中的比喻，他們最希望在位者優先解決下列哪一問題？
(A) 因裂土分封政策，導致諸侯王跋扈威脅中央
(B) 因無為放任政策，導致遊俠與商人勢力龐大
(C) 因醫療知識落後，導致庸醫危害到平民百姓
(D) 因官員貪污腐化，導致郡縣制無法順利推動
43. 某一時期的臺灣統治者為限制臺灣沿岸與大陸的貿易，決定將基隆、淡水、安平、打狗等地定為「條約港」，供各國貿易通商，包括來自中國的船隻，必須先至此四港報關納稅後，再赴原先固定出入的港口起卸貨物。此舉使臺灣商民深感不便，紛紛向當局陳情。請問：此項措施的主要用意為何？
(A) 大不列顛帝國為了壟斷臺灣的商業
(B) 荷蘭東印度公司為拓展臺灣的貿易
(C) 日本政府意圖主宰臺灣對外的貿易
(D) 清廷開放臺灣通商以促進商業繁榮

44. 某本史書上附表一張如下：

	1. 行政區	2. 戶口	3. 科舉
北方	宋初：6 路	北宋：佔全國三分之一	司馬光建議按地區分配名額，以保障北人
	神宗：8 路	金：不及南宋	
南方	宋初：9 路	北宋：佔全國三分之二	1. 考上進士者多 2. 北宋中期：出身於南方之宰相，已多於北方
	神宗：15 路	南宋：江浙占人口之半	

此表最恰當主題應為：

- (A) 行政區數量多寡與考上科舉人數成反比
(B) 南北經濟重心轉移及其相應發生的影響
(C) 兩宋交通要道的分布與戶口消長之關係
(D) 王安石變法重南輕北，並導致新舊黨爭
45. 這也是一場三十年戰爭，戰火此起彼落，波及的範圍卻比前一場戰爭更廣泛，涵蓋法蘭西、希臘、波蘭、俄羅斯、北義大利、那不勒斯、教皇國和比利時等地，令沙皇、各家皇帝與國王們時時警戒與不安。以上所指的是：
(A) 十七世紀新教與舊教之間的宗教戰爭
(B) 十九世紀上半葉拿破崙軍隊橫掃歐陸
(C) 十九世紀自由主義及民族主義的革命風潮
(D) 二十世紀共產主義與法西斯主義大肆擴張

46. 狄德羅一邊編寫百科全書，一邊看展評畫。他發覺這時期的藝術風格細緻精巧，色彩變為輕盈，作品思緒幻奇，使用大量捲曲細紋，並帶有東方情調，如同「啓蒙在嬉戲」。請問這最可能是以下何種藝術風格？
- (A) 巴洛克
 - (B) 洛可可
 - (C) 古典主義
 - (D) 浪漫主義

第 47-48 題為題組

47. 資料一：赦免狀是國君凌駕司法審判，額外提供殺人者自白的恩惠。學者發現十六世紀法國的皇家檔案中有許多赦免狀，部分內容是被告說服國王宣告無罪的一項司法請求，其中充斥著虛構與真實的情節。

資料二：從西元 1564 至 1580 年的法國，當時求赦者只要能合理解釋自己的犯罪行爲，獲得赦免的機率是相當高的，但是女性被國王赦免的比率僅有 3%，主要原因是當時女性犯罪多與巫術有關，這種行爲在十六世紀是不得赦免的。

關於兩段資料，下列解讀何者正確？

- (A) 上述資料出自皇家檔案，不可能讓被告虛構情節
 - (B) 當時部分國民會議成員，曾批評赦免狀浮濫情形
 - (C) 赦免狀有助提升王權，反映民族國家興起的現象
 - (D) 赦免狀具宗教性質，乃是導致宗教革命的導火線
48. 承上題，請問當時女性被赦免的比率為何偏低？
- (A) 民族國家擴張王權，打壓女權運動
 - (B) 三十年戰爭爆發，女性多加入新教
 - (C) 宗教戰爭時期，助長迫害女巫風氣
 - (D) 文藝復興時期，人文主義歧視女性

49. 圖(一)為某沿海地區的景觀，請問右側的石柱，最可能是由什麼地形演變而來？

- (A) 方山
- (B) 海階
- (C) 海蝕門
- (D) 海底火山



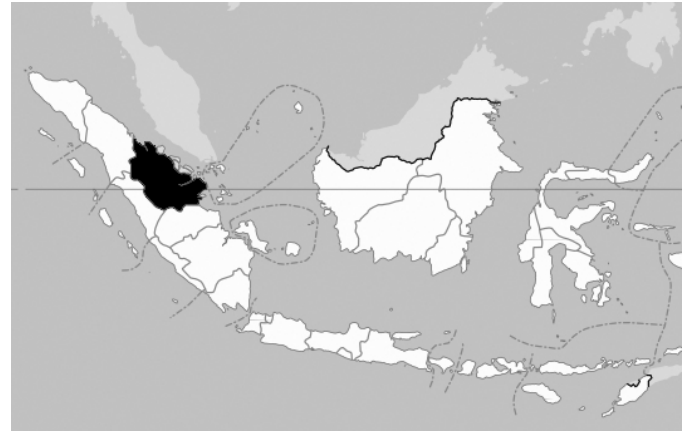
圖(一)

50. 「黃河斷流的原因一直是中國關注的問題之一，大部分專家認為，中上游地區過量引水，是導致黃河斷流的主要原因；不過也有學者發現，各河流向源侵蝕速率的強弱，決定了各水系集水區的改變，也是影響水資源區域差異的重要因素。」文中所提河川的向源侵蝕，會影響各水系集水區的範圍大小，最適合以下列哪一種地形作用說明？

- (A) 沉水作用
- (B) 襲奪作用
- (C) 溶蝕作用
- (D) 均夷作用

51. 「七月的吉隆坡，天空常常灰濛濛一片，空氣瀰漫著一股煙燻味，令人感覺十分不舒服。氣象報告說這是煙霾現象，其主因為印尼蘇門達臘內省 (Riau，位置見圖(二)黑色區域)墾民在整地焚燒時的煙塵，隨著盛行風到來所致。這個現象會持續到九月左右，當進入風向轉換期時，煙霾的情況就會減弱。」請問：導致吉隆坡煙霾盛行的風向最可能為何？

- (A) 東北風
- (B) 東南風
- (C) 西南風
- (D) 西北風



圖(二)

52. 慧慈利用暑假到某一地區旅行，她在日記中寫道：「當地樹木種類豐富，且呈現成層分布。最高者可達七十幾公尺，森林底下則有藤蔓與大量的蕨類生長，許多小型動物則分別生長在不同的樹層中。」請問：日記中描述的地點，最可能是指下列何處？

- (A) 臺灣屏東的墾丁
- (B) 美國的加州谷地
- (C) 非洲的剛果盆地
- (D) 中國東北的長白山地

53. 圖(三)照片為某位同學出國旅遊所拍攝的照片，此一湖泊兩側有極陡的山壁，湖水深且呈長條形。此種地形若沒有積水成湖，則易成為通谷，常被人類利用為往來的交通通道。下列哪兩個國家間的交通線，最可能是利用此種地形所興建？

- (A) 德國與法國
- (B) 美國與加拿大
- (C) 瑞士與義大利
- (D) 中國與俄羅斯



圖(三)

54. 透過全球各地世界都市的時差，全世界才能維持金融活動 24 小時運轉。下列各世界都市中，哪兩地之間的時差最大？

- (A) 倫敦、東京
- (B) 倫敦、新加坡
- (C) 東京、舊金山
- (D) 香港、芝加哥

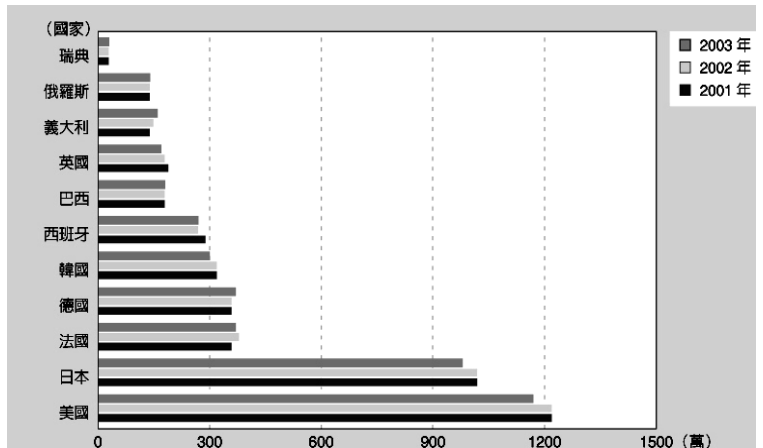
55. 進行鄉土地理研究時，探討「隨時間變化的問題」是常見的研究方向之一。根據地理知識來判斷，零售業正進行著哪些改變？

- 甲、當都市人口增加時，該地零售商店數量越多；
- 乙、超級市場的主要區位仍然以中心商業區為主；
- 丙、便利商店的商品與服務逐漸走向專業化、單一化；
- 丁、近年來網路購物的商品種類和交易量逐年創新高。

- (A) 甲乙
- (B) 乙丙
- (C) 丙丁
- (D) 甲丁

56. 「2009 年 6 月 8 日，蘋果公司在美國舊金山的全球軟體開發商大會(WWDC)中，正式發布 32 GB 的 iPhone。中華電信在 8 月即向蘋果公司採購此款最新的 iPhone，然而，之前引進的 10 萬支容量 8 GB 的 iPhone 還有 4 萬支尚未售出，所以中華電信正評估舊機的新促銷方案。」上述現象，表示企業應更加重視第四級產業的哪一項特點？
- (A) 掌握研發創新能力 (B) 產品生命週期縮短
(C) 產品個性化與客製化 (D) 製造、銷售與服務結合

57. 圖(四)是世界部分國家，在 2001~2003 年某種產業的產量資料。以美國為例，此種產業最初的生產重鎮，與鋼鐵工業的發展有密切關係，生產泰勒化後，產量更是大增，使當地的 NBA 球隊也以此產業相關的零件來命名。原先圖中產量排名第二的日本，2008 年時因全球金融風暴影響，超越美國成為全球最大製造國，為了進軍美國市場，也投入鉅資於美國設廠。請問此種產業最可能為何？
- (A) 電腦 (B) 汽車
(C) 半導體 (D) 飛機製造



圖(四)

58. 臺灣加入 WTO 以後，在農業部門方面，已經產生下列哪些改變？
- 甲、政府在此貿易架構下，依法增加農業部門的補貼；
乙、政府依據協定內容，逐年調降外國農產品的進口關稅；
丙、臺灣本地生產的梨、桃、蘋果，在市場價格上更具有競爭力；
丁、政府、學界與農民本身，投入更多資源進行品種改良與技術提升。
- (A) 甲乙 (B) 乙丙 (C) 甲丁 (D) 乙丁

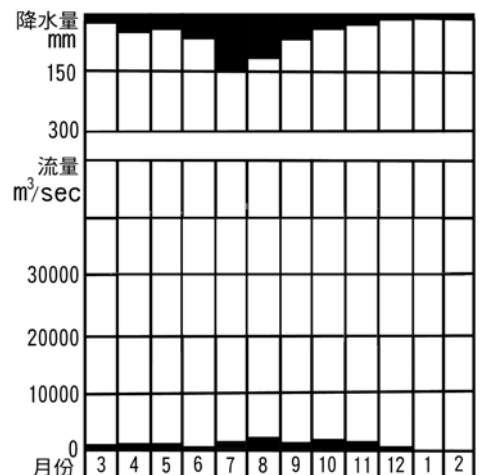
第 59-60 題為題組

◎ 下表甲、乙為區分中國自然景觀帶、逕流帶的統計數據，單位皆為毫米(mm)。回答 59-60 題：

自然景觀帶	甲	乙	逕流帶	
I. 荒漠	<200	<200	缺水帶	乾燥帶
II. 半荒漠、草原	200-400	200-300	少水帶	
III. 森林草原、落葉闊葉林	400-800	300-400	過渡帶	
IV. 落葉闊葉林、常綠闊葉林	800-1600	400-700	多水帶	溼潤帶
V. 熱帶季風雨林、熱帶山地常綠林	>1600	>700	豐水帶	

59. 甲、乙對應的指標依序最可能為：
- (A) 年蒸發量、年降水量
(B) 年蒸發量、年缺水量
(C) 年降水量、年剩水量
(D) 年降水量、年蒸發量

60. 利用圖(五)測站的水文與氣候資料，請判斷該測站最可能位於何種自然景觀帶內？
- (A) II (B) III
(C) IV (D) V



圖(五)

第 61-62 題為題組

◎ 「土石流係指泥、砂、礫及巨石等物質與水之混合物，受重力作用所產生之流動體，沿坡面或溝渠由高處往低處流動之自然現象。土石流大多在豪雨期間發生於山坡地或山谷之中，其外型與一般常見之混凝土砂漿極為相似，因此又被喻成『天然預拌混凝土』。」根據上述短文，回答 61-62 題：

61. 土石流除易發生於碎屑物充足且坡度較大之山坡或溝谷外，仍需有哪些降雨條件才會誘發？

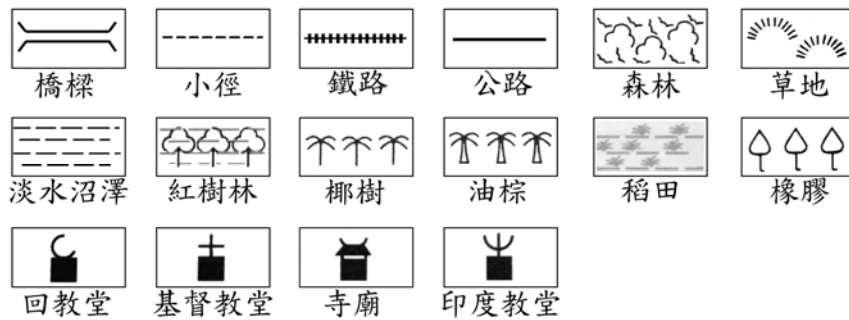
- 甲、降雨量多寡；乙、雨量變率大小；丙、降雨成因類型；丁、降雨強度大小。
- (A) 甲乙 (B) 甲丁
(C) 乙丙 (D) 丙丁

62. 下列哪一個臺灣縣市內，土石流潛勢溪流的數量最少？

- (A) 臺北市
(B) 高雄市
(C) 宜蘭縣
(D) 南投縣

第 63-65 題為題組

◎ 圖(六)是某一地區大比例尺地形圖中較常出現的地物或地貌圖例，請據此回答 63-65 題：



圖(六)

63. 該地區的氣候類型最接近：

- (A) 熱帶雨林
(B) 熱帶莽原
(C) 夏雨型暖溫帶
(D) 溫帶地中海型

64. 該地區的地理位置最可能位於下列哪一經緯度範圍內？

- (A) 30°N~40°N，110°W~120°W
(B) 20°N~30°N，50°E~60°E
(C) 0°~10°N，100°E~110°E
(D) 5°N~5°S，10°E~20°E

65. 由圖(六)可推斷當地具有下列哪些人文特色？

甲、語言、民族多元化；乙、曾為西班牙殖民地；丙、自給式畜牧業興盛；
丁、經濟作物為重要出口商品；戊、餐點中使用雞肉較牛、豬肉普遍。

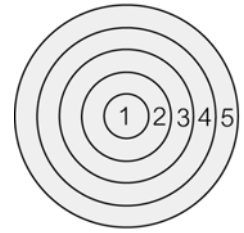
- (A) 甲乙丙
(B) 甲丙丁
(C) 甲丁戊
(D) 乙丁戊

第 66-68 題為題組

◎ 都市是人類重要的生活舞台，在自然和人文因素共同影響之下，都市內部出現不同的土地利用類型，形成各種相異的內部結構。都市內部的結構，主要包括同心圓、扇形與多核心三種模式。回答 66-68 題：

66. 圖(七)為同心圓模式圖，其中 1 為中心商業區，5 為通勤帶，請問 2、3、4 依序為何種土地利用？

- (A) 高級住宅區、過渡帶、工人住宿帶
- (B) 工人住宿帶、過渡帶、高級住宅區
- (C) 過渡帶、工人住宿帶、高級住宅區
- (D) 過渡帶、高級住宅區、工人住宿帶



圖(七)

67. 美國土地經濟學家賀伊特認為，芝加哥的都市內部結構形成扇形模式，其中低級住宅區多為貧民窟和少數民族聚居地；高級住宅區沿湖畔成帶狀分布，環境品質佳，居民富裕，教育水準高，健康狀況良好。此種差異懸殊、層級分明的現象，稱為什麼？

- (A) 人口轉型
- (B) 區位聚集
- (C) 社會梯度
- (D) 都市階層

68. 在多核心模式中，地價從市中心向外圍遞減的趨勢，並非一成不變，而會出現多高峰的現象。決定各地地價高低不同的主因為何？

甲、經濟活動的型態；乙、人口密度的大小；丙、交通易達性的高低；
丁、建築物的樓層高低；戊、政府公共設施的規劃。

- (A) 甲乙
- (B) 丙丁
- (C) 乙戊
- (D) 甲丙

第 69-70 題為題組

◎ 地理實察是指實地從事地理環境的觀測、調查工作，以蒐集第一手資料的活動，其方法可分為直接觀察和操作性地理實察二大類。回答 69-70 題：

69. 問卷調查是操作性地理實察最常使用的工具之一，下列哪些研究主題適合以問卷調查的方式進行研究？

甲、超級市場顧客來源分析；乙、臺南市各地氣溫差異的探討；
丙、本校同學補習行為的調查；丁、臺北市中心商業區範圍的界定。

- (A) 甲丙
- (B) 乙丁
- (C) 甲乙
- (D) 丙丁

70. 小凱想要瞭解某一家便利商店顧客的居住地，以探討其「居住距離」和「購買頻率」的關係。在蒐集資料之後，應該整理成何種圖形呈現較佳？

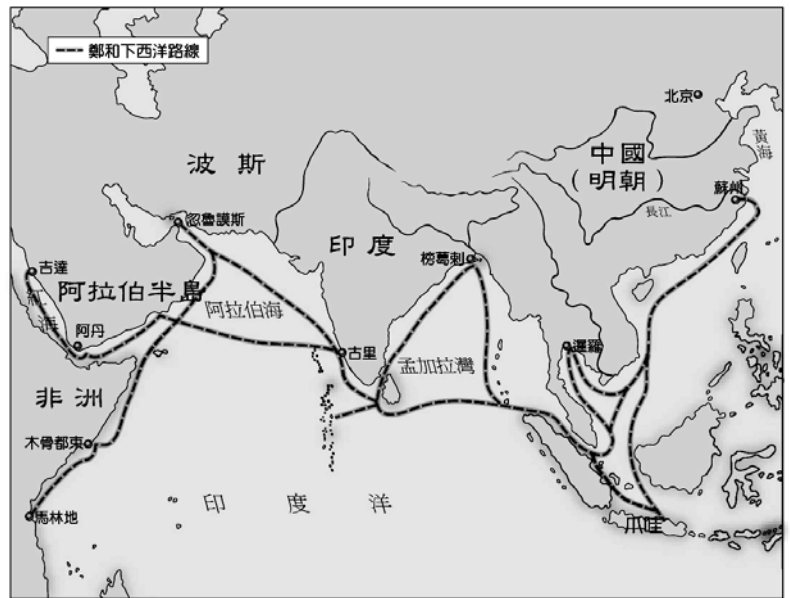
- (A) 折線圖
- (B) 散布圖
- (C) 點子圖
- (D) 面量圖

第 71-72 題為題組

◎ 圖(八)是明朝時鄭和下西洋的路線圖。

請根據圖中資料，回答 71-72 題：

71. 當時鄭和所經過的地區中，最可能看到下列哪種地理現象？
- (A) 環礁為主的島嶼
 - (B) 峽灣眾多的冰河地形
 - (C) 一望無際的春小麥田
 - (D) 高樓林立的中心商業區
72. 圖(八)中哪一個地區，未來最可能因全球暖化，而使熱帶氣旋的侵襲頻率大為提高？
- (A) 爪哇
 - (B) 榜葛刺
 - (C) 馬林地
 - (D) 忽魯謨斯



圖(八)