

臺北區 106 學年度第一學期
第一次學科能力測驗模擬考試

社會考科

—作答注意事項—

考試範圍：公民與社會第二～三冊

歷史、地理第一～二冊

考試時間：100 分鐘

題型題數：

- 單選題：共 72 題

作答方式：

- 用 2B 鉛筆在「答案卡」上作答；更正時，應以橡皮擦擦拭，切勿使用修正液（帶）
- 未依規定畫記答案卡，致機器掃描無法辨識答案者，其後果由考生自行承擔



99363105-26

◆單選題（占 144 分）

說明：第 1 題至第 72 題皆計分。每題有 4 個選項，其中只有一個是正確或最適當的選項，請畫記在答案卡之「選擇題答案區」。各題答對者，得 2 分；答錯、未作答或畫記多於一個選項者，該題以零分計算。

1. 某位資深本土藝人在 2016 年總統大選投票當天於個人臉書發文力挺某位候選人，遭中選會以違反《總統副總統選舉罷免法》裁罰 60 萬元，經該藝人不服提起行政訴訟，臺北高等行政法院審理後作出判決，主張相較於 2012 年某總統候選人官方競選粉絲團「臺灣加油讚」在競選當日有組織、系統性及計劃性的助選行為只裁罰 50 萬元，該藝人所為情事顯然較輕微，卻裁罰 60 萬元，有裁量恣意的瑕疵，因此撤銷原處分，發回由中選會另做適法處分。依此判決敘述，臺北高等行政法院認為中選會違背下列何種行政原則？
(A)明確原則 (B)適當性原則 (C)信賴保護原則 (D)平等原則
2. 近年來路跑活動盛行，參加的人數愈來愈多，然而產生的爭議也逐漸增多。消基會於 2017 年年初進行調查即發現，逾五成的路跑活動並未設有退費機制，而儘管設有退費機制的路跑活動，也可能僅訂出出賽前 30 至 60 天不予退費的條款。若依《消費者保護法》的規定，民眾可以如何主張？
(A)依無過失責任的概念，可向主辦單位要求協商，更改契約內容或廢棄契約以退款
(B)因為違反平等互惠原則無效，所以即便過了業者規定的退款時間，仍可要求退費
(C)因定型化契約如有疑義時，應為消費者有利之解釋，所以自然可要求退費
(D)依《消費者保護法》，可委託消保官對主辦單位提起團體訴訟以爭取退費
3. 知名藝人豬哥亮因病逝世，其大起大落且戲劇化的人生留給後人許多感嘆。豬哥亮一生曾有四任妻子及五位子女，因其辭世，家務事再度成為鎂光燈焦點。若依《民法》繼承編之概念，下列敘述何者正確？
(A)若其四任妻子皆曾獲法律所承認，則每位皆可與五位子女共同繼承
(B)由於豬哥亮的債務過於龐大，繼承人恐須辦理拋棄繼承才得以自保
(C)若第四段婚姻未登記財產制且無負債，則現任妻子可能繼承最多遺產
(D)豬哥亮長子曾指控謝家姐妹未盡孝道，因此可依此主張剝奪其繼承權
4. 一位政大法律系學生因不滿學校英語畢業門檻將教育責任外包，認為如此設置英文畢業門檻不合理，因此拒繳英檢合格證明，而校方也拒發畢業證書，學生為此控告政大，但臺北高等行政法院判決該生敗訴，而該生也預計再提上訴。請問下列何者較有可能是臺北高等行政法院判決該生敗訴的理由？
(A)大學享有自治權，學校為維護學術品質，有權在其自治範圍內訂定畢業門檻
(B)學校拒發畢業證書並未涉及剝奪學生身分，因此依法學生不得提起行政訴訟
(C)學生受教育同時也有接受輔導管教的義務，因此學生應全面接受學校的決定
(D)此案件之處理程序，學生應向地方法院行政庭提起訴訟，而非高等行政法院

5. 電視節目或新聞在製播或報導犯罪事件時有時會在法律上呈現不少謬誤，請利用《刑法》所學的概念，判斷下列哪項敘述符合法律的原理原則？
- (A)因時間緊迫的關係，檢察官得將命案的犯罪嫌疑人先聲請羈押再慢慢調查
 - (B)重大命案全民關注，因此各家媒體每日搶先報導檢調提供的最新辦案進度
 - (C)檢察官偵查終結後，針對命案的犯罪事實依公訴罪起訴
 - (D)審判時，法院開放記者在庭內旁聽
6. 臺灣非政府組織（NGO）工作者李明哲遭中國以「顛覆國家政權」罪名逮捕，其妻發表聲明，強調決定不聘請律師，因她深知中國是人治而非法治國家。請問下列何項敘述可以協助判斷為人治或法治國家？
- (A)是否有憲法規範保障
 - (B)是否能依法行政及獨立審判
 - (C)是否有三級三審的救濟途徑
 - (D)是否為國際承認的主權國家
7. 徐自強擄人勒贖案是發生在 1995 年間的富商黃○樹綁架案，由於凶嫌供稱徐自強也是共犯而被起訴。經歷 21 年的纏訟，最高法院於 2016 年 10 月 13 日以檢察官僅依共犯自白做為基礎，未能提供其他積極證據證明確實犯案，罪證不足，維持高等法院更九審見解，判被告徐自強無罪定讞。請問法官主要是根據何種原則作出的判決？
- (A)罪刑法定主義
 - (B)證據排除法則
 - (C)無罪推定原則
 - (D)禁止類推適用原則
8. 所謂「雙首長制」乃是一種介於內閣制與總統制之間的憲政體制，由總統與內閣總理共享國家的行政權力，並同時擁有總統制與內閣制的部分特徵，故又有「半總統制」及「混合制」等稱呼。法國第五共和憲法採用了此制度，而我國中央政府經歷次修憲之後，其體制也被認為偏向雙首長制。但兩國在副署制度上有些相同，卻也有些許差異，下列比較何者正確？
- (A)兩國總統任命新任總理（行政院院長）不需原任總理（行政院院長）副署
 - (B)兩國總統發布緊急命令，均需要總理（行政院院長）副署
 - (C)兩國總統解散國會（立法院），均需要總理（行政院院長）副署
 - (D)兩國總統任命內閣閣員，均不需要總理（行政院院長）副署
9. 「覆議」是美國三權分立制度下，所產生的權力間的制衡方式，我國憲法也有此制度。下列有關我國覆議權行使的內涵，下列敘述何者正確？
- (A)「覆議」是立法權牽制行政權的方式之一
 - (B)「覆議」是行政權用來牽制倒閣案的最佳利器
 - (C)我國將覆議權賦予行政院，但覆議核可權則歸屬總統
 - (D)覆議時，如經出席立委 1 / 2 以上決議維持原案，行政院院長應即接受該決議或辭職

10. 南韓於 2017 年 5 月間舉行總統大選，在人民直選的過程中，文在寅在五組候選人中，以 41 % 得票率當選總統，並任命李洛淵為總理，而南韓總理只負責執行總統決策，並無人事任命權與決策權，在實際政治運作中只是總統的助手。依據上述，下列相關敘述何者正確？
- (A) 南韓總統選舉方式與我國相同
 - (B) 南韓政府制度傾向法國的雙首長制
 - (C) 南韓總統與總理的權力分配類似我國
 - (D) 南韓的政治運作會出現「換軌」情況
11. 公務人員可分為政務官及事務官，其任用資格及身分保障均不相同，關於我國公務人員的分類與說明，下列何者正確？
- (A) 行政院所屬政務官皆隨政黨選舉失敗而去職，其身分均不受保障
 - (B) 一般而言，為嚴守行政中立，政務官無論何時均不得參與政黨活動
 - (C) 舉凡中央各部首長、各會政務委員、首長機要祕書等，皆屬於政務官
 - (D) 事務官會因任期屆滿、國會不信任、與任命者政見不合等因素而去職
12. 「公民投票」就是讓人民當家作主，以投票方式參與公共事務的決定，它是一種直接民主的制度，與選舉、罷免同為人民的參政權利，而我國公民投票可區分為全國性及地方性公投，依現行《公民投票法》與《離島建設條例》之規定，有關全國性公投與地方性公投之比較，下列敘述何者正確？
- (A) 租稅、投資事項均不得為全國性、地方性公投提案
 - (B) 全國性公投至今未曾通過是因為有效同意票未過半
 - (C) 離島因人口較少，容易達到投票率門檻的有效票數
 - (D) 地方性公投由地方選舉委員會審核通過後辦理選舉
13. 報載法國最高行政法院於 2016 年 8 月 26 日作出判決，推翻盧貝斯城對「布基尼」的禁令。法國目前約有 30 個城市禁止這種伊斯蘭泳裝，此項判決將成為重要先例。法國國內已因「布基尼」的禁令，形成對立兩派。支持政府應禁止民眾穿著「布基尼」者認為，這種服裝貶抑女性，引發公眾不安，且抵觸法國為「世俗國家」（指國家對於宗教事務保持中立，以保障言論及宗教自由）的憲法規定；反對政府有權禁止民眾穿著「布基尼」者認為，這項禁令仇視穆斯林，且侵犯法國崇尚自由的精神。依據上文，下列敘述何者最為接近法國最高行政法院對於伊斯蘭「布基尼」爭議的見解？
- (A) 信奉伊斯蘭教的少數移民應該遵守法國多數族群長久以來的宗教、文化與風俗習慣
 - (B) 雖然法國曾遭伊斯蘭極端主義者恐怖攻擊，但仍應遵守憲法，保障國內穆斯林權益
 - (C) 「布基尼」會挑起憤怒、恐懼等情緒，對其禁令為「維持公共秩序與安全的手段」
 - (D) 伊斯蘭教信仰不許女子露出肌膚是一種「奴役女性」、「違反憲法與人權」的象徵

14. 18 世紀上半葉法國啟蒙思想家探討「法的精神」時曾說：「社會有兩種腐化，一種是由於人民不遵守法律；另一種是人民被法律腐化了。」以上論述與下列何者的核心精神較為契合？
- (A) 社會要穩定，須達到柯爾伯格的道德發展最高境界「道德成規期—法律與秩序取向」
 - (B) 社會的動盪不安，主要肇因於人性的貪婪墮落及偏好鑽法律漏洞
 - (C) 社會要進步與幸福，人們必須不斷地反省「要做一個正義的人，遵守法律是否足夠？」
 - (D) 守法是人民應盡的義務，法律做為國家統治的工具，就不應有例外，嚴刑峻罰是必要的
15. 天龍國市長為預防青少年受到毒品的殘害，擬針對市內所有高中生進行驗尿。依法學校認為有必要對未成年學生實施尿液檢驗者，必須取得學生父母或監護人的同意。因此，教育局全面發放同意書，要家長事前同意子女接受驗尿甚至驗血。民間教育團體認為，依據《毒品危害防制條例》所訂定的「特定人員尿液採驗辦法」規定，校園內只有特定人士才可驗尿，檢驗其是否有吸毒。例如曾有違反《毒品危害防制條例》行為之學生；未成年學生於申請復學時，認為有必要實施尿液採驗者；有事實足認為有施用毒品嫌疑之學生等。因此反對可能侵犯學生隱私權的全面性、無差別的驗尿。有關驗尿的爭議，下列敘述何者正確？
- (A) 為維護校園安全及青少年身心發展，應無條件支持學校對學生全面性驗尿
 - (B) 只要事前取得未成年學生父母或監護人的同意，就不會構成隱私權的侵害
 - (C) 學校與學生間為上對下關係，若學校認為有必要進行驗尿，學生無權拒絕
 - (D) 學校不應預設學生都有吸毒嫌疑，須符合比例原則，才有家長同意的問題
16. 關於新北某咖啡店女店長所犯之殺人命案，最高法院日前維持二審見解，判決咖啡店老闆與股東須連帶賠償被害人 368 萬元定讞，引發企業界議論。最高法院解釋，咖啡店老闆的連帶責任是未落實監督注意義務，也沒有建立店內對異常狀況的通報與處理流程，以致錯失避免不幸發生的機會。咖啡店老闆自認苦悶，以麥芽創作「恐龍咖啡」嘲諷法官「食穀（古）不化，覺得苦」。關於此項判決，下列敘述何者正確？
- (A) 最高法院判決主要是因咖啡店老闆違反《勞動基準法》一例一休之規定
 - (B) 調製「恐龍咖啡」嘲諷法官「食穀（古）不化」，涉嫌公然侮辱及藐視法庭罪
 - (C) 咖啡店女店長被判有罪，其僱用人依常理判斷，必然是共犯，當然得共同承擔殺人罪的刑事責任
 - (D) 殺人罪侵害個人生命法益，屬於刑事案件，但被告仍然須負擔《民法》侵權行為的損害賠償責任
17. 驚悚動作電影《關鍵報告》（*minority report*），探討虛擬科技所建立的犯罪預示系統。劇情為 2054 年的未來世界，警察與犯罪科學家很認真的透過高科技技術，蒐集三個預言家的腦內夢境，並以此做為真實世界的犯罪證據，沒有任何實體證據或司法審判，就能直接以夢境畫面做為判決的依據。犯罪事件可以被事先預測，罪犯可以在犯罪行為發生前被事先逮捕，於是能達到預防犯罪的絕佳效果。此種近乎完美的犯罪預防制度，最可能違背下列哪項法律理論或原則？
- (A) 罪刑法定原則
 - (B) 毒樹果實理論
 - (C) 無罪推定原則
 - (D) 偵查不公開原則

18、19題為題組

◎ 法國總統選舉於 2017 年 4 月 23 日與 5 月 7 日舉辦，由馬克宏（Emmanuel Macron）以 66.06 % 的得票率擊敗勒朋（Marine Le Pen），成為第 25 任法國總統。隨即在 6 月間舉行國會選舉，國會議員選舉採單一選區，亦採兩輪投票制，第一輪：投票率 25 % 以上，任何一人獲得絕對多數票（50 %），即可當選。第二輪：若無人在第一輪中勝出，得票率在 12.5 % 以上的候選人都可以進入第二輪對決，得票多者勝出。而此次國會選舉結果，產生總統與國會多數一致的衣尾效應（coattail effect），馬克宏不僅當選總統，其所成立的新政黨也於國會大選獲得過半席次。請問：

18. 此次法國總統選舉及國會選舉，會對法國的政治運作造成何種影響？

- (A)此次法國政治運作會出現「左右共治」
- (B)新任總統馬克宏任命總理需由國會同意
- (C)此次法國政治運作會較偏向「總統制」
- (D)依據法國憲法，馬克宏可掌握所有行政權

19. 有關法國所採用的選舉制度，下列何者正確？

- (A)總統選舉採兩輪投票制，易導致法國成為多黨制國家
- (B)國會採兩輪投票制較能使人民依其意願投票，有利激進小黨
- (C)馬克宏與勒朋首輪得票率超過 12.5 % 因而進入到第二輪選舉
- (D)兩輪投票制為絕對多數決，較能解決相對多數決制代表性不足的問題

20、21題為題組

◎ 某國國會選舉採「單一選區兩票制」，其國會總席次為 400 席，單一選區與比例代表制席次各半，在不設限政黨門檻下，選舉結果如表一：

表一

	甲黨	乙黨	丙黨	丁黨	戊黨
單一選區席次	60 席	50 席	45 席	30 席	15 席
政黨得票率	30 %	10 %	25 %	20 %	15 %

20. 請依表中資料，判斷下列敘述何者正確？

- (A)若採聯立制會造成國會總席次增加
- (B)若採聯立制對五個政黨席次均有利
- (C)若採並立制兩張選票分開計算，較不會壓縮小黨生存空間
- (D)為達到政治穩定，不論採聯立制或並立制，甲黨須與丁黨組成聯合政府

21. 若此次選舉採用聯立制，根據表中資料，下列敘述何者正確？

- (A)政黨總得席次：甲 > 丁 > 丙 > 戊 > 乙
- (B)政黨名單席次：甲 > 丙 > 丁 > 戊 > 乙
- (C)國會最大黨與最小黨所得席次相差 60 席
- (D)由甲黨單獨執政的機率高

22～24題為題組

◎ 齊柏林導演在籌備「看見台灣 2」時再次路過亞泥礦場上空，他曾感慨道出：「亞泥比五年前挖得更深了。」此事也在導演驟逝後，讓亞泥展延案及《礦業法》修正議題受到極大的關注。亞泥太魯閣新城礦區位於太魯閣族原住民保留區內，而經濟部礦務局認定，亞泥花蓮廠無需與原住民協商，即可拿到展延許可且不用進行環境評估。

經濟部主張，依照《環評認定標準》第 11 條規定，需進行環境評估的情形僅指新申請的礦區，對於既有的礦區展延採礦期限則無需實施。至於是否須取得原住民同意部分，行政院在召開亞泥展延案送審會議時，也將原住民同意權的部分限縮於新礦業用地的核定。對此，環保團體表示，開發地區屬地質敏感區臨土石流潛勢溪流，若僅因礦權展延就不用進行環評，則環保署儼然成為舊礦場業者的守護神；有立委表示，根據《原住民族基本法》第 21 條規定，使用原住民族保留地或傳統領域，都應諮商取得原住民族同意，政府限縮《原基法》第 21 條的適用，無異是圖利財團，犧牲原住民族。

依據前述理由，有數位立法委員及地球公民基金會等近 60 個民間團體召開記者會，要求政府撤銷亞泥違法展延一案，同時立即排審《礦業法》。另一邊也同時進行礦業改革連署，並於 6 月 25 日號召關注亞泥展延爭議與礦業改革的民眾，前往行政院抗議。

22. 依據立法委員的主張，經濟部核發亞泥採礦展延權的許可程序可能違反哪項正當程序？
- (A) 民主程序
 - (B) 公開程序
 - (C) 公正程序
 - (D) 公平程序
23. 若相關團體仍然對亞泥展延案存有疑慮，而礦業改革的連署估計可超過 21 萬人，下列做法何者可能無法幫助目標的實現？
- (A) 向監察院檢舉
 - (B) 向立法機關請願修法
 - (C) 由受影響的太魯閣原住民族提起行政訴訟
 - (D) 聲請大法官解釋
24. 若《礦業法》修正成為大多數人民的共識與期待，則修法的程序為何？
- (A) 由行政院院長向立法院提覆議案
 - (B) 由行政院提案，送交程序委員會審查後再送院會排入議程
 - (C) 由立法委員連署提案後，直接進入二讀就修正條文逐條審議
 - (D) 由環保團體連署提案後，直接進入立法院院會進行三讀審查

25. 2017 年上映的印度電影《我和我的冠軍女兒》在臺灣與中國都掀起一陣觀影的熱潮。印度是全世界電影工業發達的國家之一，此外印度社會的階級制度也很具有特色。由此聯想到在中國古代，尤其是在先秦時代，社會也有明顯的階級制度。請問下列有關先秦時代社會階級制度的敘述，何者是正確的？
- (A) 商代社會階級嚴密，西周社會階級鬆動瓦解
 - (B) 西周時期，貴族階級主要用禮樂制度來規範，平民階級主要用刑罰來規範
 - (C) 就權力分配而言，主要以封建制度來進行，此制度建立於周代，商代並沒有實施封建制度
 - (D) 在商代，奴隸是社會的最底層，不被視為人來看待，甚至常被做為獻給鬼神的祭品；在周代，隨著人文精神的昂揚，奴隸的生活及地位有明顯的提升
26. 1951 年出生於臺北的凌真心女士回憶起自己的少女時代，請問在她的成長歷程中，下列何者是她可能遭遇到的狀況？
- (A) 她出生的時候，正好是政府推動出口擴張時期，當時加工出口區外經常可以見到下班路上滿是機車的盛況
 - (B) 國小畢業時，尚未趕上九年義務教育免試升學的列車，仍然要參加考試才能進入初中（國中）就讀
 - (C) 18 歲就讀高中期間，發生了「中（華民國）美斷交」的大事件，外交上的接連挫折，使得年輕人發起「民歌運動」，她也和同學們一起學彈吉他高聲歌唱
 - (D) 20 歲就讀大學時，全家一起收看電視政論節目，政治名嘴猛烈批判政府十大建設政策
27. 2017 年 6 月 16 日，臺北市長柯文哲在艋舺龍山寺主持封爐儀式，至此龍山寺香爐只保留一座，信徒參拜只需拿 1 炷香，此舉得到許多環保人士的贊同及支持。艋舺龍山寺是北臺灣知名的廟宇，其供奉的神祇以道教神祇為主。道教起源於中國，是中國傳統文化的重要組成部分。下列有關中國道教發展的敘述，何者是正確的？
- (A) 其宗教思想以道家學說為中心，與中國遠古巫術、神仙思想並沒有關係
 - (B) 道教形成於西漢後期，早期派別有張陵創立的天師道，以及張角創立的太平道
 - (C) 從東漢時代開始，道教開始深化教義，確立教規教儀，道教理論系統亦日趨完備，葛洪、寇謙之、陸修靜、陶弘景等人是這個時期具有重要貢獻的代表性人物
 - (D) 道教受到唐朝王室的護持，發展頗為興盛，但就盛唐時期的民間信仰而言，道教仍不及佛教興盛
28. 有一本書的內容提到：「這種祭祀並不是單純的作祭祀，而是有專業的巫術執行者，也有以咒術來治病的人，這些行為被政府當局認為是邪教而必須加以廢除。這種運動逐漸提高層次，而出現了要把廟裡的神像集中起來加以焚化或丟到河川中流走的行為。……有的則認為這是暴政而十分憤慨。……」上述之內容說明何種歷史現象？
- (A) 西來庵事件因宗教結社而起事，故臺灣總督府開始打壓民間信仰
 - (B) 臺灣總督府推行皇民化運動，嚴格禁止民間信仰活動
 - (C) 戒嚴時期為端正禮俗，國民政府嚴禁傳統信仰與祭祀活動
 - (D) 民間盛行大家樂簽賭，拜神求明牌，故政府嚴禁道教

29. 宋明理學各派的經世理念是一致的，他們都想在此世建造一個儒家的文化秩序，而他們也都以「天民之先覺」自居，把「覺後覺」（後覺者，包括士、農、工、商四民）視為當仁不讓的使命。但是在怎樣去「覺後覺」的程序上，各家之間卻存在著嚴重的分歧。朱熹專以「士」做為施教的直接對象，他認為只有先使「士」階層普遍覺醒，才能通過他們去教化其他的「三民」。而陸九淵則與朱熹不同，他能同時針對「士」和一般不識字的民眾立教。施教對象的不同，也顯示出朱、陸二人思想有何不同？
- (A)陸九淵強調「存天理，滅人欲」，才能夠「致良知」，若士農工商皆能做到，便能天下大治
 - (B)朱熹主張「道問學」，教人信古人、讀古書，泛觀博覽而後歸之約，才能達到「尊德性」的成就，然而一般不識字的百姓，是難以博覽群書的
 - (C)受到程頤的影響，陸九淵認為除了心性修養功夫以外，還要設法「窮理致知」，才能融會貫通宇宙人生的道理，所以特別重視無知的百姓要多讀書
 - (D)朱熹認為「心即是理」，理存在於人們心中，不假外求，只要透過內心的反省，就可以明瞭天理，這並非一般大眾能夠理解，因此以「士」為講學對象
30. 某政治社會運動團體主張：「……臺灣人民獨立萬歲，建立臺灣共和國，廢除壓制農工的惡法，勞動七小時～不勞動者不得食，爭取罷工、集會、結社、言論、出版等自由，土地歸與貧農，……。」請選出該政治社會運動團體為何？
- (A)臺灣議會期成同盟會
 - (B)臺灣民眾黨
 - (C)臺灣共產黨
 - (D)臺灣工友總聯盟
31. 公元 1821 年，有一艘美國商船「埃米利號」停泊中國港口期間，船上的水手隨意扔了一只陶壺，剛好砸中一名在船隻下方的小船上販售水果的中國婦人，婦人不幸落水而亡。中國官員要求交出肇事的水手，原本美國人堅持必須在船上進行審判，但是埃米利號非法裝載鴉片，船長擔心中國官員登船發現，所以允諾將水手交出。然而審判過程中，沒有西方人在場，而水手被判處有罪，隔天即遭處決，刑責之重，處決之速，顯然也違反了中國律法意外殺人的罪刑與處決程序。由於類似狀況層出不窮，斷案時有矛盾，使西方人深信，必須迫使中國人建構最能適用於外國人涉案的司法制度。以下哪個選項的敘述，最符合這段資料的時代背景？
- (A)這艘船隻當時應該是停泊在中國的福州港外
 - (B)鴉片戰爭結束之後，鴉片便得以立即合法上市
 - (C)中國設立總理各國事務衙門，推行法院分級審判制度
 - (D)《南京條約》簽訂後，補訂《五口通商章程》與《虎門條約》，西方國家取得領事裁判權

32. 有關於清朝末年立憲派與革命派的比較，以下表格哪項論述正確？

	立憲派	革命派
(A)宣傳刊物	《民報》	《新民叢報》
(B)種族革命	滿漢利益相反，勢難共處，唯有透過立憲、開國會，才能族群融合	反對驅逐韃虜的偏狹觀念，認為禍國殃民的是政治體制不善，只有革命才能解決族群衝突
(C)政治革命	認為當時的中國逐步推行君主立憲，較符合國情需求	強調中國人民有能力在推翻君主專制後建立民主共和政體
(D)社會革命	主張土地國有政策才能解決貧富不均	先求富，讓資本有正當出路，方可解決貧富不均

33. 小英到某校參觀，看見該校一座創校紀念碑，碑文記載「吾臺人初無中學，有則自本校始」，碑文背面尚有許多捐款人姓名，請問這所學校是現今哪一所高中？捐款人可能有誰？
- (A)臺中第一高級中學，李春生
 (B)板橋高級中學，林維源
 (C)臺南第一高級中學，林茂生
 (D)建國高級中學，辜顯榮
34. 2016 年年底，中國導演張藝謀執導的電影《長城》在臺灣上映。長城是中國最具代表性的建築物之一，下列有關長城的敘述，何者是正確的？
- (A)秦代長城設置的地理位置，是自新石器時代以來，農業文化發展的極北界限，因此在其北方沒有任何新石器時代的文化遺址
 (B)秦代的長城並非全部為秦代所興築，其中有一部分是延續自戰國時代齊國、韓國、秦國興建的長城
 (C)明朝為了防範蒙古人的南侵，大力重建長城。此時期蒙古主要分為韃靼、瓦剌，明成祖曾帶兵在長城以北征討蒙古
 (D)明末山海關守將吳三桂開山海關關門引清兵入關，隨後清兵攻陷北京，崇禎皇帝自殺，明朝滅亡
35. 根據學者施添福研究，今日臺灣許多地區仍留有清代「土牛」或「土牛溝」遺跡，究其設置緣由，康熙年間清廷始以「土牛」或「土牛溝」為界線，以避免族群衝突。請問下列關於土牛（土牛溝）的詮釋，何者正確？
- (A)全臺土牛溝僅存在於後山地區
 (B)清廷為防止閩粵械鬥，因此設置土牛溝
 (C)清朝統治期間，土牛溝完全無法防制原漢衝突的發生
 (D)土牛溝的設立，顯示漢人移民已經壓縮到原住民生存的空間

36. 王老師在上中國中古史時曾提到：東晉、南朝時有一項重要的社會政策，稱為「土斷」，以土地限制戶籍。亦即是以現居地為準，將南渡僑寓之人編入所在地籍貫，其中以東晉哀帝興寧 2 年（公元 364 年）3 月庚戌及安帝義熙 9 年（公元 413 年）所行兩次最為重要。前者史稱「庚戌土斷」，時值桓溫執權，雷厲風行，最為徹底；後者為劉裕當政時所推行，稱為「義熙土斷」，使「豪強肅然，遠近知禁」，收效宏著。王老師進一步詢問學生：當時政府為何如此積極推行這一政策，其目的何在？
- 甲生：一個政府，兩套措施，對民眾而言，必有不公之處，為了公平起見，要實行土斷。
乙生：為了利益起見，政府可以增加稅收。
丙生：當時是士族的社會，偏安江南的政權，為了籠絡南下的北方大族，所以要實行土斷。
丁生：對執政者而言，促進南北族群融合，這是必要的措施。
- 以上為學生的推論，正確的有：
- (A)甲乙丙
(B)甲乙丁
(C)乙丙丁
(D)甲乙丙丁
37. 研究臺灣早期社會發展的學者認為，1860 年代以後臺灣逐漸由「移民社會」走向「土著社會」，請問下列何者可以做為判斷臺灣社會進入土著社會的指標？
- (A)以大陸原鄉為認同基礎的祖籍分類械鬥逐漸增加
(B)宗族活動轉變為以開臺祖為系譜基礎的新宗族組織
(C)閩粵移民娶平埔族女子為妻，造成「番兒無妻」的現象
(D)臺灣移民的民間祭祀，由地基主的信仰轉變為媽祖信仰
38. 李恆美同學蒐集論文資料，準備撰寫歷史報告，包括：〈從鹿港輸入紡織品的種類與數量談清代臺灣的山海經驗〉、〈臺灣海洋歷史文化的特色：以嘉慶年間八里坌農產加工品出口為例〉、〈清朝的兩岸區域分工〉等；綜合李同學蒐集的資料來看，他報告的主題可能會是什麼？
- (A)清代泉郊會館的設立
(B)買辦李春生的茶葉事業
(C)米糖相剋問題的探討
(D)十三洋行與臺灣開港
39. 在中國歷史上，有一場亂事遍及大江南北。起事者曾率領部下攻陷長安，並下令屠城，造成無辜百姓死亡，一句民謠流傳著：「□□殺人八百萬，在劫難逃。」此亂不僅徹底毀掉長安，並造成日後國家的大分裂，阻擾了歷史文明的前進。依據上述，此亂事為何？
- (A)西晉永嘉之亂
(B)唐朝安史之亂
(C)唐朝黃巢之亂
(D)明末流寇之亂
40. 下列有關臺灣總督之敘述，請選出正確者：
- (A)樺山資紀為第一任武官總督，建立鴉片專賣制度
(B)乃木希典為了展開理蕃事業，採取三段警備制
(C)兒玉源太郎任內展開林野調查，將無主地收歸官有，再轉讓給臺灣人資本家
(D)田健治郎任內採行了「內地延長主義」，標榜「內臺融合、一視同仁」政策

41. 陳橋兵變後，趙匡胤順利登基，是為宋太祖。石守信等有功將領得到宋太祖的任命，分別掌握部分禁軍的指揮權。但心機深沉的太祖，卻開始擔心禁軍將領會不會也以自己為榜樣演出「兵變」，為此他精心策劃了一場絕妙好戲，史稱「杯酒釋兵權」，功臣們紛紛上表，希望能告老還鄉，頤養天年，讓宋太祖順利將兵權收回。此項措施直接對宋朝造成何種影響與結果？
- (A)締造宋朝中央集權，國富兵強，威鎮海外的盛世
 - (B)教育水準提高，文風大盛，大眾文學興起，平權社會的來臨
 - (C)理學開始興起，創造儒家新思想，提高民族意識，以禦外侮
 - (D)中央集權的結果削弱了地方軍力，使得宋朝無力阻擋外族入侵
42. 南投縣信義鄉羅娜國小校長於 2013 年與《看見臺灣》導演齊柏林合作，帶領臺灣原聲童聲合唱團□□族小朋友攻頂玉山，舉國旗高唱「拍手歌」的畫面令人震撼。□□族有典型高山族之稱，視玉山為聖山，祭典眾多，其著名的多聲部合唱宛如天籟。請問□□族應是指臺灣哪一原住民族？
- (A)賽夏族
 - (B)鄒族
 - (C)布農族
 - (D)賽德克族
43. 根據《明史》記載，明初燕王朱棣曾要大儒方孝孺為之起草即位詔書，然而卻遭嚴峻的拒絕，兩人間有一段精采的對話。成祖降榻勞曰：「先生毋自苦，予欲法周公輔成王耳。」孝孺曰：「成王安在？」成祖曰：「彼自焚死。」孝孺曰：「何不立成王之子？」成祖曰：「國賴長君。」孝孺曰：「何不立成王之弟？」成祖曰：「此朕家事。」顧左右授筆笏（讓手下人遞給他筆和紙），曰：「詔天下，非先生草不可。」孝孺投筆於地，且哭且罵曰：「死即死耳，詔不可草。」成祖怒，命磔諸市（在鬧市將他處死）。依據上述資料的判斷，下列敘述何者有誤？
- (A)文中「成王安在？」「彼自焚死。」，「成王」在此文中意指明惠帝
 - (B)明成祖欲藉方孝孺之筆，起草詔書，以掩蓋其篡位惡名，使其政權具有合法性
 - (C)明成祖指定方孝孺起草詔書，乃因明初延續宋代重文輕武的思想主軸，以文人輔政，以收長治久安之效
 - (D)文中提到「何不立成王之子？」「何不立成王之弟？」指出中國王位的繼承方式從商周以來即有「父死子繼」及「兄終弟及」兩種
44. 臺灣各地地名的由來常與重要歷史事件相關，請問下列地名，何者「始」出現於鄭氏統治時期的臺灣？
- (A)萬華
 - (B)頭圍
 - (C)嘉義
 - (D)左鎮


45. 中國中央電視臺歷史劇《漢武大帝》曾在臺灣電視臺播放過，第一集的一開頭，即描述漢景帝在位初期，匈奴屢次侵擾漢朝邊境，殺害無辜百姓。景帝聞訊後相當氣憤，甚至拔劍砍擊燭臺。在一旁的鼂錯見狀提醒景帝說：「匈奴只是『肌膚之痛』，諸侯王勢力坐大的內憂問題才是朝廷迫切需要解決的問題。」請問下列有關漢景帝時期內外局勢的敘述，何者是正確的？
- (A)劇中匈奴入侵是為了報復景帝之前派衛青帶兵討伐匈奴
 - (B)景帝晚期因削藩引起七國之亂，亂事結束後，朝廷權勢大減，漢朝走向分崩離析的局勢
 - (C)自高祖分封諸侯王之後，其勢力發展快速，至惠帝時此問題已相當嚴重，文帝時即採用賈誼之策大力削藩
 - (D)自漢高祖開始與匈奴和親，至景帝時並未改變此一政策，這也是景帝知道匈奴入侵之事的當下會非常生氣的原因
46. 暑假期間，銘雄參加臺北古城之旅，來到二二八公園的碑林，看到一塊碑文：「奉憲示禁私挖煤炭者立斃碑」，根據導覽老師解說，這塊古碑是清道光 27 年（公元 1847 年），淡水同知為禁止人民前往「甲地」偷挖煤礦所設置的。事實上，甲地是航行東亞海域船隻的中途燃料補給站，因此清朝統治臺灣前，歐洲「乙國」占據該地時已經進行開採。爾後，英、美也曾來此探勘煤層，希望清廷允其開礦，但未獲許可。光緒年間，歐洲「丙國」與中國發生戰爭，占據「甲地」，目的也是取得煤礦。但這座中國第一座官營的煤礦，早在同治年間因為「某事件」來臺的「某人」已奏請開辦獲准，於光緒 4 年（公元 1878 年）正式生產。請問上述導覽老師沒有清楚說明的部分，吾人應如何回答才是正確的？
- (A)老師所說的甲地是淡水、乙國是荷蘭
 - (B)丙國與中國發生的戰爭是「中法戰爭」
 - (C)文中所說，同治年間發生的事是羅妹號事件
 - (D)奏請開礦的某人是丁日昌，他開啟臺灣現代化事業
47. 顧炎武對於明代生員有許多不滿和批評，認為「廢天下之生員而官府之政清，廢天下之生員而百姓之困蘇，廢天下之生員而門戶之習除」，為何生員可以造成這些負面影響？
- (A)生員乃是透過鄉試而取得的身分，具有功名，所以可以干涉地方事務
 - (B)生員皆擔任地方官的胥吏師爺，憑藉在地勢力，欺下瞞上，導致地方不安
 - (C)享有朝廷賦予的特權，包含司法、賦役與禮儀等方面，因此常常任意妄為，造成鄉里困擾
 - (D)生員可以把地方的狀況上達給中央，從而影響朝廷決策和地方官未來的仕途，使得地方官民不敢得罪
48. 下表是關於西班牙和荷蘭統治臺灣時期的比較，何者正確？

	西班牙	荷蘭
(A)東亞據點	呂宋	巴達維亞
(B)殖民位置	大員	雞籠
(C)經濟活動	和日本貿易頻繁	轉運美洲白銀
(D)宗教信仰	基督新教	天主教

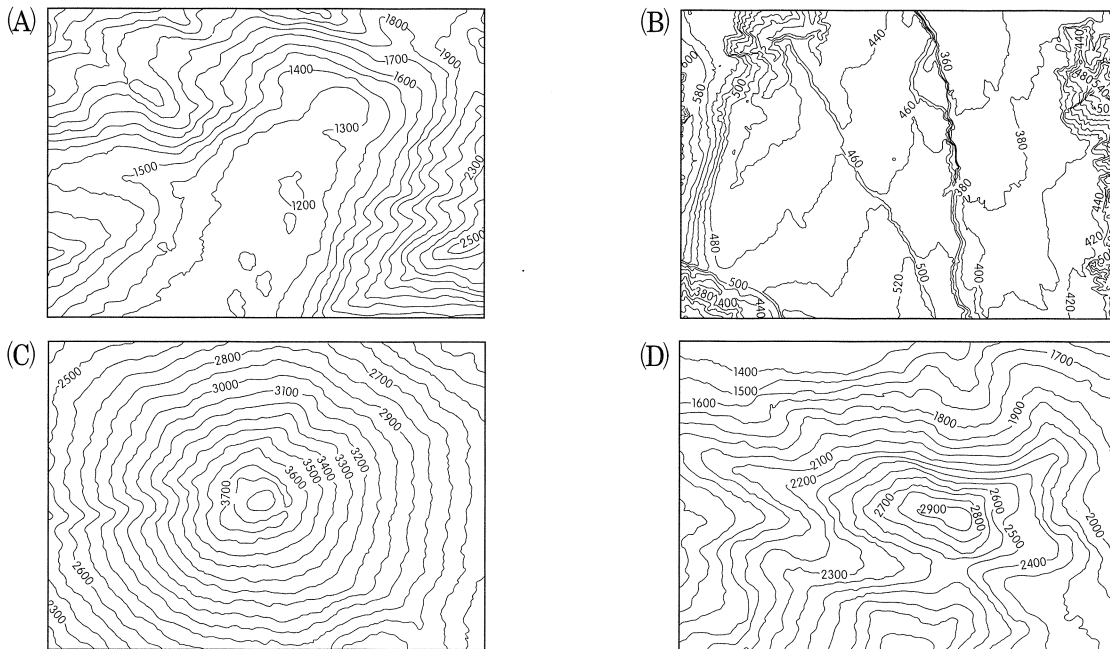
49. 近年來臺灣對於海岸環境重視程度有所提升，2017 年 2 月桃園市草漯地區成立一生態園區，該園區的地形主體「最高處可達 10 公尺左右，冬季東北季風盛行之時，其高度會明顯成長，是海岸上保護內陸的第一道防線，成為一緩衝地帶。」請問該生態園區主體為何種地形？

- (A)海階 (B)沙丘 (C)沙洲 (D)裙礁

50. 瑞士因擁有多樣自然景觀與完善的戶外活動設施，被譽為「世界公園」，照片一為瑞士與義大利邊境的著名山峰——馬特洪峰（標高 4,478 公尺），請問下列等高線圖中，何者與馬特洪峰為同樣的地形？



照片一



51. 圖一為甲地的月均溫及降水量示意圖，請問有關於甲地的描述何者正確？

- (A)依年降水量區分，甲地屬多雨區
(B)甲地可能位於澳大利亞雪梨地區
(C)甲地位於熱帶，為冬雨夏乾型氣候
(D)甲地應位於行星風系東北信風帶

24	16	300	100	1300
甲	14	甲	甲	甲
22	12	200	90	1200
	10	甲	80	1000
20		100		900
1月	7月	1月	7月	全年
月均溫 (°C)		降水量 (mm)		

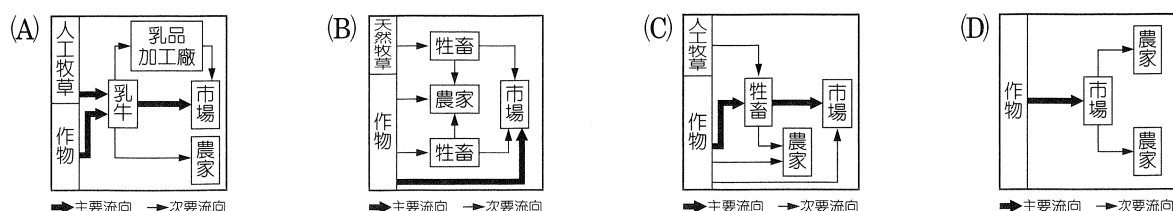
圖一

52. 某國可分為甲、乙、丙、丁四個區域。表二為該國各區域的水資源概況。請問下列敘述何者正確？

表二

區域別	年平均降水量 (mm)	年平均河川逕流量 (億噸)	豐水期占全年比例 (%)
甲	2,501	167	91
乙	2,715	150	76
丙	2,934	155	61
丁	2,081	164	78

- (A)該國各區域可再生水資源量，由多至少依序為甲>丁>丙>乙
 (B)四區中以丙區的人均可利用水資源量最多，用水穩定度高
 (C)地面水豐枯變化深受降水量影響，四區中以丙區的雨量變率最大
 (D)豐枯水期水量的變化顯示出該國的水資源問題應在降水季節分布不均
53. 太平洋中位於北緯 35 度~42 度之間，夏威夷群島的東北方，距離加利福尼亞沿海 1,609 公里的位置，有一個完全由垃圾堆起來的新大陸正在生成，人們把它稱為「第八大陸」或「太平洋垃圾渦旋」。這些垃圾是由北赤道洋流、黑潮、「甲」、加利福尼亞涼流構成的環流系統所帶來，環繞在大洋中央，並受到「乙」影響，聚集在此處不散。請問文中所述的「甲」、「乙」分別指的是下列何者？
- (A)阿古拉斯暖流、信風帶
 (B)北太平洋暖流、副熱帶高壓帶
 (C)北太平洋暖流、西風帶
 (D)加那利涼流、副熱帶高壓帶
54. 2016 年下半年韓國三星電子 (Samsung) 的智慧型手機 Galaxy Note 7 爆炸及召回事件，讓 Note 7 的研發及投入行銷費用都化為泡影，連 Note 系列的口碑都可能毀於一旦。因此三星公司當時決定暫時停止販售智慧型手機 Galaxy Note 7。根據中央社報導指出，這對該公司的衝擊不容小覷，三星將第三季營業利益預測下修 2.6 兆韓元後，在 10 月 14 日預測該公司在 2017 年 3 月底止的第二季營業利益將減少約 3.5 兆韓元。初步估計 Note 7 自燃爆炸風暴至少使三星賠上 6.1 兆韓元 (54 億美元，約 1,710 億元臺幣)。由 Samsung Galaxy Note 7 爆炸事件可以看出高科技產業的何種特性？
- (A)資源依存低，附加價值低
 (B)分工精細化，產業連鎖強
 (C)生命週期短，價格下降快
 (D)資金投入大，營運風險高
55. 在 OECD 的 2017 年報告指出，紐西蘭經濟成長率破 3%，在已開發世界中屬最強勁國家行列。然而經濟成長依賴農業，卻讓環境付出代價。報告說，集約式 X 農業已導致許多河流氮含量升高，容易造成藻類繁生形成藻華。此外，紐西蘭的人均溫室氣體排放量也是 OECD 中第五高且持續攀升中，其他國家排放量大多減少。而紐西蘭政府計畫 2025 年前讓農業出口倍增，恐怕會讓問題更加嚴重。請問文中的 X 農業活動形式最有可能為下列哪一種？



56. 圖二為臺鐵彰化車站內售票機使用說明，將以多國語言標示，除了原有的中文與英文，再新增菲律賓、印尼、越南、泰國等四國語言，成為國內首度採用東南亞語言說明的車站。請問由圖二可看出下列何種現象？

- (A)臺灣為國際人口移動的移入國
- (B)展現政府新南向政策的執行力
- (C)東南亞為我國人主要觀光地區
- (D)東南亞國協與臺灣的經貿交流



圖二

57. 表三為「全球前十巨大都市」及「全球前十世界都市」排名，請問下列敘述何者正確？

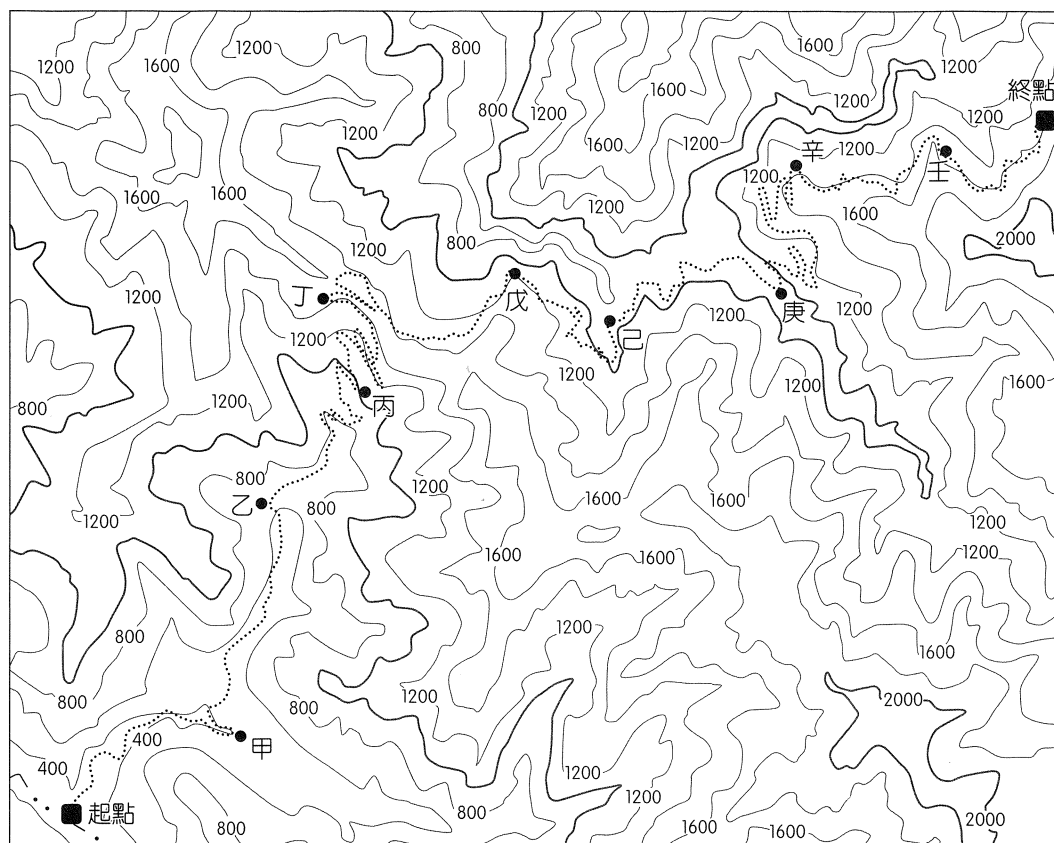
表三

全球前十巨大都市				全球前十世界都市			
國家及都市別		2014 年		國家及都市別		2016 年	
		人口(千人)	排名			得分	排名
日本	東京	37,833	1	英國	倫敦	62.7	1
印度	德里	24,953	2	美國	紐約	62.5	2
中國大陸	上海	22,991	3	法國	巴黎	54.5	3
墨西哥	墨西哥市	20,843	4	日本	東京	46.7	4
巴西	聖保羅	20,831	5	中國大陸	香港	44.2	5
印度	孟買	20,741	6	美國	洛杉磯	38.2	6
日本	大阪	20,123	7	美國	芝加哥	38.0	7
中國大陸	北京	19,520	8	新加坡	新加坡	37.9	8
美國	紐約	18,591	9	中國大陸	北京	36.0	9
埃及	開羅	18,419	10	美國	華盛頓特區	34.7	10
資料來源：聯合國《2014 年世界都市化展望》				資料來源：美國《對外政策》(Foreign Policy)雜誌，全球城市指數，2016 年			

- (A)巨大都市對全球的影響力遠勝過世界都市對全球的影響力
- (B)前十巨大都市主要集中於亞洲，前十世界都市則大多集中於歐洲
- (C)不論「全球前十巨大都市」或「全球前十世界都市」，大多為已開發國家
- (D)世界都市的排名除參考人口數外，還包括了經濟、資訊、文化及政治方面的指標

58.~60.題為題組

- ◎ 小明報名參加 2017 年的新竹鎮西堡 100 公里馬拉松賽，根據主辦單位公告的路線，再加上自行蒐集的相關資料：(1)起點 (269500, 2733500) 與終點 (280300, 2719300) 的網格坐標 (2)沿線等高線(3)沿線 9 個補給站所在地 (以●標示) (4)虛線為馬拉松路線。小明繪製成地圖，如圖三所示。請問：



圖三

58. 鎮西堡馬拉松賽事的起點大約位於終點的哪個方向？
(A) 45° (B) 120°
(C) 210° (D) 315°
59. 小明在某個補給站稍作休息時，一邊回望跑完的路線與蜿蜒的河道，一邊注視著接下來的路程，進入另一個河流水系範圍，試問小明當時最有可能在哪一個補給站休息？
(A) 乙 (B) 丙
(C) 丁 (D) 己
60. 2016 年 1 月全臺灣氣溫急降，主辦單位考量路線上過去曾發生落石危險處、路線長度計算等因素，決定在大雪紛飛的開跑日，折返點從原本的終點改為補給站丙，往返三趟。試問主辦單位在事前應變中最有可能利用哪些 GIS 分析功能？
(A) 空間查詢、疊圖分析
(B) 屬性查詢、路網分析
(C) 視域分析、疊圖分析
(D) 環域分析、地形分析

61、62題為題組

◎ 表四為美國海軍天文臺以模式計算所得 2017 年每月 23 日的日出及日落時刻資料（24 時制），甲～丁代表 4 個不同地點。請問：

表四

日期	甲		乙		丙		丁	
	日出	日落	日出	日落	日出	日落	日出	日落
1 / 23	07 : 49	16 : 36	06 : 43	17 : 41	09 : 05	15 : 20	05 : 10	19 : 13
2 / 23	06 : 57	17 : 31	06 : 27	18 : 00	07 : 27	17 : 00	05 : 42	18 : 45
3 / 23	05 : 56	18 : 18	06 : 01	18 : 12	05 : 50	18 : 25	06 : 06	18 : 07
4 / 23	04 : 49	19 : 09	05 : 32	18 : 25	04 : 01	19 : 58	06 : 30	17 : 26
5 / 23	04 : 00	19 : 55	05 : 15	18 : 39	02 : 22	21 : 34	06 : 53	17 : 00
6 / 23	03 : 46	20 : 18	05 : 15	18 : 50	01 : 32	22 : 32	07 : 08	16 : 56
7 / 23	04 : 13	19 : 59	05 : 26	18 : 47	02 : 40	21 : 30	07 : 01	17 : 12
8 / 23	05 : 00	19 : 05	05 : 39	18 : 26	04 : 17	19 : 47	06 : 31	17 : 35
9 / 23	05 : 48	17 : 56	05 : 49	17 : 55	05 : 46	17 : 57	05 : 48	17 : 57
10 / 23	06 : 37	16 : 51	06 : 01	17 : 27	07 : 14	16 : 13	05 : 07	18 : 22
11 / 23	07 : 29	16 : 03	06 : 20	17 : 13	08 : 53	14 : 39	04 : 42	18 : 52
12 / 23	08 : 02	15 : 57	06 : 38	17 : 20	09 : 53	14 : 06	04 : 44	19 : 15

61. 請問此四地何者位於南半球？

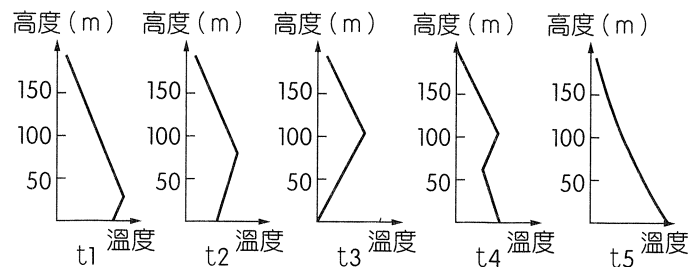
- (A)甲 (B)乙 (C)丙 (D)丁

62. 請問此四地何者緯度最高？

- (A)甲 (B)乙 (C)丙 (D)丁

63、64題為題組

◎ 圖四為某個都市冬季一日中 5 個連續時間區段（t1 至 t5）在不同高度所測得的氣溫變化。請問：



圖四

63. 依圖四判斷，逆溫層在哪一個時間區段達到最厚？

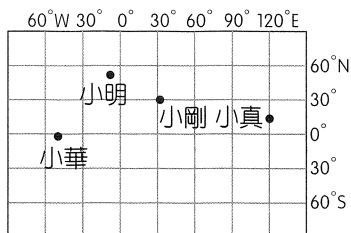
- (A) t1
(B) t2
(C) t3
(D) t4

64. 若該都市工廠欲排放污染氣體，其煙囪高度最好高於幾公尺，於哪個時間區段排放，最能避免廢氣難以擴散的污染問題？

- (A) 25 公尺，t1 至 t5 時段
(B) 50 公尺，t1 至 t5 時段
(C) 50 公尺，t3 至 t4 時段
(D) 100 公尺，t5 至 t1 時段

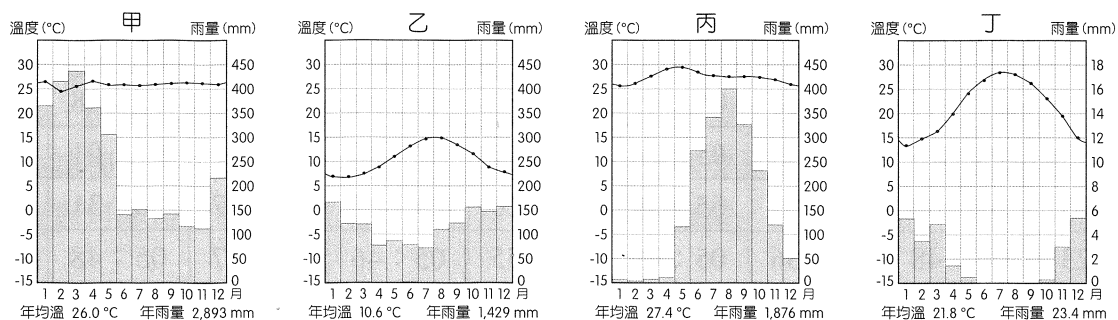
65、66題為題組

◎ 圖五為四位同學暑假時探訪的海外都市。請問：



圖五

65. 圖五中小明、小剛、小華、小真所探訪的都市，對應圖六氣候圖依序為何？



圖六

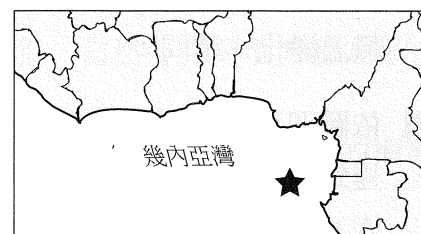
- (A) 丁丙甲乙 (B) 甲乙丙丁 (C) 乙丁甲丙 (D) 丙甲丁乙

66. 回國後四位學生將他們旅程中的點點滴滴記錄在日記本裡。請問不考慮地形的情況下，下列敘述何者為小真所觀察到的原始自然景觀？

- (A) 平地以楓、橡、槭樹種為主，為適應寒冷氣候，冬天落葉
(B) 常綠闊葉林組成，冬季樹葉掉落，日光可透射到地面，灌木叢生
(C) 植被為深根、厚皮、蠟質小葉的灌木林
(D) 植物分布非常分散、稀疏，根系極為發達，枝葉演化成針刺型態

67、68題為題組

◎ 2016 年 12 月聖多美普林西比宣布與我國斷交。外交部宣布終止與聖多美普林西比的外交關係，撤離大使館、技術人員及停止一切雙邊合作計畫。聖多美普林西比原為葡萄牙殖民地，1975 年 7 月 12 日獨立，成立民主共和國。圖七為聖多美普林西比位置圖（★號處）。請問：



圖七

67. 有關聖多美普林西比的敘述，請問下列何者正確？

- (A) 氣候類型與巴西高原相同 (B) 十九世紀的人口金字塔為縮減型
(C) 天然植被為灌木林 (D) 主要宗教信仰為天主教

68. 聖多美普林西比政府鼓勵農民種植商業性作物，最可能為下列何者？

- (A) 棉花、花生 (B) 小麥、高粱
(C) 可可、咖啡 (D) 葡萄、柑橘

69、70題為題組

◎ 閱讀下列資料後，請問：

資料一：美國總統川普在 2016 年競選期間喊出「製造業回歸美國」的政策，希望藉由製造業的復興，解決美國貿易赤字以及勞工失業的問題，表五為各界學者針對美國製造業現況進行的分析。

表五

產業別	回歸美國的誘因	回歸美國的阻因
傳統製造業	美國境內原油價格偏低，加上頁岩油的開採技術提升，原油供給充足，有利相關產業發展	勞工薪資較高，且開發中國家未來的消費市場潛力較大
高科技產業製造部門	產品生命週期短，客製化程度高，赴美設廠可縮短運送時間，並降低關稅阻礙，增加在地市場的競爭力	勞工薪資較高

資料二：順應「製造業回歸美國」的潮流，鴻海董事長郭台銘在併購夏普之後，決定利用夏普的中、大型面板技術赴美設置製造部門。郭台銘表示美國是世界面板消費的第二大市場，赴美設廠可以與當地客戶進行更密切的交流，有助於產品研發、創新提升競爭力；此外，此次設廠以提供當地產業用顯示器、電視以及車載裝置等中、大型高階面板為主，在面板尺寸愈做愈大的趨勢下，赴美生產亦可減少運輸成本與產品毀損的風險。

69. 學者依據各製造業部門的區位特性，將「製造業回歸美國」潮流中的製造業部門分為三類：甲類—回流意願強；乙類—從未離開；丙類—回流意願低。請根據表五的資訊，判斷下列配對何者正確？
- (A)甲—自動化生產的 IT 產業；乙—紡織、成衣業；丙—石化、製藥工業
 (B)甲—自動化生產的 IT 產業；乙—石化、製藥工業；丙—紡織、成衣業
 (C)甲—石化、製藥工業；乙—紡織、成衣業；丙—自動化生產的 IT 產業
 (D)甲—紡織、成衣業；乙—自動化生產的 IT 產業；丙—石化、製藥工業
70. 根據資料二的敘述，因應「製造業回歸美國」的潮流，鴻海集團除了原先在中國大陸等地的面板製造部門外，赴美增設中、大型高階面板製造部門，以供應當地市場。請問鴻海此一舉動可視為現代工業生產的何種特徵？
- (A)產品規格化
 (B)專業分工
 (C)產品標準化
 (D)工業慣性

71、72題為題組

◎ 表六為臺灣及 6 個直轄市的人口資料（單位：千人）。請問：

表六

地區	年度 人口數	104 年		105 年		
		總人口	總人口	0 ~ 14 歲	15 ~ 64 歲	65 歲以上
臺灣	全體	23,492	23,540	3,142	17,292	3,106
	男性	11,712	11,719	1,636	8,651	1,432
	女性	11,780	11,821	1,506	8,641	1,674
新北市	全體	3,971	3,979	507	3,006	466
	男性	1,951	1,952	264	1,474	215
	女性	2,019	2,027	243	1,532	251
臺北市	全體	2,705	2,696	375	1,901	419
	男性	1,295	1,290	195	906	189
	女性	1,409	1,406	180	995	230
桃園市	全體	2,106	2,148	329	1,599	219
	男性	1,053	1,072	172	797	103
	女性	1,053	1,076	158	803	116
臺中市	全體	2,744	2,767	409	2,056	302
	男性	1,357	1,366	213	1,014	140
	女性	1,387	1,401	197	1,042	162
臺南市	全體	1,886	1,886	237	1,390	260
	男性	944	943	123	701	119
	女性	942	943	113	689	141
高雄市	全體	2,779	2,779	344	2,062	374
	男性	1,381	1,379	178	1,027	173
	女性	1,398	1,400	165	1,034	201

附註 1：老化指數 = 老年人口總數 ÷ 幼年人口總數 × 100 %

附註 2：本表數據取自內政部統計年報。人口數採計至千人，千位數以下四捨五入。

71. 根據表六顯示 105 年人口數量與幼年、壯年、老年人口比例，以及臺灣的社會現況，請問下列敘述何者正確？
- 甲、臺灣的扶養比約為 46 %
 乙、目前臺灣已屬於高齡化社會
 丙、6 個直轄市中，老化指數最低的都市為桃園市
 丁、以人口轉型模式而言，臺灣屬於晚期擴張階段
- (A)甲丙 (B)甲丁 (C)乙丙 (D)乙丁
72. 根據表六顯示 104 年到 105 年的人口數量變化，以及 6 個直轄市的現況，下列敘述何者正確？
- (A)目前 6 個直轄市中，人口增加最快的都市為桃園市
 (B)臺中市從 104 年到 105 年之間，僅有都市成長的現象
 (C)高雄市從 104 年到 105 年之間，有明顯都市化的現象
 (D)觀察 6 個直轄市的人口數量，臺灣的都市階層較符合等級大小法則

社會考科詳解

題號	1.	2.	3.	4.	5.	6.	7.	8.	9.
答案	(D)	(B)	(C)	(A)	(D)	(B)	(C)	(A)	(C)
題號	10.	11.	12.	13.	14.	15.	16.	17.	18.
答案	(A)	(C)	(A)	(B)	(C)	(D)	(D)	(C)	(C)
題號	19.	20.	21.	22.	23.	24.	25.	26.	27.
答案	(D)	(A)	(B)	(A)	(D)	(B)	(B)	(B)	(D)
題號	28.	29.	30.	31.	32.	33.	34.	35.	36.
答案	(B)	(B)	(C)	(D)	(C)	(A)	(C)	(D)	(B)
題號	37.	38.	39.	40.	41.	42.	43.	44.	45.
答案	(B)	(A)	(C)	(D)	(D)	(C)	(C)	(D)	(D)
題號	46.	47.	48.	49.	50.	51.	52.	53.	54.
答案	(B)	(C)	(A)	(B)	(D)	(B)	(D)	(B)	(D)
題號	55.	56.	57.	58.	59.	60.	61.	62.	63.
答案	(A)	(A)	(D)	(D)	(C)	(B)	(D)	(C)	(C)
題號	64.	65.	66.	67.	68.	69.	70.	71.	72.
答案	(D)	(C)	(B)	(D)	(C)	(B)	(B)	(C)	(A)

1. (D)

出處：公民與社會（三），行政法與生活

目標：能理解公民與社會課程範圍內的主題知識

解析：依《行政程序法》第 6 條：「行政行為，非有正當理由，不得為差別待遇。」進階導出「行政自我拘束原則」與「禁止恣意原則」，其中，後者更強調行政機關的行政行為，都必須要有法律上的實質理由，不得恣意而為，故選(D)。(A)「明確原則」指在法律保留原則支配下，立法機關制定法律，行政機關訂定法規命令或作成行政處分，內容應力求明確。(B)「適當性原則」為比例原則第一子原則，強調行政行為所採取的方法必須能夠達到預期的目的。(C)「信賴保護原則」指人民出自對公權力的信賴，在客觀行為上有規劃或安排時，此時人民因信賴所形成之利益，應受到法律保護。

2. (B)

出處：公民與社會（三），民法與生活

目標：能運用人文社會科學各領域知識解釋社會現實議題

解析：(A)無過失責任是《民法》上規範損害賠償責任的概念，指在損害發生的情況下，即使不存在故意或過失的情形，也要承擔損害賠償責任的情形。(C)此和定型化契約條文是否有疑義無關，而是規範對消費者不公平的問題。(D)團體訴訟是由行政主管機關核定優良之消費者保護團體方可代為提出團體訴訟，目前合於標準者有財團法人消費者文教基金會。

3. (C)

出處：公民與社會（三），民法與生活

目標：能運用人文社會科學各領域知識解釋社會現

實議題

解析：(A)若無婚姻或婚姻狀態已消滅，則因身分而來的權利義務關係也會終止，因此只有現任妻子會是當然繼承人。(B)現今法律採取「限定繼承主義」，只需在遺產繼承的範圍內負清償責任即可，因此即使未辦理拋棄繼承也不會影響到自身的財產。(C)現任妻子為當然繼承人，在繼承之前尚可主張「剩餘財產分配請求權」，因此加總起來所得之遺產必定比子女多。(D)依《民法》第 1145 條規定，對被繼承人有重大虐待或侮辱之情事，需由被繼承人表示其不得繼承才可剝奪其繼承權。

4. (A)

出處：公民與社會（三），紛爭解決機制

目標：能理解並反思具公民內涵的知識基礎

解析：(B)依大法官釋字第 684 號解釋意旨，對於大專院校的學生，不論學校的行政處分有無涉及學生身分之改變，在依校內申訴途徑仍有不服者，可進一步提起訴願及行政訴訟。(C)有權利即有救濟，不合理的行政處分侵犯個人權利者自然可提起訴訟做為救濟。(D)地方法院行政訴訟庭處理的是交通裁決事件、行政訴訟簡易訴訟程序事件、保全程序事件及強制執行事件，本案屬通常訴訟程序事件。

5. (D)

出處：公民與社會（三），刑法與生活

目標：能判斷出最符合公民素養的選項

解析：(A)《刑事訴訟法》中將羈押分成三個要件：(1)被告必須「犯罪嫌疑重大」；(2)被告必須有「逃亡之虞、串供滅證之虞、或犯重罪」；(3)要有「羈押必要性」，如果具保、責付或限制住居等手段，就可以防止被告逃亡或串

供減證，也不可以羈押。故需符合上述三個要件，檢察官才能聲請羈押，非因時間緊迫因素。(B)此舉違反偵查不公開原則。(C)沒有「公訴罪」，應改為檢察官依職權就「非告訴乃論之罪」提起「公訴」。(D)符合審判公開原則，故為正確敘述。

6. (B)

出處：公民與社會（三），法律基本理念與架構

目標：能理解公民與社會課程範圍內的主題知識

解析：(A)人治國家也有憲法及法律，只是其規範之制定及適用往往出自於統治者的好惡。(C)即使有充分的司法救濟途徑，無法落實獨立審判也是枉然。(D)即使是人治國家亦可能為國際承認的主權國家。

7. (C)

出處：公民與社會（三），刑法與生活

目標：能理解公民與社會課程範圍內的主題知識

解析：最高法院判決理由（105 年度台上字第 2617 號）：「檢察官就被告犯罪事實，應負舉證責任，並指出證明之方法，《刑事訴訟法》第 161 條第 1 項定有明文。因此，檢察官對於起訴之犯罪事實，應負提出證據及說服之實質舉證責任。倘其所提出之證據，不足為被告有罪之積極證明，或其指出證明之方法無從說服法院以形成被告有罪之心證，基於無罪推定之原則，自應為被告無罪判決之諭知。」而題文指出「未能提供其他證據證明確實犯案，罪證不足……無罪定讞」，故此為(C)無罪推定原則。

8. (A)

出處：公民與社會（二），政府的體制

目標：能理解公民與社會課程範圍內的主題知識

解析：(B)我國需副署，法國不需要。(C)兩國均不需副署。(D)兩國均需副署。

9. (C)

出處：公民與社會（二），政府的體制

目標：能理解公民與社會課程範圍內的主題知識

解析：(A)覆議權應為行政權牽制立法權之手段。(B)行政權用來牽制不信任案的方法為解散國會。(D)覆議時，如經全體立法委員 1 / 2 以上維持原決議，行政院院長應即接受該決議；行政院院長是否辭職，為不信任案的行使。

10. (A)

出處：公民與社會（二），政府的體制、人民的參政

目標：能運用人文社會科學各領域知識解釋社會現實議題

解析：(A)我國與南韓總統均為人民直選，採相對多數決制，故正確。(B)南韓為總統制。(C)南韓總理無實際權力。(D)總統制不會出現「換軌」；換軌為當總統與國會多數屬於不同陣營時，總統乃任命國會多數陣營的人出任總理組閣，由在野黨主政，在政治學裡，稱為

換軌（或稱「左右共治」）。

11. (C)

出處：公民與社會（二），政府的運作

目標：能理解公民與社會課程範圍內的主題知識

解析：(A)部分政務官如中央銀行總裁，受任期保障，不隨政黨選舉失利而去職。(B)政務官可利用下班時間或請假，參與政黨或其他政治團體之活動。(D)此指政務官，會因為諸多因素而去職；事務官為常任文官，身分受到法律保障，除非有法定原因，不得任意將其免職。

12. (A)

出處：公民與社會（二），人民的參政

目標：能理解公民與社會課程範圍內的主題知識

解析：(B)全國性公投至今未曾通過，原因是未達投票權人總數二分之一出席投票。(C)依照《離島建設條例》舉辦之地方性公投，可不受《公民投票法》通過門檻之限制，只要有效票數超過 1 / 2 同意者，即為通過，故非因人口數多寡。(D)地方性公投案經地方性公民投票審議委員會審核通過，交由人民連署符合規定後，由地方選舉委員會辦理選舉。

13. (B)

出處：公民與社會（三），道德與社會規範、憲法與人權

目標：能運用人文社會科學各領域知識解釋社會現實議題

解析：(A)社會規範是人類在社會互動過程中所衍生出來，為社會大眾所共同認可與遵守的行為準則。因此，社會上的多數族群不應強迫少數族群接受其宗教、文化與風俗習慣。(C)法國最高行政法院的判決顯然不認為「布基尼」會危害公共秩序與安全。(D)從此則報導中無法得知，法國最高行政法院是否認為伊斯蘭教信仰不許女子露出肌膚是「奴役女性」、「違反憲法與人權」。

14. (C)

出處：公民與社會（三），道德與個人發展、法律基本理念與架構

目標：能判斷出最符合公民素養的選項

解析：(A)柯爾伯格所主張的道德發展最高境界是「道德成規後期—普遍的道德取向」。(B)(D)仍然主張法律的權威與遵守法律的重要性，而非啟蒙思想家所強調，人們不能只是臣服在法律面前，而應不斷探討法律所要彰顯的正義、人權等精神。(C)人們宜體會「惡法非法」的含意，與題幹較吻合。

15. (D)

出處：公民與社會（三），行政法與生活

目標：能判斷出最符合公民素養的選項

解析：比例原則又稱為「禁止過分原則」、「過當禁止原則」，指當公權力的行使涉及人民基本權的限制時，其所欲達成的「目的」和所

採行的「手段」之間，應有適當的對應比例。除了要有法律的依據外，且必須在保護公益所「必要」的範圍內，才允許國家限制人民的基本權。故選(D)。

16. (D)

出處：公民與社會（三），刑法與生活、紛爭解決機制

目標：能運用人文社會科學各領域知識解釋社會現實議題

解析：(A)法官判決的主要依據是《民法》僱用人的連帶賠償責任；《勞動基準法》第 36 條：「勞工每七日中應有二日之休息，其中一日為例假，一日為休息日。」與此案件無關。(B)調製「恐龍咖啡」嘲諷法官應屬言論自由的範疇，尚不致構成公然侮辱罪，且臺灣沒有「藐視法庭」罪，若當事人或旁聽者在法庭內影響案件審理，法官可依《法院組織法》禁止其進入或命其退出法庭或由法警看管至開庭結束，若情節重大，則依妨害公務或侮辱公署罪送辦。(C)老闆是否為共犯，應由刑事法院法官依證據審理判斷，而非依民眾的「常理」；《刑法》的判決與《民法》判決是獨立的，不必然會互相影響或有連帶關係。

17. (C)

出處：公民與社會（三），刑法與生活

目標：能理解並反思具公民內涵的知識基礎

解析：(A)罪刑法定原則—《刑法》第 1 條：行為之處罰，以行為時之法律有明文規定者為限。(B)毒樹果實理論—指若一開始某個證據是非法取得，而經由此證據又找到了第二個證據，儘管第二個證據是依合法程序取得，那麼就好像毒樹會生出毒果一樣，第二個證據也應該排除使用，即此證據仍不具有證據能力。(C)無罪推定原則—在國家追訴犯罪的過程中，基於保障被告的人權，在未經法院透過公正的訴訟程序證明其為有罪定讞之前，該被告皆應被推定為無罪。(D)偵查不公開原則—在偵查階段，任何人都不應任意公開偵查內容，以免產生媒體公審現象，侵害到被告的名譽或隱私，並確保偵查行動順利進行不被妨礙。依上所述，本例最可能違反(C)。

18. (C)

出處：公民與社會（二），政府的體制、人民的參政

目標：能運用人文社會科學各領域知識解釋社會現實議題

解析：(A)從題幹可得知總統所在的政黨與國會多數黨一致，因此不會出現「左右共治」。(B)總統可直接任命總理。(C)總統與總理同一黨派較易傾向「總統制」，故正確。(D)法國總統主導國家重大政策及軍事、外交等對外事務；

總理主管內政、經濟等事務。

19. (D)

出處：公民與社會（二），人民的參政

目標：能理解公民與社會課程範圍內的主題知識

解析：(A)兩輪投票制容易使國會政黨制度演變成多黨聯盟，但與總統選舉無關。(B)兩輪投票制使候選人不至於極端化，可阻止偏激政黨或候選人獲得席次。(C)此選舉方式為國會議員選舉，非總統選舉方式，總統選舉為第一輪得票前兩名始得進入第二輪投票。

20. (A)

出處：公民與社會（二），人民的參政

目標：能解釋人文社會科學慣見的資料呈現方式

解析：(B)若採聯立制對乙黨不利。(C)若採並立制不利於小黨生存。(D)採並立制，甲黨與丁黨所組的聯合政府並未過半。

表一

聯立制	總得席次	政黨名單席次
甲黨	$400 \times 0.3 = 120$ 席	$120 - 60 = 60$ 席
乙黨	$400 \times 0.1 = 40$ 席 但單一選區已有 50 席，故總得 50 席	0 席
丙黨	$400 \times 0.25 = 100$ 席	$100 - 45 = 55$ 席
丁黨	$400 \times 0.2 = 80$ 席	$80 - 30 = 50$ 席
戊黨	$400 \times 0.15 = 60$ 席	$60 - 15 = 45$ 席
總計	410 席	210 席

表二

並立制	比例代表席次	總得席次
甲黨	$200 \times 0.3 = 60$ 席	$60 + 60 = 120$ 席
乙黨	$200 \times 0.1 = 20$ 席	$20 + 50 = 70$ 席
丙黨	$200 \times 0.25 = 50$ 席	$50 + 45 = 95$ 席
丁黨	$200 \times 0.2 = 40$ 席	$40 + 30 = 70$ 席
戊黨	$200 \times 0.15 = 30$ 席	$30 + 15 = 45$ 席
總計	200 席	400 席

21. (B)

出處：公民與社會（二），人民的參政

目標：能解釋人文社會科學慣見的資料呈現方式

解析：(A)政黨總得席次：甲 > 丙 > 丁 > 戊 > 乙。(C)最大黨甲黨（120 席）與最小黨乙黨（50 席），共相差 70 席。(D)為達政治穩定，甲黨因總得席次未過半，須與其他政黨組成聯合政府。

22. (A)

出處：公民與社會（三），行政法與生活

目標：能理解並反思具公民內涵的知識基礎

解析：「民主程序」又稱「民主參與原則」，指行政行為在做決定之前，必須給予行政行為的相對人或利害關係人參與的機會，以使行政

機關得就正反意見或相對人有利或不利之事實證據加以綜合考量。採礦區的設置及展延，可能影響當地居民生活及居住上的安全，因此應保障當地居民程序參與的機會。故選(A)。

23. (D)

出處：公民與社會（三），法律基本理念與架構、紛爭解決機制

目標：能理解並反思具公民內涵的知識基礎

解析：(C)依最高行政法院 100 年度裁字第 1904 號裁判意旨指出：「行政處分相對人以外之利害關係第三人，主觀上認為行政處分違法損害其權利或法律上之利益，亦得依上開法條（《訴願法》第 1 條第 1 項、第 18 條及《行政訴訟法》第 4 條第 1 項）提起訴願及撤銷訴訟。」(D)人民或法人團體對於是否侵犯《憲法》權利而聲請大法官解釋，必須先經過訴訟取得最終確定判決後始得聲請。故不適用本事件。

24. (B)

出處：公民與社會（三），法律基本理念與架構

目標：能理解公民與社會課程範圍內的主題知識

解析：法律的修訂與制定程序相同，因此仍需由政府或立法院提案，經程序委員審查後列入議程，排定第一讀會的時間，並經二讀會、三讀會，再經總統公布後施行，故正確僅(B)。而「覆議」則是法律案經立院讀會通過後，總統公布前，行政院認為法案窒礙難行時，經總統核可才得提出。

25. (B)

出處：歷史（二），先秦時代

目標：能理解過去歷史中政治、社會、經濟、文化等方面的延續和變遷；能根據問題和資料推斷出合理的論述

解析：(A)商代及西周社會階級都很嚴密。(C)商代已有初步的封建制度，西周時期封建制度已趨完備。(D)商代及西周社會裡的奴隸生活都很悲慘。

26. (B)

出處：歷史（一），中華民國時期：當代臺灣

目標：能明瞭某一時期在政治、社會、經濟、文化等各方面的特色及所形成的時代風貌

解析：(A) 1966 年（民國 55 年），臺灣開始設立加工出口區，吸引外資設廠，因此凌女士出生時尚未有加工出口區的設置。(B)為提升國民素質，57 學年度起實施九年國民義務教育，凌女士小學畢業時為 1963 年（12 歲，民國 52 年），因此仍要參加升初中的考試。(C)中美斷交為 1979 年，故凌女士 18 歲時（1969 年）尚未發生此事件。(D)凌女士 20 歲時為 1971 年（民國 60 年），當時還沒有十大建設（1973 年全球石油危機，政府才以十大建設因應），而且尚未解嚴（1987 年才解嚴），

因此 1970 年代不可能會有批判政治的政論節目出現。

27. (D)

出處：歷史（二），秦漢至隋唐

目標：能明瞭某一時期在政治、社會、經濟、文化等各方面的特色及所形成的時代風貌

解析：(A)早期道教雜糅了遠古巫術崇拜、先秦道家思想、儒家、陰陽五行學說，以及戰國神仙方術而成。(B)道教早期教派形成於東漢後期。(C)道教深化教義、確立教規教儀是在魏晉南北朝時期。

28. (B)

出處：歷史（一），日本統治時期

目標：能明瞭歷史文本的內容與意旨

解析：日治後期，臺灣總督府推動皇民化運動，壓迫臺灣傳統宗教信仰，展開「寺廟整理運動」，整併地方寺廟，甚至沒收神像集中焚毀，稱為「神佛升天運動」；並強制臺灣人參拜神社，提倡神道信仰。（參考宮本延人口述，宋文薰、連照美譯，《我的臺灣紀行》，南天書局，1998 年，頁 185～186）

29. (B)

出處：歷史（二），宋、元、明與盛清

目標：能指出資料與歷史論證之間的對應關係

解析：陸家出自於商人家庭，陸九淵本人也曾有過掌管家計的經驗，必須和不識字的人民互動，從這些人身上，陸九淵得到許多啟發，因此他的學問並非完全從書本中得來，這樣的經驗讓陸九淵主張一種「易簡」之教，不是透過理性思辯的文字，而是訴諸情感動人的演說，來影響普羅大眾，就連朱熹本人聽過其講學也深受感動。(A)(C)朱熹受到程頤的影響，主張「存天理，滅人欲」，除了心性修養功夫以外，還要設法「窮理致知」，才能融會貫通宇宙人生的道理；而「致良知」是明代王守仁的思想。(D)強調「心即是理」的是陸九淵，而正因為理存在於人們心中，不假外求，只要透過內心的反省，就可以明瞭天理，所以陸九淵認為尋常百姓也能做得到，因此講學的對象不僅只有「士」，也含括一般不識字的民眾。（題幹可參考余英時，〈朱陸異同——新儒家分化的社會意義〉，《中國近世宗教倫理與商人精神》，臺北：聯經出版公司，2001 年，頁 85～94）

30. (C)

出處：歷史（一），日本統治時期

目標：能分析歷史文本的形式與論證

解析：「建立臺灣共和國」為臺灣共產黨之主張，其他政治社會運動團體並無此主張。「廢除壓制農工的惡法」及「土地歸與貧農」，顯示為共產主義左派之主張。（參考盧修一，《日據時代臺灣共產黨史 1928～1932》，

自由時代出版社，1989年，頁61～62)

31. (D)

出處：歷史（二），晚清之變局

目標：能根據問題和資料推斷出合理的論述

解析：(A)該事件發生在鴉片戰爭之前，當時還未開放五口通商，只開放廣州通商，所以外國船隻不可能出現在福州港。(B)鴉片合法上市要等到第一次英法聯軍（咸豐8年，1858年），清廷被迫簽下《天津條約》之後。(C)總理各國事務衙門是在自強運動期間，於咸豐11年（1861年）設立，最初專司外交、通商、海關等事務，後來成為與所有「洋務」有關的中樞，並不是法院機構。（題幹參考史景遷（Jonathan D. Spence）著，溫洽溢譯，《追尋現代中國——最後的王朝（上冊）》，臺北市：時報文化，2001年，頁141～142）

32. (C)

出處：歷史（二），晚清之變局

目標：能比較兩種或多種歷史解釋所運用的資料和推論

解析：(A)兩者的宣傳刊物剛好要對調過來，立憲派是《新民叢報》，革命派是《民報》。(B)立憲派未必認為滿漢利益相反，而革命派是主張「驅逐韃虜，恢復中華」。(D)主張土地國有政策的是革命派；主張先求富的是立憲派。

33. (A)

出處：歷史（一），日本統治時期

目標：能理解過去歷史中政治、社會、經濟、文化等方面的延續和變遷

解析：從題幹的「吾臺人初無中學，有則自本校始」，判斷是臺中中學（今之臺中一中）；李春生為富商，曾捐款六千圓，當作臺中中學的創校經費。（參考李明輝編著，《李春生的思想與時代》，正中書局，1995年，頁304）

34. (C)

出處：歷史（二），先秦時代、秦漢至隋唐、宋、元、明與盛清

目標：能明瞭某一時期在政治、社會、經濟、文化等各方面的特色及所形成的時代風貌

解析：(A)中國新石器時代的農業文化發展，其據點從中國東北，經華北、華中到華南地區都有，例如：遼河流域的紅山文化（距今約5,000年）即在今長城以北地區。(B)秦代的萬里長城有部分為新建，另有一部分是延續自戰國時代燕國、趙國、秦國興建的長城。(D)公元1644年，流寇李自成攻陷北京，崇禎皇帝（思宗）自縊，明朝滅亡。不久後吳三桂開山海關關門，引清兵入關。

35. (D)

出處：歷史（一），清朝統治時期

目標：能明瞭某一時期在政治、社會、經濟、文化

等各方面的特色及所形成的時代風貌；能理解特定歷史（事件或現象）發展的原因及影響

解析：一、「土牛」又稱「土牛溝」或「土牛紅線」，肇始於朱一貴事件後，康熙61年（公元1722年）藍鼎元建議「立石禁入番地」來隔離生番與漢民；乾隆年間成為劃分漢民、熟番、生番的界線。起初在生番出沒處立石為界，後「以山溪為界，其無山溪處，亦一律挑溝堆土，以分界限」。界限的土堆，外型如臥牛，故稱土牛；其側的深溝，則稱為土牛溝。此一有形障礙，雖然無法完全限制漢移民的侵耕和越墾，但做為一條劃分漢、番權利與義務的界線，其無形的效力，對溝內溝外移墾社會的性質和發展，似應有一定的影響。（施添福，〈清代臺灣竹塹地區的土牛溝和區域發展——一個歷史地理學的研究〉，收入《臺灣史論文精選》，1996年，頁157～219）

二、(A)(B)土牛主要是區隔漢人與原住民（也包括熟番生番之別），為防止漢人侵墾番地，因此全臺若有原漢（或生番熟番）混居現象，便有可能設置土牛，並非侷限於後山地區才有。(C)仍具有一定效用。

36. (B)

出處：歷史（二），秦漢至隋唐

目標：能理解過去歷史中政治、社會、經濟、文化等方面的延續和變遷；能明瞭歷史文本的內容與意旨

解析：此題在測驗學生是否明瞭「土斷」政策的目的與意義，而行政上的方便、賦稅的公平與稅收的增加、族群的融合皆是執政當局所要考量的因素，並要進一步打壓北方大族南下之後，開山墾荒、逃避徭役，占盡地方利益之情事。

37. (B)

出處：歷史（一），清朝統治時期

目標：能明瞭某一時期在政治、社會、經濟、文化等各方面的特色及所形成的時代風貌

解析：(A)應是逐漸減少，因為以現居地的新社會群體意識取代了原鄉的祖籍認同。(C)清朝統治時期最初禁止攜眷來臺，因此移民多半娶平埔族婦女為妻，但這不是土著化的象徵。(D)臺灣移民逐漸接受平埔族的地基主信仰，這才是土著化的現象。

38. (A)

出處：歷史（一），清朝統治時期

目標：能分辨資料的形式、性質及其特點與侷限；能根據問題和資料推斷出合理的論述

解析：根據題幹，應是探討同治年間臺灣正式開港前兩岸分工的情形。(B)「買辦」出現於臺灣

開港後。(C)米糖相剋是指日治時期臺灣稻米與甘蔗的種植互相競爭農作地的現象。1920年代，由於蓬萊米研發成功，符合日人口味，獲利甚佳，1930年代引發農民大量種植的風潮，稻作區逐漸向南臺灣發展，因此出現農民耕種稻米與甘蔗互相爭地的「米糖相剋」情形。(D)臺灣開港後，西方列強陸續在臺灣設立洋行，八里坌多達十三家。

39. (C)

出處：歷史（二），秦漢至隋唐

目標：能理解特定歷史（事件或現象）發展的原因及影響

解析：此題以歷史古都——長安，做為題目設計的焦點，測驗學生能否了解定都與戰亂的關係。(A)西晉永嘉之亂雖然造成東晉政權偏安江南，但並未毀掉長安，北方政權依舊定都長安，例如西魏、北周等。(B)唐朝安史之亂，太子雖在靈武即位為肅宗，但亂平之後依然回到長安定都。(D)明末流寇之亂，此時中國首都在北京，與長安無關。

40. (D)

出處：歷史（一），日本統治時期

目標：能明瞭某一時期在政治、社會、經濟、文化等方面的特色及所形成的時代風貌

解析：(A)樺山資紀雖為第一任武官總督，但尚未建立鴉片專賣制度。(B)乃木希典採取三段警備制，主要目的是鎮壓反日運動，非為推行理蕃事業。(C)兒玉源太郎任用民政長官後藤新平展開林野調查，將無主地收為官有，再轉讓給日本財閥經營。

41. (D)

出處：歷史（二），宋、元、明與盛清

目標：能明瞭某一時期在政治、社會、經濟、文化等方面的特色及所形成的時代風貌

解析：宋朝開國始祖趙匡胤立下政治主軸——中央集權、強幹弱枝，造成宋朝長期積弱不振，外敵頻頻入侵的局面，所以(A)的敘述是錯的，至於(B)的敘述原因較為複雜，宋朝開國在唐末、五代之後，歷經許多戰亂，唐代的門閥士族已大致凋零、衰弱，並且退出政治舞臺。因此宋朝必須擴大科舉取士，以延攬人才，形成士大夫政治，這不全然是重文輕武的結果。同樣的，平權社會的來臨也是門閥士族衰弱的結果，至於大眾文學興起，是商業發達、藏富於民，帶動庶民文化的表現，與宋太祖中央集權更無直接關聯。(C)理學的興起源自唐朝中期以後的儒學復興運動及五代道士陳搏〈太極圖〉，與宋太祖的中央集權政策沒有直接關係。

42. (C)

出處：歷史（一），早期臺灣

目標：能明瞭某一時期在政治、社會、經濟、文化

等方面的特色及所形成的時代風貌

解析：由「南投縣」、「典型高山族」、「多聲部合唱」（八部合音）等敘述即可判斷此族為布農族。

43. (C)

出處：歷史（二），宋、元、明與盛清

目標：能理解特定歷史（事件或現象）發展的原因及影響；能分析歷史文本的形式與論證；能由歷史脈絡解讀歷史文本的意義

解析：此題在測驗學生的閱讀素養，能否藉由歷史文本的閱讀與資料的判斷，了解中國帝位傳承的方式，並能理解做為明代天下讀書人的種子——方孝孺的堅持，不為叛亂的燕王起草即位詔書。至於(C)選項，明成祖指定方孝孺起草詔書，乃因明初延續宋代重文輕武的思想主軸，以文人輔政的敘述是錯誤的，明初文字獄，對官員廷杖，都不是重文輕武的結果。（文本選自《明史·方孝孺列傳》，並參閱：朱鴻，〈奪國之後——六百年前大明帝國的政治公案〉，《歷史月刊》，2004年，199期）

44. (D)

出處：歷史（一），早期臺灣

目標：能理解特定歷史（事件或現象）發展的原因及影響

解析：(A)萬華舊名艋舺，是日治時期以日語發音與閩南語「艋舺」相近的漢字「萬華」來稱呼。(B)頭圍即今日宜蘭頭城，清嘉慶元年，漢人吳沙採取武裝拓墾方式，從雞籠（今基隆）出發，一舉占據烏石港，築土圍，因而稱之頭圍。(C)嘉義古名諸羅山，因清乾隆51年發生林爽文之亂，人民協助守城有功，皇帝「嘉其忠義」，故賜名「嘉義」。(D)鄭成功來臺初期，為解決糧食不足的問題，實施軍屯政策，以駐防各地的兵丁設營屯田，因此所開墾的田園稱為「營盤田」，而左營、左鎮、林鳳營等地名，即當時營盤田之名。

45. (D)

出處：歷史（二），秦漢至隋唐

目標：能理解過去歷史中政治、社會、經濟、文化等方面的延續和變遷；能根據問題和資料推斷出合理的論述

解析：(A)衛青帶兵討伐匈奴是在漢武帝時期。(B)七國之亂結束後，景帝乘機收回諸侯的行政權，規定王國的官吏須由朝廷派遣，王侯留置於京師，不使就國。武帝時，大行「推恩眾建」的政策，諸侯國土更為縮小，行政權又直屬朝廷，封建至此已名存實亡，西漢逐步走上中央集權。(C)漢文帝時，賈誼建議「眾建諸侯而少其力」，採溫和手段來達到削弱諸侯的目的。

46. (B)

出處：歷史（一），清朝統治時期

目標：能明瞭某一時期在政治、社會、經濟、文化等方面的特色及所形成的時代風貌；能根據問題和資料推斷出合理的論述

解析：一、清道光 27 年（1847 年），淡水同知曹仕桂於今日松山、汐止設立「奉憲示禁私挖煤炭者立斃碑」，由於基隆附近煤層豐富，是航行東亞海域船隻的燃料補給站，清廷尚未開採前，人民已私下採煤多年。《臺灣通史》記載，西班牙人占領基隆時，曾經開採煤礦；光緒 28 年（1848 年），英國海軍曾至此探勘煤層；咸豐 4 年（1854 年），美國勘查發現此地煤層豐富，圖謀占據，闢建軍港。

二、(A)甲地是基隆，乙國是西班牙。(B)丙國是法國，所以是中法戰爭，光緒 10 年（1884 年）4 月法艦藉口購煤進入基隆港，清廷警覺到臺灣防務的重要，7 月派遣劉銘傳來臺查辦軍事防務，在基隆登陸，8 月法國孤拔（Anatole Courbet）率艦炮攻基隆，清軍反擊，翌年 3 月法軍攻擊浙江沿海，孤拔受傷，6 月於澎湖逝世；清軍節節勝利，但後來清廷下令停戰，與法國簽訂條約。(C)應是牡丹社事件後日軍侵臺。(D)應是沈葆楨。

47. (C)

出處：歷史（二），宋、元、明與盛清

目標：能明瞭某一時期在政治、社會、經濟、文化等方面的特色及所形成的時代風貌

解析：(A)生員乃是通過童試進入地方官學的學生，一般或稱為「秀才」，是具有參加科舉考試資格的人，因為是國家未來官員的來源之一，所以也得到朝廷賦予的特權，非經學官許可，地方州縣官不得加以笞訓，所以造成生員濫用特權的情形發生。(B)生員不見得都會擔任地方官的胥吏師爺。(D)可以成為中央與地方溝通橋梁的是曾在中央任官的退休官員，不是生員。（顧炎武之語請參考〈亭林文集卷一·生員論中〉，《顧亭林詩文集》，臺北：漢京文化事業有限公司，1984 年，頁 22～24）

48. (A)

出處：歷史（一），早期臺灣

目標：能理解特定歷史（事件或現象）發展的原因及影響

解析：(B)大員是荷蘭人進入臺灣之後的統治中心，西班牙人占領的則是淡水、雞籠一帶。(C)和日本貿易頻繁的是荷蘭，轉運美洲白銀的是西班牙。(D)西班牙信奉天主教，荷蘭則是信奉基督新教（喀爾文教派）。

49. (B)

出處：通論地理 四、地形

目標：能知道或記憶重要的地理事實及名詞

解析：臺灣西部海岸以沙岸環境為主，由文中「冬季東北季風盛行之時，其高度會明顯成長」、「海岸上保護內陸的第一道防線」可判斷為風成地形中的(B)沙丘地形。（資料來源：環境資訊中心 <http://e-info.org.tw/node/86579>）

50. (D)

出處：通論地理 四、地形

目標：能理解或應用重要的地理事實、名詞、概念、原則和理論

解析：(D)圖中可見正中央有一明顯山頭，為角峰所在，其東北向、西向、南向各有一條刃嶺。(A)圖為 U 型谷。(B)圖為河階。(C)圖為火山錐。

51. (B)

出處：通論地理 五、氣候與水文

目標：能以地理概念、原則和理論分析重要的地理事實

解析：(1)由月均溫判斷，1 月月均溫高於 7 月月均溫，應位於南半球。(2)由降水量判斷，1 月降水量多於 7 月分，全年降水量在 1,200 mm 至 1,300 mm 之間，屬夏雨型暖溫帶氣候，溼潤區。(3)澳大利亞雪梨地區屬於夏雨型暖溫帶氣候，故選(B)。

52. (D)

出處：通論地理 五、氣候與水文

目標：能分析與解釋重要的地理資訊

解析：(A)可再生水資源定義如下：一地區降水所產生的水資源補注量，含河川逕流量與地下水補注量；FAO 更進一步定義自然可再生水資源應包括境內河川年平均逕流量與境內降水、境外自然逕流量形成的地下回流之總和。據此，可再生水資源量並不能單獨由年平均降水量或年平均河川逕流量決定。(B)人均可利用水資源量由該區人口數及可利用水資源量決定，本題無法辨識。(C)雨量變率 = $\left[\frac{\text{該地某年降水量} - \text{該地年平均降水量}}{\text{該地年平均降水量}} \right] \times 100\%$ ，本題無法辨識。

53. (B)

出處：通論地理 五、氣候與水文

目標：能以地理概念、原則和理論分析重要的地理事實

解析：(B)北太平洋順時針環流系統為北赤道洋流、黑潮、北太平洋暖流、加利福尼亞涼流；因受到副熱帶高壓籠罩，風力微弱，垃圾聚集在此不散。

54. (D)

出處：通論地理 十、高科技知識產業

目標：能分析與解釋地理資訊

解析：(D)由題目敘述可知三星第一季獲得很高利潤，但是在其產品出現問題後，處理不當，使產品無法再銷售，使投入研發、生產、行銷等成本無法回收而損失慘重。因此可知道高科

技產業需投入大量資金，雖可獲利，但其伴隨風險亦高。

55. (A)

出處：通論地理 七、第一級產業

目標：能以地理概念、原則和理論分析重要的地理事實

解析：由題目敘述可知是紐西蘭境內的集約式農業，而紐西蘭的第一級產業主要是酪農業與放牧業，放牧業是粗放而非集約，故應為酪農業。(A)是酪農業。(B)是地中海型農業。(C)是混合農業。(D)是商業性穀物農業。

56. (A)

出處：通論地理 十一、人口組成與人口成長

目標：能理解或應用重要的地理事實、名詞、概念、原則和理論

解析：彰化地區的外籍移工與新住民人數不少，每到週末假日，許多外籍人士湧入車站，語言不通確實是一大挑戰，包括買票流程、月臺指引都需協助，為表達友善，故臺鐵新增菲律賓、印尼、越南、泰國等四國語言。外籍移工與新住民的增加，均顯示出國際人口移動的現象。(B)新南向政策是「南向 3.0」，2016 年 5 月 20 日以後所提出的新政策，是重視投資與觀光開放、文化的尊重理解，未來將會從人才培育、融資、資訊，讓臺灣廠商獲得更多拓展東南亞市場的資源。

57. (D)

出處：通論地理 十二、都市聚落與都市化

目標：能理解或應用重要的地理事實、名詞、概念、原則和理論

解析：(A)由表中資料無法得知巨大都市與世界都市對全球的影響力。(B)前十巨大都市主要集中於亞洲地區，前十世界都市則大多集中於亞洲、美洲。(C)「全球前十巨大都市」大多為開發中國家，而「全球前十世界都市」則大多為已開發國家。(D)巨大都市的排名主要依人口數多寡而定，世界都市的排名則除了參考人口數外，還包括了經濟、資訊、文化及政治……等多方面的指標。2008 年，美國《對外政策》(Foreign Policy)雜誌在哥倫比亞大學社會學教授薩斯奇亞·薩森等人和一些組織的研究基礎上，發表世界都市的排名。此項排名的研究是在 5 個領域：商業活動、人力資源、訊息交流、文化累積及政治參與的基礎上展開的。共於 2010 年、2012 年、2014 年、2015 年、2016 年更新 5 次。

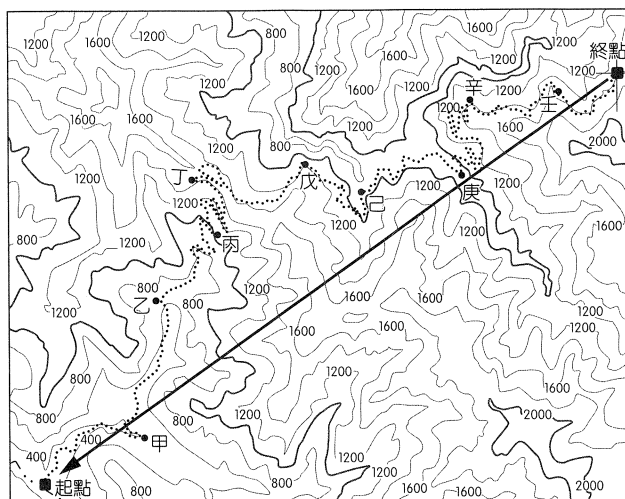
58. (D)

出處：通論地理 二、地圖

目標：能理解或應用重要的地理事實、名詞、概念、原則和理論

解析：(D)如圖所示，從起終點的網格坐標可知，正北方位於圖左側，因此起點大約位於終點

315° 方向。

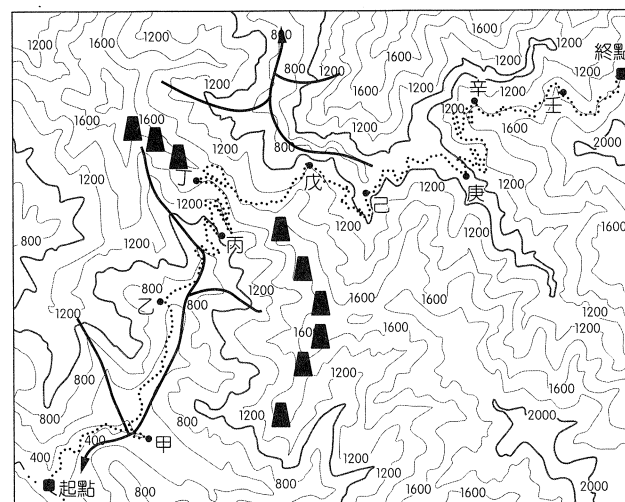


59. (C)

出處：通論地理 二、地圖

目標：能理解或應用重要的地理事實、名詞、概念、原則和理論

解析：(C)如圖所示，黑色梯型標示為分水嶺所在，粗黑曲線為河川所在，依題幹所敘述，最有可能位於補給站丁。



60. (B)

出處：通論地理 三、地理資訊

目標：能分析與解釋地理資訊

解析：曾發生落石危險處(屬性查詢)、路線長度計算(路網分析)，最後將上述兩個主題地圖作疊圖分析，決定折返點。

61. (D)

出處：通論地理 二、地圖

目標：能以地理概念、原則和理論分析重要的地理事實

解析：日出、日落時間主要受到緯度影響，甲、乙、丙、丁四地緯度分別為：甲—北緯 51 度；乙—北緯 23.5 度；丙—北緯 64 度；丁—南緯 35 度，由表中資料可判讀甲、乙、丙三地共同趨勢為 6 月日出時間最早、日落時間最晚；11 月至 1 月日出時間最晚、日落時間最早，可判斷甲、乙、丙三地位在北半球，丁選項則相反，位在南半球。(資料來源：美國

62. (C)
出處：通論地理 二、地圖
目標：能以地理概念、原則和理論分析重要的地理事實
解析：由表中資料可判斷丙的晝夜時間長短變化最大，12月時白晝時間僅9：53～14：06四小時左右，代表其緯度最高。
63. (C)
出處：通論地理 五、氣候與水文
目標：能分析與解釋地理資訊
解析：(C)由圖四判斷，都市在t3區段逆溫層最厚。
64. (D)
出處：通論地理 五、氣候與水文
目標：能理解或應用重要地理事實、名詞、概念、原則和理論
解析：由圖判斷，都市在t1開始出現逆溫，t5後逆溫現象消失。距地表100公尺以上的大氣層無逆溫現象。(D)逆溫發生時，污染物不易擴散，故選擇100公尺高的煙囪，於t5～t1時排放最無污染的可能性。
65. (C)
出處：通論地理 五、氣候與水文
目標：能運用適當方法，觀察重要地理現象與獲取地理資料
解析：小明位於乙圖的瓦倫西亞(51.9°N, 10.3°W)，屬溫帶海洋性氣候；小剛位於丁圖的開羅(30°N, 31.3°E)，屬熱帶沙漠氣候；小華位於甲圖的貝倫(1.4°S, 48.5°W)，屬熱帶雨林氣候；小真位於丙圖的馬尼拉(14.5°N, 121°E)，屬熱帶季風氣候。
66. (B)
出處：通論地理 六、自然景觀帶
目標：能以地理概念、原則和理論分析重要的地理事實
解析：(A)為落葉闊葉林景觀。(B)為季風雨林景觀。(C)為地中海灌木林景觀。(D)為沙漠景觀。
67. (D)
出處：通論地理 五、氣候與水文；通論地理 六、自然景觀帶；通論地理 十一、人口組成與人口成長
目標：能分析自然與人為因素，以解釋區域特色、區域差異與互動
解析：(A)聖多美普林西比為熱帶雨林氣候，而巴西高原為熱帶莽原氣候。(B)聖多美普林西比比十九世紀幼年人口比例高，不應為縮減型金字塔。(C)聖多美普林西比的天然植被為熱帶雨林。
68. (C)
出處：通論地理 七、第一級產業
目標：能分析自然與人為因素，以解釋區域特色、區域差異與互動

解析：(C)聖多美普林西比適合發展熱帶栽培業，主產可可，其次是咖啡、椰子。

69. (B)
出處：通論地理 八、第二級產業
目標：能以地理概念、原則和理論分析重要的地理事實
解析：自動化生產的IT產業，像是模具業、面板製造業等，屬高科技產業的範疇，為了靠近美國主要消費市場，回流美國設廠的意願較高，再加上高科技產業的生產過程自動化程度較高，比較不受勞力薪資因素的影響。石化、製藥工業因為美國境內原油價格較低，原料取得容易，因此從未離開美國。生產日常用品的成衣、紡織業，其生產過程需要大量廉價勞力，且現今主要潛力市場在人口成長速度較快的開發中國家，因此返回美國生產的意願較低。
70. (B)
出處：通論地理 八、第二級產業
目標：能理解或應用重要的地理事實、名詞、概念、原則和理論
解析：考量不同地區的技術、生產或市場優勢，將不同產品分散在不同地區生產，可視為專業分工的特性，故選(B)。(A)產品規格化是在強調不同工廠生產的同一類型商品，其零件規格一致，方便消費者維修、更換。(C)產品標準化致力於強調產品製造型式的一致，利於量產與品管，降低生產成本。(D)工業慣性是指一地工廠原始區位隨時代變遷而優勢消失，但是工廠亦不外移的現象。
71. (C)
出處：通論地理 十一、人口組成與人口成長
目標：能分析與解釋地理資訊
解析：甲、扶養比計算公式為： $(\text{幼年人口總數} + \text{老年人口總數}) \div \text{壯年人口總數} \times 100\%$ 。臺灣的扶養比約為36%。乙、目前臺灣老年人口占總人口比例約為13%，大於高齡化社會所定義的7%，因此臺灣已屬於高齡化社會。丙、下表為6個直轄市的老化指數，桃園市的老化指數最低。丁、目前臺灣幼年人口比例低，老年人口比例逐年增高，以人口轉型模式而言，屬於低穩定階段。
- | | | | |
|-----|------|------|-----|
| 臺灣 | 新北市 | 臺北市 | 桃園市 |
| 99% | 92% | 112% | 67% |
| 臺中市 | 臺南市 | 高雄市 | |
| 74% | 110% | 109% | |
72. (A)
出處：通論地理 十二、都市聚落與都市化
目標：能分析與解釋地理資訊
解析：下表為104到105年之間，臺灣與6個直轄市人口增加的情況：

臺灣	新北市	臺北市	桃園市
2.04 ‰	2.01 ‰	-3.33 ‰	19.94 ‰
臺中市	臺南市	高雄市	
8.38 ‰	0 ‰	0 ‰	

(A)目前 6 個直轄市中，人口增加速度最快的都市為桃園市。(B)若某一都市的人口成長速度高於全國的人口成長速度，表示該都市除了出生導致人口增加以外，還有移入人口導致人口增加。臺中市從 104 年到 105 年之間，

人口增加率高於全國平均，顯示該地不僅有出生人口所帶來的都市成長，還有移入人口所帶來的都市化現象。(C)高雄市從 104 年到 105 年之間，人口成長的速度低於全國平均值，顯示該地都市化的現象較不明顯。(D)觀察 6 個直轄市的人口數量，除了第一大都市新北市以外，臺北市、臺中市、高雄市的人口數量相當接近，顯示臺灣 6 個直轄市的都市階層不符合等級大小法則。